

# 菏泽市 2020 年初中学业水平考试

## 地理试题

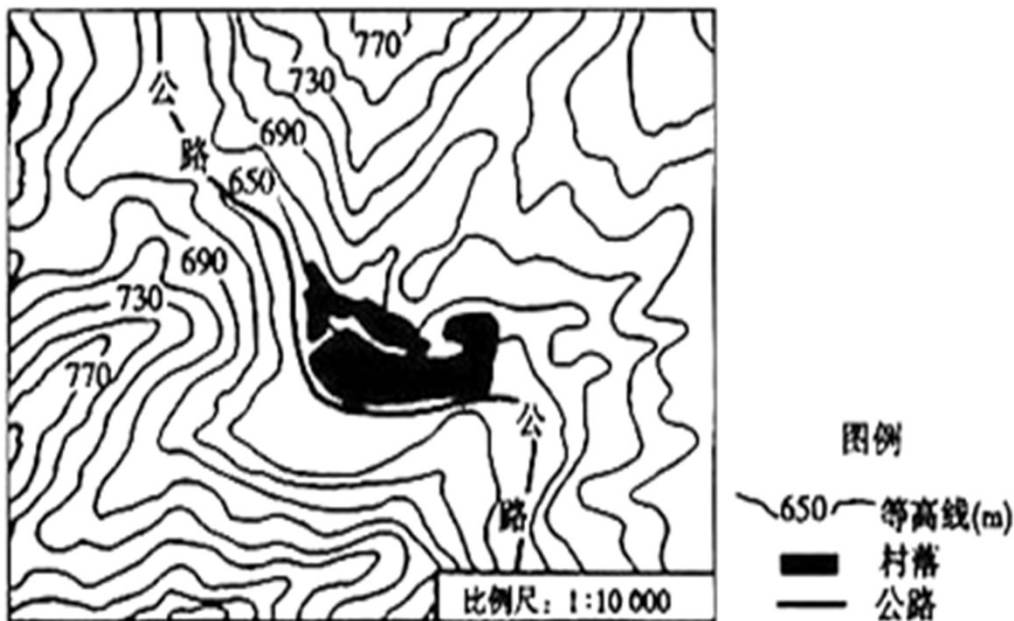
注意事项：

1.本试题分选择题和非选择题两部分。选择题 4 页，20 分；非选择题 4 页，30 分；满分共 50 分。考试时间 60 分钟。

2.考生须在答题卡规定的答题区域作答，选择题须用 2B 铅笔填涂，非选择题须用 0.5 毫米的黑色墨水签字笔书写。

一、选择题（本大题包括 20 个小题，每小题 1 分，共 20 分。在每小题所列的四个选项中，只有一项最符合题目要求）

读我国北方地区某地等高线地形图，完成下面小题。



某地等高线地形图

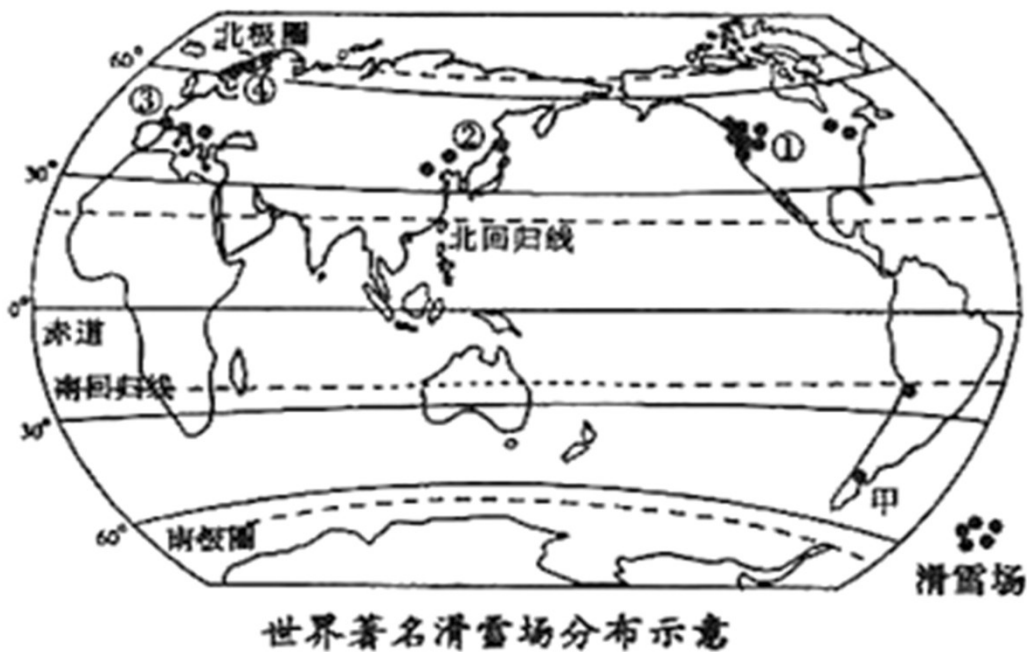
1. 图示区域内主要的地形类型是( )

- A. 高原                      B. 山地                      C. 平原                      D. 丘陵

2. 关于图示区域内地理事物的叙述，正确的是( )

- A. 公路的延伸方向为东西方向                      B. 村落所处的地形部位是山脊
- C. 公路的最大高差不超过 40 米                      D. 适宜大面积种植柑橘和香蕉

读世界著名滑雪场分布示意图，完成下面小题。



3. 世界著名滑雪场相对集中分布的地区位于西半球和中纬度的是( )

- A. ①地区                      B. ②地区                      C. ③地区                      D. ④地区

4. 南美洲的甲滑雪场举办冬季滑雪比赛，最适宜的时间是( )

- A. 1~2月                      B. 4~5月                      C. 7~8月                      D. 10~11月

北京是我国的首都，天安门广场升国旗的时间是根据广场国旗基座的坐标，计算出日出时间确定的。日期不同，升国旗时间也有所差异。读2020年不同日期（部分）升国旗时间表，完成下面小题。

日期	天安门广场升国旗时间	日期	天安门广场升国旗时间
1月1日	7:36	7月1日	4:49
4月1日	5:58	10月1日	6:10

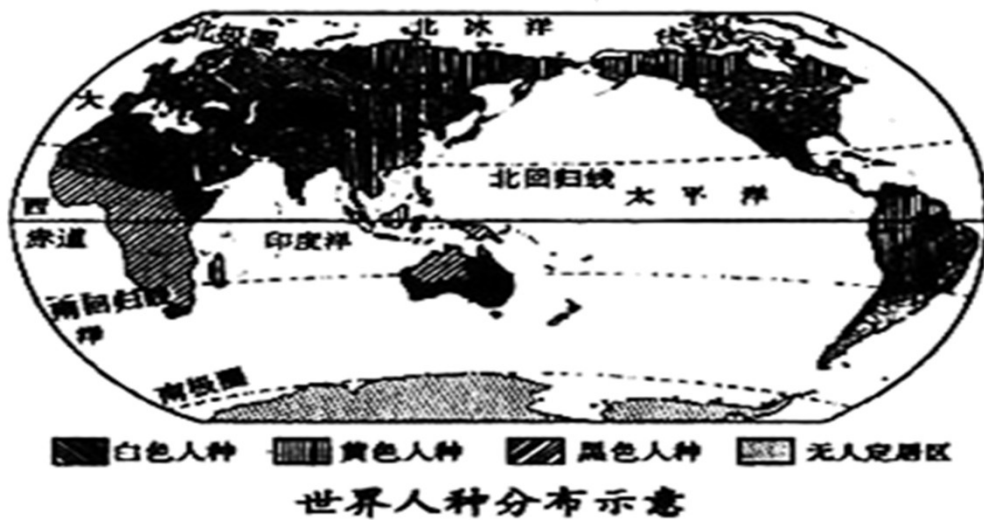
5. 关于北京市地理特征的叙述，正确的是( )

- A. 每年都有太阳直射现象                      B. 地形以高原、山地为主  
C. 是我国政治、文化和对外交流中心                      D. 城市发展应打破旧城格局和原有风貌

6. 导致不同日期升旗时间差异的主要原因是( )

- A. 地球的自转运动                      B. 地球的公转运动  
C. 纬度位置的变化                      D. 海陆位置的差异

美国的原住居民是印第安人，其他均为外来移民及其后裔。2020年5月25日美国发生的白人警察暴力执法致黑人平民死亡事件，引发了美国各州及其他国家大规模反种族歧视游行示威活动。读世界人种分布示意图，完成下面小题。



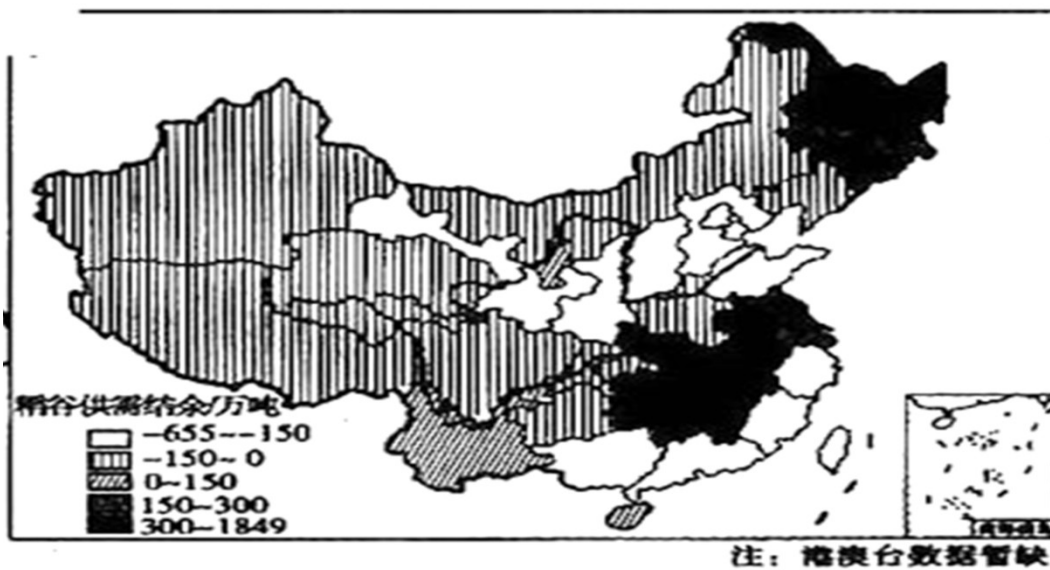
7. 美国黑人主要是( )

- A. 亚洲移民的后裔
- B. 大洋洲移民的后裔
- C. 非洲移民的后裔
- D. 南美洲移民的后裔

8. 美国的原住民印第安人属于( )

- A. 白色人种
- B. 黄色人种
- C. 黑色人种
- D. 混血人种

粮食的充分供应和区域平衡一直是我国保障粮食安全的重要任务。读我国 2014 年各省份稻谷供需关系示意图，完成下面小题。



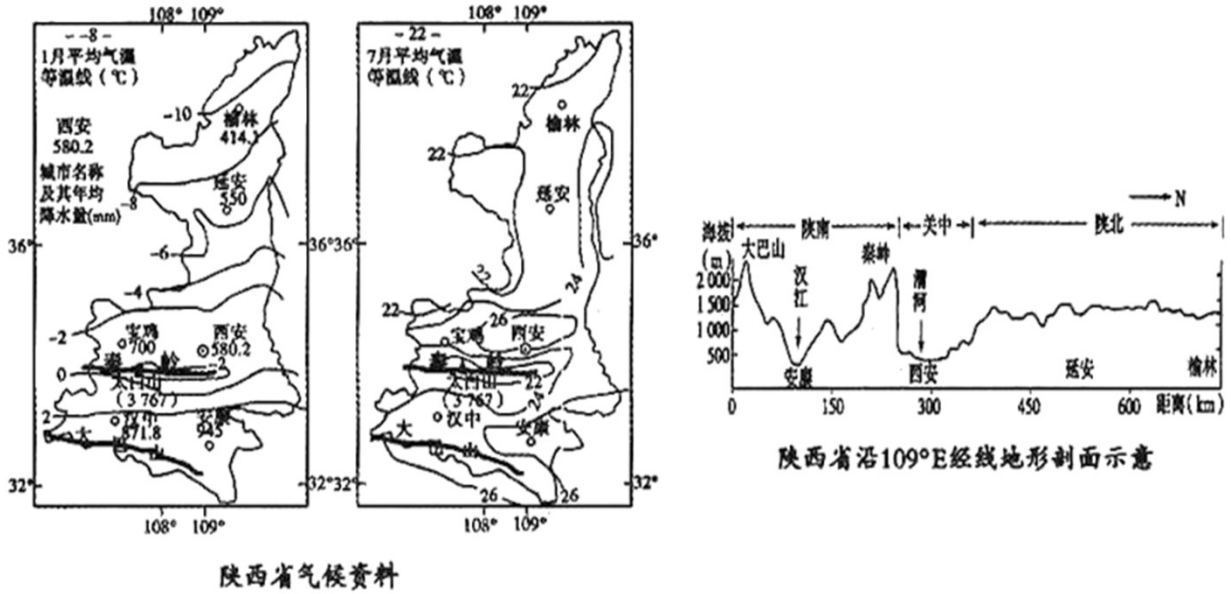
9. 下列城市所在省区中，稻谷供应缺口最大的是( )

- A. 南京市
- B. 菏泽市
- C. 昆明市
- D. 武汉市

10. 黑龙江省出现大量稻谷盈余的主要原因是( )

- A. 可以一年两熟
- B. 从事农业人口众多
- C. 雨热同期，降水丰沛
- D. 人均耕地多

读陕西省气候资料图、陕西省沿 109°E 经线地形剖面示意图，完成下面小题。



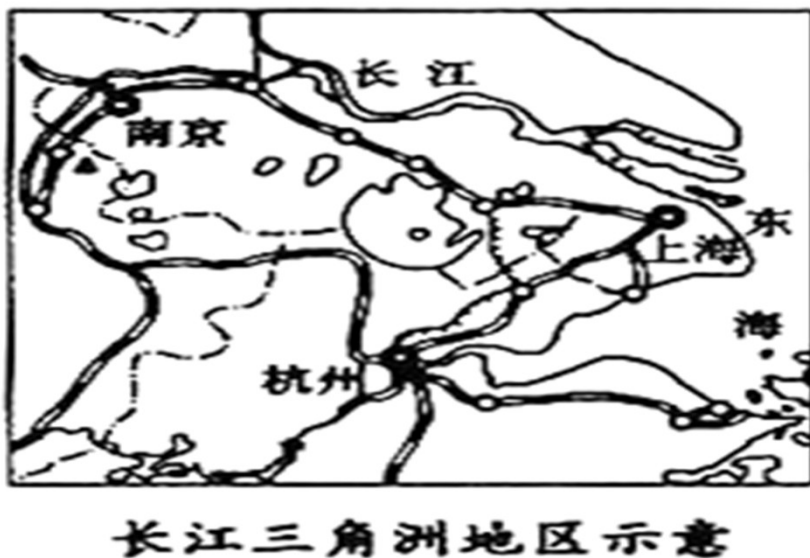
11. 关于陕西省不同地区地理特征的叙述，正确的是( )

- A. 汉中比延安年降水量少
- B. 安康比榆林气温年较差大
- C. 汉江冬季通常无结冰期
- D. 西安属于亚热带季风气候

12. 有关陕南和陕北地区居民生产和生活的叙述，正确的是( )

- A. 陕南地区的甜菜种植面积广大
- B. 大米是陕北地区居民的主食
- C. 那达慕大会是陕南居民的传统集会
- D. 窑洞是陕北地区的传统民居

读长江三角洲地区示意图，完成下面小题。



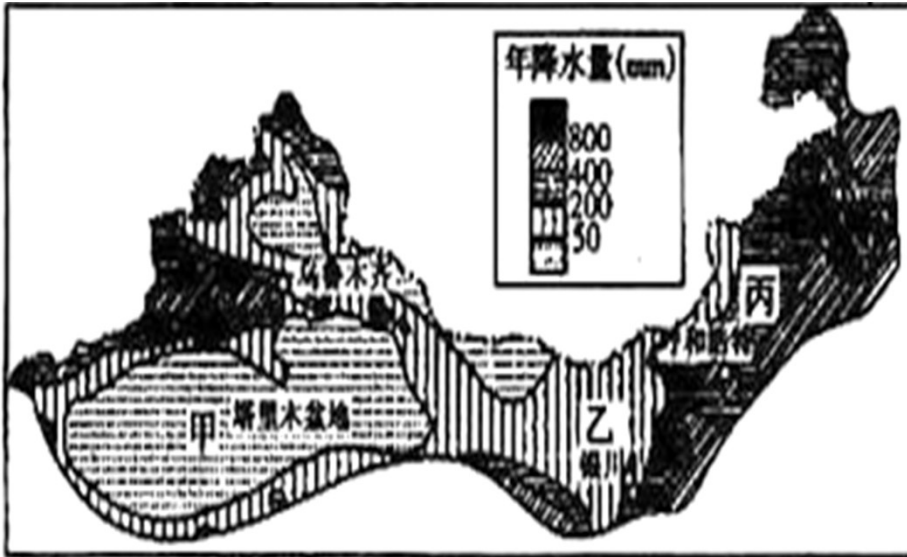
13. 对该区域经济发展影响最显著的河流是( )

- A. 长江
- B. 淮河
- C. 钱塘江
- D. 京杭运河

14. 关于图示区域地理特征的叙述，不正确的是( )

- A. 地势低平，河网密布，是著名的“鱼米之乡”
- B. 海陆空交通便利，是全国对外开放 前沿基地
- C. 河流水量巨大，是全国水能资源最丰富的地区
- D. 城市密集，是全国经济实力最强的区域

读西北地区年降水量分布示意图，完成下面小题。



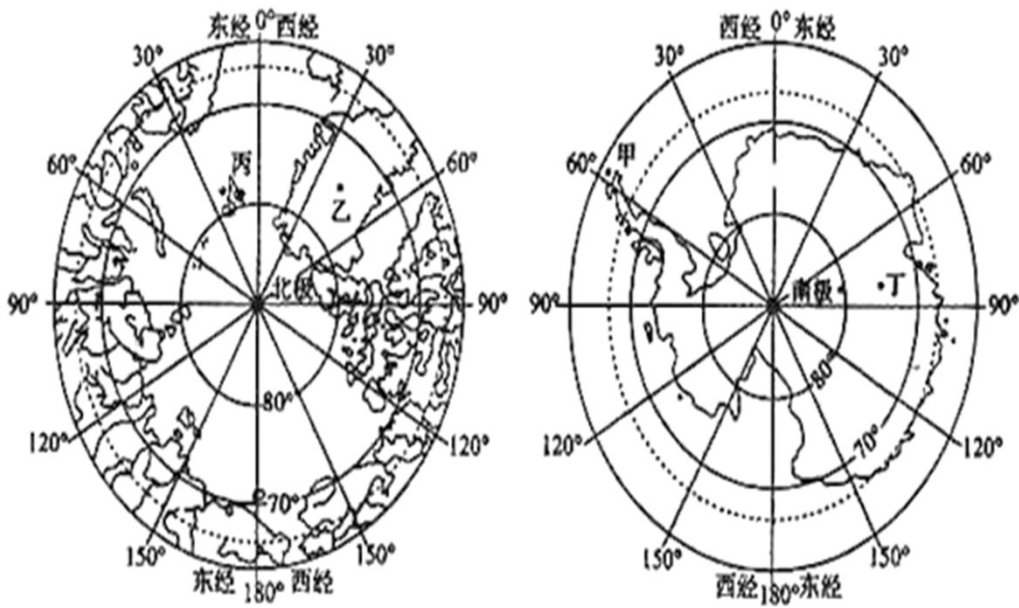
15. 图示区域自然环境最显著的特征是( )

- A. 高寒
- B. 干旱
- C. 炎热
- D. 湿润

16. 年降水量的地区差异导致自然景观依次出现变化，图中甲处的自然景观是( )

- A. 森林
- B. 草原
- C. 荒漠草原
- D. 荒漠

读南极地区和北极地区示意图，完成下面小题。



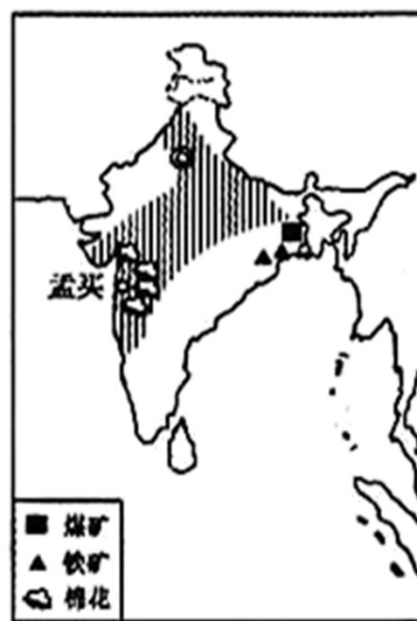
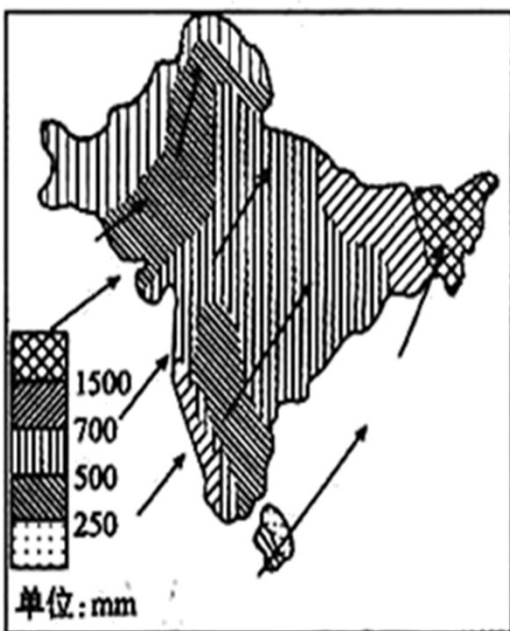
17. 关于南、北极地区自然地理环境的叙述，正确的是( )

- A. 南极地区是指南极圈至南极点之间的区域
- B. 北极地区全部是海洋，南极地区全部是陆地
- C. 南、北极地区共同的气候特征是酷寒、多狂风、降水少
- D. 企鹅和海象是南、北极地区共有的代表性动物

18. 我国在南、北极地区相继建立了一系列科学考察站，图中距离黄河站 (79°N, 12°E) 最近的地点是( )

- A. 甲处
- B. 乙处
- C. 丙处
- D. 丁处

南亚地区旱涝灾害频发，给农业生产造成不同程度的损害。读图，完成下面小题。



19. 南亚地区旱涝灾害频发，主要受( )

- A. 东南季风的影响
- B. 西南季风的影响
- C. 东北季风 影响
- D. 西北季风的影响

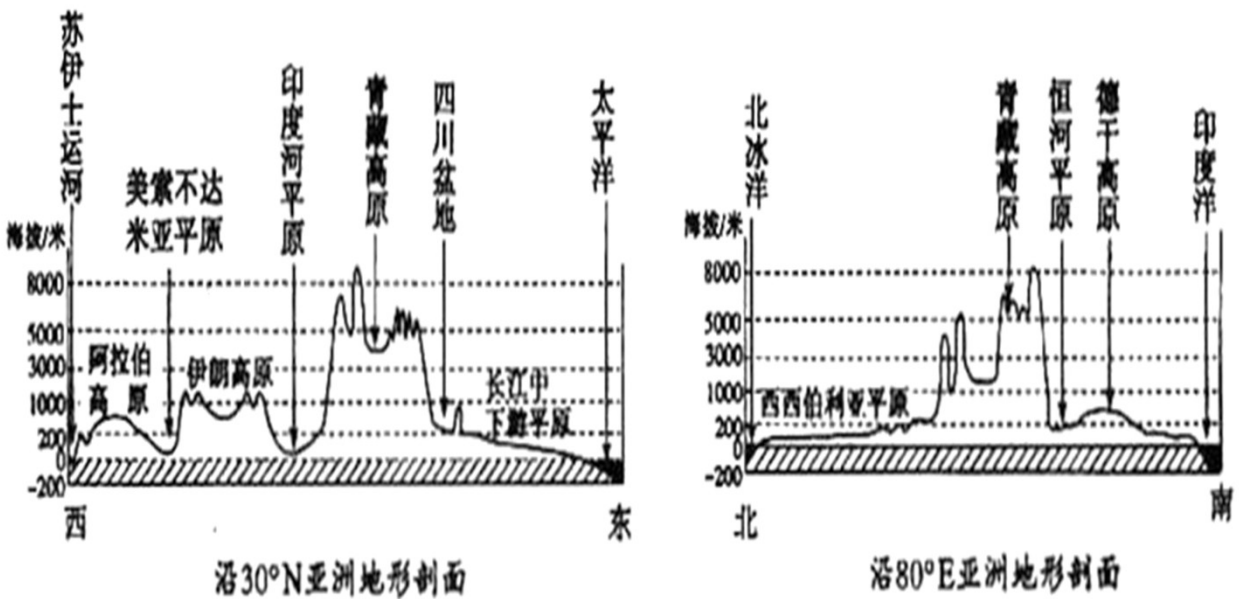
20. “南亚局部地区部分物产分布图”上阴影部分所示区域种植的粮食作物主要是( )

- A. 水稻
- B. 棉花
- C. 小麦
- D. 青稞

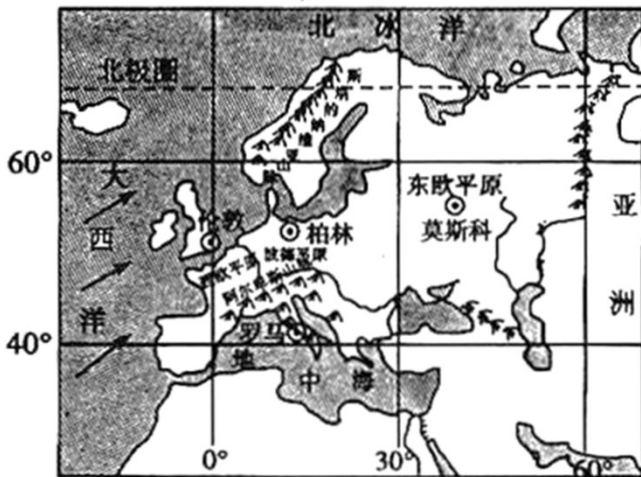
**二、非选择题（本大题包括 4 个小题，共 30 分）**

21. 大洲的地形特征可以从平均海拔高度、地形起伏状况、主要地形类型、地形分布格局和特色地形等方面来归纳。根据材料，完成下列问题。

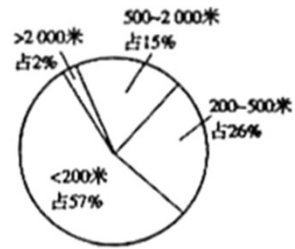
材料一：沿 30°N 亚洲地形剖面图、沿 80°E 亚洲地形剖面图。




材料二：欧洲地形图、欧洲不同海拔的陆地占比图、世界大洲陆地海拔高度比较图。



欧洲地形



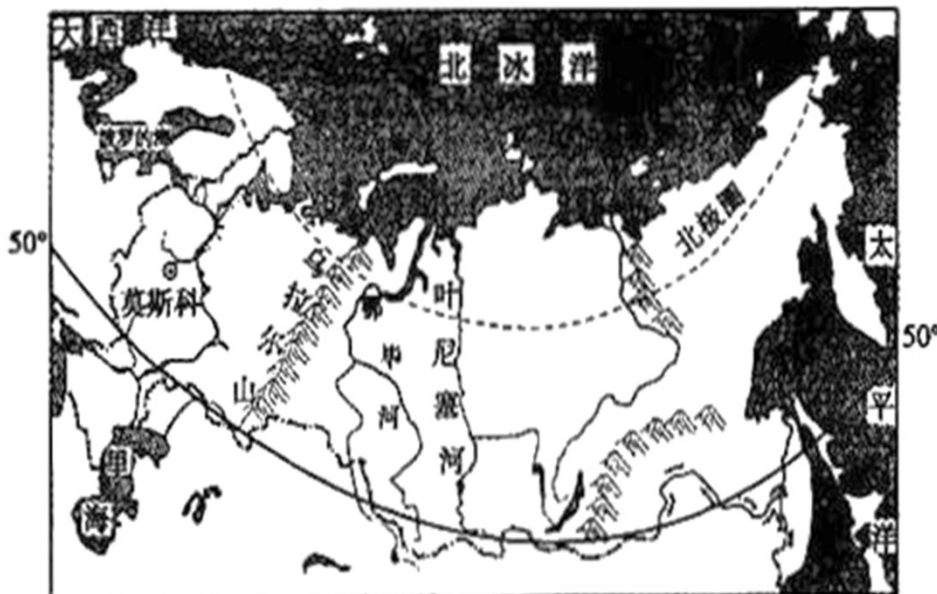
欧洲不同海拔的陆地占比



世界大洲(南极除外)陆地海拔高度比较

- 根据材料一分析，亚洲中部地区的地形类型主要是\_\_\_\_\_；从南北方向看，亚洲大陆边缘的地形类型主要是\_\_\_\_\_。
- 根据材料一判断，亚洲外流水系呈现出\_\_\_\_\_的分布特点。
- 根据材料二分析，欧洲地形起伏和缓，平均海拔\_\_\_\_\_（高或低），\_\_\_\_\_（地形类型）所占比例最大，山地多分布在\_\_\_\_\_（方位）。
- 欧洲是世界上温带海洋性气候分布最广的地区，试从地形的角度分析其原因。

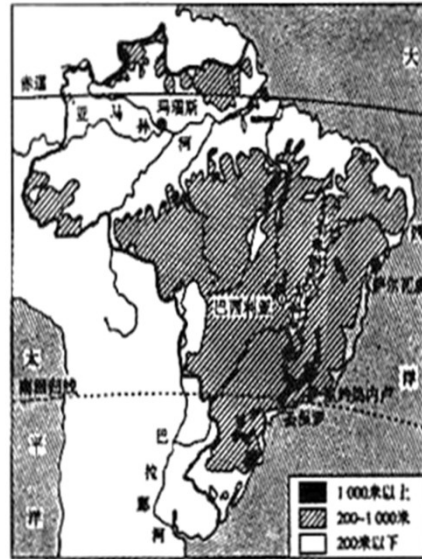
22.读俄罗斯、美国略图及巴西地形图，完成下列问题



俄罗斯



美国



巴西地形

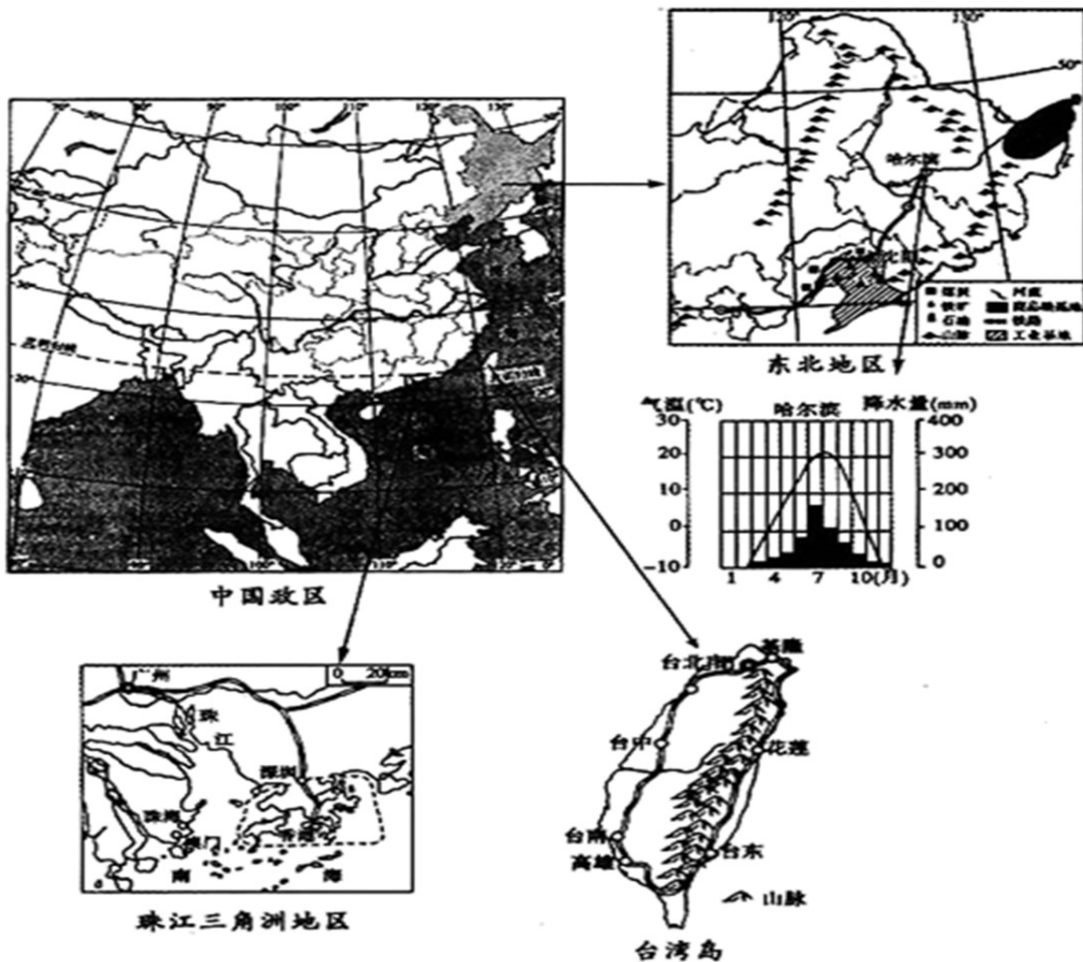
- (1) 俄罗斯、美国和巴西三个国家共同濒临\_\_\_\_\_（大洋），从海陆位置上看，都属于\_\_\_\_\_（类型）的国家，其中首都海拔最高的是\_\_\_\_\_（填城市名称）。
- (2) 俄罗斯、美国和巴西三个国家的森林覆盖率都较高，其中森林面积最大的是\_\_\_\_\_。
- (3) 根据三个国家的地理位置和地形分析，俄罗斯与美国分布面积最广的气候类型均为\_\_\_\_\_，而巴西缺少该气候类型，其主要影响因素是\_\_\_\_\_。
- (4) 亚马孙河下游平原和鄂毕河下游平原都属于人口稀疏地区，请任意选择其中一个地区说明主要原因。  
① 亚马孙河下游平原\_\_\_\_\_（或② 鄂毕河下游平原：\_\_\_\_\_）。

23. 人地和谐是当今社会发展的主旋律，生态安全是我国面临的重大问题。读图，完成下列问题。



- (2) 图中③地生态安全工程对减轻\_\_\_\_\_两大河流中下游地区旱涝灾害有重要意义。
- (3) 图中⑤地生态安全工程位于我国四大地理区域中的\_\_\_\_\_，该地区主要的土地利用类型是\_\_\_\_\_。
- (4) 据图说出我国水土流失最严重的两大高原名称，简述其水土流失严重的气候原因并说出减轻水土流失的措施。

24.我国疆域辽阔，自然环境复杂多样，形成了特色各异的地理区域。读图，完成下列问题。



- (1) 台湾岛地处我国的\_\_\_\_\_，目前与祖国内地联系的主要交通运输方式有\_\_\_\_\_。
- (2) 辽中南和珠江三角洲地区均为我国重要的工业基地，辽中南发展工业的资源优势是\_\_\_\_\_；珠江三角洲地区发展工业的位置优势是\_\_\_\_\_，且近年来随着电子信息、生物医药等产业的高速发展，已初步形成了珠江三角洲\_\_\_\_\_产业带。
- (3) 东北地区和珠江三角洲地区都盛产水稻，其共同的气候条件是\_\_\_\_\_，但两地熟制不同，试分析其原因\_\_\_\_\_。

## 试卷相关说明

本试卷的题干、答案和解析均由组卷网 (<http://zujian.xkw.com>) 专业教师团队编校出品。登录组卷网可对本试卷进行**单题组卷**、**细目表分析**、**布置作业**、**举一反三**等操作。

试卷地址：[在组卷网浏览本卷](#)

---

组卷网是学科网旗下的在线题库平台，覆盖小初高全学段全学科、超过 900 万精品解析试题。关注组卷网服务号，可使用移动教学助手功能（布置作业、线上考试、加入错题本、错题训练）。



---

学科网长期征集全国最新统考试卷、名校试卷、原创题，赢取丰厚稿酬，欢迎合作。  
钱老师 QQ : 537008204    曹老师 QQ : 713000635