

山东省东营市 2018 年中考地理真题试题

(总分 100 分 考试时间 60 分钟)

注意事项：

1. 本试题分第 I 卷和第 II 卷两部分。第 I 卷为选择题，50 分；第 II 卷为综合题，50 分；共 100 分。

2. 答卷前务必将自己的姓名、座号和准考证号按要求填写在试卷和答题卡上的相应位置。

3. 第 I 卷每题选出答案后，都必须用 2B 铅笔把答题卡上对应题目的答案标号 (ABCD) 涂黑，如需改动，必须先用橡皮擦干净，再改涂其它答案。

4. 第 II 卷必须用 0.5 毫米黑色签字笔书写到答题卡题号所指示的答题区域，不得超出预留范围。

5. 切记不要直接在试卷上答题。

第 I 卷 (选择题 共 50 分)

一、选择题 (下列各题给出的四个选项中，只有一个选项是最符合题意的。每小题 2 分，共 50 分)

“海上生明月，天涯共此时”。北京时间 2018 年 1 月 31 日晚发生了月全食现象，我国大部分地区居民欣赏到了美轮美奂的“蓝月亮”景观。据此，回答 1~2 题。

1. 月食现象证明了

- A. 地球的大小
- B. 地球自转方向
- C. 地球的形状
- D. 地球表面海陆分布

2. 该季节，下列说法正确的是

- A. 正值南极地区考察的最佳时期
- B. 印度半岛西南季风盛行
- C. 地中海沿岸的游客正享受阳光沙滩
- D. 我国南北气温相差不大

读经纬网图 (图 1)，回答 3~4 题。



图 1

3. ①地的经纬度是
- A. 60°S , 110°E B. 60°N , 110°E
- C. 60°S , 110°W D. 60°N , 110°W
4. 关于图中信息的判断, 正确的是
- A. ①地在②地的东北方向 B. ①②两地都有极昼极夜现象
- C. ③地位于西半球 D. 图中两阴影区表示的实地面积相等

读我国东南沿海某地等高线地形图 (图 2), 完成 5~6 题。

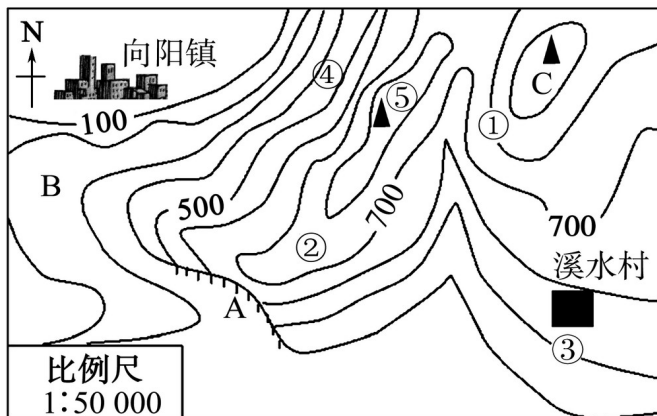


图 2

5. 关于图中信息的判读, 正确的是
- A. ①③两处的相对高度为 400 米
- B. ②处为山脊
- C. ③处比④处坡陡
- D. ⑤处为该区域最高峰
6. 为发展经济, 溪水村规划了多项旅游开发项目, 其中不合理的是

- A. A 处开发攀岩项目

- B. B处开发漂流体验项目
- C. C处修建观景台
- D. 溪水村周边种植果树，发展生态旅游农业

小足球，大世界。截止到2017年，世界杯足球赛在16个国家举办了20届。读“历届世界杯足球赛举办国家分布示意图”（图3），回答7~8题。

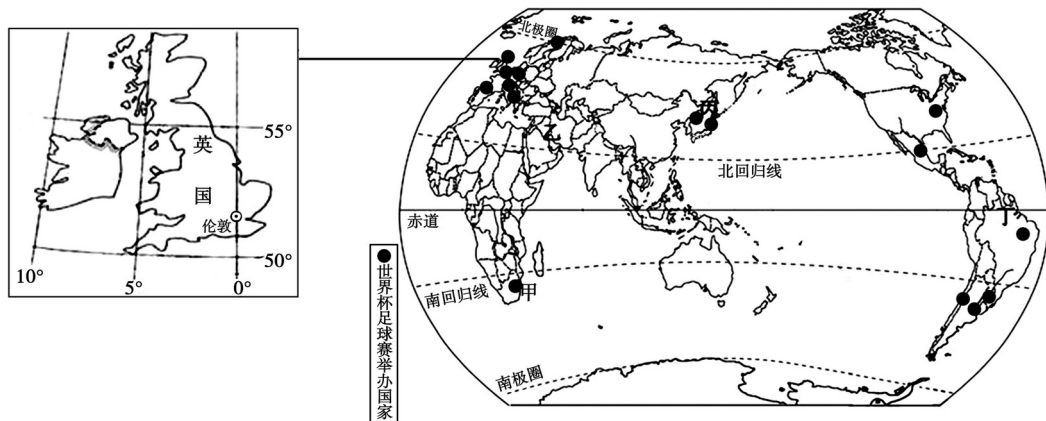


图3

7. 下列关于世界杯足球赛举办国分布的叙述，正确的是

- A. 太平洋沿岸国家多于大西洋沿岸国家
- B. 有常住居民的大洲均有国家举办过世界杯
- C. 主要集中在南半球、中纬度
- D. 欧洲举办过世界杯的国家最多

8. 英国是世界杯足球赛的举办国之一。下列关于英国的说法，正确的是

- A. 清真寺是多数居民的宗教活动场所
- B. 居民以牛羊肉和乳制品为主食
- C. 卢浮宫是该国著名的旅游景点
- D. 工业高度发达，是其支柱产业

美国是世界上工农业最发达的国家。读图4，完成9~10题。

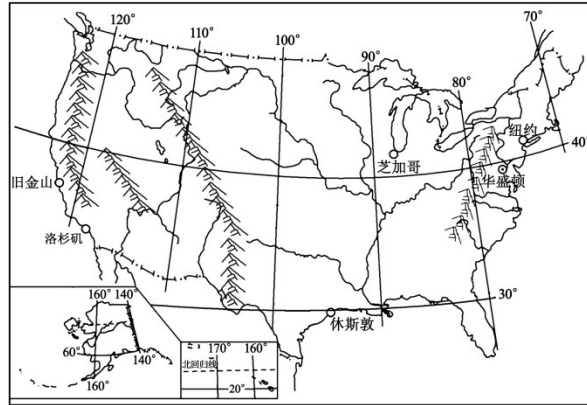


图 4

9.关于美国自然环境的描述，正确的是

- A. 西临大西洋，东临太平洋
- B. 温带海洋性气候分布广
- C. 地势东西高，中部低
- D. 地跨南、北半球

10.关于美国经济特点的描述，正确的是

- A. 农业生产实现了地区专业化，机械化水平高
- B. 乳畜带分布在密西西比河下游地区
- C. 近年来，经济的增长得益于钢铁、汽车工业的飞速发展
- D. 高新技术产业最早兴起于东北部地区

近年来，中非合作密切。中国在非洲建设的现代电气化铁路——“亚吉铁路”于 2016 年 10 月 5 日正式通车。该铁路从亚的斯亚贝巴途经埃塞俄比亚高原到红海沿岸的吉布提，全程落差近 3000 米。读图 5，完成 11~12 题。

11.关于“亚吉铁路”途经区域的说法，正确的是

- A. 沿线分布着茂密的热带雨林
- B. 沿途厂房林立，工业发达
- C. 气候终年湿热，野生动物众多
- D. 沿途地形复杂，施工难度大

12.关于埃塞俄比亚的叙述，正确的是

- A. 濒临红海，海陆兼备
- B. 人口增长缓慢，劳动力短缺
- C. 旱灾频发，粮食严重不足

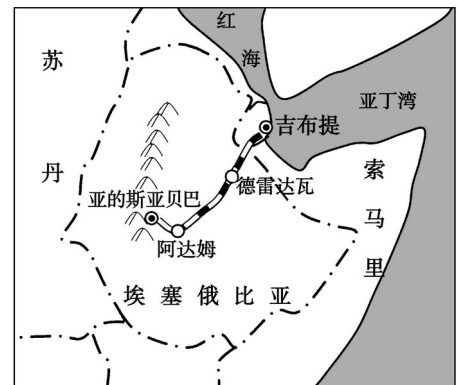


图 5

D. 中埃两国之间的政治、经济商谈称为“南北对话”

13. 关于日本的叙述，正确的是

- A. 国土面积狭小，领土由四大岛屿组成
- B. 地形以山地、丘陵为主，河流短小湍急
- C. 民族构成复杂，具有东西方兼容的文化
- D. 劳动密集型产业已转移至欧洲西部地区

14. 澳大利亚、巴西两国有许多共同之处，读图 6，下列说法不正确的是

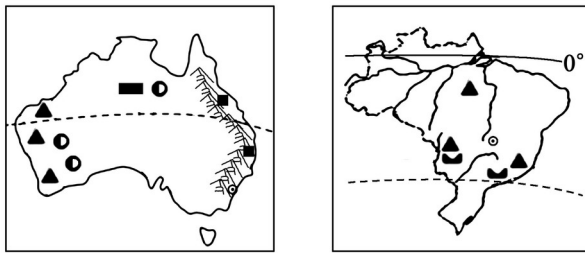


图 6

- A. 都濒临太平洋
- B. 热带气候分布广
- C. 都有丰富的矿产资源
- D. 居民都以白色人种为主

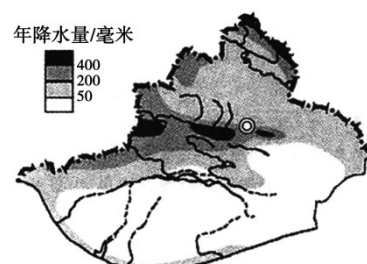
15. 印度是世界第二人口大国，目前人口仍然以较快的速度增长。印度人口众多产生的影响有

- ① 劳动力充足
 - ② 人口老龄化严重
 - ③ 资源、环境压力大
 - ④ 劳动力素质高
 - ⑤ 消费市场广阔
- A. ①③⑤ B. ②③④ C. ①④⑤ D. ②④⑤

图 7 是新疆年降水量和河流分布示意图。读图，完成 16~17 题。

16. 关于新疆年降水量分布和河流特点的叙述，正确的是

- A. 年降水量从东南向西北递减
- B. 山地降水多于盆地
- C. 南部河流数量多，流量大
- D. 河流都为内流河



17. 导致本区域内降水差异的主要因素是

- A.海陆位置
- B.纬度位置
- C.地形因素
- D.夏季风

图 7

2017 年西成高铁（西安-成都）正式通车运营，这是世界首条穿越艰险山脉的高速铁路，铁路很多路段都设计成如图 8 右图所示的“灯泡”型线路。读图 8，完成 18~19 题。

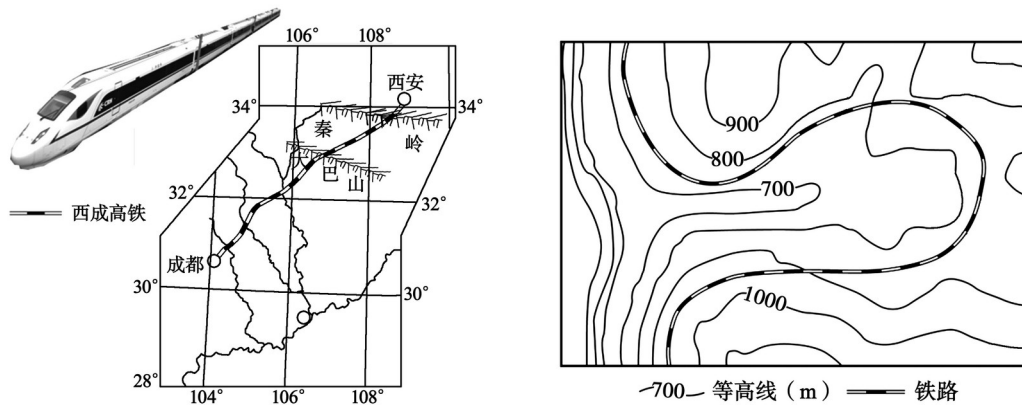


图 8

18. 西成高铁很多路段设计成“灯泡型”线路的主要目的是

- A. 避开山体滑坡和泥石流
- B. 尽量少占用耕地
- C. 尽量使铁路线坡度更平缓
- D. 减少沿途植被的破坏

19. 下列描述与西成高铁途经地区风土人情不相符的是

- A. 黄土地与紫土地遥相呼应
- B. 柑橘园与椰子林斑斓交织
- C. 崇山峻岭与大河急流动静相融
- D. 川剧与秦腔激情碰撞

图 9 为我国某地景观示意图。读图，完成 20~21 题。

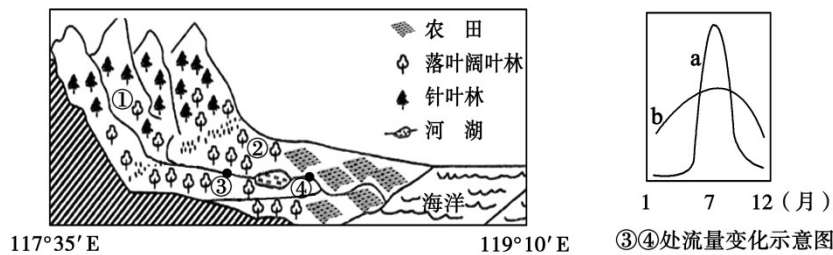


图 9

20.关于该地的描述，正确的是

- A. 位于南方地区
- B. 气候湿热，农作物一年收获 2 至 3 次
- C. ①地降水比②地少
- D. 地形是造成①②两地植被差异的主要因素

21.关于图中河流特点的说法，正确的是

- A. 含沙量大
- B. 无结冰期
- C. 自北向南流
- D. b 曲线反映了④河段流量变化特点

22.我国是一个缺水严重的国家，有关我国水资源的叙述正确的是

- A. 空间分布不均，南多北少，东多西少
- B. 时间分配不均，季节变化大，年际变化小
- C. 南水北调解决了北方地区缺水的问题
- D. 地下水和冰川水是我国主要的淡水资源

23.我国是世界上自然灾害发生最为频繁的国家之一。读中国主要气象灾害的分布图（图 10），下列说法正确的是

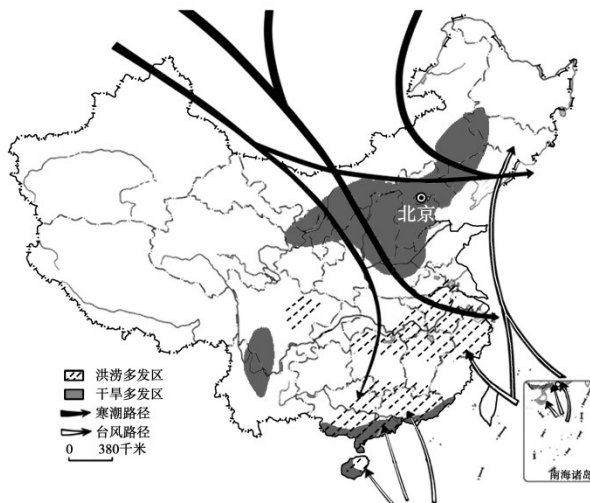


图 10

- A. 全国各地普遍受到寒潮侵袭
- B. 台风只影响我国东南沿海地区
- C. 西北地区干旱灾害最为严重
- D. 长江中下游地区洪涝灾害频繁

24.大连位于辽东半岛南端，是我国北方重要的深水港。造船工业是其主要工业部门之一，大连市发展造船工业的有利条件有

- ① 重工业基础雄厚
 - ② 邻近日韩，靠近消费市场
 - ③ 港口条件优越
 - ④ 科学技术水平高
- A. ①②③ B. ②③④ C. ①③④ D. ①②④

25.有关香港、澳门和台湾共同地理特征的叙述，正确的是

- A.地狭人稠，物产富饶
- B.博彩旅游业发达
- C.全部位于热带地区
- D.经济发展对外依赖性强

第II卷(综合题 共50分)

二、综合题(50分)

26.2017年国庆节期间，济南丽丽一家到北京游玩。读图11，回答下列问题。(8分)

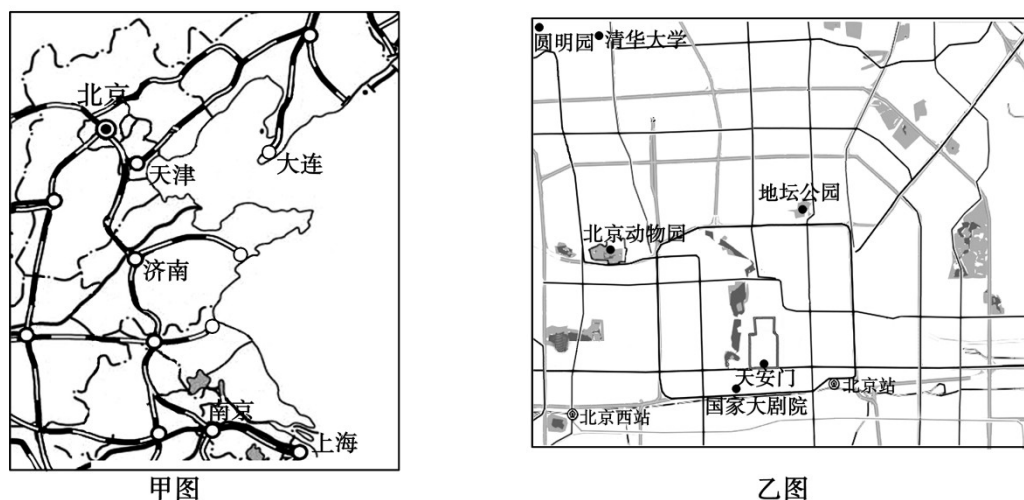


图11

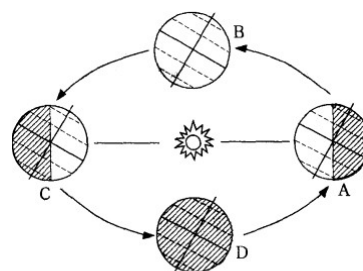
(1) 旅游前，丽丽选择了可能用到的甲、乙两幅地图。丽丽了解到北京到济南的实地距离为360千米，量得甲图中两地距离2厘米，则甲图的比例尺为_____（数字式）。甲乙两图比较，比例尺较小的是_____。

以下为丽丽一家的行程安排：

10月1日	10月2日	10月3日
乘火车到北京	去天安门观看升旗仪式	参观清华大学
游北京动物园	参观人民大会堂；游览故宫	游览天圆明园
	到国家大剧院看演出	返程

(2)丽丽一家从济南乘坐火车经____线到达北京，依次经过的省级行政区域有鲁、__、津、京（填简称）。

(3)第二天一早，丽丽一家观看天安门升旗仪式，感受国旗与太阳一同升起时的庄严。此时，地球在公转轨道上的位置更接近图 12 中



的_____处（填字母）；这一天，北京市的昼夜长短状况是_____，此后一个月内，天安门升旗时间将会越来越_____。

(4)清华大学、国家大剧院体现了北京是全国的_____中心。

图 12

27. 近年来，中东冲突不断，始终是世界关注的热点地区，俄罗斯和西方国家在中东问题上针锋相对。读中东、俄罗斯轮廓图（图 13），回答下列各题。（9分）

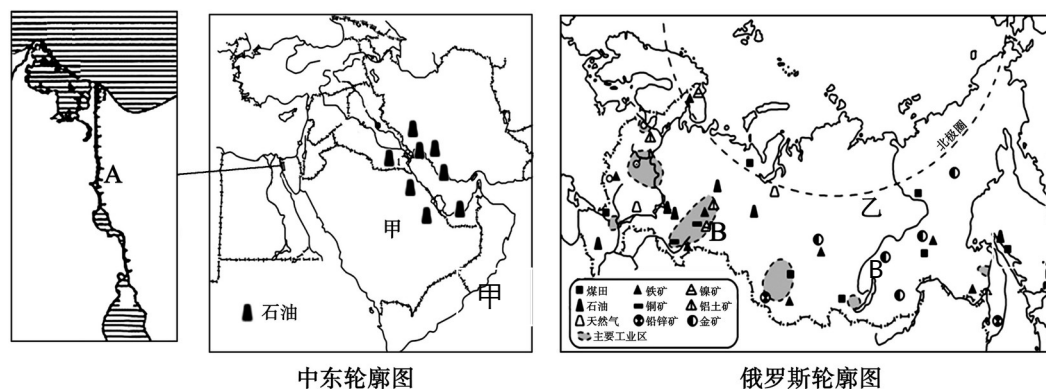


图 13

(1) 中东地处“三洲五海”之地，其中 A 是____运河，简述该运河交通位置的重要性_____。

(2) 俄罗斯重工业发达，其中 B 是_____工业区。据图分析，影响俄罗斯工业分布的主导因素是_____。

(3) 俄罗斯和中东是我国石油进口的两大来源地，中东的石油主要分布在_____。俄罗斯石油出口到我国的主要运输方式是_____。

(4) 中东的甲地区与俄罗斯的乙地区都是人口稀疏的地区，请利用所学知识分析其原因_____。

28. 泰国地处中南半岛南部，是东南亚发展水平较高的国家。读图 14，回答下列各题。

(8 分)

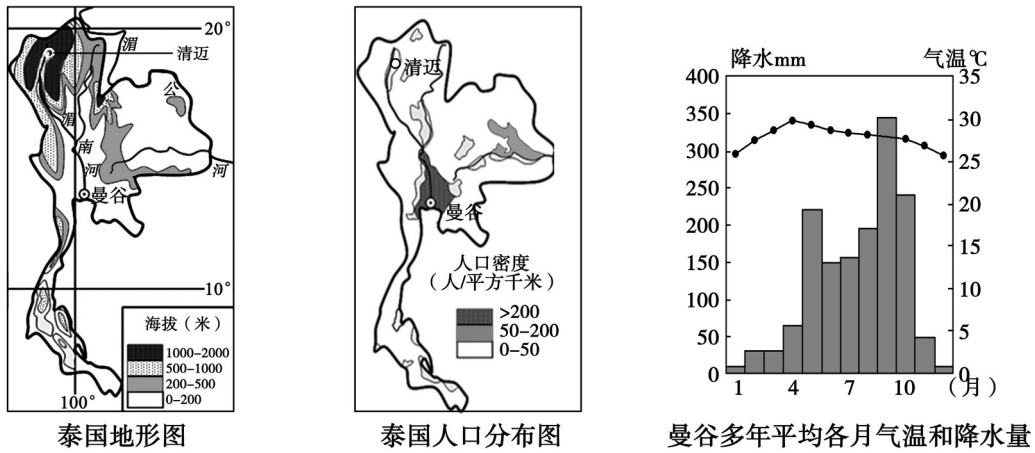


图 14

1. 据图分析，泰国人口主要分布在_____。
2. 曼谷是一个水灾频发的城市，主要原因是_____。
3. 清迈及周边地区是泰国著名的避暑圣地，据图分析该区域成为避暑圣地的自然条件有_____。仅从自然因素考虑，曼谷居民最有可能在_____月份去清迈避暑。
4. 近年来，泰国成为我国居民境外旅游的首选。你认为泰国吸引中国游客的优势条件有_____。

29. 青藏神山圣寺，雪山连绵；东北白山黑水，沃野千里。读青藏地区和东北地区图（图 15），回答下列问题。（9 分）

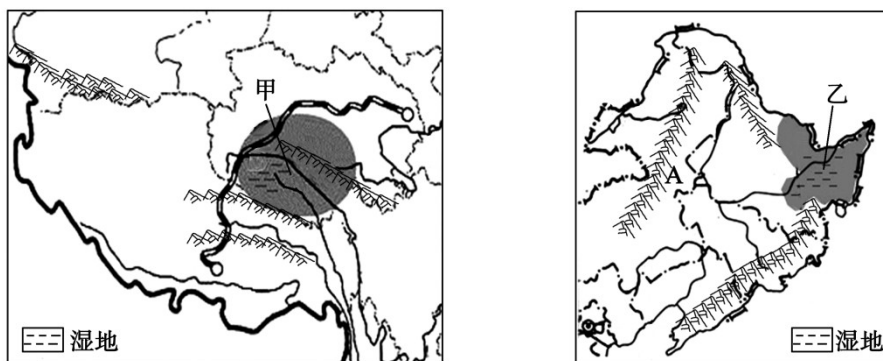


图 15

- (1) 青藏地区突出的自然特征是_____。该区域主要土地利用类型是_____和难以利用的土地。

- (2) A是____山脉，它是我国一条重要的地理分界线，请举一例说明：_____。
- (3) 东北三省成为我国重要的商品粮基地的社会经济条件是_____
- (3) 图中甲、乙两阴影地区共同存在的生态环境问题是_____，甲地区出现这种环境问题的主要原因是_____，解决乙地区此环境问题的措施是_____。

30. 南方地区山清水秀，河湖密布，物产富饶。读南方地区图（图 16），回答下列问题。（8分）

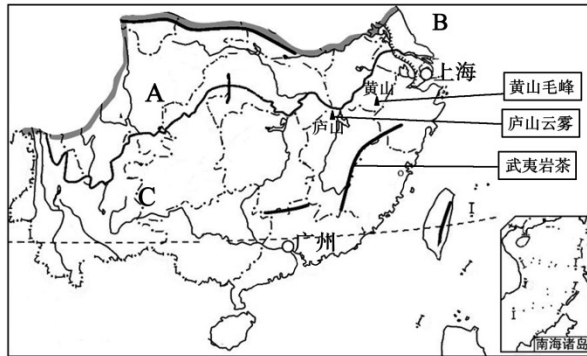


图 16

- (1) 地形区 A _____，海域 B _____。
- (2) 人们常用“四季无寒暑”来描述 C 地形区的气候特点。根据图中信息，结合所学知识分析，C 地形区冬季温暖的原因是_____。
- (3) 上海是长江三角洲城市群的核心城市，它对周边地区有哪些辐射带动作用？
_____。

茶是中国人最喜爱的饮品，南方地区盛产的黄山毛峰、庐山云雾、武夷岩茶等全国驰名。

- (4) 结合图文资料分析，南方地区名茶产区的优势自然条件有_____（多选）
- ① 气候温暖 ② 光照充足 ③ 空气湿度大 ④ 地形平坦 ⑤ 排水性好

31. 东营，我可爱的家乡。黄河从这里入海，油田在这里诞生。读东营市行政区划和资源分布图（图 17），完成下列各题。（8分）

- (1) 据图可知，黄河在东营市境内穿过的县区有_____。
- (2) 黄河东营段是凌汛发生的主要河段之一，请据图分析原因_____。
- (3) 东营市能源资源丰富，其中属于非可再生资源的有_____。
- (4) 黄河泥沙在入海口不断淤积形成新的土地。但近年来由于黄河泥沙含量的降低，新生土地面积增长速度变缓。你认为出现这种现象的原因是_____。

光伏是指通过安装设备，利用太阳能发电。目前，东营市正在广大农户中积极推广安装

光伏设备，这种设备产生的电量，除农户自用外，还可以被国家电网收购。

(5) 你认为东营市推行光伏产业会产生哪些积极影响？

_____。

地理试题参考答案及评分标准

一、选择题 (50分) (每小题2分,共50分)

题号	1	2	3	4	5	6	7	8	9	10	11	12	13
答案	C	A	B	C	B	B	D	B	C	A	D	C	B
题号	14	15	16	17	18	19	20	21	22	23	24	25	
答案	A	A	B	C	C	B	D	D	A	D	C	D	

二、综合题 (50分)

26.(共8分)

- (1) 1:18,000,000 甲图.....
.....2分
- (2) 京沪 冀.....
.....2分
- (3) D 昼短夜长 晚.....
.....3分
- (4) 文化.....
.....1分

27. (共9分)

- (1) 苏伊士运河.....
.....1分
- 苏伊士运河沟通了红海和地中海,大大缩短了印度洋和大西洋之间的通航里程.....2分
- (2) 乌拉尔 矿产资源(自然资源/资源).....
.....2分
- (3) 波斯湾及其沿岸地区 管道运输.....
.....2分
- (4) 甲地地处热带沙漠气候区,气候极端干旱.....
.....1分

乙地纬度高，气候终年寒冷.....

.....1分

28. (共 8 分)

(1) 河流沿岸和河口三角洲.....

.....1分

(2) 位于河口三角洲，地势低平，排水不畅；属热带季风气候，雨季长，降水丰富
(西南季风不稳定).....

.....2分

(3) ①纬度相对较高，气温较低；②(位于山区)海拔高，气温低.....

.....2分

4(月).....

.....1分

(4) 距离近，节省时间，费用低；独特的热带自然景观和乡土人情；华人华侨比重
大，交流方便(任意两点，意思正确即可).....

.....2分

29. (共 9 分)

(1) 高寒 草地.....

.....2分

(2) 大兴安岭.....

.....1分

大兴安岭是东北平原和内蒙古高原的分界线(或地势二、三阶梯分界线；半湿润地区和
半干旱地区分界线；种植业和畜牧业分界线；耕地和草地分界线)(任举一例即可)

.....1分

(3) 地广人稀，本地粮食消费少；农业科学技术水平高(机械化程度高).....

....2分

(4) 湿地面积减少 全球气候变暖，冰川逐年萎缩 停止开荒(垦)，建立自然
保护区.....

.....3分

30. (共 8 分)

- (1) 四川盆地 黄海.....
.....2分
- (2) 纬度较低，冬季气温较高；受冬季风影响小.....
.....2分
- (3) 上海能为周边地区提供资金、技术、人才、信息、市场、管理经验（答任意两点
可得1分，答任意三点可得2分）.....
.....2分
- (4) ①③⑤(选对两个得1分，多选、错选均不得分).....
.....2分

31. (共8分)

- (1) 东营区、利津县、垦利区（不计顺序，少些、多写、错写均不得分）.....2
分
- (2) ①该河段自纬度相对较低的地区流向纬度相对较高的地区②该河段有结冰期(意思正
确即可).....
.....2分.
- (3) 石油、天然气.....
.....1分
- (4) (黄土高原地区采取了植树种草，修梯田、建档土坝等措施，)黄土高原水土流失减
轻了（小浪底调水调沙）（意思正确即可）.....
.....1分
- (5) ①（优化能源结构）改善了空气质量；②增加了居民收入（提高了居民的
生活水）（其他合理答案可酌情给分）.....
.....2分