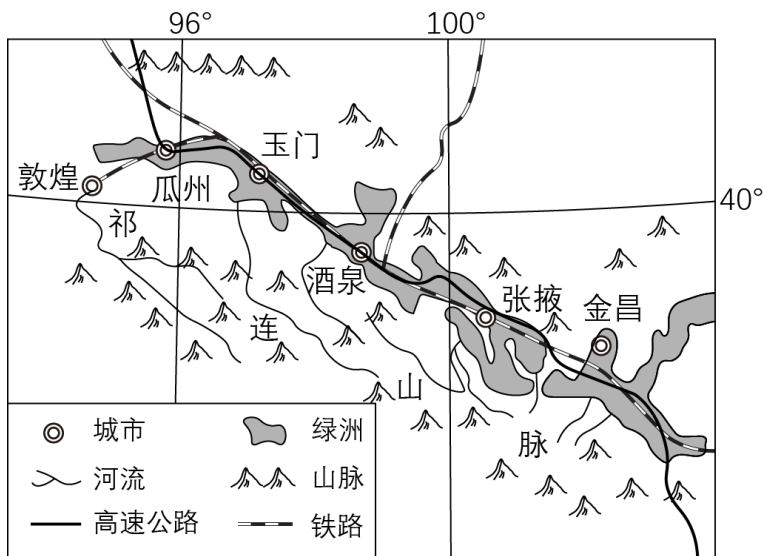




C. 环境污染程度小

D. 资源利用综合性强

河西走廊自古就是我国的交通要道。图是河西走廊高速公路、铁路分布图。完成下面小题。



6. 河西走廊交通线的总体布局大致为 ( )

- A. 放射状                      B. 条带状                      C. 网格状                      D. 团块状

7. 西气东输管线经过河西走廊，并给沿线城市供气。对当地的影响有 ( )

①破坏了局部地表环境②改变了城市形态③方便了石油产品输出④优化了能源结构

- A. ①②                      B. ①④                      C. ②③                      D. ③④

8. 河西走廊河运不发达，主要是因为当地的河流 ( )

①水量较小②流程较短③流速较慢④含沙量大

- A. ①②                      B. ①③                      C. ②④                      D. ③④

玉米既是粮食，又是饲料和工业原料。我国玉米进口量居世界第一，约占全球总进口量的16%。近两年，我国进口的玉米70%以上来自美国、25%以上来自乌克兰。2023年，我国开辟了巴西、南非（位于非洲最南端）两个玉米进口新渠道。完成下面小题。

9. 我国增加了玉米进口新渠道，产生的直接影响有 ( )

- ①我国粮食进口来源更加多元化  
②减轻我国粮食进口对美国的依赖  
③促使乌克兰增加玉米种植面积  
④导致巴西、南非削减玉米总产量

- A. ①②                      B. ①④

- C. ②③                      D. ③④

10. 我国进口玉米中，上半年收获的主要来源于 ( )

①美国②乌克兰③巴西④南非

A. ①②

B. ①③

C. ②④

D. ③④

## 二、非选择题：本题包括 2 个小题，共 30 分。请将答案写在答题卡的对应位置上。

11. 阅读材料，完成下列要求

天然橡胶属于热带经济作物，是制造轮胎、医用产品、日常生活用品等工业品的重要原料，与石油、煤炭、铁矿石等都属于全球短缺资源。东南亚的天然橡胶产量占世界的 3/4 左右，而天然橡胶的消费地主要集中在东亚、美国和西欧。

我国是世界上最大的轮胎生产国和出口国。轮胎制造成本的 50%来自天然橡胶，我国的天然橡胶主要依赖进口，进口来源国主要有泰国、马来西亚、越南。近些年，由于主要橡胶生产国限制天然橡胶的出口，我国轮胎产业发展受阻。有的企业进行技术革新，有的向东南亚、西欧和北美等地区转移。

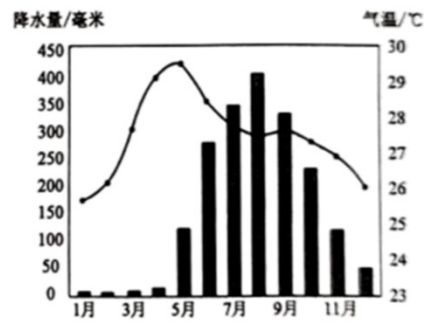
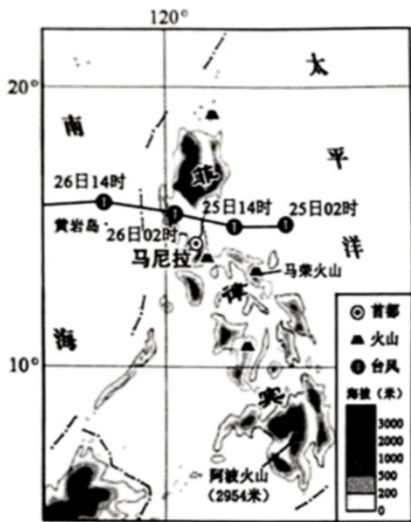
- (1) 列举两个我国适合天然橡胶生长 省区，并说出理由。
- (2) 分析我国天然橡胶主要依赖进口的原因。
- (3) 我国轮胎产业通过哪些技术革新可减少天然橡胶的依赖。
- (4) 假如你是中国轮胎企业海外投资商，请选择一个投资地区或国家，简析该地发展轮胎产业所具备的优势条件（答出两个即可）。

12. 阅读图文材料，完成下列要求。

水稻喜欢温暖、湿润、土地平整的生长环境。生长期需要有充足的水分供给，土壤湿度低于 57% 时，光合作用开始下降。

袁隆平技术团队援助培育的杂交水稻品种，在菲律宾种植面积已超过 100 万公顷，每公顷最高产量达到 15 吨，是当地传统水稻品种的 3 倍。

多年来，菲律宾的稻米一直不能自给。2022 年，受 9 月底台风“卡丁”带来的狂风、暴雨影响，稻米产量大幅下降，进口的需求进一步加大。图左是台风“卡丁”移动路径示意图，图右是菲律宾北部城市马尼拉多年平均各月气温和降水量图。



- (1) 据图判断台风“卡丁”在菲律宾登陆后 移动方向，并写出造成所经地区水稻减产的原因。
- (2) 分析菲律宾北部种植水稻的自然条件。
- (3) 请你为菲律宾提高稻米的自给率提出合理化建议。

## 免费增值服务介绍



- ✓ 学科网 (<https://www.zxxk.com/>) 致力于提供K12教育资源方服务。
- ✓ 网校通合作校还提供学科网高端社群出品的《老师请开讲》私享直播课等增值服务。



扫码关注学科网

每日领取免费资源

回复“ppt” 免费领180套PPT模板

回复“天天领券” 来抢免费下载券



- ✓ 组卷网 (<https://zujian.xkw.com>) 是学科网旗下智能题库，拥有小初高全学科超千万精品试题，提供智能组卷、拍照选题、作业、考试测评等服务。



扫码关注组卷网

解锁更多功能