



# 第四单元 100 以内的口算加、减法



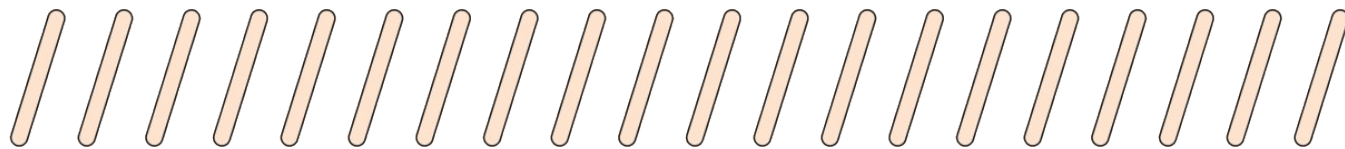
## 第 3 课时 解决问题


一年级数学下册 (RJ 卓越版)



新领程同步作业课件

1 yòng 20 gēn xiǎo bàng bǎi kě yǐ bǎi jǐ gè ?  
 用 20 根小棒摆  , 可以摆几个 ?



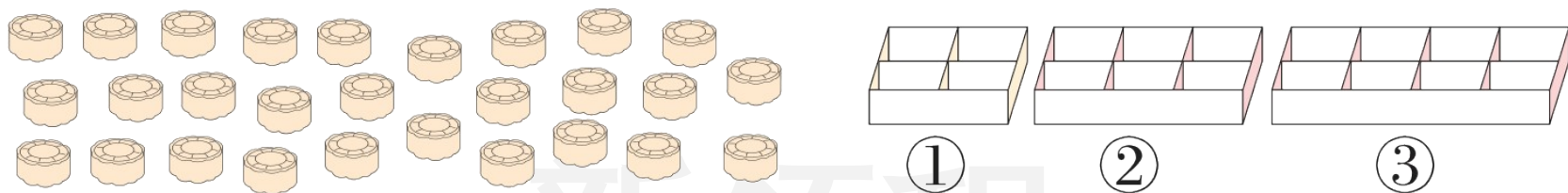
 我用圈一圈方法解答：每 3 根圈一圈，共圈 ( ) 个圈，也就是摆 ( ) 个，还剩 ( ) 根。

 我用连减法解答：

$$20 \xrightarrow{-3} \square \xrightarrow{-3} \square \xrightarrow{-3} \square \xrightarrow{-3} \square \xrightarrow{-3} \square \xrightarrow{-3} \square$$

能摆 ( ) 个，还剩 ( ) 根。

2 bǎ 28 gè yuè bǐng zhuāng zài xià miàn de hé zi lǐ , néng zhuāng mǎn jǐ hé ?  
把 28 个月饼装在下方的盒子里，能装满几盒？

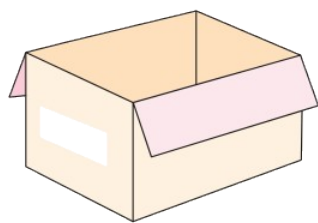


- (1) 如果用③号盒子装，可以装满( )盒，还剩( )个。
- (2) 如果用 4 个②号盒子装，( )装下这些月饼。(填“能”或“不能”)
- (3) 还可以选择( )号盒子，能装满( )盒。

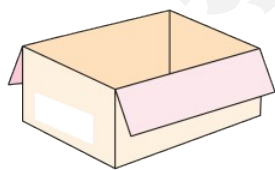
3 xià miàn de wán jù zhuāng mǎn 2 gè dà hé hòu hái kě yǐ zhuāng mǎn 。 ( )

下面的玩具装满2个大盒后，还可以装满。( )


gè xiǎo hé 。  
 个小盒。



装6个 



装4个 



新领程



关注“优翼丛书”小程序

更多优质好课等你来



更多教学资源，敬请关注 [www.youyi100.com](http://www.youyi100.com)