



素养通关

第三单元素养通关

一年级数学下册（RJ卓越版）

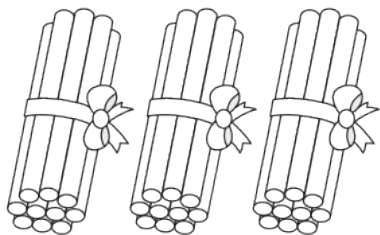


新领程同步作业课件

tián kòng chéng bǎo

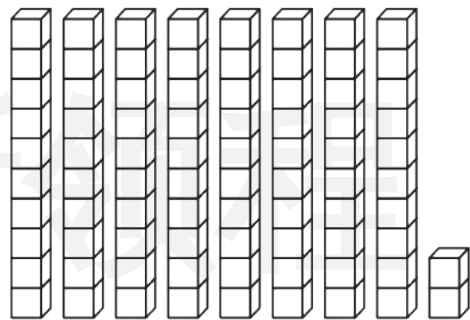
第一关：填空城堡。(每空1☆,共37☆)

1. 看图写数,读数。



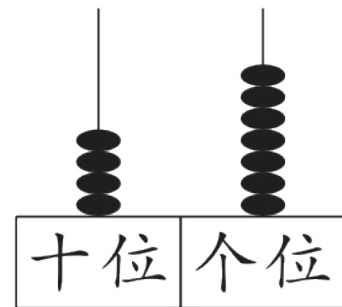
写作: _____

读作: _____



写作: _____

读作: _____



写作: _____

读作: _____

2. 100 里面有()个十,100 里面有()个一。
3. 77 左边的“7”在()位上,表示 7 个(),右边的“7”在()位上,表示 7 个()。
4. 由 9 个一和 4 个十组成的数是(),与这个数相邻的两个数分别是()和()。

5. 根据规律填数。

(1) 35、()、37、()、()、40

(2) ()、90、()、70、60、()

6. 比一比,在 \bigcirc 里填上“>”“<”或“=”。

$$50 \bigcirc 15$$

$$36 \bigcirc 63$$

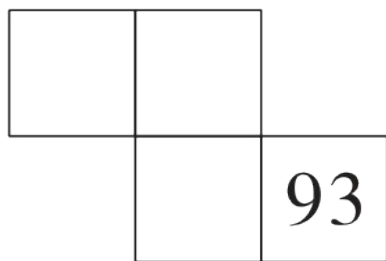
$$60 \bigcirc 51 - 1$$

$$29 \bigcirc 30$$

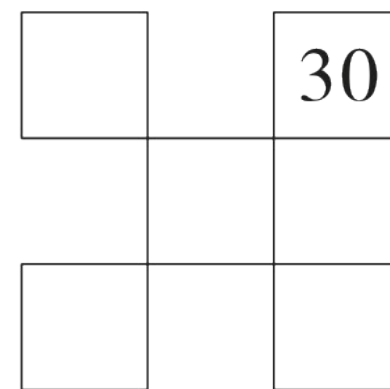
$$100 \bigcirc 10$$

$$100 \bigcirc 90 + 8$$

7. 根据 1 ~ 100 的百数表的顺序, 在空格里填上合适的数。



新里程



xuǎn zé mí gōng

第二关：选择迷宫。(填序号)(8☆)

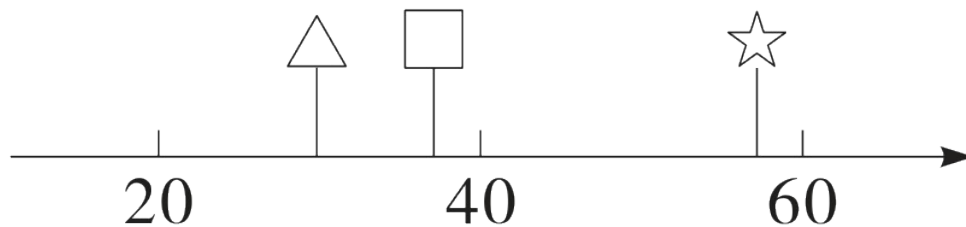
1. 下面比 28 大, 比 35 小的数是()。

① 32

② 27

③ 36

2. 王叔叔买了一些土笋冻, 比 20 袋多得多, 比 60 袋少一些。买的土笋冻的数量在下图的位置是()。



① △

② □

③ ☆

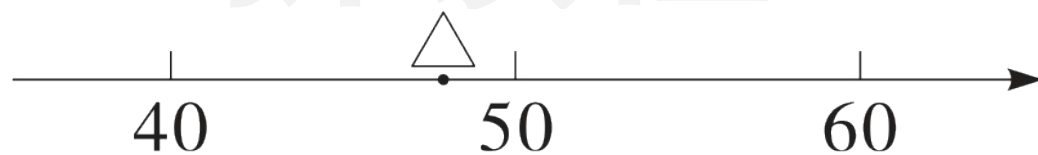
3. 用 6 颗珠子在计数器上表示两位数, 最大的是(), 最小的是()。

① 60

② 15

③ 6

4. 图中 \triangle 所在位置表示的数最接近的整十数是()。



① 40




② 50

③ 55

jì suàn wáng guó

第三关：计算王国。(18☆)

1. 看谁算得又对又快。(12☆)

	$20+8=$	$15-9=$	$7+60=$	$50-30=$
	$66-6=$	$80+4=$	$30+40=$	$24-4=$
	$53-50=$	$8+30=$	$90-40=$	$48-8=$

2. 在()里填上合适的数。(6☆)

$$30 + () = 37$$

$$50 = 53 - ()$$

$$40 = 80 - ()$$

$$() + 4 = 44$$






$$70 = 90 - ()$$

$$9 = 49 - ()$$

dòng shǒu mì shì

第四关：动手密室。(20☆)

1. 对号入座。(连一连)(10☆)

 60前面的一个数。	 十位上是9，个位上是5。	 7个十和4个一。	 8个十。	 最小的两位数。
95	59	74	10	80

Connections shown in the image:
 - 60前面的一个数 (Squirrel) connects to 59 (Monkey stump).
 - 十位上是9，个位上是5 (Monkey) connects to 95 (Squirrel stump).
 - 7个十和4个一 (Rabbit) connects to 74 (Rabbit stump).
 - 8个十 (Cat) connects to 80 (Deer stump).
 - 最小的两位数 (Deer) connects to 10 (Cat stump).


2. 母亲节快到了,学校举行“穿手串送给妈妈”的活动。(10☆)



小新

我穿了
27颗。

我穿的比小
新多得多。



小优

我穿的比小
新少一些。

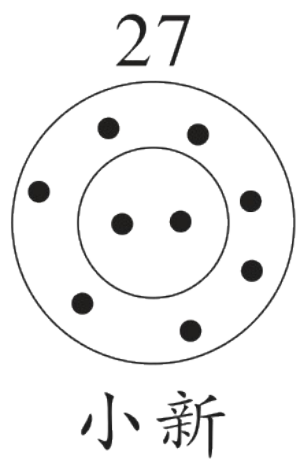


小程

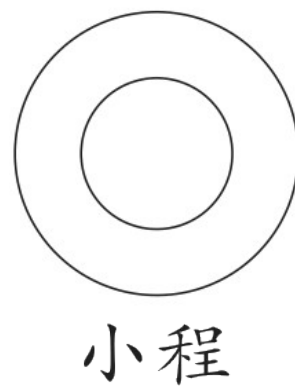
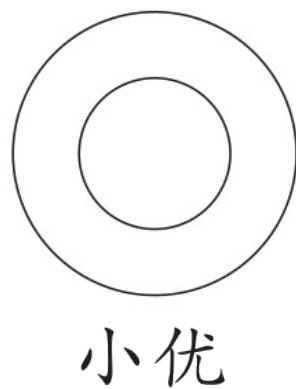
(1) 小优穿了多少颗珠子? 画“√”。小程穿了多少颗珠子? 画“△”。(4☆)

12 颗	25 颗	35 颗	62 颗

(2) 下面是小新记录穿的珠子颗数的方式, 请你用同样的方法记录小优和小程穿的珠子颗数。(6☆)



新程



shēng huó lè yuán

第五关：生活乐园。(17☆)

1. 李老师给全班每人发一块定胜糕和松糕。(6☆)



我们班一共有36人。

已经发了30块定胜糕，还有6块松糕没有发。



(1) 还有多少块定胜糕没有发？ (2) 已经发了多少块松糕？

$$\square \bigcirc \square = \square (\quad)$$

$$\square \bigcirc \square = \square (\quad)$$

2.

发演出服了！参加演出的男生有30人，女生有8人。



我来领40套演出服。

每人发一套，够吗？（4☆）

3. 21 名学生在操场上玩“听数抱团”游戏。


(7☆)

(1) 如果老师报“5”，可以组成()

组，还剩下()人。(4☆)

(2) 小新的说法对吗？请画图说明理由。(3☆)

我报几，就几
人组成一组。



如果老师报“6”，
再来3名学生，就刚
好都能组成一组。



小新

sù yǎng tí shēng zuò duì le jiǎng lì o

素养提升。(做对了，奖励10☆哦！)

有一个两位数，比29多一些，比42少一些，它十位上的数字与个位上的数字相差5，这个数是多少？

新领程



关注“优翼丛书”小程序

更多优质好课等你来



更多教学资源，敬请关注 www.youyi100.com