



第四单元 100 以内的口算加、减法



第 3 课时 练习课 (第 1、2 课时)

一年级数学下册 (RJ 卓越版)



新领程同步作业课件

suàn yì suàn

1 算一算。

25+20 37+9 8+29 46+5 26+20 47+4

46 51 45 37

2 zài lǐ tián shàng “ > ” “ < ” huò “ = ” 。
 在 里填上 “ > ” “ < ” 或 “ = ” 。

$56 + 4 \quad \bigcirc \quad 50$

$50 + 42 \quad \bigcirc \quad 92$

$27 + 9 \quad \bigcirc \quad 46$

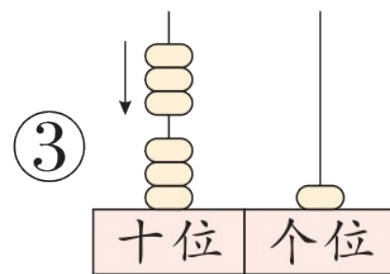
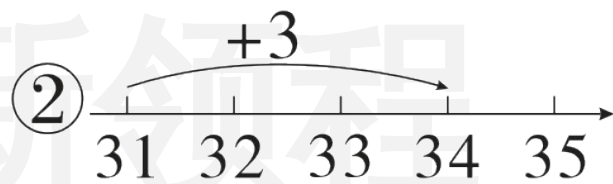
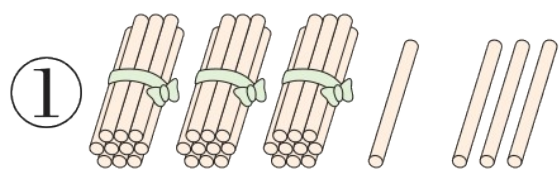
$32 + 4 \quad \bigcirc \quad 28$

$7 + 42 \quad \bigcirc \quad 94$

$6 + 38 \quad \bigcirc \quad 44$

3 xuǎn yì xuǎn tián xù hào
 选一选。(填序号)

(1) 下图不能表示“ $31 + 3$ ”的是()。



(2) 下面算式中，“5”和“4”可以直接相加的是()。

① $53 + 4$

② $41 + 53$


③ $50 + 24$

4 李叔叔今天送了50份外卖。

(1) 算式“ $21 + 9 = 30$ (份)”解决的问题：_____。



(2) 李叔叔下午送了多少份外卖？




我已经送了21份，上午还要再送9份。





新领程

5 (素养提升)  和  分别代表什么数？

 +  = 30

 +  +  = 40

 = ()

 = ()



关注“优翼丛书”小程序

更多优质好课等你来



更多教学资源，敬请关注 www.youyi100.com