



素养通关

综合素养通关(二)

一年级数学下册 (RJ 卓越版)

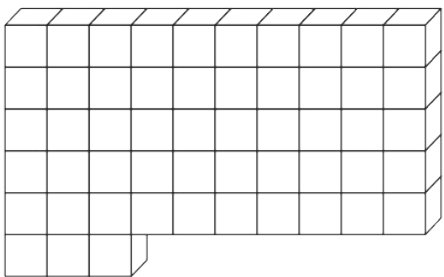


新领程同步作业课件

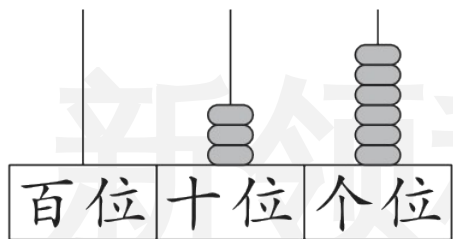
tián kòng chéng bǎo

第一关：填空城堡。(第6题2☆,第8题2☆,其余每空1☆,共20☆)

1. 看图写数。



()



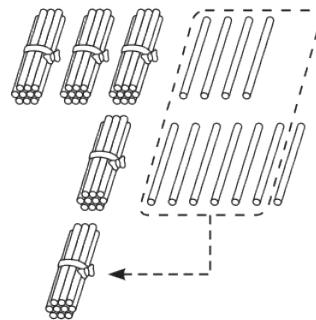
()

箭头指着多少?



()

2. 右边摆的小棒能表示算式()的计算过程。



3. 比54多9的数是(), ()比53少13。

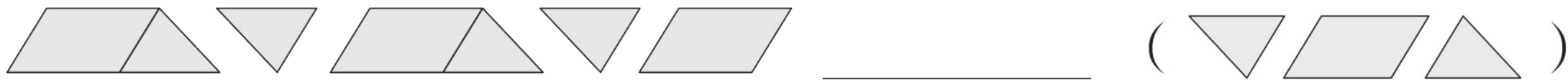
4. 在 \bigcirc 里填上“ $>$ ”“ $<$ ”或“ $=$ ”。

$$24 + 40 \bigcirc 28 \quad 83 - 30 \bigcirc 43 \quad 7 \text{元} 4 \text{角} + 6 \text{角} \bigcirc 8 \text{元}$$

$$9 + 37 \bigcirc 46 \quad 56 - 40 \bigcirc 52 \quad 5 \text{元} - 2 \text{元} 5 \text{角} \bigcirc 3 \text{元} 5 \text{角}$$

5. $63 - 3\square$, 要使差的十位上是 2, \square 里最小填(); $37 + 2\square$, 要使和的十位上是 6, \square 里最小填()。

6. 接下来应该摆什么？圈一圈。



7. 牛群有 16 头公牛，母牛比公牛多 25 头，母牛有()头，公牛和母牛一共有()头。

8. 作文比赛中，小乐获得 55 个 ，给小翼 18 个 ，此时两人的  同样多，小翼原来有()个 .

xuǎn zé mí gōng

第二关：选择迷宫。(填序号)(10☆)


1. 把  沿虚线剪开,得到的两个图形可以拼成()。


① 正方形


② 三角形

③ 圆

2. 13元钱正好可以买()和()。

①  5元

②  7元

③  8元

3. 观察右边的竖式,说法正确的是()。

①20 中的“2”表示 2 个一

②3 个“6”都表示 6 个一

③笔算加法时,先算个位,再算十位

$$\begin{array}{r} 20 \\ + 66 \\ \hline 86 \end{array}$$

4. 34 颗星星, 10 颗穿一串, 可以穿几串? 下面说法错误的是()。

① 34 里面有 3 个十和 4 个一, 所以可以穿 3 串

② $34 \xrightarrow{-10} 24 \xrightarrow{-10} 14 \xrightarrow{-10} 4$, 可以穿 3 串

③ $34 - 10 = 24$ (串), 可以穿 24 串

5. 水果糖有 32 颗, _____, 奶糖有多少颗? 小新列出的算式是 $32 + 8$, 他选择的条件是()。

- ① 奶糖比水果糖少 8 颗
- ② 奶糖再拿来 8 颗就和水果糖同样多
- ③ 奶糖比水果糖多 8 颗

jì suàn wáng guó

第三关：计算王国。(27☆)

1. 直接写出得数。(12☆)

$50 + 30 =$

$4 + 49 =$

$82 - 6 =$

$67 - 50 + 5 =$

$60 - 3 =$

$41 - 5 =$

$37 + 8 =$

$4 + 18 - 9 =$

$37 + 8 =$

$74 + 6 =$

$65 - 7 =$

$45 - 9 + 20 =$

2. 列竖式计算。(9☆)

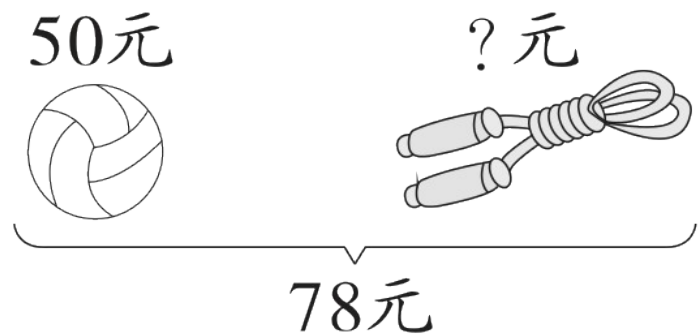
$27 + 53 =$

$90 - 64 =$

$81 - 18 =$

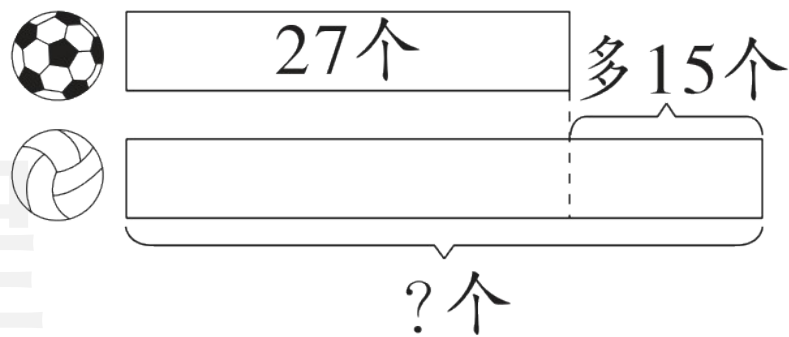
新 程

3. 看图列式计算。(6☆)



$$\square \bigcirc \square = \square \text{ ()}$$

新领程

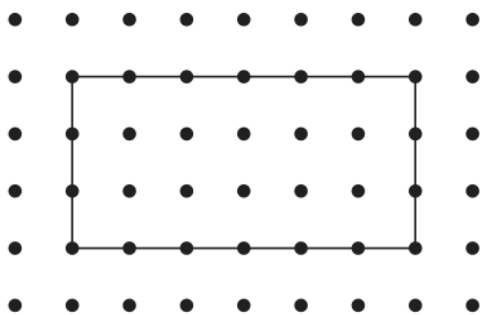


$$\square \bigcirc \square = \square \text{ ()}$$

dòng shǒu mì shì

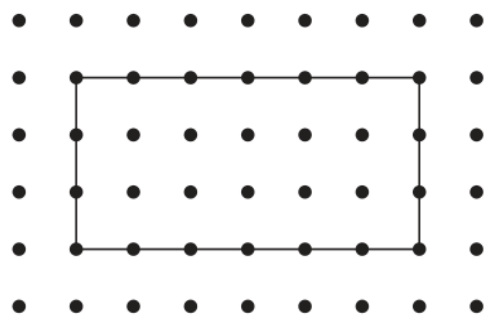
第四关：动手密室。(9☆)

按要求各画一条线。

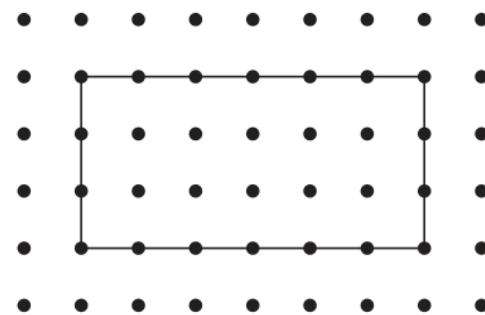


分成两个
三角形

亲



分成两个
正方形



分成两个
长方形

shēng huó lè yuán

第五关：生活乐园。(34☆)



1. 米塑(sù)是温州的一项非物质文化遗产。轩轩一共要做12个米塑大熊猫,还有6个没做,他已经做了多少个?(4☆)



2. 一家文创店上午卖出了 26 个冰箱贴, 下午卖出了 40 个冰箱贴。
今天一共卖出了多少个冰箱贴? 这家文创店还剩多少个冰箱贴?

(6☆)

新领程



原有92个冰箱贴

3. 小新、小翼和小程体验做青团。(9☆)



(1) 求小优做了多少个青团,列式为_____。

(4☆)

(2) 小程做了多少个青团?(5☆)

4. 商场进行促销活动, 满 80 元减 10 元。(15☆)



32元



49元



27元



25元

(1) 用 50 元买一双手套, 应该找回()元。(4☆)

(2) 张阿姨买了一个书包和一双鞋, 应付多少元?(5☆)

(3) 请你提出一个数学问题并解答。(6☆)

提问：

解答：



关注“优翼丛书”小程序

更多优质好课等你来



更多教学资源，敬请关注 www.youyi100.com