



素养通关

阶段素养通关

一年级数学下册（RJ卓越版）

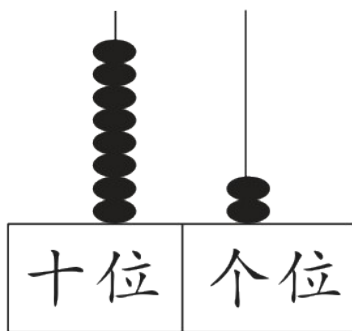


新领程同步作业课件

tián kòng chéng bǎo

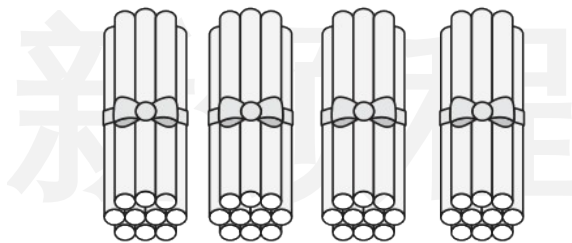
第一关：填空城堡。(第5题6☆,其余每空1☆,共25☆)

1. 看图写一写,读一读。



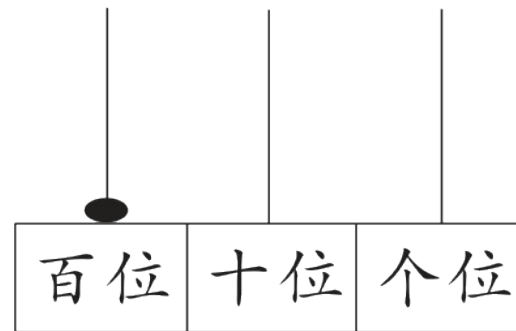
写作: _____

读作: _____



写作: _____

读作: _____



写作: _____

读作: _____

2. 86 里面有()个一和()个十。

3. 一个两位数,个位上是最大的一位数,十位上的数字是3,这个数是()。

4. 在 \bigcirc 里填上“>”“<”或“=”。

$$11 - 4 \bigcirc 5$$

$$12 - 7 \bigcirc 6$$

$$14 - 6 \bigcirc 13 - 5$$

$$50 + 8 \bigcirc 55$$

$$27 - 7 \bigcirc 20$$

$$12 - 5 \bigcirc 37 - 30$$

新领程

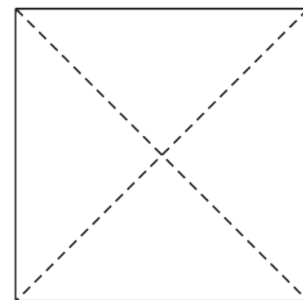
5. 找规律填数。

	43			40		
--	----	--	--	----	--	--

75					50	
----	--	--	--	--	----	--

6. 把一张正方形纸如右图沿虚线对折,对折后的图形

是(),像这样大小的图形右图中有()个。



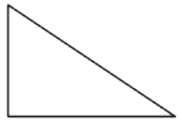
7. 用 5 个 ● 能摆出()个不同的两位数,

其中最接近 30 的数是()。

十位	个位

xuǎn zé mí gōng

第二关：选择迷宫。(填序号)(10☆)

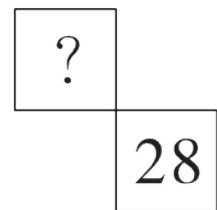
1. 用两个同样的 , 不可能拼成()。

① 长方形

② 正方形

③ 平行四边形

2. 右图是百数表的一部分, 28 左上角的数是()。

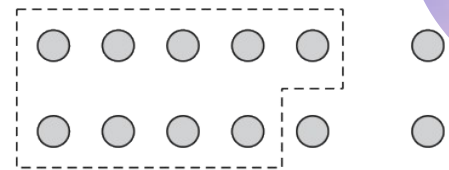


① 17

② 27

③ 38

3. 下面与右图表示的计算方法相同的是()。



① $12 - 9$
 $\begin{array}{r} 12 - 9 \\ \hline 10 \end{array}$
 (Diagram showing 12 minus 9 equals 10, with a 2 and 7 branching from 12, and an arrow pointing from 2 to 10)

② $12 - 9$
 $\begin{array}{r} 12 - 9 \\ \hline 10 \end{array}$
 (Diagram showing 12 minus 9 equals 10, with a 10 and 2 branching from 12, and an arrow pointing from 2 to 10)

③ $9 + 3 = 12$
 $12 - 9 = 3$

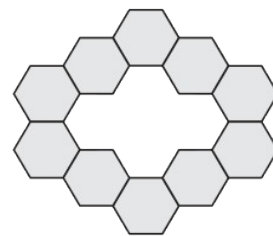
4. 小优回收了 41 节废电池, 比小新回收的少得多, 小新可能回收了 () 节废电池。

① 85

② 51

③ 8

5. 右图中间部分缺少()个 .



① 3

② 5

③ 4

jì suàn wáng guó

第三关：计算王国。(18☆)

1. 算一算。(12☆)

$13 - 8 =$

$11 - 6 =$

$40 + 9 =$

$85 - 80 =$

$7 + 70 =$

$5 + 60 =$

$30 + 40 =$

$28 - 8 =$

$16 - 9 =$

$80 - 50 =$

$62 - 2 =$

$14 - 7 =$

新领程

2. 在()里填上合适的数。(6☆)

$$4 + () = 14$$

$$() - 20 = 50$$

$$6 + () = 36$$

$$15 - () = 6$$

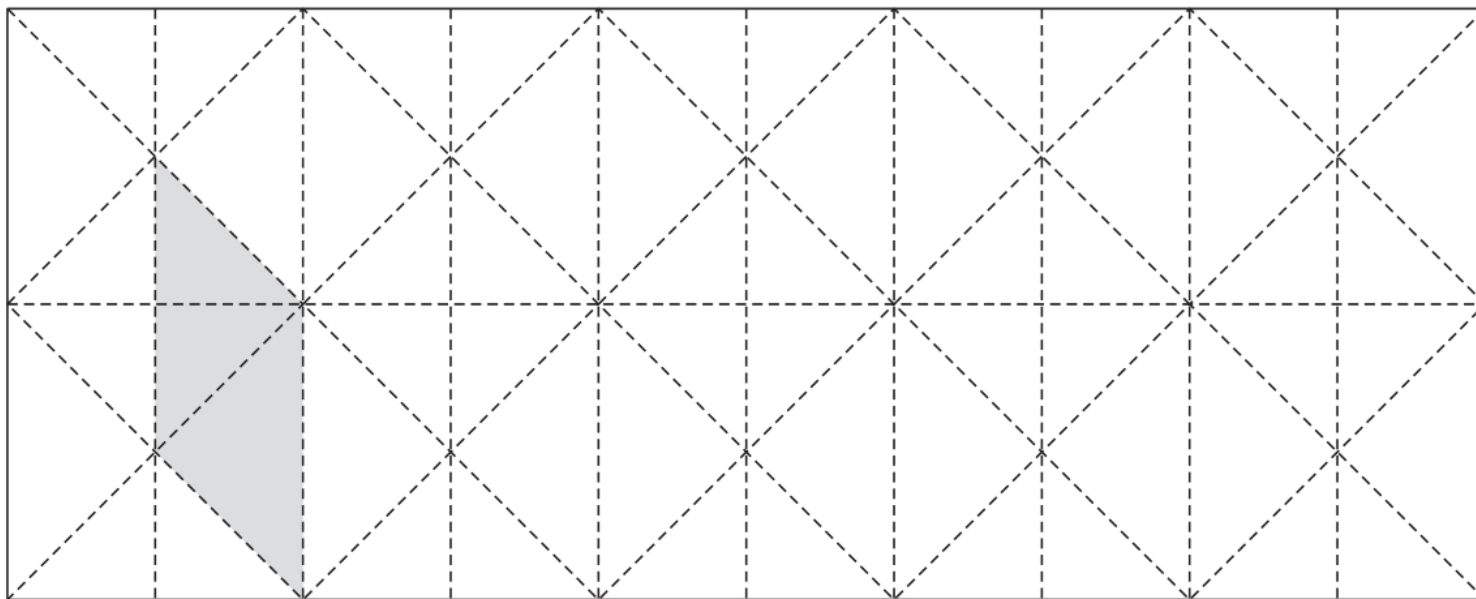
$$() + 9 = 18$$

$$50 + () = 57$$


dòng shǒu mì shì

第四关：动手密室。(15☆)

1. 照样子，找出长方形、正方形、三角形各一个，并涂上灰色。(6☆)



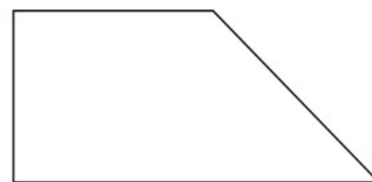
2. 请你给下列图形各加一条线,使每一个图形变成下面要求的图形。(6☆)



两个三角形




两个长方形



一个平行四边形
和一个三角形

3. 计算 $14 - 6 = ?$ 你是怎么想的? 画一画。(3☆)



shēng huó lè yuán

第五关：生活乐园。(32☆)

1. 浙江助农土特产直播间刚开播,就有 15 人观看,其中有 8 个是男性,有 7 个是大人。(8☆)

(1) 女性有几人?

$$\square \bigcirc \square = \square (\quad)$$


(2) 小孩有几人?

$$\square \bigcirc \square = \square (\quad)$$

2. 学校组织学生去绍兴天姥(mǔ)山乘缆车,欣赏山水风光。还有多少人没上缆车?(5☆)

$$\square \bigcirc \square = \square (\quad)$$

新领程



3. 选择正确的信息(填序号),并解答问题。(8☆)

(1) 体育组有 30 名男队员, _____, 体育组一共有多少名队员?


① 走了 10 名男同学

② 7 名女队员


③ 7 名教练

$$\square \bigcirc \square = \square \quad (\quad)$$


(2) 这些队员外出参加比赛,选哪辆车最合适? 在 里画“√”。



50座

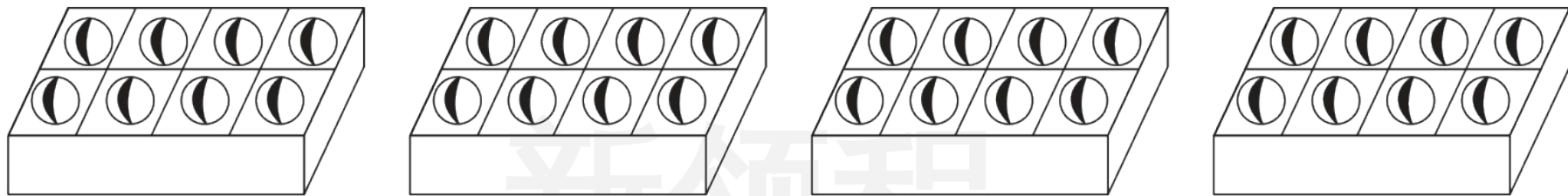


40座



30座

4. 8个①装一盒,正好装4盒。(5☆)



如果5个装一盒,可以装满()盒,还剩()个。(圈一圈)

5. 阅读下面信息,小优说得对吗?请计算说明。

勤劳的小优在洗盘子,已经洗了20个盘子,其中有3个汤盘,还有7个没洗。(6☆)

新领程

我一共要洗
30个盘子。





关注“优翼丛书”小程序

更多优质好课等你来



更多教学资源，敬请关注 www.youyi100.com