



第六单元 数量间的加减关系

第2课时 解决问题(2)

一年级数学下册 (RJ 卓越版)

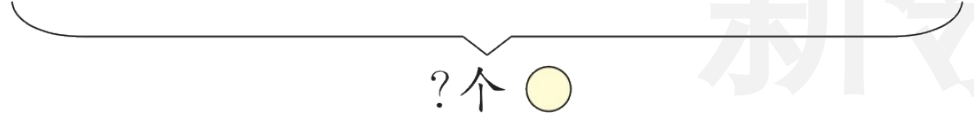


新领程同步作业课件

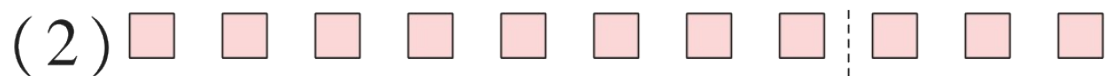
1 kàn tú tián yì tián
 看图填一填。



与△同样多，有()个。



列式： ○ = (个)




?个

少3个

列式： ○ = (个)

2 无人智能配送车已步入人们的生活。①号车配送
 le duō shao jiàn hào chē pèi sòng le duō shao jiàn
 了多少件？②号车配送了多少件？

我比③号车多配送13件



①号

我比③号车少配送18件。



②号

我配送了37件。



③号

3 jiā xīng zòng zi shì zhè jiāng jiā xīng de zhù míng tè chǎn
 嘉兴粽子是浙江嘉兴的著名特产。

小优包了25个嘉兴粽子，_____，小新包了多少个嘉兴粽子？

①小新比小优多包了12个 ②小优比小新多包了13个

(1) 选择信息①，列式解答： $\square \bigcirc \square = \square$ ()

(2) 选择信息②，列式解答： $\square \bigcirc \square = \square$ ()



4 shuǐ guǒ diàn kāi yè la
水果店开业啦！

水果店原有芒果(máng)果和火龙果同样多,又运回32箱芒果和一些火龙果,现在芒果比火龙果多7箱,水果店运回多少箱火龙果?

芒果比火龙果()。
(填“多”或“少”)
可以借助画图计算哦!



关注“优翼丛书”小程序

更多优质好课等你来



更多教学资源，敬请关注 www.youyi100.com