



素养通关

第二单元素养通关

一年级数学下册（RJ卓越版）



新领程同步作业课件

tián kòng chéng bǎo

第一关：填空城堡。(第5题8☆,第6题2☆,其余每空1☆,共35☆)

1. 计算 $15 - 9$ 时, 可以想 $9 + () = 15$, 得到 $15 - 9 = ()$; 也可以先算 $10 - () = ()$, 再算 $() + () = ()$ 。

2. 在 \bigcirc 里填上“ $>$ ”“ $<$ ”或“ $=$ ”。

$$14 - 9 \bigcirc 6$$

$$12 - 3 \bigcirc 8$$

$$6 + 7 \bigcirc 14 - 3$$

$$11 - 5 \bigcirc 6$$

$$17 - 9 \bigcirc 9$$

$$16 - 8 \bigcirc 8 - 2$$

3. 在括号里填上合适的数。

$3 + (\quad) = 12$

$11 - (\quad) = 5$

$9 + 4 = (\quad) - 3$





$15 - (\quad) = 7$

$13 - (\quad) = 6$

$14 - 7 < (\quad) - (\quad)$

新领程

4. 照样子,写一写。



5. 里最大能填几?

$$15 - 9 > \square$$

$$\square < 14 - 8$$

$$6 + \square < 12$$

$$\square - 7 < 9$$

6. 如果 $\triangle + 5 = 12$, $\bigcirc + \triangle = 16$, 那么 $\bigcirc = (\quad)$ 。

xuǎn zé mí gōng

第二关：选择迷宫。(填序号)(10☆)

1. 算式 $7 + 6 - 5$ 的得数和算式()的得数相等。

① $13 - 6$

② $14 - 6$

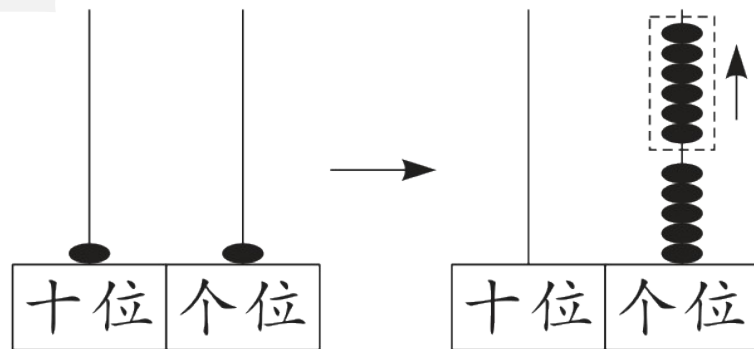
③ $15 - 6$

2. 下面计算“ $11 - 6$ ”的方法中,正确的有()个。

$6 + \boxed{5} = 11$

$11 - 6 = 5$

$11 - 6 = 5$
 $\begin{array}{c} \diagdown \quad \diagup \\ 1 \quad 5 \end{array}$



① 1

② 2

③ 3

3. $1\square - 5$ 是一个退位减法, \square 里最大可以填()。

① 9

② 6

③ 4

4. 李爷爷家养了 13 只鸡和 6 只鸭, 其中公鸡有 4 只, 母鸡有()只。

① 9

② 15

③ 2

5. 在下面相邻的 2 盆花之间再放 1 盆 , 一共能放()盆。



① 11

② 9

③ 10

jì suàn wáng guó

第三关：计算王国。(26☆)

1. 直接写出得数。(12☆)

$5 + 6 =$

$16 - 7 =$

$3 + 8 =$

$16 - 4 - 6 =$

$14 - 5 =$

$13 - 7 =$

$12 - 5 =$

$7 + 4 - 5 =$

$12 - 4 =$


$11 - 6 =$

$15 - 10 =$

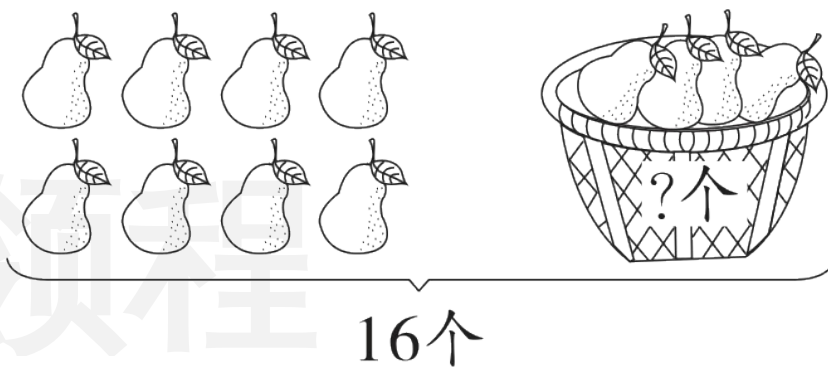
$15 + 2 - 10 =$

新领程

2. 看图列式计算。(6☆)



$$12 - \square = \square$$



$$\square - \square = \square \text{ ()}$$

3. 在 8、12、6、4、14 中选出三个数, 写出两道加法算式和两道减法算式。(8☆)

$$\square \bigcirc \square = \square$$

$$\square \bigcirc \square = \square$$

$$\square \bigcirc \square = \square$$

$$\square \bigcirc \square = \square$$

shēng huó lè yuán

第四关：生活乐园。(29☆)

1. “数学趣乐园”比赛中，小优和小新两人一共抢到了14道题目，

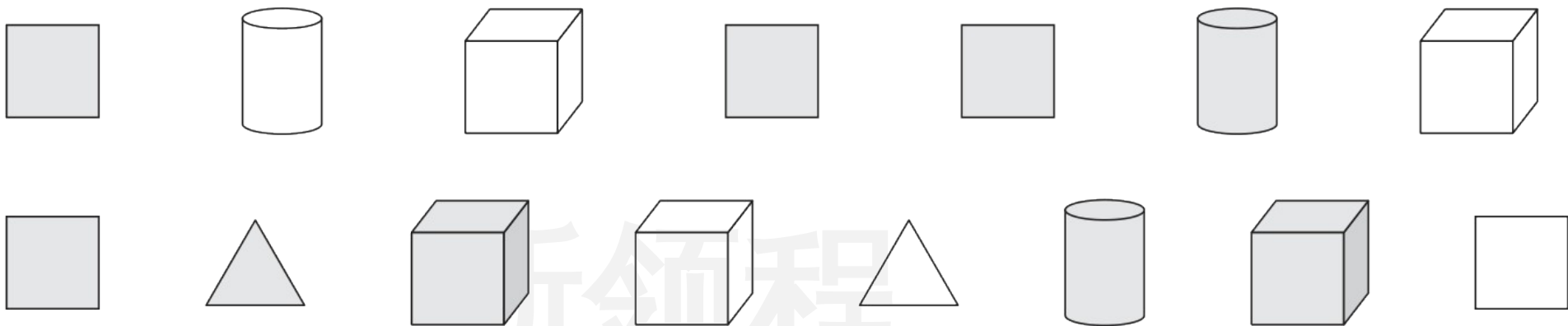
小优抢到了多少道题目？(4☆)

$$\square \bigcirc \square = \square (\quad)$$

我抢到了8道题目，
答对了6道。



2. 一共有 15 个图形。(9☆)



(1) 白色图形有 6 个, 灰色图形有几个? (4☆)

$$\square \bigcirc \square = \square (\quad)$$

(2) 算式“ $15 - 8$ ”要解决的问题是()。(5☆)

- ① 正方体有多少个 ② 平面图形有多少个
- ③ 第二排有多少个图形

新领程

3. 一(1)班推行“做好事,得爱心”活动,得到的爱心可以兑换礼品。

小优和小新都得了 13 颗爱心。(10☆)



小新

我用掉了7颗爱心。

我还有6颗爱心。



小优

(1) 小新还有几颗爱心?

$$\square \bigcirc \square = \square (\quad)$$

(2) 小优用掉了几颗爱心?

$$\square \bigcirc \square = \square (\quad)$$

4. 鱼饼是温州特色小吃,某店炸好了 12 个鱼饼,_____ (填序号),

店里现在有多少个鱼饼? (6☆)

① 卖出了 6 个鱼饼

② 又炸了 6 个鱼饼

③ 小新买走 5 个鱼饼

④ 今天一共炸了 14 个鱼饼

列式计算: _____

sù yǎng tí shēng zuò duì le jiǎng lì 。
 素养提升。(做对了，奖励10☆哦！)

在空格里填数，使每一横行、竖行、斜行三个数相加的结果都等于15。

4		2
3	5	



关注“优翼丛书”小程序

更多优质好课等你来



更多教学资源，敬请关注 www.youyi100.com