



# 第三单元 100 以内数的认识



一年级数学下册 (RJ)



# 第7课时 整十数加整十数及相应的减法



1. 【温故知新】 cóng 从 3、7、10、11 zhōng xuǎn 中 选 3 gè shù xiě chū liǎng 个数 写出 两

dào jiā fǎ suàn shì hé liǎng dào jiǎn fǎ suàn shì  
道 加 法 算 式 和 两 道 减 法 算 式 。

$$\square + \square = \square$$

$$\square - \square = \square$$

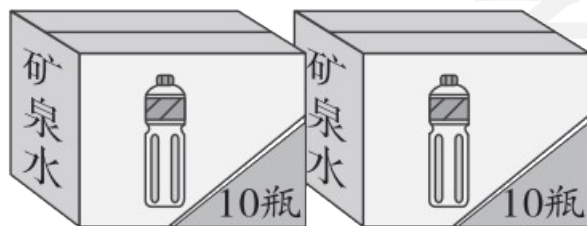
$$\square + \square = \square$$

$$\square - \square = \square$$

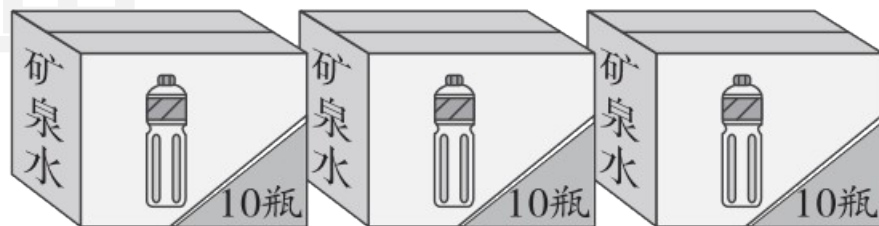
qù jiāo yóu

## 2. 【趣味探究】去郊游。

(1) 一共有多少瓶矿泉水？



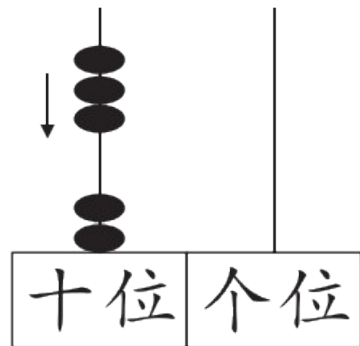
$$20 + 30 = \boxed{?}$$



$$30 + 20 = \boxed{?}$$



在计数器上  
拨一拨。



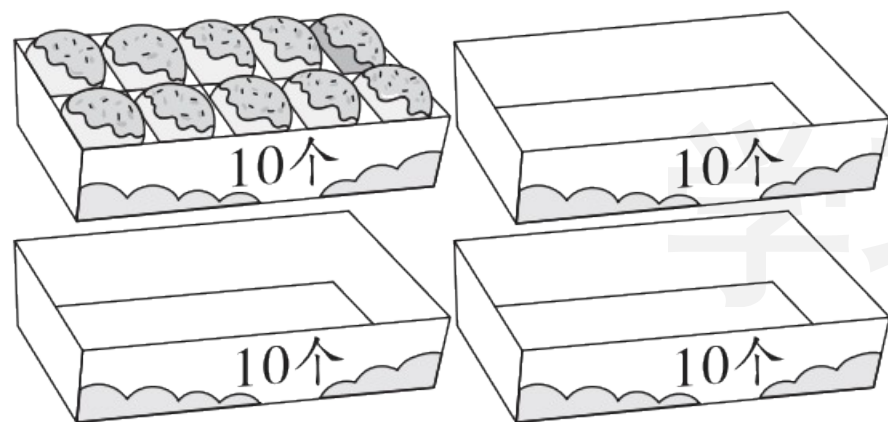
2个十加3个十得  
( )个十，  
就是( )。

$20 + 30 = \square$        $30 + 20 = \square$

根据上面的结果,填一填。

$50 - 20 = \square$        $50 - 30 = \square$

(2) 还剩多少个面包?



有40个面包，  
吃了30个。

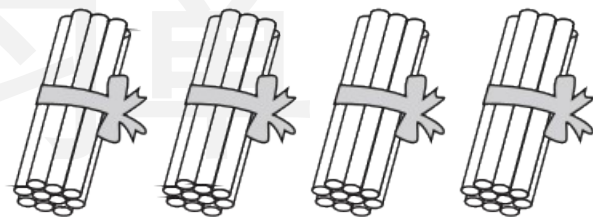
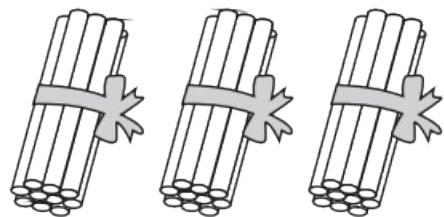


$$40 - 30 = \square$$

 巩固单

kàn tú xiě suàn shì

1. 看图写算式。 [★]



$$\square + \square = \square$$

$$\square - \square = \square$$

$$\square + \square = \square$$

$$\square - \square = \square$$

wǒ huì suàn

2. 我会算。 [ ★ ★ ]

$30 + 30 =$

$70 - 50 =$

$60 - 30 =$

$20 + 20 + 50 =$

$20 + 50 =$

$80 - 40 =$

$40 - 30 =$

$90 - 40 - 30 =$

shū huà zhǎn

### 3. 书画展。 [ ★ ★ ]



(1) 书法作品和儿童画一共有多少幅?

$$\square + \square = \square \text{ (幅)}$$

(2) 拿走 10 幅书法作品, 还剩多少幅书法作品?

$$\square - \square = \square \text{ (幅)}$$





关注“优翼丛书”小程序

更多优质好课等你来



更多教学资源，敬请关注 [www.youyi100.com](http://www.youyi100.com)