



素养通关

第五单元素养通关

一年级数学下册（RJ卓越版）



新领程同步作业课件

tián kòng chéng bǎo

第一关：填空城堡。(每空1☆，共21☆)

1. 计算“ $45 + 28$ ”时，先算 $5 + 8 = (\quad)$ ，再算 $40 + 20 = (\quad)$ ，最后算 $(\quad) + (\quad) = (\quad)$ 。

2. 计算“ $52 - 25$ ”时，个位上2减5不够减，从十位退1，个位上要算 (\quad) 减5。

3. 在 \bigcirc 里填上“ $>$ ”“ $<$ ”或“ $=$ ”。

$$6 + 36 \bigcirc 60 + 36 \quad 56 + 31 \bigcirc 99 - 56 \quad 54 + 6 \bigcirc 54 + 8$$

4. 在 \square 里填上合适的数字。

$$45 + 35 = \square 0$$

$$62 - 26 = \square 6$$

$$34 + 54 = \square 8$$

5. $26 + 2\square$, 要使和的十位上是 5, \square 里最小填 ();

$58 - 3\square$, 要使差的十位上是 2, \square 里最大填 ()。

6. 观察右边的竖式, 我知道 $\diamond + \star = (\quad)$;

如果 $\diamond = 7$, 那么 $\star = (\quad)$ 。

$$\begin{array}{r} 3 \diamond \\ + 4 \star \\ \hline 8 0 \end{array}$$

7. 世界遗产包括世界文化遗产(包含文化景观)、世界自然遗产、世界文化与自然双重遗产三类。下面是我国世界遗产数量情况(截至2024年8月)。填一填。

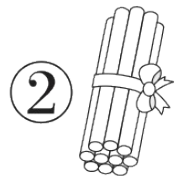

世界文化遗产	世界自然遗产	世界文化与自然双重遗产	总计
40 项	() 项	4 项	59 项

8. 把 26、27、29、30 填入 中, 使等式成立。

$$\square + \square - \square = \square$$

第二关：选择迷宫。(填序号)(10☆)

1. 右面竖式中的1用图()表示最合适。



$$\begin{array}{r} 35 \\ + 27 \\ \hline 62 \end{array}$$

2. 在 $\square + 36 > 43$ 中, \square 里最小能填()。

① 7

② 8

③ 9

3. 下面用四个不同的数字5、4、○、△组成的竖式中, 与图框中竖式的结果相等的是()。

$$\begin{array}{r} \bigcirc 5 \\ + 4 \triangle \\ \hline \end{array}$$

①
$$\begin{array}{r} \bigcirc 4 \\ + 5 \triangle \\ \hline \end{array}$$

②
$$\begin{array}{r} 4 5 \\ + \bigcirc \triangle \\ \hline \end{array}$$

③
$$\begin{array}{r} \bigcirc 5 \\ + \triangle 4 \\ \hline \end{array}$$

4. 给 60 个小朋友买皮球, 每个小朋友一个, 选()最合适。

① 甲箱和乙箱

② 甲箱和丙箱

③ 乙箱和丙箱

甲箱	乙箱	丙箱
35 个	23 个	38 个

5. 欢欢在计算 $42 - 17$ 时, 错算成了 $42 - 7$ 。下面选项()可以帮助她得到正确的答案。

① 再加 7

② 再加 10

③ 再减 10

jì suàn wáng guó

第三关：计 算 王 国。(38☆)

1. 直接写出得数。(12☆)

$36 + 23 =$

$37 + 8 =$

$90 - 9 =$

$57 + 4 - 60 =$

$40 + 25 =$

$36 + 24 =$

$30 + 69 =$

$44 + 6 - 30 =$

$60 - 5 =$

$77 - 66 =$

$41 - 5 =$

$97 - 6 - 31 =$

2. 列竖式计算。(18☆)

$9 + 55 =$

$52 + 38 =$

$82 - 55 =$

列竖式

$80 - 8 =$

$36 + 47 =$

$90 - 35 =$

3. 小蜜蜂会停在哪儿朵花上？连一连。(8☆)

$8+37$

$80-16$

$47-29$

$35+46$

$25+39$

$64-19$

$58+23$

$90-72$

新领程

shēng huó lè yuán

第四关：生活乐园。(31☆)

1. 有 36 个小朋友，给每个小朋友分一个面包，还差多少个面包？(4☆)

$$\square \bigcirc \square = \square (\quad)$$

新领程



2. 一辆车最多可以装 60 筐, 这辆车一次能运完吗? (5☆)

能


不能

(画√)

新领程



共36筐



共37筐

3. 元宵节,猜灯谜。(9☆)



(1) 小新和小优一共猜对了多少个?(4☆)

(2) 小乐再猜对多少个就和小优同样多?(5☆)

4. 阅读下面材料并解决问题。(13☆)

你知道各种动物的牙齿颗数吗？大象有6颗牙齿，狗有42颗牙齿，猫有30颗牙齿，兔子有28颗牙齿。

- (1) 大象和兔子一共有多少颗牙齿？(4☆)
- (2) 狗和兔子一共有多少颗牙齿？(4☆)
- (3) 请你尝试提出其他数学问题并解答。(5☆)

sù yǎng tí shēng

素养提升。

zuò duì le jiǎng lì

(做对了，奖励 10 ☆ 哦！)

$$\begin{array}{r} \square 2 \\ + \quad \square \\ \hline 7 8 \end{array}$$

$$\begin{array}{r} \square 4 \\ + 5 \square \\ \hline 9 2 \end{array}$$

$$\begin{array}{r} 4 \square \\ - \square 1 \\ \hline 2 9 \end{array}$$

$$\begin{array}{r} \square 7 \\ + 6 \square \\ \hline \square 0 \end{array}$$



关注“优翼丛书”小程序

更多优质好课等你来



更多教学资源，敬请关注 www.youyi100.com