



素养通关

综合素养通关(一)

一年级数学下册 (RJ 卓越版)




新领程同步作业课件

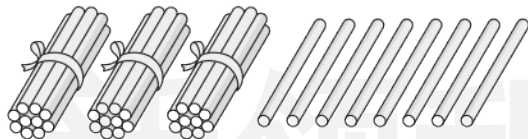
tián kòng chéng bǎo

第一关：填空城堡。(每空1☆,共30☆)

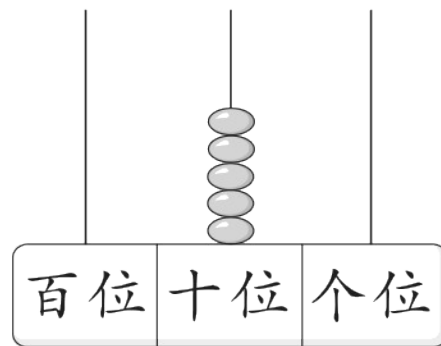
1. 看图写数。



()



()



()

2. 45 是由()个十()个一组成的,读作()。

3. 个位上是 8,十位上是 5,这个数是(),再加 2 就是()个十。

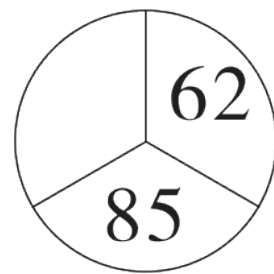

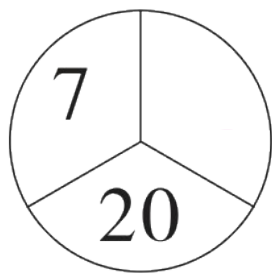

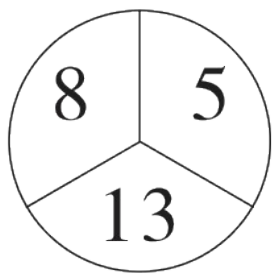
4.  这个图形可能是()形,也可能是()形。

5. 一个两位数的个位和十位都是8,这个两位数是(),与它相邻的2个数是()和()。

6. 找规律填一填。

(1) 54 48 42 () () 24 ()

(2)



7. 服装店原来有 15 件 , 又购进 20 件。现在有()件 .

8. 在 里填上“>”“<”或“=”。

$49 - 5$ 45

$47 - 20$ 25

76 $66 + 6$

$56 + 30$ 96

$86 - 40$ 46

85 $90 - 8$

9. 6 颗纽扣钉一件衣服, 26 颗纽扣可以钉() 件衣服, 还剩() 颗纽扣。

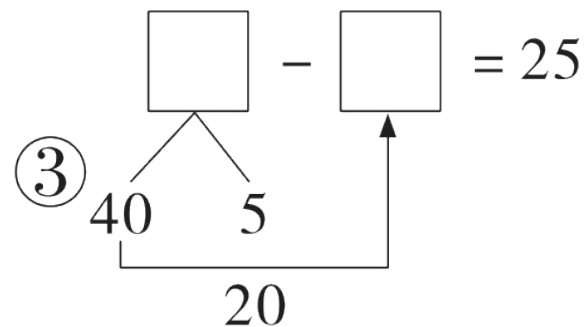
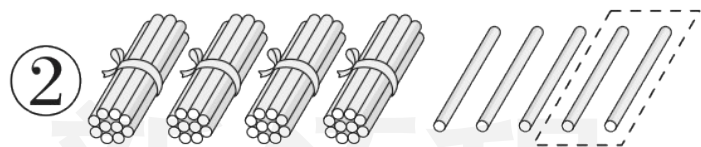
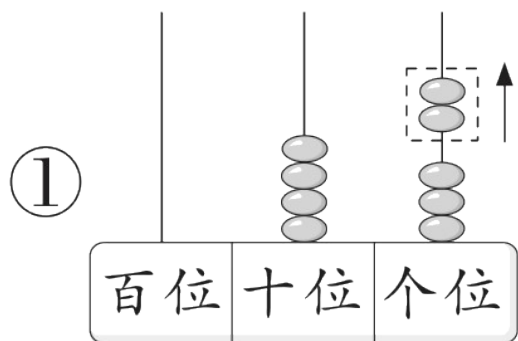
10. 右图是小明在新华书店的购物小票, 其中有几处磨损。根据信息, 可以算出一本《成语新编》() 元, 一本《童话故事》() 元。

购物小票	
《成语新编》	30元
《童话故事》	7元
付款:	90元
找零:	34元

xuǎn zé mí gōng

第二关：选择迷宫。(填序号)(10☆)

1. 下面可以表示“ $45 - 20$ ”的是()。



2. 呱呱可能抓了()只害虫。



咕咕

我抓了24只害虫。

我抓的比你多得多。



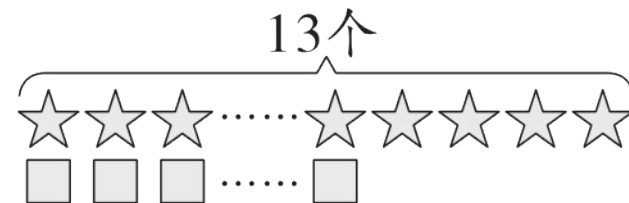
呱呱

① 10

② 28

③ 52

3. 结合右图, $13 - 4 = 9$ 中的“4”表示()。




① ☆比□多的个数

② □比☆多的个数

③ □的个数

4. 淘淘套中了两个玩具, 得了 32 分, 淘淘套中的玩具是()。



① 青蛙和松鼠

② 狗和大熊猫

③ 青蛙和大熊猫

5. 小芳摘了 45 个草莓,小强摘了 40 个。小强至少再摘()个,才能超过小芳。

① 6

② 5

③ 4

新领程

jì suàn wáng guó

第三关：计算王国。(21☆)

1. 直接写出得数。(12☆)

$24 + 35 =$

$47 - 8 =$

$80 - 19 =$

$76 + 14 - 30 =$

$45 + 30 =$

$36 - 16 =$

$24 + 9 =$

$35 - 5 - 15 =$

$76 - 25 =$

$44 + 8 =$

$75 - 18 =$

$78 - 18 + 7 =$

2. 列竖式计算。(9☆)

$$76 - 62 =$$

$$53 + 28 =$$

$$86 - 68 =$$

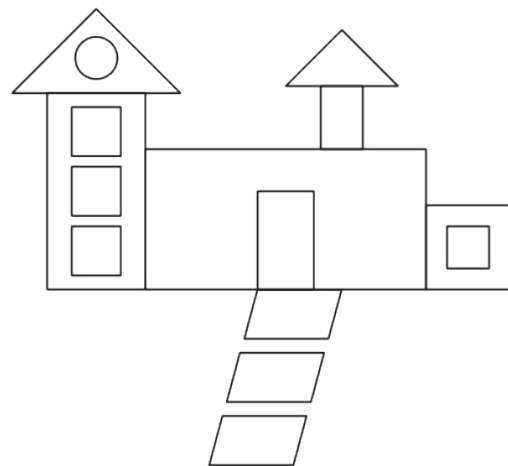
新课程

dòng shǒu mì shì

第四关：动手密室。(5☆)

如图是小阳画的“我心目中的家”，数一数，填空。

1. 有()个长方形，()个正方形，
()个平行四边形。
2. 长方形比圆多()个；三角形比正方形少()个。




shēng huó lè yuán

第五关：生活乐园。(34☆)

1. 图书角还剩多少本书？(5☆)

图书角一共有82本书，其中有20本《科技画报》。



借走了5本书。

新领程

2. 宁波汤圆是浙江宁波传统特色小吃之一。如果7个可以装满一碗，30个汤圆最多可以装满几碗？(5☆)



3. 请选择正确的数学信息(填序号),并列式计算。(5☆)

一(1)班有 16 个乒乓球,(),借出了多少个乒乓球?

①有 10 个篮球

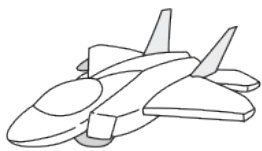
②借出一些后还剩 7 个

③借出了 8 个


$$\square \bigcirc \square = \square (\quad)$$

4. 温州乐清黄杨木雕是中国传统雕刻艺术之一。上午学习雕刻技术的有 25 人,下午学习的比上午多 18 人,下午学习雕刻技术的有多少人? 这一天学习雕刻技术的一共有多少人?(5☆)

5. 文汇商店年末大促销：满 50 元减 10 元。(14☆)



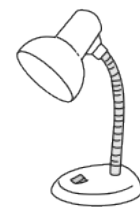
19元



27元



26元



18元

(1) 王老师买一架玩具飞机和一个足球要花多少钱？(4☆)

(2) 王老师买一本《丑小鸭》和一个足球,能节省 10 元吗? 为什么? (5☆)

新领程

(3) 请你再提一个数学问题并解答。(5☆)

提问: _____

解答: _____



关注“优翼丛书”小程序

更多优质好课等你来



更多教学资源，敬请关注 www.youyi100.com