



赵县第一学期期末教学质量检测试卷

四年级数学

题号	一	二	三	四	五	六	七	总分
得分								

一、我能填对。(每空1分,共19分)

- 一个十位数,最高位上是7,百万位和百位上都是5,其他各数位上都是0,这个数写作(),读作(),这个数最高位是()位。省略亿后面的尾数约是()亿。
- 400×30 的积是()位数,积的末尾有()个0。
- 65的28倍是(),288是72的()倍。
- 一只猎狗奔跑的速度可达每小时35千米,可写作(/时)。
- () \times 时间 = 路程
- 北京“鸟巢”的占地面积约为20公顷,()个“鸟巢”的占地面积约为1平方千米。
- 一个角是89度,它是()角,一个平角等于()个直角,一个周角等于()平角,一个周角等于()直角。
- 两个数的商是24,如果被除数不变,除数缩小4倍,则商是()。
- 在 $A \div 15 = 14 \dots B$ 中,余数B最大是(),这时被除数A是()。
- 一只平底锅上只能煎两条鱼,用它煎一条鱼需要4分钟(正反面各2分钟),那么,煎三条鱼至少需要()分钟。

二、火眼金睛辨对错。(每题2分,计10分)

- 角的大小和两边的长短无关,跟两边叉开的大小有关。()
- 在数位顺序表中,任何两个计数单位之间的进率都是10。()
- 由六百万和六百组成的数是6000600。()
- 如果被除数扩大7倍,要使商不变,除数应缩小7倍。()
- 钝角一定比直角大,比直角大的角一定是钝角。()

三、我会选。(把正确答案的序号填在括号里)(每题2分,计12分)

- 把59296500省略“万”后面的尾数约是()。
 - 5930
 - 5929万
 - 5930万
- 估一估,下面算式中的商最接近9的是()。
 - $434 \div 51$
 - $632 \div 71$
 - $520 \div 60$
- 把平角分成两个角,其中一个角是钝角,另一个是()。
 - 钝角
 - 锐角
 - 直角
- 下列哪一句话是错误的()。
 - 平行线延长也可能相交
 - 梯形有无数条高
 - 平行四边形两组对边分别平行
- 一条()长20厘米。
 - 直线
 - 射线
 - 线段
- 过直线外一点画已知直线的垂线,可以画()条。
 - 一
 - 两
 - 无数

四、我的计算最认真。(计27分)

1. 直接写得数。(每题1分,计9分)

$600 \times 80 =$	$24 \times 300 =$	$960 \div 60 =$
$0 \div 32 =$	$540 \div 6 =$	$18 \times 50 =$
$695 \times 71 \approx$	$6294 \div 71 \approx$	$479 \div 81 \approx$

2. 列竖式计算。(每题2分,计12分)

$140 \times 45 =$	$208 \times 35 =$	$240 \times 38 =$
-------------------	-------------------	-------------------

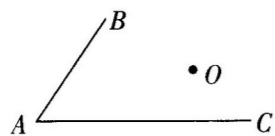
$782 \div 78 =$	$7200 \div 600 =$	$485 \div 64 =$
-----------------	-------------------	-----------------

3. 脱式计算。(每题3分,计6分)

$224 \div 56 + 256$	$203 \times (86 - 16)$
---------------------	------------------------

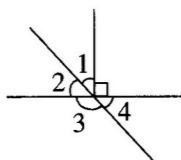
五、画一画,算一算。(每题 2 分,共 8 分)

1. 过 O 点画射线 AB 的平行线。再过 O 点画射线 AC 的垂线。




2. 用量角器画一个 105° 的角。

3. 已知 $\angle 1 = 43^\circ$, $\angle 2 = (\quad)$, $\angle 3 = (\quad)$ 。



4. 画出平行四边形底边上的高。



六、解决问题我最棒。(每题 4 分,共 16 分)

1. 水果店李大伯带 2000 元钱去批发市场买苹果,买了 25 箱,还剩 150 元。每箱苹果的批发价是多少元?

2. 学校四年级男、女生人数相同,他们要参加体育会操表演,男生每排 30 人,排了 14 排。女生每排 35 人,可以排几排?

3. 陈老师去体育用品店买了 12 个篮球,每个篮球的价钱是 63 元,又买了 8 个排球用去 240 元,陈老师一共用了多少元钱?

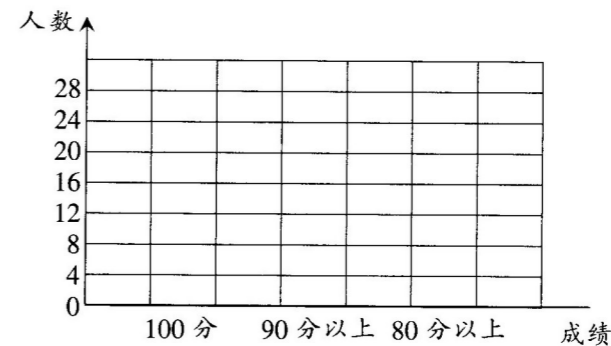
4. 妈妈下班回家做饭,淘米要 3 分钟,煮饭要 30 分钟,洗菜要 8 分钟,切菜要 5 分钟,炒菜要 10 分钟。如果煮饭和炒菜要用不同的锅和炉子,妈妈要将饭菜都做好,最少要用多长时间?

七、统计图。(8 分)

下面是四年级甲班期中考试成绩统计表:

成绩	100 分	90 分以上	80 分以上
人数	10	26	8

请你把上面的数据在下图用条形统计图表示出来。



1. 图上每格分别代表几人?

2. 哪个分数段上人数最多?

3. 看到四年级甲班的成绩,你有何想法? 写出来。