

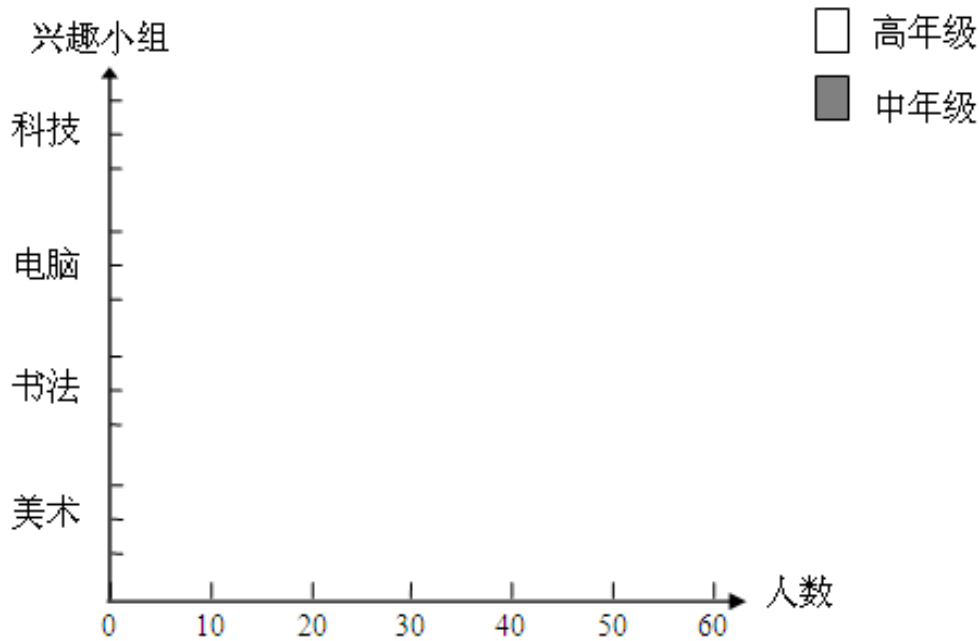
## 习题精选

### 一、四年级同学喜欢的运动项目如下表

项目 \ 人数 \ 年级	美术	书法	电脑	科技
中年级	40	22	50	25
高年级	18	40	32	45

完成下面的统计图，并回答问题：

中高年级学生参加兴趣小组情况统计图

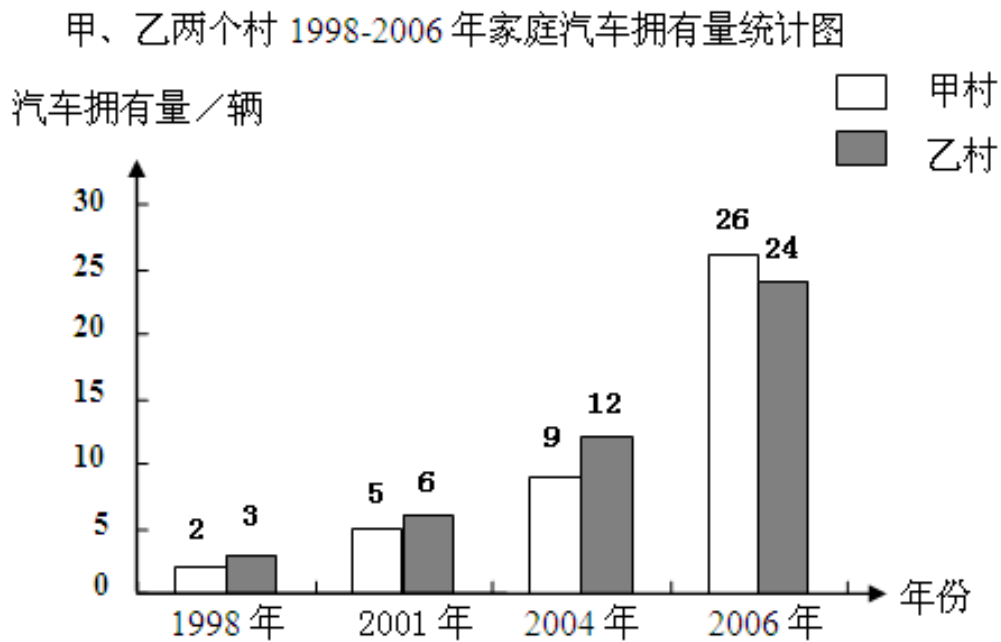


1、哪个兴趣小组的人数最多？哪个兴趣小组的人数最少？

2、中年级学生比较喜欢什么兴趣小组？高年级呢？

### 3、你还能提出什么数学问题？

二、甲、乙两个村 1998-2006 年家庭汽车拥有量如下图：



1、2004 年乙村家庭汽车拥有量是 1998 年的几倍？

2、2004年甲村家庭汽车拥有量是1998年的几倍？

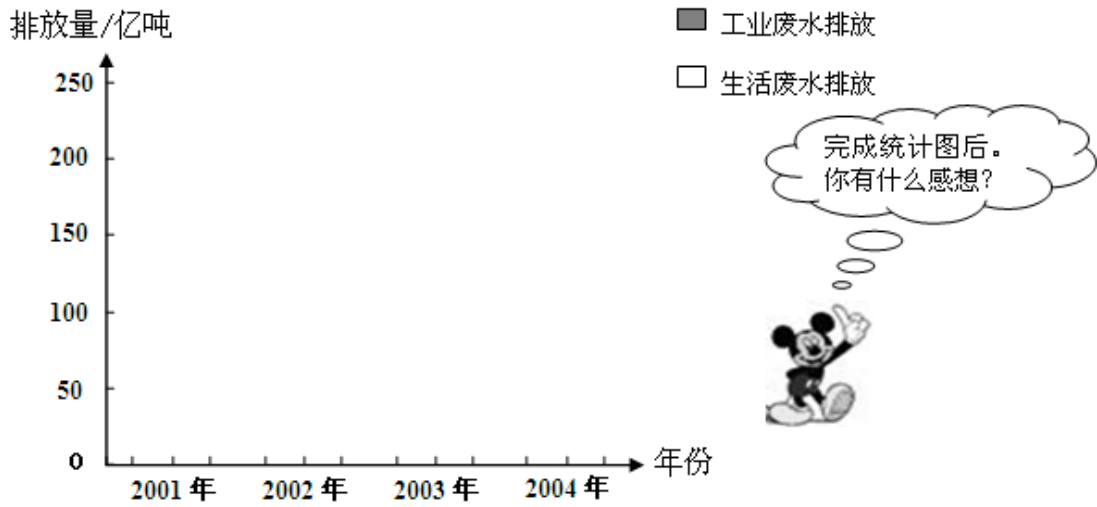
3、你还能得到什么信息？有什么感受？

三、下面是我国2001年-2004年废水排放量的统计表

排放量/亿吨 项目 \ 年份	2001年	2002年	2003年	2004年
工业废水排放	227	201	203	221
生活废水排放	189	195	197	194

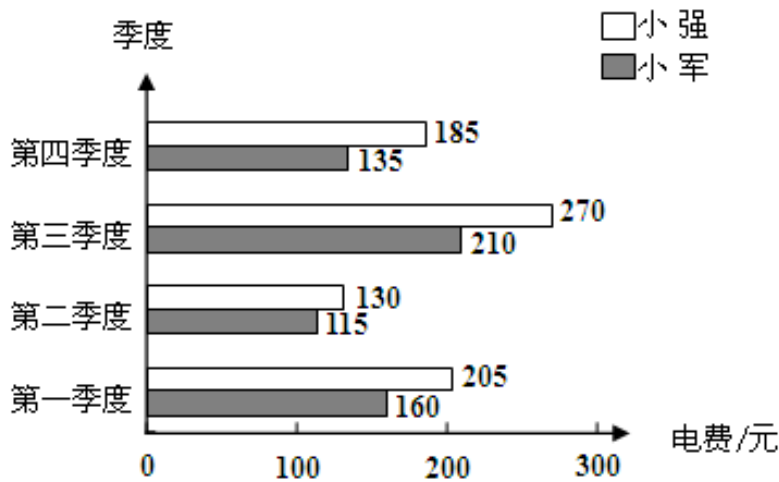
请你根据表中的数据完成下面统计图：

我国 2001-2004 年废水排放量统计图



四、小强家和小军家 2006 年各季度电费情况如下图：

小军、小强家 2006 年各季度电费情况统

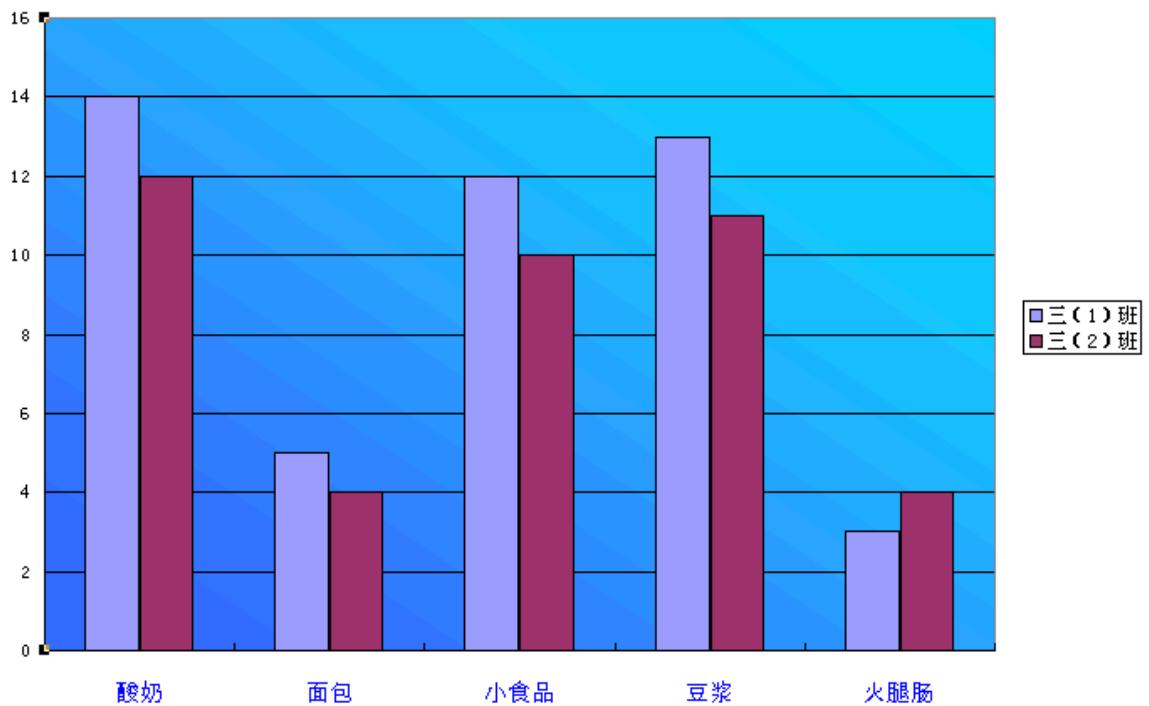


- 1、小强家第 ( ) 季度电费最多，是 ( ) 元。
  - 2、小军家第 ( ) 季度电费最少，是 ( ) 元。
  - 3、小军家全年电费 ( ) 元，小强家全年电费 ( ) 元。
- 小强家比小军家电费多 ( ) 元。

4、全年两家电费一共是（ ）元。

### 五、某校三年级学生对课间加餐喜爱程度统计图

2000年9月



(1) 根据这个统计图，你能提出哪些问题？


(2) 看了这个统计图，你从中了解到什么信息？

(3) 知道了这些信息后，你有哪些建议？

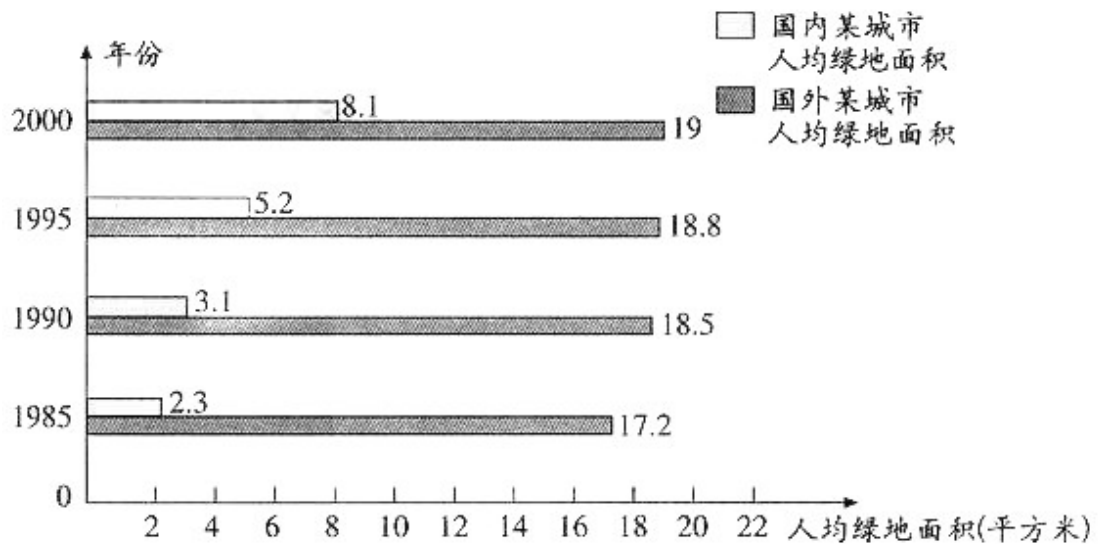
六、幸福小学四年级有 3 个班，喜欢吃的水果的情况如下面的统计表。

水果	桔子	西瓜	香蕉	梨	苹果
男生	13	10	8	5	18
女生	5	11	12	15	4

你能根据这个统计表完成下面的统计图吗？根据表和图列出数据的情况可以提出哪些问题？



七、我国国内某城市和国外某城市人均绿地面积情况如下图。



(1) 你得到哪些信息？

(2) 你还能提出什么数学问题？

