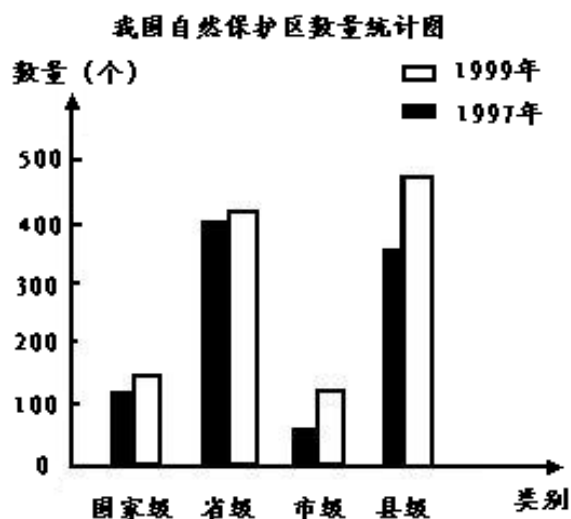


## 习题精选

一、我国 1997、1999 年自然保护区的数量如下表。

类别 年份	国家级	省级	市级	县级
<b>1997</b>	<b>124</b>	<b>392</b>	<b>84</b>	<b>326</b>
<b>1999</b>	<b>155</b>	<b>404</b>	<b>138</b>	<b>449</b>

请根据表中的数据完成下面的复式条形统计图，回答下面的问题。



(1) **1997** 年我国哪类自然保护区最多？**1999** 年哪类最多？

(2) **1999** 年我国各类保护区均比 **1997** 年( )。

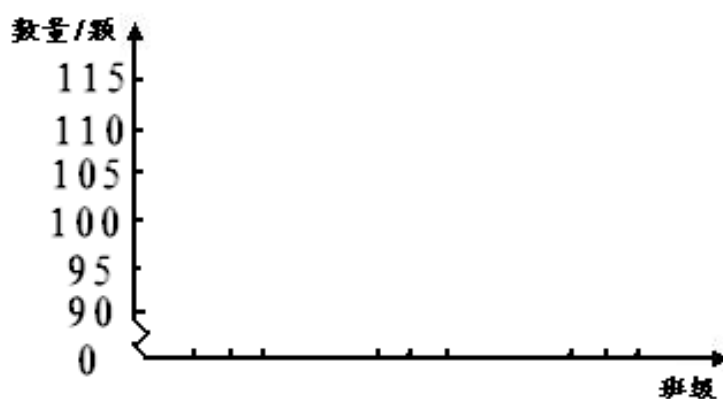
(3) 从统计图中你还能得到哪些信息？

二、下面是育才小学 3 个年级春季植树情况的统计表。

班级 月份	四年级	五年级	六年级
3月	95	100	105
4月	105	110	110

请根据上表完成下面的统计图，并回答下面的问题。

育才小学春季植树情况统计图



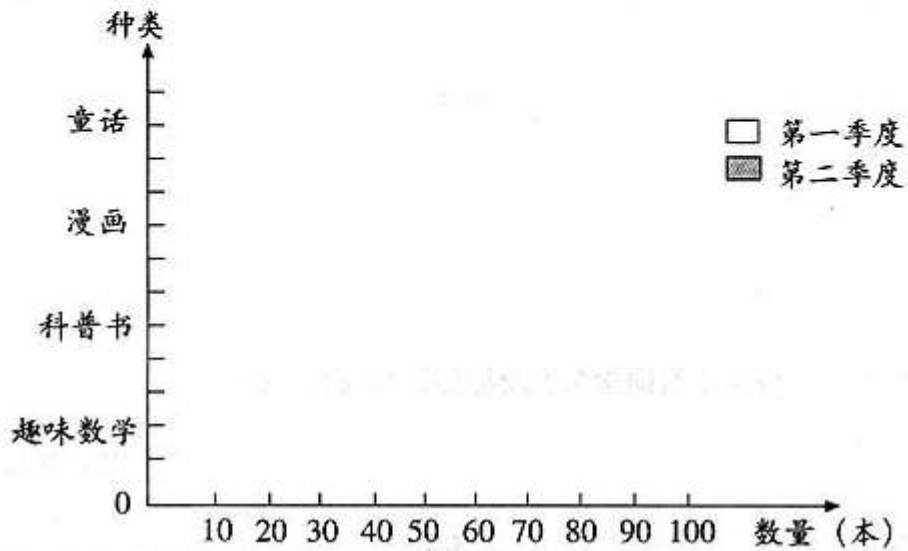
2 哪个年级春季植树最多？

(2) 3月份3个年级共植树( )棵,4月份比3月份多植树( )棵。

3 你还能提出哪些数学问题？

三、某书店第一、二季度各类图书销售情况如下表，请根据此表完成下面的统计图。

数量(本) \ 种类 \ 季度	童话	漫画	科普书	趣味数学
第一季度	45	95	70	73
第二季度	30	79	83	86

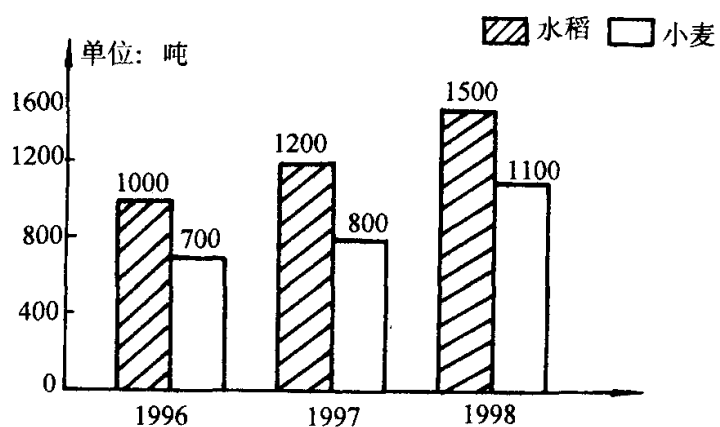


(1) 每种书的销售量呈现什么变化趋势？

(2) 如果书店要增添一些书，你有什么好建议？

四、下面是新华村 1996~1998 年水稻、小麦产量的统计图。

新华村水稻、小麦产量统计图（1996 年~1998 年） 1999 年 1 月制



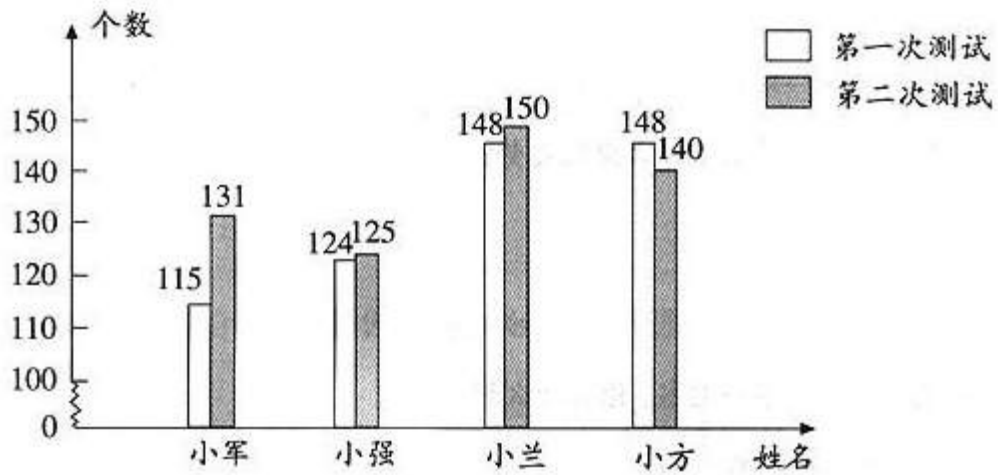
根据上图的数据填写下表

新华村粮食产量统计表 年 月

产 量 ( 吨 ) 项 目	年 份  <b>1996</b>	<b>1997</b>	<b>1998</b>
<b>合计</b>			

水稻			
小麦			

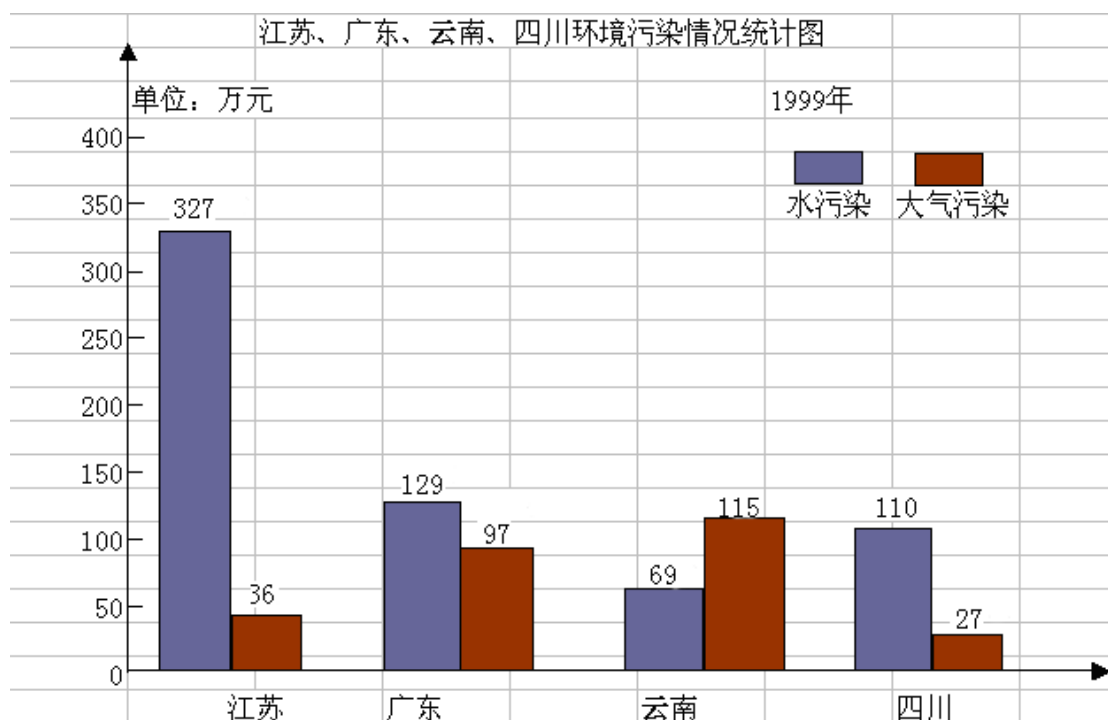
五、四年级（1）班某小组同学两次跳绳测试成绩如下图。



(1) 与第一次测试相比，第二次测试谁的进步最大？

(2) 你还能看出什么？

六、



- (1) 水污染最严重的省份是 ( )。
- (2) 大气污染最严重的省份是 ( )。
- (3) 水污染共损失 ( ) 万元。
- (4) 江苏省的水污染比大气污染多损失 ( ) 万元。
- (5) 看了这幅图你有什么想法？