

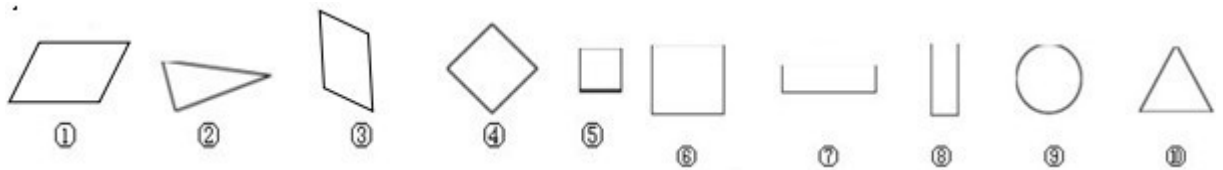
2014年新人教版小学一年级数学下学期第一单元测试题

班级：_____ 姓名：_____ 等级：_____

一、下面的说法对吗？你认为对的在后面的（ ）里画√，错的画×。

- (1) 长方形相对的边相等。 ()
- (2) 正方形四条边都相等。 ()
- (3) 三角形三条边都相等。 ()
- (4) 用2个同样的小正方形可以拼成一个大正方形。 ()
- (5) 用同样长的小棒摆两个三角形，最少要6根。 ()
- (6) 4个同样的小正方形可以拼成一个大正方形。 ()
- (7) 一个长方形不能剪成4个同样的三角形。 ()

二、填一填。



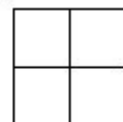
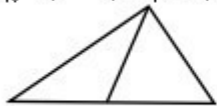
上边共有()个图形，共有()种。

长方形：_____ 正方形：_____ 平行四边形：_____

圆形：_____ 三角形：_____

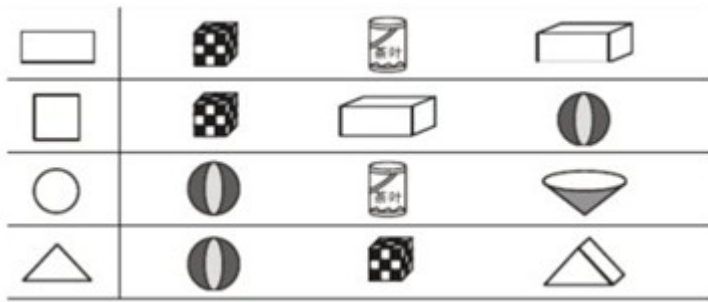
2、仔细填一填。

下图有()个三角形 下图是由()个小三角形拼成的。



上图共有()个正方形

3、用哪个物体可以画出昨天的图形？请把它圈起来。

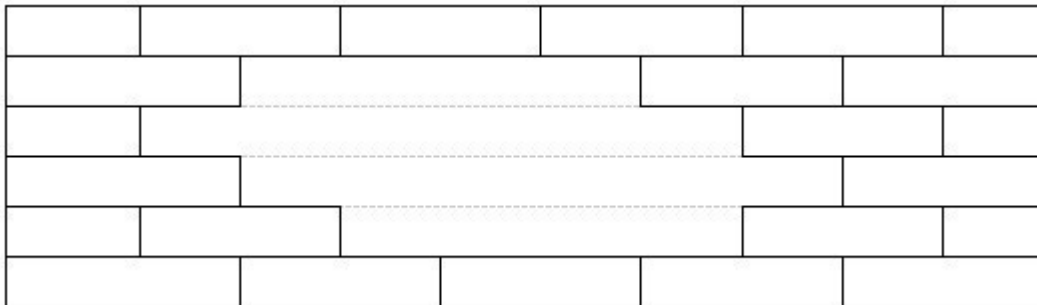


4、数一数，填一填。

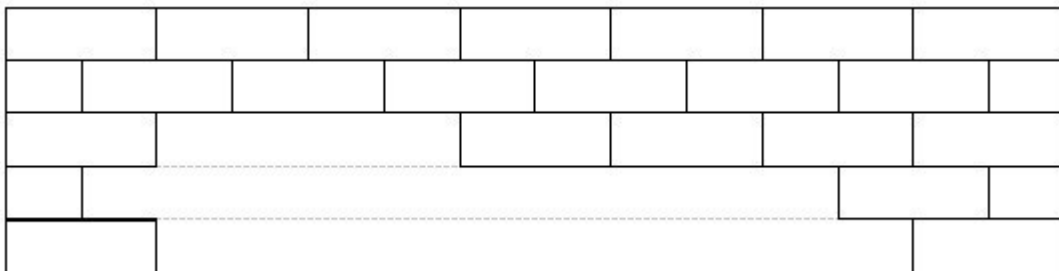


三、画一画，填一填。

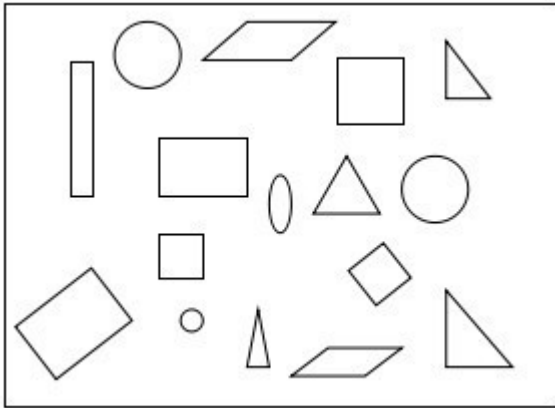
(1)、缺了()块砖。



(2)、缺了()块砖。



(3)、数一数



长方形有 () 个，

正方形有 () 个，

圆有 () 个，

平行四边形有 () 个，

三角形有 () 个。

四、



1、折一折，用 做一个 ，3 的对面是 ()，6 的对面是 ()。

2、一个正方形可以折成 2 个完全一样的 () 或 ()。

3、两个正方形可以拼成一个 ()。

4、七巧板有 7 种颜色，由 () 种图形组成，其中有 5 块 ()，() 块正方形，() 块平行四边形。

5、两个直角三角形，可以拼成一个大三角形或长方形或平行四边形。

6、拼成一个正方形最少需要 () 根小棒。拼成一个三角形最少需要 () 根小棒。

拼成一个长方形最少需要 () 根小棒。

