

绝密★本科目考试启用前


2018年普通高等学校招生全国统一考试 理科综合能力测试（北京卷）

本试卷共16页，共300分。考试时长150分钟。考生务必将答案答在答题卡上，在试卷上作答无效。考试结束后，将本试卷和答题卡一并交回。

可能用到的相对原子质量：H 1 C 12 N 14 O 16

第一部分（选择题 共120分）

本部分共20小题，每小题6分，共120分。在每小题列出的四个选项中，选出最符合题目要求的一项。

13. 在核反应方程 ${}^4_2\text{He} + {}^{14}_7\text{N} \rightarrow {}^{17}_8\text{O} + X$ 中，X 表示的是
A. 质子 B. 中子 C. 电子 D. α 粒子
14. 关于分子动理论，下列说法正确的是
A. 气体扩散的快慢与温度无关
B. 布朗运动是液体分子的无规则运动
C. 分子间同时存在着引力和斥力
D. 分子间的引力总是随分子间距增大而增大
15. 用双缝干涉实验装置得到白光的干涉条纹，在光源与单缝之间加上红色滤光片后
A. 干涉条纹消失 B. 彩色条纹中的红色条纹消失
C. 中央条纹变成暗条纹 D. 中央条纹变成红色
16. 如图所示，一列简谐横波向右传播， P 、 Q 两质点平衡位置相距 0.15 m。当 P 运动到上方最大位移处时， Q 刚好运动到下方最大位移处，则这列波的波长可能是
A. 0.60 m
B. 0.30 m
C. 0.20 m
D. 0.15 m
- 

17. 若想检验“使月球绕地球运动的力”与“使苹果落地的力”遵循同样的规律，在已知月地距离

约为地球半径 60 倍的情况下，需要验证

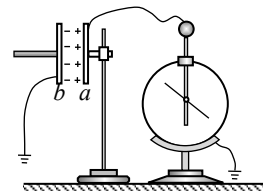
- A．地球吸引月球的力约为地球吸引苹果的力的 $1/60^2$
- B．月球公转的加速度约为苹果落向地面加速度的 $1/60^2$
- C．自由落体在月球表面的加速度约为地球表面的 $1/6$
- D．苹果在月球表面受到的引力约为在地球表面的 $1/60$

18．某空间存在匀强磁场和匀强电场。一个带电粒子（不计重力）以一定初速度射入该空间后，做匀速直线运动；若仅撤除电场，则该粒子做匀速圆周运动。下列因素与完成上述两类运动无关的是

- A．磁场和电场的方向
- B．磁场和电场的强弱
- C．粒子的电性和电量
- D．粒子入射时的速度

19．研究与平行板电容器电容有关因素的实验装置如图所示。下列说法正确的是

- A．实验前，只用带电玻璃棒与电容器 a 板接触，能使电容器带电
- B．实验中，只将电容器 b 板向上平移，静电计指针的张角变小



- C．实验中，只在极板间插入有机玻璃板，静电计指针的张角变大
- D．实验中，只增加极板带电量，静电计指针的张角变大，表明电容增大

20．根据高中所学知识可知，做自由落体运动的小球，将落在正下方位置。但实际上，赤道上方 200 m 处无初速下落的小球将落在正下方位置偏东约 6 cm 处。这一现象可解释为，除重力外，由于地球自转，下落过程小球还受到一个水平向东的“力”，该“力”与竖直方向的速度大小成正比。现将小球从赤道地面竖直上抛，考虑对称性，上升过程该“力”水平向西，则小球

- A．到最高点时，水平方向的加速度和速度均为零
- B．到最高点时，水平方向的加速度和速度均不为零
- C．落地点在抛出点东侧
- D．落地点在抛出点西侧

第二部分 (非选择题 共 180 分)

本部分共 11 小题，共 180 分。

21. (18 分)

用图 1 所示的实验装置研究小车速度随时间变化的规律。

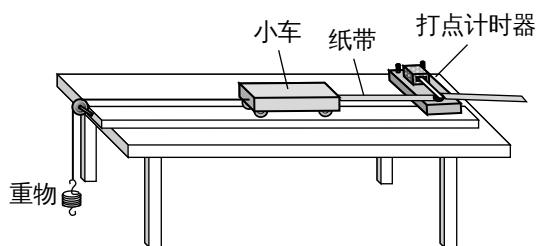


图 1

主要实验步骤如下：

- 安装好实验器材。接通电源后，让拖着纸带的小车沿长木板运动，重复几次。
- 选出一条点迹清晰的纸带，找一个合适的点当作计时起点 O ($t=0$)，然后每隔相同的时间间隔 T 选取一个计数点，如图 2 中 A 、 B 、 C 、 D 、 E 、 F 所示。

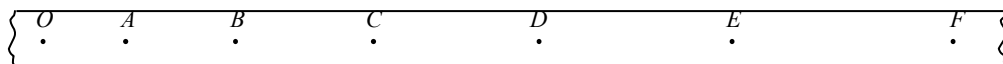


图 2

- 通过测量、计算可以得到在打 A 、 B 、 C 、 D 、 E 点时小车的速度，分别记作 v_1 、 v_2 、 v_3 、 v_4 、 v_5
- 以速度 v 为纵轴、时间 t 为横轴建立直角坐标系，在坐标纸上描点，如图 3 所示。

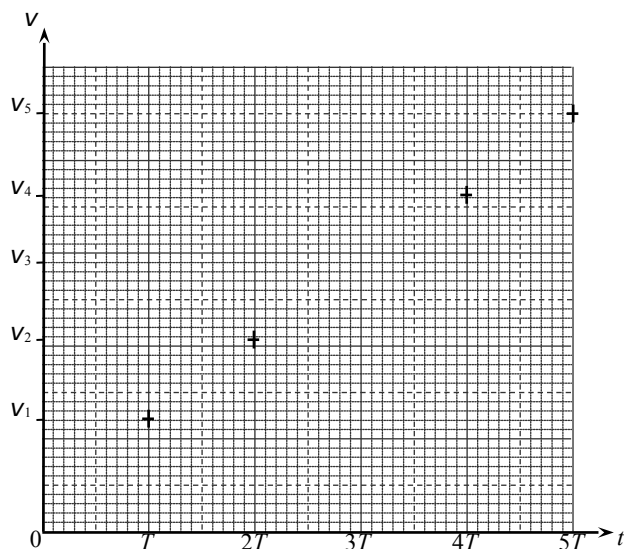


图 3

结合上述实验步骤，请你完成下列任务：

- (1) 在下列仪器和器材中，还需要使用的有____和____（填选项前的字母）。
- A．电压合适的 50 Hz 交流电源 B．电压可调的直流电源
C．刻度尺 D．秒表
E．天平（含砝码）
- (2) 在图 3 中已标出计数点 A、B、D、E 对应的坐标点，请在该图中标出计数点 C 对应的坐标点，并画出 $v-t$ 图像。
- (3) 观察 $v-t$ 图像，可以判断小车做匀变速直线运动，其依据是____。 $v-t$ 图像斜率的物理意义是____。
- (4) 描绘 $v-t$ 图像前，还不知道小车是否做匀变速直线运动。用平均速度 $\frac{\Delta x}{\Delta t}$ 表示各计数点的瞬时速度，从理论上讲，对 Δt 的要求是____（选填“越小越好”或“与大小无关”）；从实验的角度看，选取的 Δx 大小与速度测量的误差____（选填“有关”或“无关”）。
- (5) 早在 16 世纪末，伽利略就猜想落体运动的速度应该是均匀变化的。当时只能靠滴水计时，为此他设计了如图 4 所示的“斜面实验”，反复做了上百次，验证了他的猜想。请你结合匀变速直线运动的知识，分析说明如何利用伽利略“斜面实验”检验小球的速度是随时间均匀变化的。

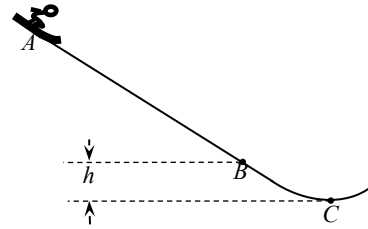


图
4

22. (16分)

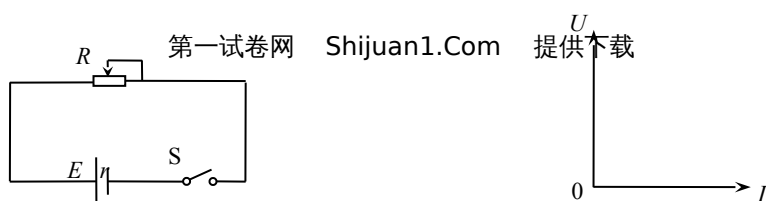
2022年将在我国举办第二十四届冬奥会，跳台滑雪是其中最具观赏性的项目之一。某滑道示意图如下，长直助滑道 AB 与弯曲滑道 BC 平滑衔接，滑道 BC 高 $h = 10\text{ m}$ ， C 是半径 $R = 20\text{ m}$ 圆弧的最低点。质量 $m = 60\text{ kg}$ 的运动员从 A 处由静止开始匀加速下滑，加速度 $a = 4.5\text{ m/s}^2$ ，到达 B 点时速度 $v_B = 30\text{ m/s}$ 。取重力加速度 $g = 10\text{ m/s}^2$ 。

- (1) 求长直助滑道 AB 的长度 L ；
- (2) 求运动员在 AB 段所受合外力的冲量 I 的大小；
- (3) 若不计 BC 段的阻力，画出运动员经过 C 点时的受力图，并求其所受支持力 F_N 的大小。



23. (18分)

如图1所示，用电动势为 E 、内阻为 r 的电源，向滑动变阻器 R 供电。改变变阻器 R



的阻值，路端电压 U 与电流 I 均随之变化。

图 1

图 2

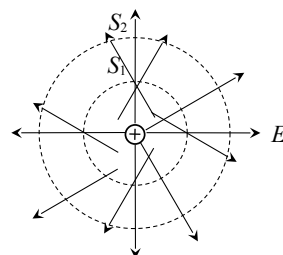
- (1) 以 U 为纵坐标， I 为横坐标，在图 2 中画出变阻器阻值 R 变化过程中 $U - I$ 图像的示意图，并说明 $U - I$ 图像与两坐标轴交点的物理意义。
- (2) a. 请在图 2 画好的 $U - I$ 关系图线上任取一点，画出带网格的图形，以其面积表示此时电源的输出功率；
b. 请推导该电源对外电路能够输出的最大电功率及条件。
- (3) 请写出电源电动势定义式，并结合能量守恒定律证明：电源电动势在数值上等于内、外电路电势降落之和。

24. (20 分)

(1) 静电场可以用电场线和等势面形象描述。

a. 请根据电场强度的定义和库仑定律推导出点电荷 Q 的

第一试卷网 Shijuan1.Com 提供下载



场强表达式；

b. 点电荷的电场线和等势面分布如图所示，等势面 S_1 、 S_2 到点电荷的距离分别为 r_1 、 r_2 。我们知道，电场线的疏密反映了空间区域电场强度的大小。请计算 S_1 、 S_2 上单位面积通过的电场线条数之比 N_1/N_2 。

(2) 观测宇宙中辐射电磁波的天体，距离越远单位面积接收的电磁波功率越小，观测越困难。为了收集足够强的来自天体的电磁波，增大望远镜口径是提高天文观测能力的一条重要途径。2016年9月25日，世界上最大的单口径球面射电望远镜 FAST 在我国贵州落成启用，被誉为“中国天眼”。FAST 直径为 500 m，有效提高了人类观测宇宙的精度和范围。

a. 设直径为 100 m 的望远镜能够接收到的来自某天体的电磁波功率为 P_1 ，计算 FAST 能够接收到的来自该天体的电磁波功率 P_2 ；

b. 在宇宙大尺度上，天体的空间分布是均匀的。仅以辐射功率为 P 的同类天体为观测对象，设直径为 100 m 望远镜能够观测到的此类天体数目是 N_0 ，计算 FAST 能够观测到的此类天体数目 N 。

绝密★启用前

2018年普通高等学校招生全国统一考试 理科综合能力测试（北京卷）参考答案

第一部分共 20 小题，每小题 6 分，共 120 分。

1. 2. 3. 4. 5.

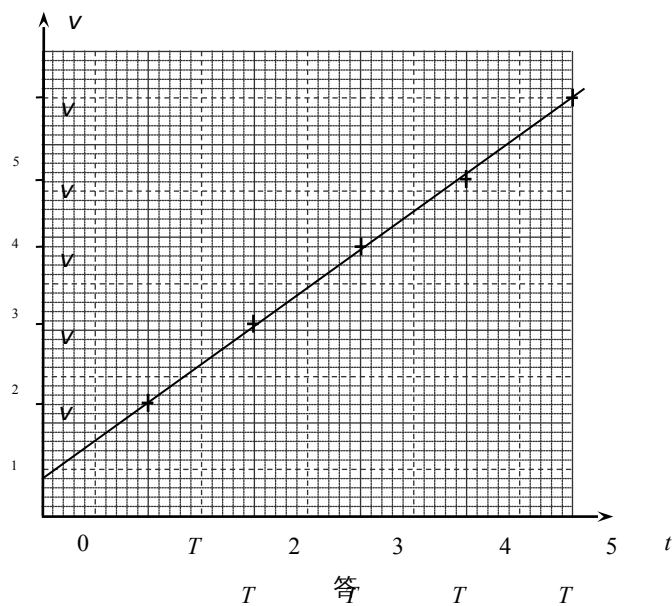
6. 7. 8. 9. 10.
11. 12. 13. A 14. C 15. D
16. B 17. B 18. C 19. A 20. D

第二部分共 11 小题，共 180 分。

21. (18 分)

(1) A C

(2) 如答图 1



(3) 小车的速度随时间均匀变化，加速度图 1

(4) 越小越好，有关

(5) 如果小球的初速度为 0，其速度 $v \propto t$ ，那么它通过的位移 $x \propto t^2$ 。因此，只要测量小球通过不同位移所用的时间，就可以检验小球的速度是否随时间均匀变化。

22. (16 分)

(1) 根据匀变速直线运动公式，有 $L = \frac{v_B^2 - v_A^2}{2a} = 100 \text{ m}$

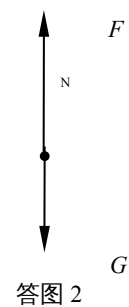
(2) 根据动量定理，有 $I = mv_B - mv_A = 1800 \text{ N} \cdot \text{s}$

(3) 运动员经 C 点时的受力分析如答图 2

根据动能定理，运动员在 BC 段运动的过程中，有

$$mgh = \frac{1}{2}mv_C^2 - \frac{1}{2}mv_B^2$$

第一试卷网 Shijuan1.Com 提供下载



答图 2

根据牛顿第二定律，有 $F_N - mg = m \frac{V_c^2}{R}$
 得 $F_N = 3900 \text{ N}$

23. (18分)

- (1) $U - I$ 图像如答图 3 所示。图像与纵轴交点的坐标值为电源电动势，与横轴交点的坐标值为短路电流。
 (2) a. 如答图 3 所示。

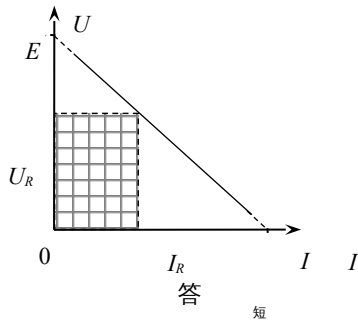


图 3

b. 电源输出的电功率

$$P = I^2 R = \left(\frac{E}{R+r} \right)^2 R = \frac{E^2}{R + 2r + \frac{r^2}{R}}$$

当外电路电阻 $R = r$ 时，电源输出的电功率最大，为

$$P_{\max} = \frac{E^2}{4r}$$

(3) 电动势定义式

$$E = \frac{W}{q}$$

根据能量守恒，在图 1 所示电路中，非静电力做功 W 产生的电能等于在外电路和内电路产生的电热，即

$$W = I^2 r t + I^2 R t = I r q + I R q$$

$$E = I r + I R = U_{\text{内}} + U_{\text{外}}$$

24. (20分)

(1) a. 在距 Q 为 r 的位置放一电荷量为 q 的检验电荷。

根据库仑定律检验电荷受到的电场力

$$F = k \frac{Qq}{r^2}$$

根据电场强度的定义 $E = \frac{F}{q}$

得 $E = k \frac{Q}{r^2}$

b. 穿过两等势面单位面积上的电场线条数之比

$$\frac{N_1}{N_2} = \frac{E_1}{E_2} = \frac{r_2^2}{r_1^2}$$

(2) a. 地球上不同望远镜观测同一天体，单位面积上接收的功率应该相同，因此

$$P_2 = \frac{500^2}{100^2} P_1 = 25 P_1$$

b. 在宇宙大尺度上，天体的空间分布是均匀的。因此，一个望远镜能观测到的此类天体数目正比于以望远镜为球心、以最近观测距离为半径的球体体积。

设地面上望远镜能观测到此类天体需收集到的电磁波的总功率的最小值为 P_0 ，直径为 100 m 望远镜和 FAST 能观测到的最远距离分别为 L_0 和 L ，则

$$P_0 = \pi \left(\frac{500}{2} \right)^2 \frac{P}{4\pi L^2} = \pi \left(\frac{100}{2} \right)^2 \frac{P}{4\pi L_0^2}$$

可得 $L = 5L_0$

则 $N = \frac{L^3}{L_0^3} N_0 = 125 N_0$