

姓名：_____ 座位：_____ 班：_____ 年：_____ 小学：_____


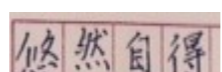
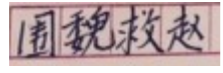

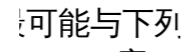
蓝田中心学校义务教育学业质量监测

四年级语文模拟试题

(考试时间 80 分钟，满分 100 分)

得分	
----	--

一、语文基础 (本模块选择题都是单项选择题，每小题 1 分，共 15 分；默写古诗 5 分。) (20 分)

- 【 】 1. 下列加点字 (词) 注音不正确的是哪一项? (1 分)
- A. 蝙蝠 (biǎnfú) B. 怦 (pēng) 然一震
- C. 鸡冠 (guān) 花 D. 规矩 (guīju)
- 【 】 2. “绡”可能与下列哪个字的读音相同? (1 分)
- A. 绢 B. 漂 C. 消 D. 骨
- 【 】 3. 下列词语中，有别字的是哪一项? (1 分)
- A. 维持 B. 迷惑不解 C. 渡过童年 D. 宵夜
- 【 】 4. 下列学生抄写的词语中，有错字的是哪一项? (1 分)
- A.  B. 
- C.  D. 
- 【 】 5. “”可能与下列哪个字的意思有关? (1 分)
- A. 草 B. 毛 C. 尻 D. 鹿
- 【 】 6. “玦 (jué)”的意思最可能与下列哪个词的意思有关? (1 分)
- A. 王冠 B. 缺点 C. 决定 D. 玉器
- 【 】 7. “冷面孔”一词中“冷”的意思是什么? (1 分)
- A. 寂静；不热闹
- B. 不热情；不温和
- C. 乘人不备的；突然的
- D. 温度低 (跟“热”相对)
- 【 】 8. 下列词语填入句子，最恰当的是哪一个? (1 分)
- A. 晴朗 B. 清澈 C. 清廉 D. 清纯

- 月夜，站在家乡的小溪旁，看着那清清的溪水映着____的夜空，令人心旷神怡。
- 【 】 9. 哪一个词语填入短语最恰当? (1 分)
- A. 头 B. 只 C. 条 D. 匹
- 一 () 骏马
- 【 】 10. 下列对句子主要意思的概括，正确的是哪一项? (1 分)
- 清凌凌的河水倒映着岸上一行行青翠欲滴的垂柳。
- A. 河水倒映着。
- B. 清凌凌的河水。
- C. 河水倒映着垂柳。
- D. 岸上一行行垂柳。
- 【 】 11. 下列对句子蕴含意义的理解，最恰当的是哪一项? (1 分)
- 地球表面的 70% 被水覆盖，但淡水资源仅占 2.5%，而可供人类饮用的又仅占淡水资源的 1% 左右，请不要让我们的眼泪成为最后一滴水。
- A. 说明地球上的水资源很丰富。
- B. 说明地球上的淡水资源贫乏。
- C. 警示人类要爱惜水、节省用水。
- D. 提示可供人类饮用的淡水很少。
- 【 】 12. 哪一对关联词填入句子最恰当? (1 分)
- 同学们____喜欢校内体育活动，____喜欢登山远足等野外运动。
- A. 因为……所以…… B. 如果……就……
- C. 不但……而且…… D. 虽然……但是……
- 【 】 13. 下面一段文字的主要内容是什么? (1 分)
- 小闹钟周围镶着一圈金光闪闪的边。银色的钟面上罩着一块凸透的钟面玻璃。那圆圆的钟面玻璃映着钟盘，就像十五的月亮。十二颗明星般的计时刻度镶嵌在银色的钟面上，闪闪发光。
- A. 小闹钟精密的构造。
- B. 小闹钟精巧的外观。
- C. 小闹钟精准的报时。
- D. 小闹钟精美的色彩。
- 【 】 14. 将下列句子插入语段中的哪个位置最恰当? (1 分)
- 就在这时，我看见我的同桌站在队伍的前面，好像在向我打招呼。
- ① 购买车票的队伍长长的，轮到我得等好大一会儿。② 我还有很多功课要做呢，心里十分着急。③ 我灵机一动，悄悄地走到她身旁，趁势站在她前边。④ 站着站着，我想到《小学生守则》……
- A. ① 之前 B. ①-② 之间 C. ②-③ 之间 D. ③-④ 之间
- 【 】 15. 下面的诗句中，表达友情的一项是哪一句? (1 分)
- A. 不识庐山真面目，只缘身在此山中。
- B. 劝君更尽一杯酒，西出阳关无故人。
- C. 山重水复疑无路，柳暗花明又一村。
- D. 日出江花红胜火，春来江水绿如蓝。能不忆江南?

23.作者写到“秋刀割过的麦地”在表达情意上有什么作用？【 】(2分)

- A. 割过的麦地只剩下沟与壑
- B. 作者看到秋刀割过的麦地
- C. “我”不忍看她的脸，更爱看秋刀割过的麦地
- D. 容易让读者理解她脸的粗糙、沧桑、没有生机

24.从哪些地方看出外婆对“她”很熟悉？至少举两个事例说明。(4分)

事	例	一：																		
事	例	二：																		

25.文章第二自然段写“我”打量她的衣着外貌，其实她也在打量“我”。请你展开想像，写一写她眼中“我”的衣着外貌。要用到文本中有关“我”的信息。(4分)

26.有读者认为，“她”不可能做出“先洗碗后盛水喝”的举动。你同不同意这种观点？请根据文本内容说明理由。(4分)

观	点：																			
理	由：																			

(二) 阅读说明文《味道是怎么来的？》，完成27-35题。(24分)

味道是怎么来的？

九一

最近，美国珀杜大学的科学家发现了基本味觉——酸甜苦辣鲜之外的第六种基本

味道：肥。敏感的味觉是长期进化的产物，能帮助动物寻觅营养，避开毒素。

“味道”如何被感知

人的舌头大约有 8000 个味蕾，每个味蕾大约由 100 个味觉受体细胞组成。味蕾主要分布于舌头前半部分、后部和舌头两侧。科学家曾认为不同地方的味蕾感受到的味道不一样，后来却发现舌头上的味蕾都有能力感受到基本味道。

味蕾中的味觉细胞感受到食物中味道的刺激后，一般会产生神经信号，这种信号传到大脑中，由大脑辨别食物的味道。这就是味觉产生的过程。

当然，唾液也是影响味道感知的一大因素。食物溶解在唾液里后，化学物质才能被味蕾上的接收器感知。

感冒时为什么吃饭不香

如果味觉只有六种，那我们感受到的千千万万种味道是怎么来的呢？这里面还有鼻子的功劳。我们每个人大概有 384 种不同的嗅觉细胞。鼻子闻到的味道大约占我们感受到味道的 80%-90%，这大大丰富了我们的味觉感受。所以如果你感冒了，会发现吃饭不香，这是因为鼻子被堵住了。

肥胖会改变味觉吗

实验发现，严重超重的肥胖老鼠比正常体型的老鼠品尝甜味的味觉细胞更少，同时对苦味的反应能力也很弱。但是不管胖瘦，老鼠对鲜味的反应都一样，这种味道多与美味的肉类食物有关。因此有科学家推测，这可能是胖人更爱吃肉食的原因。

色彩会影响味觉吗

人们对颜色的期许味道，影响了人们对食物真实味道的品鉴。增加或改变食物的颜色，相当于变相增加食物的美味程度。美丽的食物容器在这方面的效用，与颜色类似。

噪音会降低食欲吗

飞机、火车餐不好吃，一个重要的因素是飞行的噪音和行驶的轰鸣声影响了我们的味觉，大家或许有过打雷时吃东西会觉得没什么味道的经验。

口味差别为什么大

有的人喜欢吃臭豆腐，有的人想想就受不了，这就是味觉的原因。味觉是基因和环境共同作用的产物。基因通过影响味蕾接收器的结构来影响我们对食物的选择，这决定了人的先天喜好。研究表明，差不多每个人都不同程度的更喜欢甜食，我们天生就对甜味有更积极的响应，而母亲在怀孕早期的晨吐失去电解质和钠的严重程度，会影响胎儿对咸味的偏好程度。

环境则决定了人的后天喜好，会让我们接受一些原本可能并不喜欢的味道。随着年龄的增长，我们的味觉也会退化，因此老人的口味一般更重。

(《科技日报》 2015 年 8 月 21 日)

27.第六种味道指什么？【 】(2分)

- A.甜 B.鲜 C.肥 D.咸

28.一个味蕾有多少个左右的味觉受体细胞组成？【 】(2分)

- A.6 B.100 C.384 D.8000

29.先天通过什么来影响我们对食物的选择？【 】(2分)

- A.舌头的形状 B.鼻子的大小 C.身体的高矮 D.味蕾的结构

