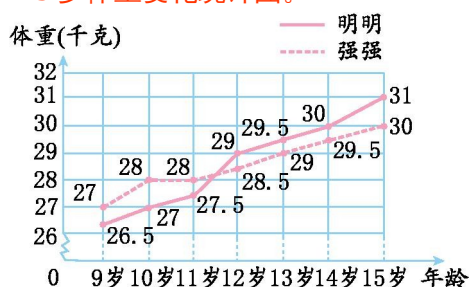


## 第九单元测试卷 (A)

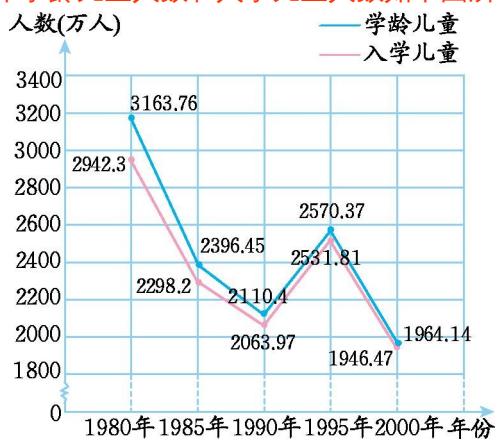
一、下图是明明和强强 9—15 岁体重变化统计图。



1. 从( )岁到( )岁明明较重,从( )岁到( )岁强强较重。

2. ( )的体重增长幅度较小。

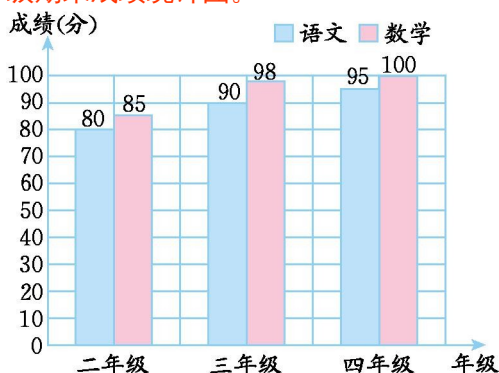
二、我国 1980—2000 年学龄儿童人数和入学儿童人数如下图所示。



1. 学龄儿童最多的一年是( )年,最少的一年是( )年。

2. 入学儿童最多的是( )年,最少的是( )年。

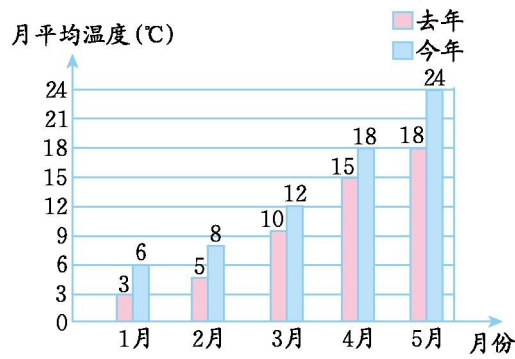
三、下面是小杰二至四年级期末成绩统计图。



1. 小杰二年级时语文和数学相差( )分,三年级时相差( )分。

2. 针对这种现象,你想对小杰说什么?

四、下面是某地区去年和今年1—5月月平均气温统计图,读图回答问题。



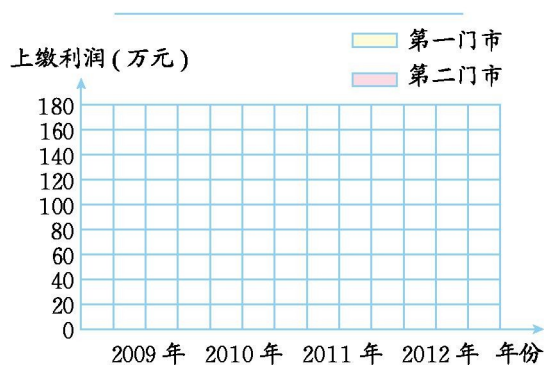
1.5月份的月平均气温今年是去年的多少倍?

2.2月份的月平均气温去年是今年的几分之几?

五、某电脑公司第一、第二门市部2009—2012年上缴利润情况如下表。

年份上缴利润(万元)门市部	2009年	2010年	2011年	2012年
第一门市部	30	42	70	110
第二门市部	40	45	90	155

根据表中数据,完成下面的条形统计图。



根据上面统计图填空。

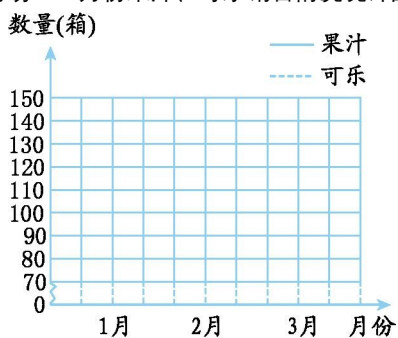
- 纵轴上每个单位长度表示( )万元。
- ( )年第一、第二门市部所缴利润相差最少。
- ( )年第一、第二门市部所缴利润相差最多。
- 第一门市部( )年所缴利润最多,( )年所缴利润最少。

六、人民商场1—3月份果汁、可乐销售情况如下表。

数量 (箱) 类别	1月	2月	3月
果汁	120	130	150
可乐	90	80	75

1.根据统计表绘制成复式折线统计图。

人民商场1-3月份果汁、可乐销售情况统计图



2.1—3月份果汁、可乐销售情况分别呈现什么趋势?

3.如果你是商场的经理,你打算如何进货?

## 参考答案

一、1.12 15 9 11 2.强强↵

二、1.1980 2000 2.1980 2000↵

三、1.5 8 ↵

2.要合理分配学习时间,提高语文成绩。↵

四、 $1.24 \div 18 = \frac{4}{3}$   $2.5 \div 0 = \frac{5}{8}$ ↵

五、画统计图略。↵

1.20 2.2010 3.2012 4.2012 2009↵

六、1.略 2.果汁呈现上升趋势,可乐呈现下降趋势。↵

3.适当地多进一些果汁,少进一些可乐。↵