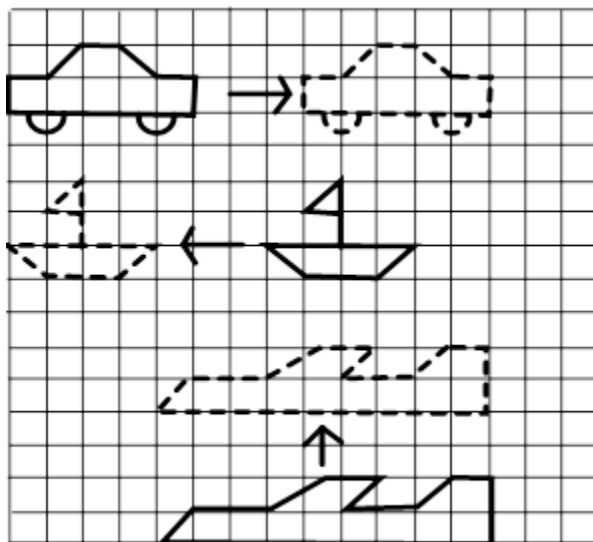


2.1 图形的平移

1、 (1) 小汽车向 () 平移了 () 格。

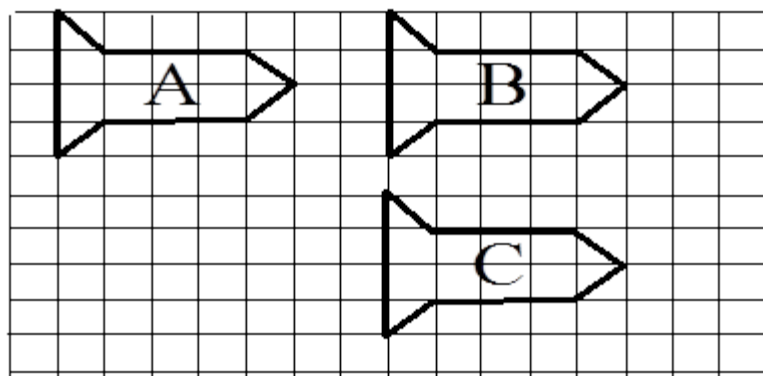
(2) 小船向 () 平移了 () 格。

(3) 小飞机向 () 平移了 () 格。



2、 A 图向 () 平移 () 格到 B 图

B 图向 () 平移 () 格到 C 图。



3、 下列运动不属于平移的是 ()

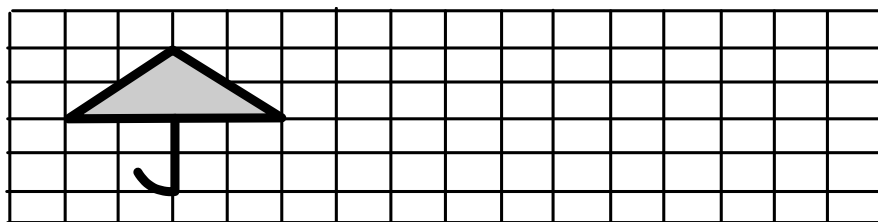
1) 升旗时国旗的运动

2) 钟摆的运动

3) 在算盘上拨珠

4) 电梯的运动

4. 画出向右平移 6 格后的图形



答案：1. (1) 右 8

(2) 左 7

(3) 上 4

2. 右 7

下 5

3. 2)

4. 提示：注意平移时的方向和距离。