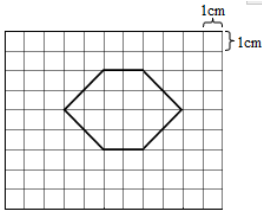
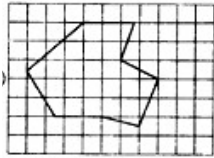


5.4 不规则图形的面积

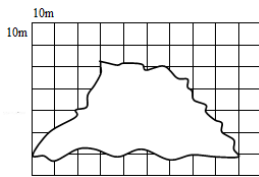
1. 下面图形的面积是()平方厘米。



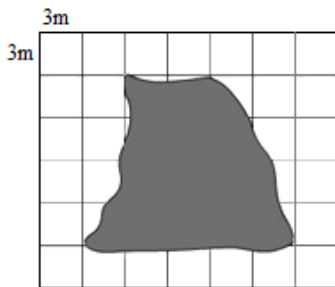
2. 整格 () 个, 不满格 () 个, 面积大约 () cm^2 (每个小方格的面积是 1 cm^2) 。



3. 下面图形的面积是 () 平方米。



4. 下图中是一块不规则的土地, 估一估它的面积。



答案

1. 16

2. 18 12 22

3. 2600

4. 126平方米