

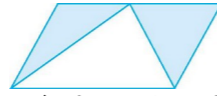
2019-2020 学年上学期五年级期中检测卷 (一)

班级： 姓名： 满分：100分 考试时间：90分钟

题序	第一题	第二题	第三题	第四题	第五题	第六题	第七题	第八题	第九题	总分
得分										

一、填空题。(8分)

- 张老师在银行存入100元,记作+100元,取出148元记作()元。
- 一个三角形的底是12厘米,高是6厘米,这个三角形的面积是()平方厘米,与这个三角形等底等高的平行四边形的面积是()平方厘米。
- 由5个0.1和8个0.001组成的数是()。
- 一个数的百分位和百位上都是5,其余各位上都是0,这个数是()。
- 用1、2、3这三个数字和小数点,可以组成()个不同的两位小数。



- 如右图,平行四边形的面积是18平方米,那么图中阴影部分的面积是()平方米。
- 一个平行四边形苗圃的底是50米,高是90米,它的占地面积是()公顷。

二、按要求先改写下面各数,再保留两位小数。(8分)

- 294321=()万≈()万
 90020008=()万≈()万
 29987200=()亿≈()亿
 356870000=()亿≈()亿

三、选择题。(把正确答案的序号填在括号里)(5分)

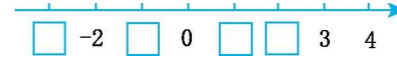
- 面积相等的两个三角形,形状()。
 A.相同 B.不相同
 C.不一定相同 D.都是直角三角形
- 大于0.3,小于0.5的两位小数有()。
 A.19个 B.9个 C.20个 D.无数个
- 被减数和减数都增加2.4,那么它们的差()。
 A.增加2.4 B.不变
 C.减少2.4 D.增加4.8
- 某市1月份的平均气温是-2°C,2月份的平均气温比1月份升高了6°C,该市2月份的平均气温是()。

- A.2°C B.4°C C.6°C D.8°C

5.一个由木条钉成的平行四边形的面积是40平方分米,和它等底等高的三角形的面积是()平方分米。

- A.10 B.20 C.40 D.80

四、在□里填上合适的数。(4分)



五、在○里填上“>”“<”或“=”。(6分)

- 2.07○2.69 3.06○3.060
 0.75○0.57 0.2○0.20
 0.1○0.09 1.05○0.95

六、计算题。(22分)

1.直接写得数。(8分)

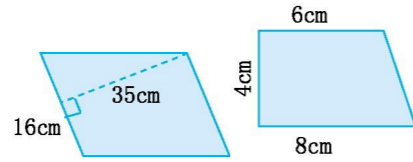
- 1.5-0.9= 1-0.6= 9.8-4.8= 44×200=
 0.94-0.54= 4-0.32= 0.36+0.64= 0.83+0.12=

2.用竖式计算。(带★的要验算)(14分)

- 3.71-2.88= 3.36+0.34=

- ★28-8.7= ★2.47+0.19=

七、求下面各图形的面积。(6分)



八、解决问题。(32分)



1.(8分)

58.75 元

31.45 元

(1)裙子比裤子贵多少元?

(2)妈妈买一条裙子和一条裤子,付给营业员 100 元,应找回多少元?(用计算器计算)

2.一个高血压病人每天上午需要测量一次血压。下表是该病人星期一到星期六的血压变化情况,如果把升 20 单位记作+20,那么其余 5 次记录可以怎样表示?填在表中。(6分)

星期	一	二	三	四	五	六
血压变化	升 20	降 18	升 15	升 10	降 16	降 20
	单位	单位	单位	单位	单位	单位
	+20					

3.有一个三角形花圃,它的底是 25 米,高是 22 米,平均每平方米产鲜花 50 枝,这个花圃一共可以产鲜花多少枝?(6分)

4.一个梯形果园的上底是 600 米,下底是 1200 米,高是 500 米。这个果园的面积是多少公顷?(6分)

5.一个长方形养鱼池的长是 400 米,宽是 200 米。这个养鱼池占地多少公顷?如果每公顷水面养鱼 1200 尾,这个养鱼池共养鱼多少尾?(6分)

九、动脑筋,做一做。(9分)

有一块占地1公顷的正方形菜地,如果把它各边各延长100米,那么菜地的面积增加多少公顷?

参考答案

一、1.-148 2.36 72 3.0.508 4.500.05 5.6

6.9 7.0.45

二、29.4321 29.43 9002.0008 9002.00 0.299872 0.30 3.5687 3.57

三、1.C 2.A 3.B 4.B 5.B

四、-3 -1 1 2

五、< = > = > >

六、1.0.6 0.4 5 8800 0.4 3.68 1 0.95

2.0.83 3.7 19.3 2.66 验算略

七、560cm² 28cm²

八、1.(1)58.75-31.45=27.3(元)

(2)100-(58.75+31.45)=9.8(元)

2. -18 +15 +10 -16 -20

3. 25×22÷2×50=13750(枝)

4. (600+1200)×500÷2=450000(平方米)

450000平方米=45公顷

5.400×200=80000(平方米)

80000平方米=8公顷

1200×8=9600(尾)

九、(100+100)×(100+100)=40000(平方米)

40000平方米=4公顷 4-1=3(公顷)