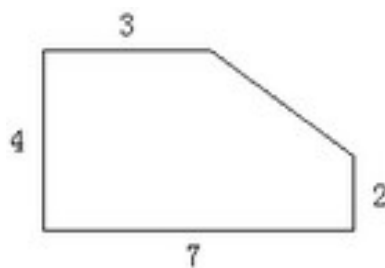
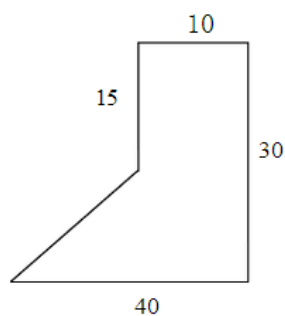


3.4.2 练习十四

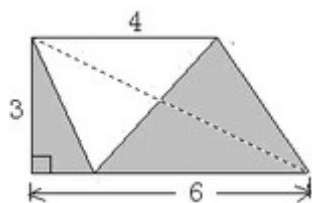
1.填表。

图形名称	面积公式(文字)	面积公式(字母)
长方形		
正方形		
平行四边形		
三角形		
梯形		

2.计算下面图形的面积。(单位：米)



3.计算下面阴影部分的面积。



答案：

1. 略

$$2. 10 \times 15 + (10 + 40) \times 15 \div 2 = 525 \text{ (平方米)}$$

$$(3 + 7) \times 2 \div 2 + 2 \times 7 = 24 \text{ (平方米)}$$

$$3. (4 + 6) \times 3 \div 2 - 4 \times 3 \div 2 = 15 - 6 = 9$$