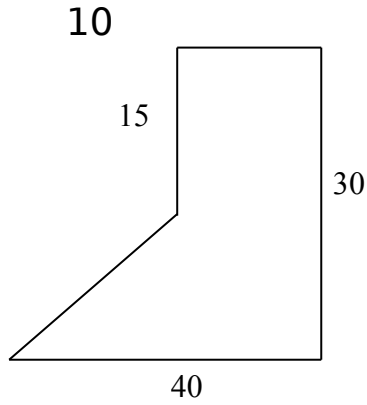
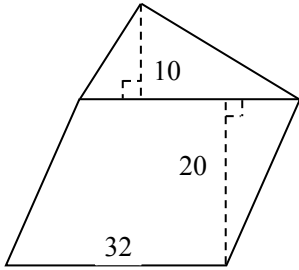


5.4 组合图形的面积

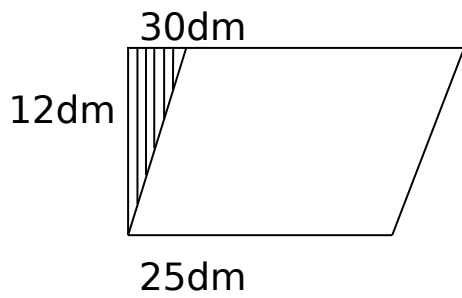
1、求下面图形的面积（单位：m）。你能想出几种方法。



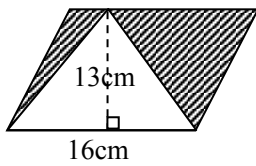
2、求下面图形的面积。（单位：cm）



3、计算下面图形中阴影部分的面积。



4、求下列阴影部分的面积。



答案 : 1. 525m^2

2. 800cm^2

3. 30dm^2

4. 104cm^2