

$36.1 \div 0.58 =$

$8.04 - 3.084 =$

5、找朋友连线。(4分)

$7.36 \div 9.2$

$1.95 \div 0.15$

$817 \div 43$

$2790 \div 31$

$27.9 \div 0.31$

$81.7 \div 4.3$

$195 \div 15$

$73.6 \div 92$

6、脱式计算(12分)

$18.9 \times 0.7 \times 5$

$3.9 \times 3 \times 2.8$

$48 \div 5 \div 0.6$

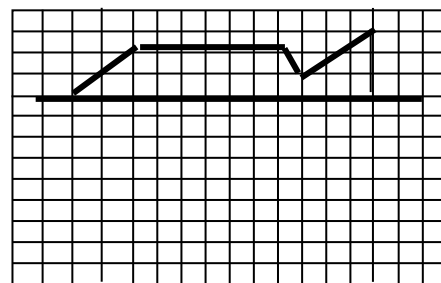
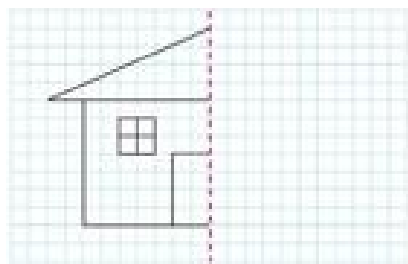
$56.2 + 32 \times 0.45$

$1.25 \times 16 \times 0.7$

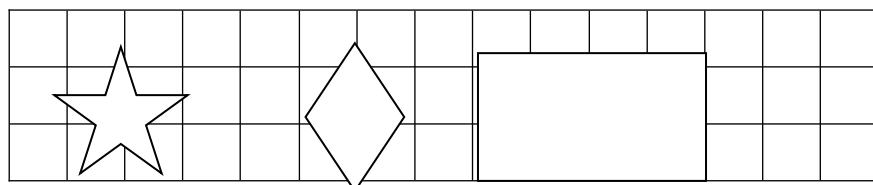
$7.28 + 3.2 \div 2.5$

四、操作题。(10分)

1、画出下面图形的另一半。(4分)



2、画出下列图形的对称轴，可以多画几条。(6分)



()条对称轴 ()条对称轴 ()条对称轴

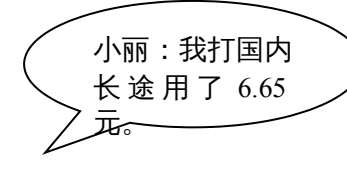
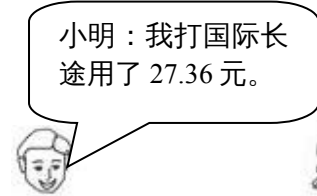
五、走进生活:(21分)

1、羚羊每小时跑24km，斑马的速度是羚羊的1.2倍，鸵鸟的速度是斑马的1.8倍，鸵鸟的速度是多少km？(4分)

2、某超市要将468kg桔子分装到纸箱里存放，每个纸箱装25kg，需要多少个纸箱？(3分)

3、打电话时，国内长途每分钟0.7元，国际长途每分钟7.2元，算算他们俩谁打电话的时间长。

(4分)



4、小陈六月份的上网时间如下表所示，小陈平均每天上网多长时间？(5分)

前4天	后16天
共16.5小时	共10.5小时

5、哪种笔记本最便宜？最便宜的比最贵的每本便宜多少钱？(5分)

