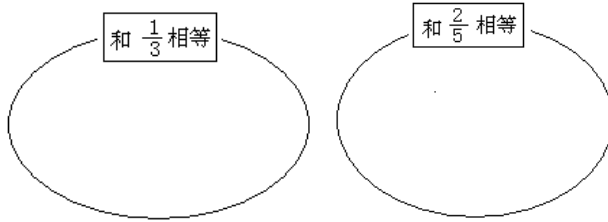


5.4 分数的基本性质

1. 用线把相等的分数连起来。

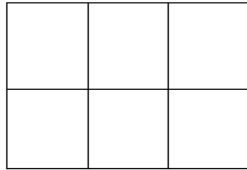
2. 把下面各分数填入相应的圈内。

$$\frac{6}{15}$$



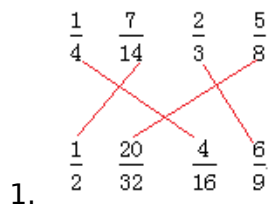
3. 把的分子扩大到原来的 4 倍，分母应该怎样变化，才能使分数的大小不变？变化后的分数是多少？

4. 你能在下面的方格纸上用阴影部分表示出吗？




5. 你能把下面的分数化成分母是 10 而大小不变的分数吗？

答案：



2. 与相等：，， 与相等：，

3. 扩大到原来的4倍



4.

5. ， ， ，