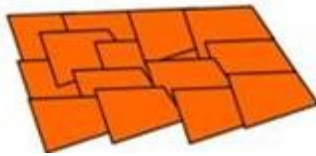
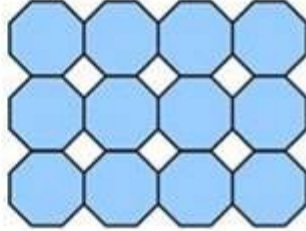



6.1 密铺

1. 下面的三幅图，可以看作是密铺吗？为什么？



2. 填空

- (1) 学校有学生 a 人，其中男生 b 人，女生有 () 人。
- (2) $a+a+a+a+a=()$ 。
- (3) 三个连续自然数，已知中间一个数是 m ，那么前一个数是()，后一个数是()。
- (4) 一种商品降价 a 元后是 80 元，原价是()元。
- (5) 16 盒牛奶共花了 y 元，平均每盒牛奶 () 元。
- (6) 大货车每次运货 n 吨，运了 6 次，共运货 () 吨。
- (7) 修路队修 a 米的路，还剩下 52 米没有修，已经修了 () 米。

参考答案

1. 第一个可以，其余不行，

$a - b$; $5a$, $m - 1$, $m + 1$; $80 + a$; $y \div 16$; $6n$; $a - 52$;

2.