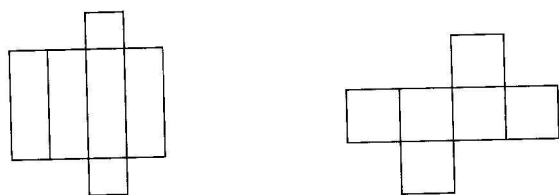
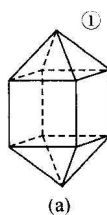
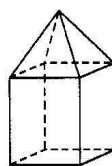
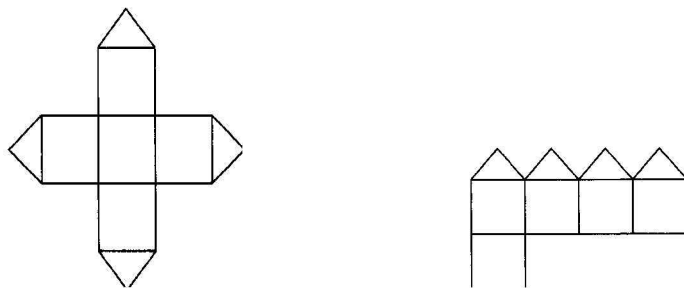



1. 下面是两个包装盒的平面展开图，这两个包装盒的形状分别是：① ____ ② ____

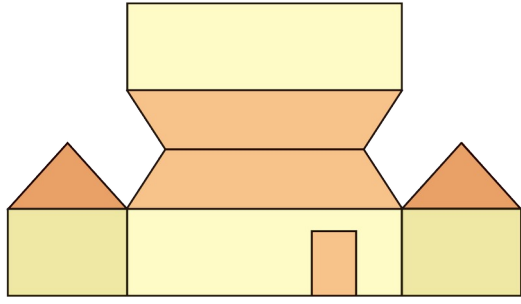


2. 下面两个平面展开图折叠后所围成的立体图形的形状相同吗？在画出的立体图形中找出它们的对应图形。



3. 下面是小熊的房子和房子的平面展开图，请在平面展开图上将窗户、烟囱和小鸟的大概位置标出来。

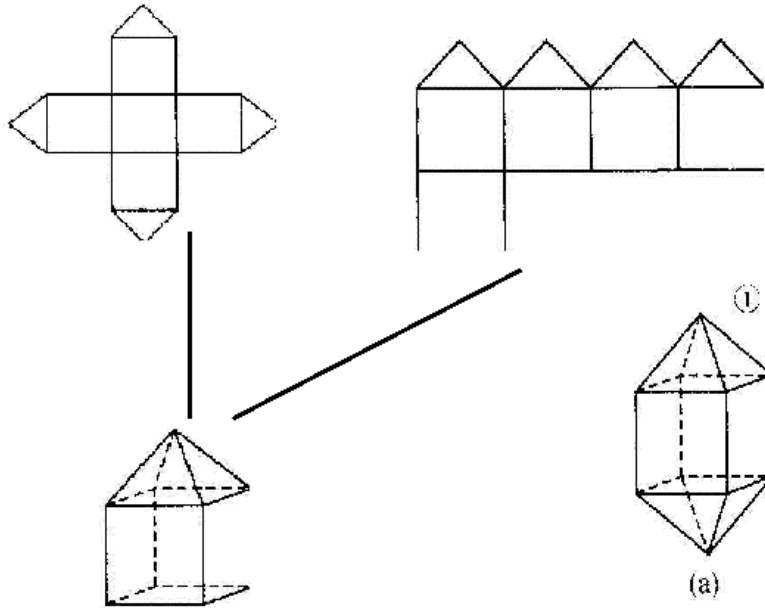




答案：

1、长方体 正方体

2、相同



3、

