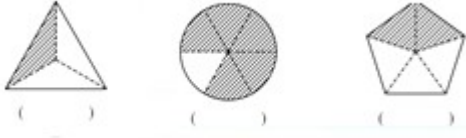


5.1 分数的再认识

1. 用分数表示下面各图的阴影部分。



2. 3个是()，1里面有()个，7个是()，里面有()个，里面有4个()，()个是，7个()是，里面有()个。


3. 按下面的分数圈个数。



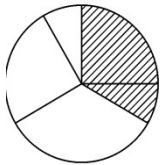
$$\frac{1}{2}$$



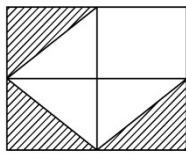
$$\frac{1}{7}$$



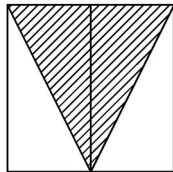
4. 用下面的分数表示图中的涂色部分，对的打√，错的打×。



$$\frac{2}{5} ()$$



$$\frac{3}{9} ()$$




$$\frac{2}{4} ()$$

答案：

1.

2. 1 5 3 5 4

3.



4. $\times \times \checkmark$