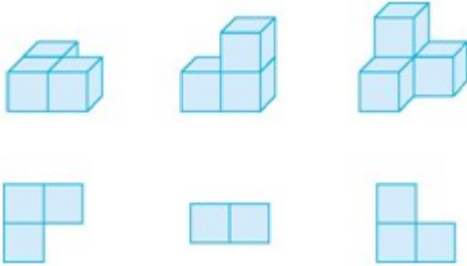


3.3 练习十二

1. 把一个长方形变成一个正方形，下列说法正确的是（ ）

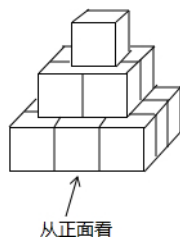
- A. 把长减少
- B. 把宽增加到和长相等
- C. 长和宽都增加同样的长度

2. 从上面观察立体图形，看到的分别是什么形状，连线。



3. 把棱长为 1cm 的若干个小正方体摆成如图所示的立方体图形。

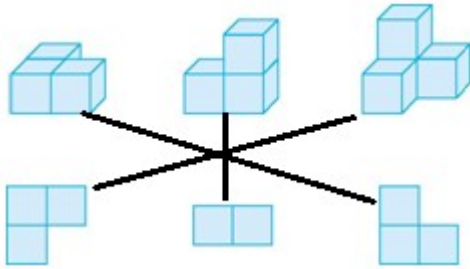
- (1) 该立体图形中有多少个小立方体？
- (2) 画出从正面观察该立体图形得到的图形。



答案

1. B

2.



3.

(1) 14

(2) 如图所示：

