

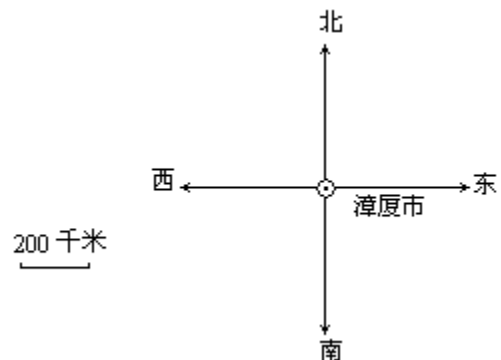
### 一、考考你。

1. 当我们面对朝阳时，前面是( )，后面是( )，左面是( )，右面是( )。

2. 而当我们面对地图时，上面是( )，下面是( )，左面是( )，右面是( )。

### 二、解决问题。

据气象卫星观测，编号为F号的热带风暴的中心已移动到漳厦市北偏西 $65^\circ$ 方向，约720千米的海面上。请你在平面图上标出此刻热带风暴的中心位置。



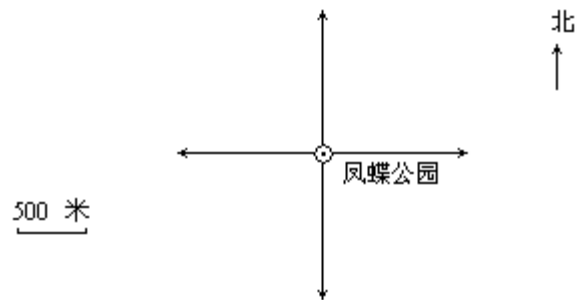
### 三、生活拓展。

根据下面的描述，在平面图上标出各场所的位置。

(1) 实验小学在凤蝶公园的北偏东 $75^\circ$ 方向1500米处。

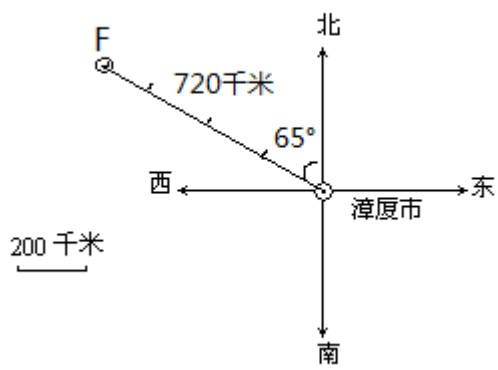
(2) 圣水寺在凤蝶公园正南方向1000米处。

(4)明珠山庄在凤蝶公园东偏南  $15^\circ$  方向 2000 米处。



**参考答案：**

- 一、1、东、西、北、南
- 2、北、南、西、东
- 二、



三、

