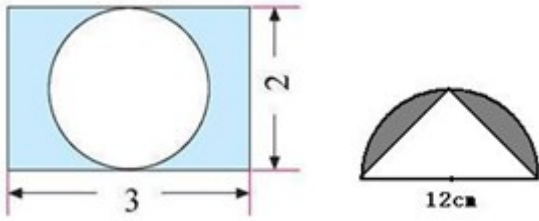


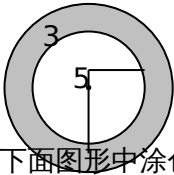
6.5 圆环与组合图形的面积

1. 求阴影部分的面积。(单位：厘米)



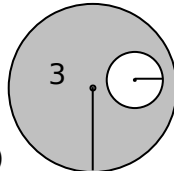
2. 计算下面图形中涂色部分的面积。(单位：厘米)

①



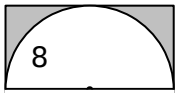
②

1

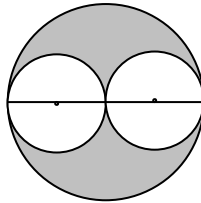


3. 求下面图形中涂色部分的面积。(单位：厘米)

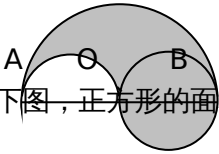
②



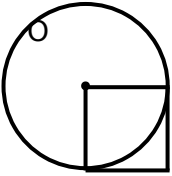
5 5



4. 如下图所示， $AB = 4$ 厘米，求涂色部分的面积。



5. 如下图，正方形的面积是 2 平方分米，求圆的面积。



参考答案

1. 2.86 平方厘米 20.52 平方厘米
2. 50.24 平方厘米 25.12 平方厘米
3. 6.88 平方厘米 39.25 平方厘米
4. 6.28 平方厘米
5. 6.28 平方分米