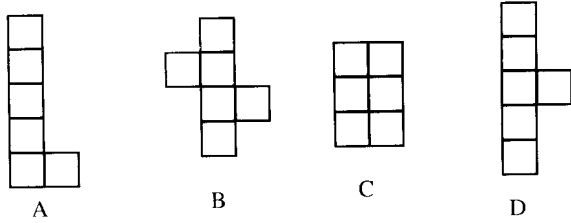
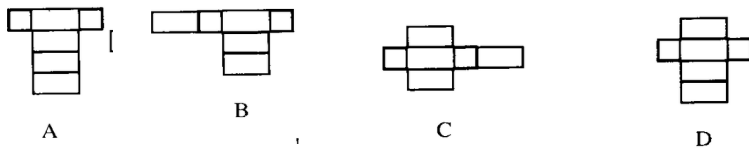


2.2 展开与折叠

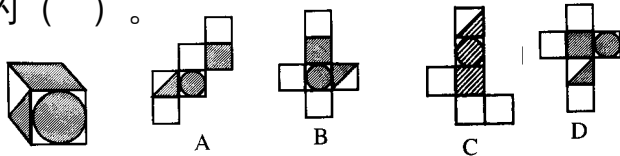
1、在下面的图形中，() 是正方体的表面展开图。



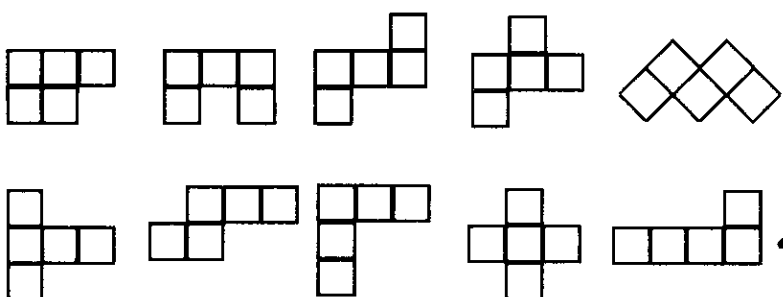
2、下面的图形经过折叠不能围成一个长方体的是 () 。



3、如图 1-10 所示的立方体，如果把它展开，可以是下列图形中的 () 。



4、下面 10 个图形中哪些可以折成没有盖子的五个面的小方盒？
请指明。



参考答案：

1、B 2、B 3、B 4、第一排 2 3 4 第二排 1 2 4 5