

喀什市第十二小学教育集团 2024-2025 学年第一学期期中

小结

二年级 数学

一. 1. 我会算 (每题 0.5 分, 共 10 分, 其中 4 道每题 1 分。)

$42 + 8 =$ $35 - 7 =$ $26 + 30 =$ $75 - 40 =$

$40 + 17 =$ $9 + 24 =$ $80 - 6 =$ $65 - 60 =$

$91 - 8 =$ $6 \times 5 =$ $4 \times 5 =$ $40 + 28 =$

$40 + (25 - 9) =$ $73 - (26 + 30) =$ $56 - 12 - 17 =$ $100 + 80 - 8 =$

二. 我会填 (每空 1 分, 共 30 分)

1. $2+2+2+2+2=10$, 表示有()个(), 可以改写成乘法算式:()或()。

2. $3 \times 4 = 12$, 读作:(), 3 和 4 叫(), 12 叫()。

3. 测量比较短的物体, 可以用()作单位, 用字母表示为(); 测量比较长的物体, 可以用()作单位, 用字母表示为()。

4. 一个乘数是 6, 另一个乘数是 7, 积是 42。写算式是()。

5. 直尺上的刻度从 0 到 3 是()厘米, 从 6 到 10 是()厘米。

6. 一个数是 50, 另一个数是 15, 这两个数的和是(), 差是()。

)。

7. 3 个 5 相加乘法算式是(), 3 和 5 相加的算式是()。

8. 在下面的括号里填上“厘米”或“米”。

(1) 食指的宽度大约是 1 () (2) 房子高 4 ()

(3) 小明身高 1 () 30 () (4) 课桌高是 70 ()

(5) 床的长度是 2 () (6) 我的一个手指长 5 ()

9. 比 85 多 14 的数是(); 比最大的两位数少 22 的数是()

10. 在○里填上“>”“<”或“=”。(每空 0.5 分)

$65 - 19 \bigcirc 70 - 24$ $4 \text{ 米} \bigcirc 5 \text{ 厘米}$ $56 \bigcirc 24 + 39$

$98 \text{ 厘米} \bigcirc 1 \text{ 米}$ $20 \text{ 米} \bigcirc 15 \text{ 米}$ $1 \text{ 米} \bigcirc 100 \text{ 厘米}$

三. 判一判。(对的画“√”, 错的画“×”) (共 10 分)

11. 拉紧的一段线, 可以看作一条线段。()

12. 1 米长的铁丝比 100 厘米长的绳子短。()


13. 被减数是 74, 减数是 18, 差是 64。()

14. 两位数加两位数, 和是三位数或两位数。()

15. 爸爸骑自行车每分钟行 80 厘米。()

四.选一选 (每空2分,共10分)

16.下面三条线中, ()是线段。



17.国旗上的直角和黑板上的直角相比, ()。

① 国旗上的直角大 ② 黑板上的直角大 ③ 一样大

18.下面说法中,正确的是()。

① 用放大镜看一个角,这个角就变大了 ② 可以用三角尺上的直角判断一个角是锐角还是钝角

19.最大的两位数比最大的一位数多 ()


① 10 ② 9 ③ 90

20.表示2个4相加的乘法算式是()。

① 2×4 ② $4 + 4$ ③ $2 + 2 + 2 + 2$

五.画一画 (共5分)

21.请画一个直角、锐角和钝角 (3分)

22.用  来画。表示 4×3 (2分)

六.列竖式计算。(前3道每题2分,后3道每题3分) (共15分)

23. $99 - 14 =$ $69 + 27 =$ $70 - 39 =$

$54 + 20 + 16 =$ $100 - 80 - 8 =$ $72 - (18 + 35) =$


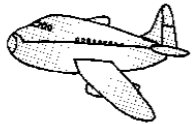


七.解决问题 (共20分)

24.一副哑铃有两个,这样的5副有几个? (3分)

25.一捆丝绳长100米一班先用去20米又用去38米,一共用去了多少米?二班需要40米。剩下的丝绳够吗? (5分)

26.一班有 33 人参加学校运动会，二班参加的人数比一班多 4 人，二班有多少人参加？两个班一共有多少人参加？（4分）

27.一辆公交车原来有 57 人，到达南山站时有 14 人下车又有 19 人上车，现在车上有多少人？（4分）

28. 购物  34元  53元  28元  47元 （4分）

(1)买一个布娃娃比买一辆小汽车少多少钱？

(2)小明买了两个玩具，最多要多少元？

