

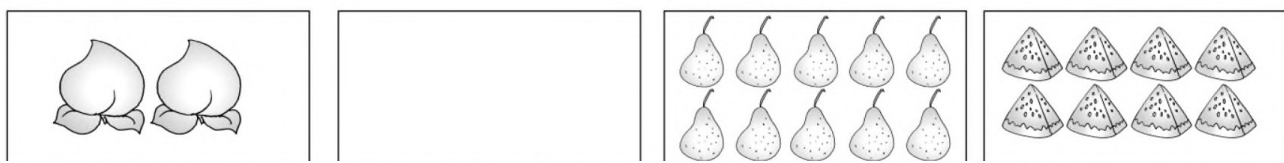
喀什市第十二小学教育集团 2024-2025 学年第一学期期中小结

一年级 数学

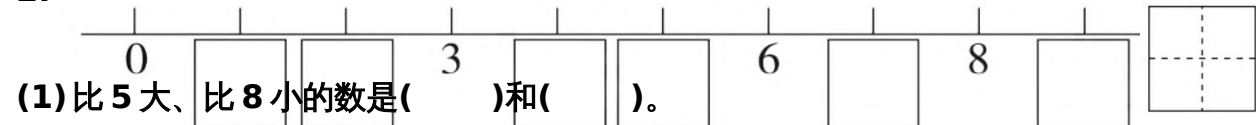
一、填空(每空 1 分,第 2 题 6 分,第 4 题 6 分,第 5 题 5 分,第 6 题 4 分,第 7 题 3

分,共 34 分)

1.




2.



(1) 比 5 大、比 8 小的数是( )和( )。

(2) 1 和 9 相比,( )更接近 6。

3.



(1) 从左往右数, 熊排第( )。


(2) 从右往左数,( )排第 4。

(3) 小猴的左边有( )只小动物, 小兔的右边有( )只小动物。

(4) 把从左数的第 3 只小动物涂色。

(5) 把右边的 3 只小动物圈起来。

4. 比一比、画一画、填一填



(1)

(2)

(3) 在横线上补上  $\triangle$ , 使  $\triangle$  和  $\bigcirc$  同样多。

5. 写一写, 比一比, 做一做。



6. 从 2、4、6、8 中选 3 个数, 组成两道加法算式和两道减法算式。

$$\begin{array}{l} \square + \square = \square \\ \square - \square = \square \end{array}$$

7. 在  $\bigcirc$  里填上“+”或“-”

二、算一算(共 26 分)

8. 直接写得数。(16 分)

$$3+3= \quad 8-0= \quad 10-2= \quad 3+2+4=$$

$$2+4= \quad 1+7= \quad 4+4= \quad 5+3-7=$$

$$10-6= \quad 6+2= \quad 9-3= \quad 5-2+6=$$

$$4-4= \quad 7-3= \quad 8-2= \quad 10-2-1=$$

8. 分一分, 合一合。(4 分)



9. 在  $\bigcirc$  里填上“>”“<”或“=”。(6 分)

校内学号:

班级:

姓名:

装订线内不要答题


$9 \bigcirc 9$       $3+5 \bigcirc 6$       $9-4 \bigcirc 5+3$   
 $4 \bigcirc 0$       $10-7 \bigcirc 2$       $5-3 \bigcirc 10-9$


三、我会画 (每题 3 分, 共 6 分)


10. 画○与△同样多。     11. 画△比○少 2 个。




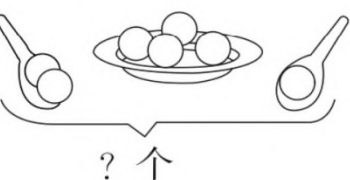
四、我会看图列式计算 (每题 3 分, 共 18 分)

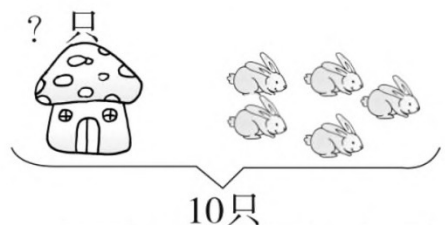
1.   $\square + \square = \square$  (只)

2.   $\square - \square = \square$  (只)

3.   $\square - \square = \square$  (个)

4.   $\square + \square = \square$  (人)

5.   $\square \bigcirc \square \bigcirc \square = \square$  (个)

6.   $\square \bigcirc \square = \square$  (只)

五、我会解答 (每题 4 分, 共 16 分)




12. 它们一共采了几个蘑菇?  
 $\square \bigcirc \square = \square$  (个)

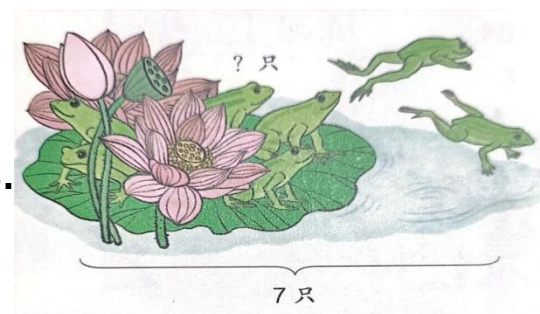
答: 一共采了  $\square$  个蘑菇。

13. 大树的前面有 2 只兔子, 后面有 5 只兔子, 又走了 3 只, 现在有多少只兔子?  
 $\square \bigcirc \square \bigcirc \square = \square$  (只)

答: 一共有  $\square$  只兔子。

14.  一共有 6 只企鹅, 左边有几只企鹅?  
 $\square \bigcirc \square = \square$  (只)

答: 左边有  $\square$  只企鹅。

15.  还剩几只青蛙?

姓名：\_\_\_\_\_ 班级：\_\_\_\_\_ 校内学号：\_\_\_\_\_

装订线内不要答题

$$\square \bigcirc \square = \square \text{ (只)}$$

答：还剩  只青蛙。

\_\_\_\_\_