

喀什市第十二小学教育集团 2024-2025 学年第一学期  
期中模拟测试卷

一年级 科学

一、选择题。（每题 3 分，30 分）

1、仙人掌生长在（ ）。

A. 海洋里 B. 山上 C. 沙漠

2、它们相同的特征是（ ）。



A. 形状 B. 材料 C. 能滚动

3、下列物体中，没有固定形状的是（ ）。


A. 花生油 B. 牙刷 C. 玻璃杯

4、下图中画圈圈的部分是植物的（ ）。



A. 茎 B. 根 C. 叶

5、下边的树叶是属于植物（ ）的。



6、蜗牛能在绳子上爬行，是因为它能（ ）。

A. 分泌黏液 B. 用腹足抓住绳子 C. 用嘴咬住绳子

7、比较物体轻重时会用到（ ）。



8、在用纸带帮助测量时，要注意（ ）。

A. 用的手指不用相同 B. 每拃的指尖不用相连 C. 一拃一拃要相连

9、我们用（ ）可以闻到饭菜的香味。

A. 舌头 B. 鼻子 C. 耳朵

10、“黄色的、长长的、有点香，有点软，很甜”，最有可能是（ ）。

A. 梨 B. 苹果 C. 香蕉

二、判断题。（每题 4 分，40 分）

1、面粉、沙子和味精都不能溶解在水中。（ ）

准考证号

姓名

考场号

班级

学校

- 2、用纸带测量时，必需拉直纸带。（ ）
- 3、所有金鱼的眼睛都是突出来的。（ ）
- 4、我们可以用水浇花，洗菜。（ ）
- 5、植物叶也是有生命的。（ ）
- 6、科学教室和普通教室没有区别。（ ）
- 7、球在斜面上越滚越慢。（ ）
- 8、夏季，雨后能看到好多的蜗牛，它们爬得很慢。（ ）
- 9、实验结束后，我们可以把蚯蚓随处乱放。（ ）
- 10、有时我们可以通过掂量感觉出物体的轻重。（ ）

三、连线题。（8分）

1、连连看。



蒲公英

狗尾草

三叶草

车前草

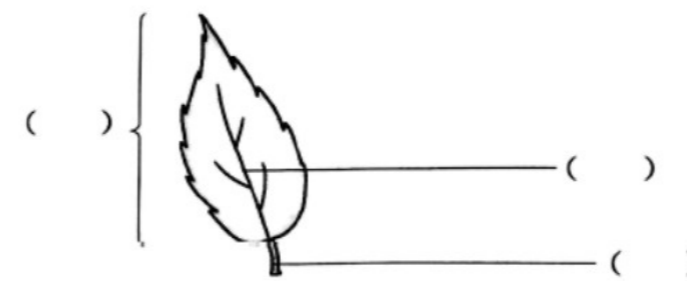
四、观察同一棵植物的叶子，我们发现：（每题3分，12分）



1. 同种植物的叶子，它们的（ ）是相同的。

- A. 颜色 B. 大小 C. 形状

2. 请在下图中填出叶子的结构。



- A. 叶柄 B. 叶片 C. 叶脉

五、在中间里写出水和空气的不同点，在两边里写出水和空气的相同点。

(10分)

一、

1、C

2、C

3、A

4、C

5、C

6、A

7、C

8、C

9、B

10、C

二、判断题。

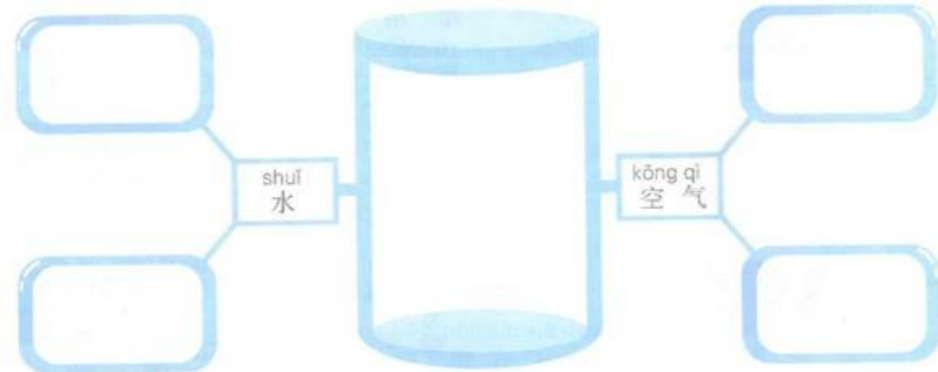
1、×

2、√

3、×

4、√

5、√



参考答案  
选择题。

6、×

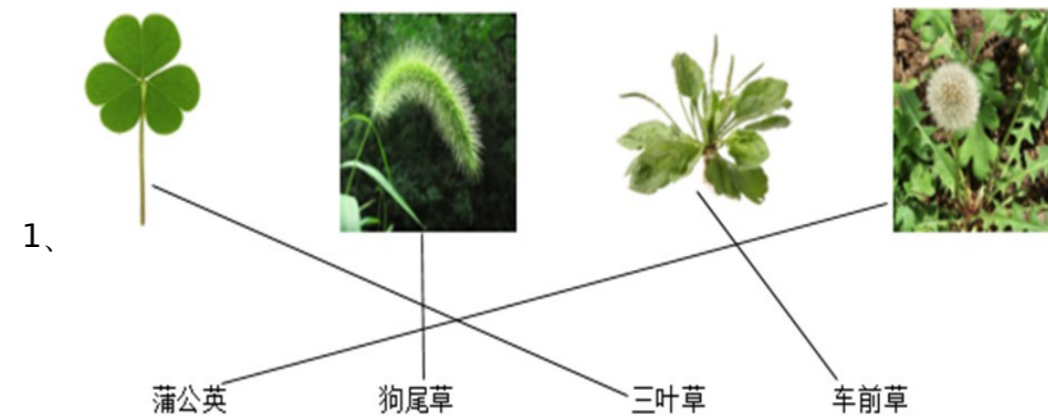
7、×

8、×

9、×

10、√

三、连线题。



四、观察同一棵植物的叶子，我们发现：

1、

1 . C

2 . B C A

五、在 里写出水和空气的不同点，在 里写出水和空气的相同点。

1、

