

历史

一、单项选择题（本大题共 20 小题，每小题 2 分，共 40 分。在每小题列出的四个选项中，

只有一项符合题目要求。请将答案按要求填涂在答题卡的相应位置）

1. 根据半坡遗址出土的骨针、骨锥，陶制和石制的纺轮，可推断出半坡人

- A. 会制作玉器
- B. 会简单的纺织和制衣
- C. 主要种植粟
- D. 会建造半地穴式房屋

【答案】 B

【解析】

【详解】根据“半坡遗址出土的骨针、骨锥，陶制和石制的纺轮”并结合所学内容可知，这些工具都与纺织技术有关，由此可以推断半坡人会简单的纺织和制衣，B 项正确；出土骨器和石器并不代表半坡人会制作玉器和主要种植粟，更不能说明半坡人会建造半地穴式房屋，排除 ACD 项。故选 B 项。

2. 老子主张“无为而治”孔子提倡“为政以德”，墨子主张“兼爱”“非攻”，韩非强调“以法治国”。他们提出这些主张的共同目的是

- A. 推崇西周制度
- B. 支持兼并战争
- C. 解决社会问题
- D. 追求精神自由

【答案】 C

【解析】

【详解】根据材料“无为而治”、“兼爱”“非攻”可知强调顺应自然，减少战争；“为政以德”、“以法治国”可知强调治国理政的理念；诸子百家提出这些主张的共同目的都是为了解决社会问题，C 项正确；韩非子代表新兴地主阶级的利益，不可能推崇西周制度，排除 A 项；墨家并不是支持兼并战争的，排除 B 项；“为政以德”、“以法治国”强调治国理政的理念，并不是追求精神自由，排除 D 项。故选 C 项。

3. 支持商鞅变法 秦孝公死后，商鞅被害，然而新法并没有被废止。这说明商鞅变法

- A. 得到了旧贵族势力的支持
- B. 顺应了历史发展潮流
- C. 维护了旧的政治经济秩序
- D. 遏制了地主阶级势力

【答案】 B

【解析】

【详解】商鞅死亡后他所推行的新法也没有被废止，说明商鞅推行的新法得到了民众的拥护，即商鞅变法顺应了历史发展潮流，B 项正确；商鞅变法被旧贵族势力所反对，没有维护旧的政治经济秩序，排除 AC 项；商鞅变法促进了地主阶级势力的发展，排除 D 项。故选 B 项。

4. 汉武帝元朔二年（公元前 127 年）至汉成帝永始三年（公元前 14 年），梁国按朝廷命令共分出十七个侯国。朝廷的这种做法

- A. 废除了郡县制度
- B. 增强了地方势力
- C. 导致了西汉灭亡
- D. 削弱了诸侯实力

【答案】D

【解析】

【详解】根据“梁国按朝廷命令共分出十七个侯国”并结合所学内容可知，汉武帝时期为了削弱地方诸侯国的势力实行了推恩令，梁国被分为十七个侯国就是实行推恩令的结果，这样就大大削弱了诸侯势力，D 项正确；朝廷的这种做法是为了削弱地方诸侯势力，并没有废除郡县制度和导致西汉灭亡，排除 AC 项；这种做法是削弱了地方诸侯实力，而非增强了地方势力，排除 B 项。故选 D 项。

5. 假如你是《清明上河图》所描绘场景中的一位市民，你向能做的事情是

- A. 欣赏蹴鞠表演
- B. 观看京剧演出
- C. 购买《红楼梦》
- D. 品尝烤红薯

【答案】A

【解析】

【详解】《清明上河图》描绘北宋东京汴河沿岸风光和繁华景象。蹴鞠表演在北宋时期是比较受到欢迎的活动，A 项正确；京剧和《红楼梦》都是清朝时期出现，排除 B 和 C 项；红薯是明朝中后期传入中国，排除 D 项。故选 A 项。

6. 下列选项中，对应正确的是

- A. 张仲景—“医圣”——创编出了“五禽戏”
- B. 杜甫—“诗仙”——诗歌反映了历史的真情实况
- C. 毕昇—发明活字印刷术——推动人类作战方式的巨大变化
- D. 宋应星——《天工开物》——“中国 17 世纪的工艺百科全书”

【答案】D

【解析】

【详解】结合所学内容可知，明代宋应星编撰的《天工开物》被称为中国 17 世纪的工艺百科全书，D 项正确；创编处五禽戏的是华佗，排除 A 项；杜甫被称为“诗圣”，排除 B 项；活字印刷术与人类作战方式的变化无关，排除 C 项。故选 D 项。

7. 郑和船队到达各国，先会见当地国王，表达明朝与他们通好的意愿，然后与当地居民和平贸易。郑和航海期间，许多国家的首脑和使臣，搭乘中国宝船来华访问。材料表明郑和远航

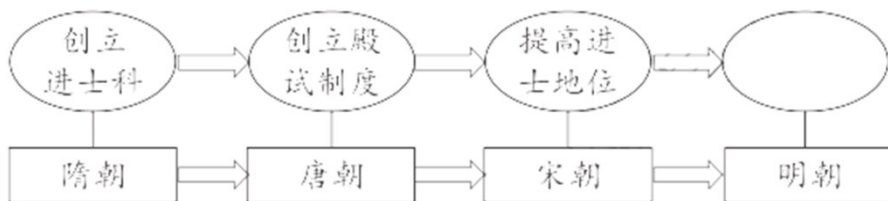
- A. 规模浩大
- B. 发展了与各国之间友好关系
- C. 时间跨度长
- D. 使世界开始连为一个整体

【答案】B

【解析】

【详解】根据材料“郑和船队到达各国，先会见当地国王，表达明朝与他们通好的意愿，然后与当地居民和平贸易。郑和航海期间，许多国家的首脑和使臣，搭乘中国宝船来华访问”可知，郑和远航发展了各国之间的友好关系，B项正确；材料不能体现郑和远航规模浩大，排除A项；材料没有涉及郑和远航的时间，排除C项；新航路开辟使世界开始连成一个整体，排除D项。故选B项。

8. 按下面图示的编制思路，其空白处应为



- A. 废除丞相制度 B. 设立“三司” C. 设立锦衣卫 D. 实行“八股取士”

【答案】D

【解析】

【详解】根据“创立进士科”、“创立殿试制度”、“提高仅是地位”等信息可知这都与科举制有关，明代为了加强思想控制，在科举上实行八股取士，D项正确；废除丞相制度、设立三司和设立锦衣卫都与科举制无关，排除ABC项。故选D项。

9. “6月3日，实行销毁，先于i门海滩，掘池引水，撒盐成卤，将鸦片剖切抛人泡浸……然后放入大洋，历时二十二日。”材料描述的历史事件是

- A. 虎门销烟 B. 太平天国运动 C. 甲午中日战争 D. 新文化运动

【答案】A

【解析】

【详解】根据材料“6月3日，实行销毁”、“掘池引水，撒盐成卤，将鸦片剖切抛人泡浸……然后放入大洋，历时二十二日”及所学知识可得，虎门销烟，1839年6月，中国清朝政府委任钦差大臣林则徐在广东虎门集中销毁鸦片的历史事件，A项正确；太平天国运动是清朝咸丰元年到同治三年(1851年-1864年)期间，发起的反对清朝封建统治和外国资本主义侵略的农民起义战争，是19世纪中叶中国最大的一场大规模反清运动，不符合题意，排除B项；1894年中日之间的甲午中日战争，是中国的半殖民地半封建化程度大大的加深，排除C项；1915年开始的新文化运动，解放了人们的思想，不符合题意，排除D项。故选A项。

10. 阅读下列清军兵力调动表，分析与此相关的历史事件是

命调时间	调出地	调入地	兵数(名)
------	-----	-----	-------

1858年4月	京师	大沽	2000
1858年12月	吉林	大沽	1000
1859年4月	黑龙江	天津	1000
1860年5月	宣化镇	大沽	1000

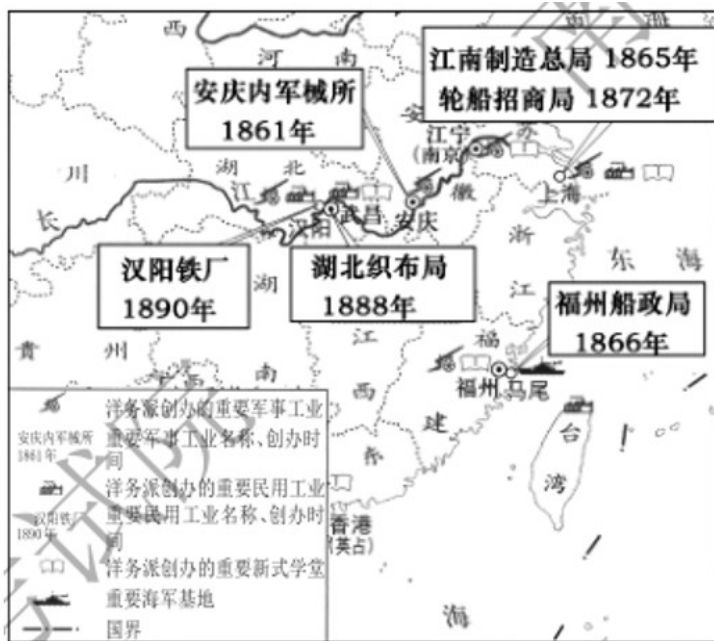
- A. 第二次鸦片战争 B. 戊戌变法 C. 八国联军侵华战争 D. 辛亥革命

【答案】A

【解析】

【详解】依据表格时间“1858-1860年”可知是第二次鸦片战争时期，A项正确；戊戌变法是19世纪末期，排除B项；八国联军侵华战争是1900年爆发，排除C项；辛亥革命是1911年，排除D项。故选A项。

11. 下列是历史兴趣小组给下图拟定的标题，合适的是



- A. 洋务运动示意图 B. 沙俄侵占我国领土示意图.
C. 义和团运动形势示意图 D. 列强在华势力范围”示意图

【答案】A

【解析】

【详解】根据材料所给时间可知，该事件发生在19世纪60—90年代。根据材料所给企业名称可知，这是洋务运动时期创办的企业，据此可以拟定的题目是洋务运动示意图，A项正确；材料没有涉及沙俄侵占我国领土，排除B项；义和团运动发生在19世纪末，排除C项；列强在华势力范围划分是在甲午战后，排除D项。故选A项。

12. 蒋介石说：“（朱毛红军）窜川南时，对人民毫无骚扰，有因饿取食土中萝卜者，每取一头，必置铜元一枚于土中。”据此推断

- A. 中国共产党从幼年走向成熟
- B. 红军纪律严明有利于赢得民心
- C. 中国人民开始艰苦卓绝的抗战
- D. 抗日民族统一战线正式建立

【答案】 B

【解析】

【详解】 根据材料“对人民毫无骚扰，有因饿取食土中萝卜者，每取一头，必置铜元一枚于土中”可知红军有严明的纪律，能够赢得民心，促进新民主主义革命的胜利，B项正确；遵义会议标志中国共产党从幼年走向成熟，排除A项；材料信息强调的是土地革命时期，并不是抗日战争时期，也没有涉及抗日民族统一战线建立问题，排除C、D两项。故选B项。

13. “没有这场深刻的社会大变动，不把占中国人口绝大多数的农民从长期的封建压迫下解放出来，中国的民主化、工业化和现代化是根本谈不上的。”这场“社会大变动”是

- A. 土地改革运动
- B. 农业合作化运动
- C. 人民公社化运动
- D. 实行家庭联产承包责任制

【答案】 A

【解析】

【详解】 根据“不把占中国人口绝大多数的农民从长期的封建压迫下解放出来，中国的民主化、工业化和现代化是根本谈不上的”并结合所学内容可知，将农民从长期的封建压迫下解放出来的是土地改革运动，土地改革运动废除了封建土地制度，A项正确；农业合作化运动、人民公社化运动和家庭联产承包责任制的实行都是在农民从长期的封建压迫下解放出来以后，排除BCD项。故选A项。

14. 下图反映了2013—2017年全国居民人均可支配收入的变化情况，这体现了我国



- A. 民主政治制度不断完善
- B. 外交事业取得巨大成就
- C. 人民生活水平不断提高
- D. 国防和军队建设发展迅速

【答案】 C

【解析】

【详解】 根据图示内容可以看出，2013—2017年我国居民的人均支配收入在不断提升，这说明人民的生活水平不断提高，B项正确；人均可支配收入的不断提高并不能证明民主政治制度的不断完善、外交事业取得巨大成就，更不能说明国防和军队建设发展迅速，排除ABD项。故选C项。

15. 胡夫金字塔修建时至少有10万人参加，花费了20年时间，意味着要对全国的人力物力资源进行大规模的组织和调用。这说明古埃及

- A. 文明走向衰落
- B. 成为强大封建帝国
- C. 外族入侵严重
- D. 国王权力至高无上

【答案】 D

【解析】

【详解】 根据材料“胡夫金字塔修建时至少有10万人参加，花费了20年时间，意味着要对全国的人力物力资源进行大规模的组织和调用”可知，胡夫金字塔修建需要调集全国的人力物力资源，这说明国王的权力至高无上。只有国王权力至高无上才能调集全国的人力物力资源，D项正确；材料没有涉及文明走向衰落，排除A项；胡夫在位时，古埃及还是奴隶社会，排除B项；材料没有涉及外族入侵，排除C项。故选D项。

16. 古巴比伦王国与拜占庭帝国的相同点是

- A. 实行森严的种姓制度
- B. 统治中心位于地中海中部
- C. 疆域跨欧亚非三大洲
- D. 颁布维护统治的成文法典

【答案】 D

【解析】

【详解】 依据所学知识，古巴比伦国王汉谟拉比在位时颁布了著名的《汉谟拉比法典》，拜占庭帝国皇帝查士丁尼在位时期组织编撰著名的罗马《民法大全》，因此两者的相同点是颁布维护统治的成文法典，D项正确；古印度实行森严的种姓制度，排除A项；古巴比伦王国统治中心位于西亚两河流域，排除B项；古巴比伦王国的疆域并没有跨欧亚非三大洲，排除C项。故选D项。

17. 共产主义者同盟第二次代表大会一致赞同了马克思、恩格斯所阐述的原理，并委托他俩起草宣言，1848年宣言正式出版。该宣言

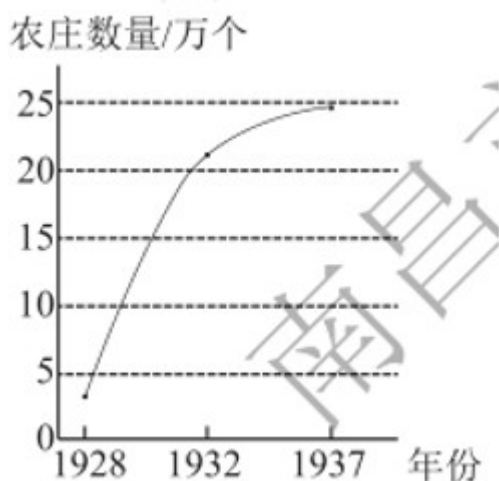
- A. 推动了欧美资产阶级革命
- B. 导致社会分裂成两大对立阶级
- C. 揭示了人类社会发 展规律
- D. 标志着第一个无产阶级政权的建立

【答案】 C

【解析】

【详解】根据题干材料中“共产主义者同盟……马克思、恩格斯……他俩起草宣言，1848年宣言正式出版”，结合所学知识可以判断，题干材料提到的宣言是《共产党宣言》，它的发表标志着马克思主义的诞生，第一次创立了人民实现自身解放的思想体系，创造性地揭示了人类社会发展规律。故C项正确；《共产党宣言》号召工人组织起来，建立无产阶级自己的政党，用暴力推翻资产阶级统治，进行无产阶级革命，A项排除；导致社会分裂成两大对立阶级的是资本主义的发展，不是《共产党宣言》的发表，B项排除；第一个无产阶级政权是1871年巴黎公社，D项排除；故选C项。

18. 下图是苏联 1928—1937 年集体农庄数量变化图。出现这一变化的主要原因是



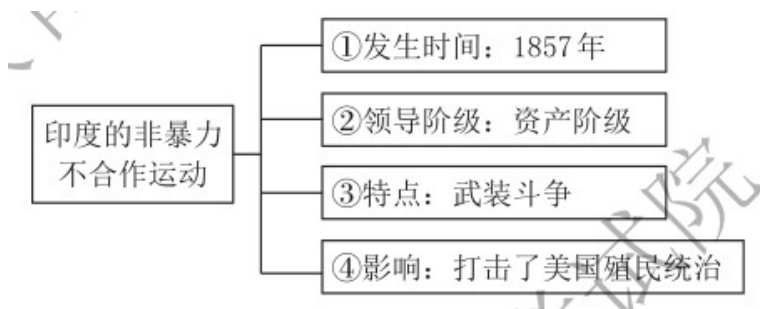
- A. 新经济政策实施
- B. 农业集体化运动
- C. 经济大危机影响
- D. 戈尔巴乔夫改革

【答案】B

【解析】

【详解】根据材料“苏联 1928—1937 年集体农庄数量变化图”及所学知识可得，在斯大林时期为了社会主义建设农业实行集体化，B项正确；新经济政策是在1921年列宁时期开始推行的，不符合题意，排除A项；资本主义世界经济大危机对苏联影响是有限的，不符合题意，排除C项；戈尔巴乔夫在1985年上台的，排除D项。故选B项。

19. 下面是“印度的非暴力不合作运动”知识结构图，其中内容正确的是



A. ①

B. ②

C. ③

D. ④

【答案】 A

【解析】

【详解】 根据所学可知，1920年，以甘地为首的印度民族资产阶级领导了非暴力不合作运动，它以非暴力的方式，打击了英国的殖民统治，A项正确；时间是1920年而不是1857年，特点是非暴力而非武装斗争，打击了英国而不是美国的殖民统治，排除BCD三项。故选A项。

20. 漫画反映了



A. 德国分裂

B. 欧洲联合

C. 东欧剧变

D. 苏联解体

【答案】 A

【解析】

【详解】 根据所学可知，在冷战中，1949年，美国支持西德建国，苏联支持东德建国，德国分裂了，它体现了冷战的加剧，A项正确；欧洲联合是在二十世纪五十年代以后，东欧剧变、苏联解体是在二十世纪八十年代末九十年代初，排除BCD三项。故选A项。

二、综合题（本大题共4小题，共40分）>

21. 阅读下列材料，回答问题。

小宋同学学习中国古代史后，对七个主题单元知识进行了整理，以下是他的学习笔记：

笔记一	笔记二
时期：三国两晋南北朝时期	时期：
时代特征：政权分立与民族交融	时代特征：
内容：	内容：
1. 赤壁之战	1.
2.	2.
3. 北魏孝文帝改革	3.
4. 北方地区民族交融	4.

(1) 请补全笔记一内容。

(2) 请从下列提供的学习内容中选取四个，参照笔记一完成笔记二。

夏朝的建立、开通大运河、辽与北宋的和战、经济重心南移完成
元朝的建立与统一、春秋时期的经济发展、“贞观之治”
诸侯争霸、鉴真东渡、宋词元曲、战国七雄、开放的社会风气

【答案】 (1) 三国鼎立；江南地区的开发。

(2) 示例：时期：隋唐时期》时代特征：繁荣与开放的时代内容：升通大运河“贞观之治”开放的社会风气
鉴真东渡。

【解析】

小问1详解】

根据笔记一“三国两晋南北朝时期”得出三国鼎立；江南地区的开发。

【小问2详解】

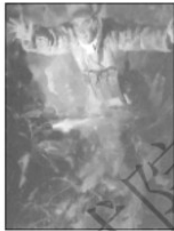
示例：时期：如从图片中选择《隋唐时期》，结合所学隋唐时期的史实得出其时代特征是繁荣与开放的时代；结合所学隋唐时期的经济发展和外交史实得出内容：开通大运河，出现“贞观之治”的盛世局面，当时有开放的社会风气，对外有鉴真东渡日本。

22. 阅读下列材料，回答问题。

历史兴趣小组开展以“中外历史人物”为主题的探究活动，以下是他们收集的人物图片所组成的人物图谱：



①赵登禹



②黄继光



③雷锋



④但丁



⑤贝多芬

(1) 请从图中任选两位历史人物，分别简述其突出贡献或主要事迹。

(2) 请在上面人物图谱中增加两位为我国“两弹一星”事业作出突出贡献的科学家（只写人名），并结合所学知识概括“两弹一星”精神。

【答案】 (1) 示例：雷锋：干一行爱一行，在每个岗位上都兢兢业业地工作，甘当革命的螺丝钉。被称为解放军的好战士。但丁：代表作《神曲》。是文艺复兴的先驱。

(2) 邓稼先、钱学森。“两弹一星”精神：热爱祖国、无私奉献，自动更生、艰苦奋斗，大力协同、勇于攀登。

【解析】

【小问1详解】

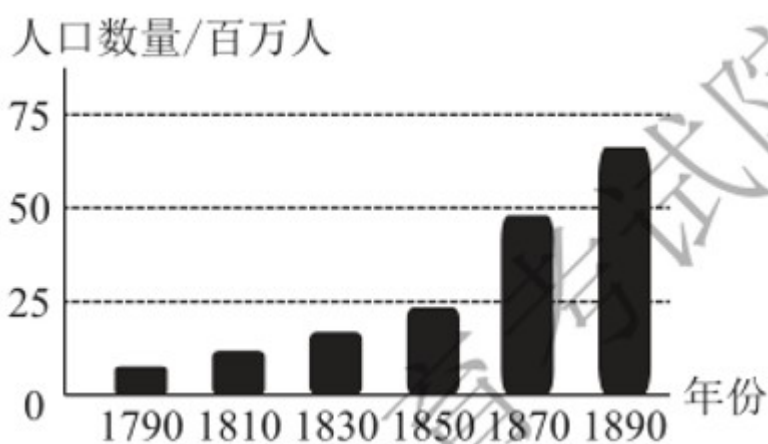
根据“中外历史人物”图谱，如选择雷锋：结合所学雷锋精神得出雷锋干一行爱一行，在每个岗位上都兢兢业业地工作，甘当革命的螺丝钉。被称为解放军的好战士。但丁：结合所学但丁的著作和地位得出他的代表作是《神曲》，他是文艺复兴的先驱。

【小问2详解】

根据材料“为我国‘两弹一星’事业作出突出贡献的科学家”得出邓稼先、钱学森。“两弹一星”精神：结合所学邓稼先、钱学森的优秀品质得出热爱祖国、无私奉献，自动更生、艰苦奋斗，大力协同、勇于攀登。

23. 阅读下列材料，回答问题。

材料一



(1) 根据材料一并结合所学知识，写出与美国人口增长相关的历史事件。

材料二 1913-1920年欧洲部分国家的总人口（单位：百万人）

国家	1913年	1920年
俄国	175.1	126.6
德国	66.9	42.8
奥匈帝国	52.1	—
法国	39.7	39.0
英国	45.6	44.4

—摘编自【英】保罗·肯尼迪《大国的兴衰》

(2) 请从材料二中提取一项历史信息，并运用所学知识加以说明。

材料三 20世纪50年代以后，世界人口进入了有史以来的第三次加快增长时期。1950-1975年，世

界人口增长了 15 亿，其中 12 亿在发展中国家。这与发展中国家新独立后政治、经济、社会条件的改善医疗水平的提高有关。

——摘编自吴于廑、齐世荣《世界史·现代史编》

(3) 根据材料三，概括 1950-1975 年世界人口增长的特点。

(4) 综合上述材料，归纳影响人口变化的因素。

【答案】 (1) 工业革命；美国内战。

(2) 示例一：信息：欧洲主要国家人口下降。说明：一战造成欧洲大量人员伤亡。

示例二：信息：奥匈帝国在 1920 年没有人口统计数据。说明：第一次世界大战后奥匈帝国解体。

(3) 发展中国家人口增长速度快于发达国家。

(4) 经济发展；战争；政治制度等。

【解析】

【小问 1 详解】

根据材料所给数据分析可知，1790-1890 年，美国人口快速增长。结合所学知识可知，19 世纪上半期，美国进行了工业革命，工业革命极大地推动了生产力的发展，促进了人口的迅速增长。1861-1865 年，美国进行了内战，经过内战扫清了资本主义发展的障碍，促进了资本主义的发展，促进了人口的迅速增长。

【小问 2 详解】

根据材料所给时间“1913”“1920”可知，1913-1920 年，这一期间爆发了第一次世界大战。一战的爆发，使欧洲主要国家人口下降。经过第一次世界大战，奥匈帝国分裂，因此，1920 年，没有统计奥匈帝国的人口数据。

【小问 3 详解】

根据材料“20 世纪 50 年代以后，世界人口进入了有史以来的第三次加快增长时期。1950-1975 年，世界人口增长了 15 亿，其中 12 亿在发展中国家。这与发展中国家新独立后政治、经济、社会条件的改善医疗水平的提高有关。”可知，发展中国家人口增长速度快于发达国家。

【小问 4 详解】

根据上述材料和问题的探究可知，影响人口变化的因素有经济发展；战争；政治制度。

24. 利用多种课程资源，有助于我们学习和感悟历史 X 阅读下列材料，回答问题。

【历史报刊】

材料一

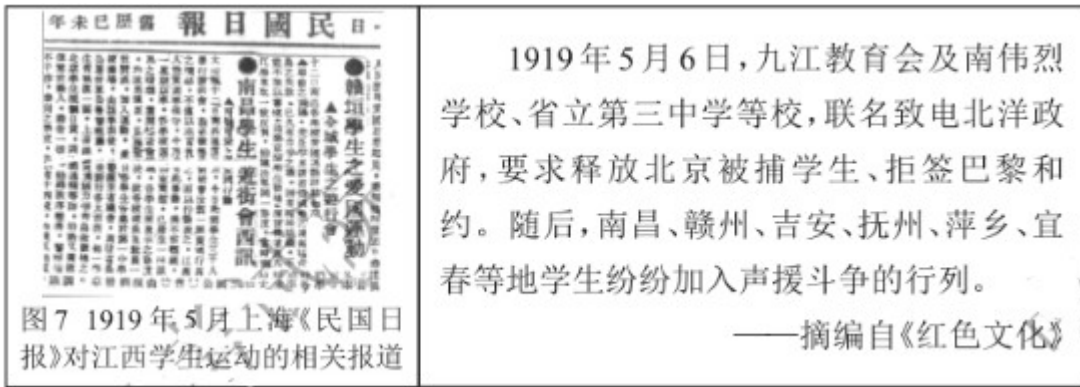


图7 1919年5月上海《民国日报》对江西学生运动的相关报道

1919年5月6日，九江教育会及南伟烈学校、省立第三中学等校，联名致电北洋政府，要求释放北京被捕学生、拒签巴黎和约。随后，南昌、赣州、吉安、抚州、萍乡、宜春等地学生纷纷加入声援斗争的行列。

——摘编自《红色文化》

(1) 结合所学知识，指出材料一中江西学生运动声援的历史事件，并谈谈你对江西学生运动的认识。

【历史文献】

材料二 这次北伐人湘、人赣，得民众之援助极大，尤其是江西方面，农民参战更为踊跃。如攻新喻（令新余）时，北伐军已不支，农民（约二百人）用土炮逐走敌人，北伐军遂得冲上……攻入南昌，退出南昌，皆得农民之助力不小，不然，北伐军之损失更大。此外，如一路之送茶送饭，觅渡肩挑，或代觅米粮等，则到处如是，给北伐军以种种便利。

——摘自《中央局报告》（1926年12月5日）

(2) 根据材料二，概述江西农民在北伐战争中所起的作用。

【历史绘画】

材料三



何孔德《井冈山会师》(油画)

(3) 请结合史实，简述图中反映的历史故事。（要求：语言简洁，观点正确，思想健康）

【历史年表】

材料四

时间	事件
----	----

1954年7月	国营320厂制造的第一架“雅克-18型”飞机升空飞行
1954年12月	南昌柴油机厂试制成功我国第一分（30匹马力）移动式空气压缩机
1955年7月	江西省内第一个重点火电工程——南昌发电厂开工建设
1955年11月	江西省重点工程——乐平钟家山煤矿新建的竖井正式投入生产

(4) 根据材料四并结合所学知识，分析取得这些成就的主要原因。

(5) 综合上述材料，谈谈你 历史感悟。

【答案】 (1) 五四运动。具有反帝反封建的性质；江西青年学生为捍卫国家主权站在时代前列；壮大了爱国运动的力量；有力地支持和配合了五四运动。

(2) 积极参战，提供后勤保障，有力配合北伐。

(3) 示例：

1928年4月，朱德、陈毅率领南昌起义的部分军队和湘南的工农武装，与毛泽东率领的工农革命军在井冈山会师。两军会师后，合编为中国工农革命军第四军，不久改称为中国工农红军第四军。会师后的红军在井冈山开展武装斗争，井冈山根据地不断巩固和扩大。

(4) 新中国的成立；党和政府的正确领导；第一个五年计划的实行。

(5) 江西是一片红色土地，为中国新民主主义革命和社会主义建设作出重大贡献。

【解析】

【小问1详解】

根据材料“1919年5月6日”“释放被捕学生”并结合所学可知，江西学生运动声援的历史事件是五四运动。结合所学五四运动的性质得出具有反帝反封建的性质；根据材料“联名致电北洋政府”得出江西青年学生为捍卫国家主权站在时代前列，壮大了爱国运动的力量，有力地支持和配合了五四运动。

【小问2详解】

根据材料“得民众之援助极大，尤其是江西方面，农民参战更为踊跃”、“如一路之送茶送饭，觅渡肩挑，或代觅米粮等，则到处如是，给北伐军以种种便利”得出积极参战，提供后勤保障，有力配合北伐。

【小问3详解】

根据图片名称：《井冈山会师》并结合所学可知，1928年4月，朱德、陈毅率领南昌起义的部分军队和湘南的工农武装，与毛泽东率领的工农革命军在井冈山会师。结合所学革命军的建立过程得出两军会师后，合编为中国工农革命军第四军，不久改称为中国工农红军第四军。结合所学井冈山革命根据地的作用得出

会师后的红军在井冈山开展武装斗争，井冈山根据地不断巩固和扩大。

【小问 4 详解】

根据材料“1954 年 7 月”并结合所学得出新中国 成立；根据材料“国营 320 厂制造的第一架‘雅克-18 型’并结合所学得出飞机升空飞行”党和政府的正确领导；根据材料“1954 年--1955 年”并结合所学得出第一个五年计划的实行。

【小问 5 详解】

根据材料“尤其是江西方面，农民参战更为踊跃”、“江西省内第一个重点火电工程——南昌发电厂开工建设”并结合所学得出江西是一片红色土地，为中国新民主主义革命和社会主义建设作出重大贡献。

