

2021年湘潭市初中学业水平考试

一.单项选择题(每小题2分,共40分)

1. 2021年,四川三星堆遗址再次因出土的青铜神树、纵目青铜面具等独具地方特色的文物而引起广泛关注。该遗址其实也发现了如青铜尊、青铜鼎、玉璋、玉琮、玉璧等与黄河流域一致的文物,而浙江良渚遗址也曾出土了与之造型相似的玉琮。以上现象说明()

- A. 古蜀文化相对先进
- B. 中华文明多元一体
- C. 审美观念趋向同一
- D. 南北文化渐趋一致

【答案】 B

【解析】

【详解】 根据“该遗址其实也发现了如青铜尊、青铜鼎、玉璋、玉琮、玉璧等与黄河流域一致 文物,而浙江良渚遗址也曾出土了与之造型相似的玉琮。”可得出中华文明的起源是多元一体的, B 正确;没有比较是谁更先进,排除 A; CD 项都太绝对,排除。故选 B。

2. 汉代发展了中医学的理论和治疗方法,提出“治未病”理论的医学著作是()

- A. 《伤寒杂病论》
- B. 《史记》
- C. 《千金方》
- D. 《本草纲目》

【答案】 A

【解析】

【详解】 结合所学知识可知,张仲景是东汉末年名医,著有《伤寒杂病论》,全面阐述了中医理论和治病原则,总结了各种疾病的症候,提出“辨证施治”,还提出“治未病”理论。故 A 符合题意;《史记》是史学名著,排除 B;《千金方》是唐朝孙思邈所著,排除 C;《本草纲目》是明朝李时珍所著,排除 D。故选 A。

3. 《太平广记》载:不论士举子,皆以科举“建功树名,出将入相”。该现象始于()

- A. 西汉
- B. 隋唐
- C. 两宋
- D. 明清

【答案】 B

【解析】

【详解】 依据题干的“科举”结合所学知识可知,科举制诞生于隋朝,完善于唐朝。故“不论士举子,皆以科举‘建功树名,出将入相’”始于隋唐,故 B 符合题意;西汉还未出现科举制,排除 A;两宋 和明清晚于隋唐时期,排除 CD。故选 B。

4. 梁启超在《变法通议》中说：“法者天下之公器，变者天下之公理，”于是他组织参与了()

- A. 查禁鸦片,虎门销烟
- B. 力陈变法,推行维新
- C. 组织起义,推翻清朝
- D. 宣传礼教,主张复辟

【答案】 B

【解析】

【详解】根据所学，梁启超是维新派的代表，其主张宣扬维新思想，变法图存，B正确；A是林则徐，C是孙中山，D是袁世凯，排除。故选B。

5. 1901年，有报纸刊登了一篇评论，愤怒地指出清政府已成为“洋人 朝廷”。该评论与下列哪一条约的签订有关()

- A. 《南京条约》
- B. 《马关条约》
- C. 《北京条约》
- D. 《辛丑条约》

【答案】 D

【解析】

【详解】结合所学知识可知，八国联军侵华战争失败后，1901年，清政府被迫同英、美、俄、日、法、德、意、奥等国，签订了《辛丑条约》。条约规定清政府赔偿4.5亿两，以海关等税收作担保；清政府保证禁止人民参加反帝运动；清政府拆毁大沽炮台，允许帝国主义国家派兵驻扎北京到山海关铁路沿线要地；划定北京东交民巷为使馆界，允许各国派兵保护，不准中国人居住。《辛丑条约》的签订，使清政府完全成为帝国主义统治中国的工具，中国完全沦为半殖民地半封建社会。因此清政府已成为“洋人的朝廷”。选项D符合题意；选项ABC不符合题意，故选D。

6. 以下对民国初年社会生活的描述,符合史实的是()

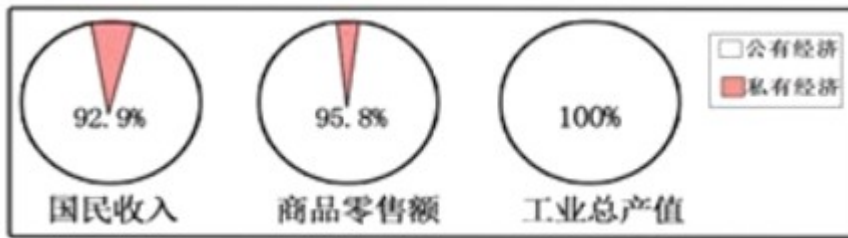
- A. 辛亥革命后,仍然有人蓄辫
- B. 新式婚礼取代传统婚礼成为主流
- C. 公众场所已无传统长袍马褂的身影
- D. 即使在偏远乡村,过年也不再向长辈头行礼

【答案】 A

【解析】

【详解】根据所学，即使是在辛亥革命后,仍然有人蓄辫，反映出封建思想的根深蒂固，A正确；主流的说法错误，排除B；CD项太绝对，排除。故选A。

7. 下图反映了我国某时期公私经济成分比例。与此现象相关的历史事件是()



- A. 土地改革全部完成
- B. 农业合作化运动开展
- C. 三大改造基本完成
- D. 国民经济调整到位

【答案】 C

【解析】

【详解】 从公私经济成分比例可以看出，其公有的成分已经占据绝大部分，工业总产值达到 100%，这是三大改造的结果，社会主义公有制建立，故 C 项正确；ABD 项都与之无关，排除。故选 C。

8. 扎根兰考,为改变当地落后面貌躬尽,被人民称颂为“党的好干部”的是()

- A. 雷锋
- B. 焦裕禄
- C. 王进喜
- D. 邓稼先

【答案】 B

【解析】

【详解】 根据所学，焦裕禄是原兰考县委书记，干部楷模，中国共产党革命烈士。在兰考担任县委书记时所表现出来的“亲民爱民、艰苦奋斗、科学求实、迎难而上、无私奉献”的精神，被后人称之为“焦裕禄精神”，B 正确；ACD 项与兰考没有关系，排除。故选 B。

9. 它是欧洲文明的摇篮,奥林匹克的故乡,“它”是

- A. 古代埃及
- B. 古代巴比伦
- C. 古代希腊
- D. 古代罗马

【答案】 C

【解析】

【详解】 结合所学知识可知，古希腊是西方文明之源，是欧洲文明的摇篮。古希腊是奥林匹克运动会的发源地，故 C 符合题意；古代埃及地处非洲，排除 A；古代巴比伦地处西亚两河流域，排除 B；古代罗马不是奥林匹克的故乡，排除 D。故选 C。

10. 下列表述正确的是()

- A. 《汉谟拉比法典》是古代埃及留给人类的宝文化遗产
- B. 《十二铜表法》属于万民法
- C. 《罗马民法大全》奠定了欧洲民法的基础
- D. 《拿破仑法典》维护了封建专制制度

【答案】 C

【解析】

【详解】 结合所学知识可知，东罗马帝国皇帝查士丁尼上台后，组织法典编纂委员会，经过 6 年努力，编成《查士丁尼法典》，同时把历代罗马法学家有关法律问题的论文和著作汇编为《法学汇纂》，又编成指导学习法律文献的《法理概要》。后来，查士丁尼又命人将自己执政时期的法令编辑为《新法典》。以上这 4 部法律文献统称为《罗马民法大全》；《民法大全》规定了奴隶制帝国的统治秩序，从法律上肯定了皇帝的专制权力，把皇权视为至高无上，《罗马民法大全》被誉为欧洲民法的基础。选项 C 符合题意；《汉谟拉比法典》是古代巴比伦留给人类的宝文化遗产，A 排除；《十二铜表法》是罗马法制建设的第一步，是后世罗马法典乃至欧洲法学的渊源；万民法是用来调整罗马公民与异邦人之间、异邦人与异邦人之间民事法律关系的罗马法律，B 排除；《拿破仑法典》维护了资本主义制度，D 排除。故选 C。

11. 以人文主义为核心,要求打破教会束缚的思想解放运动是()

- A. 文艺复兴 B. 启蒙运动 C. 新文化运动 D. 社会主义运动

【答案】 A

【解析】

【分析】

【详解】 依据所学知识可知，文艺复兴以人文主义为核心，要求打破教会束缚，故 A 正确；启蒙运动的旗帜是理性主义，故 B 错误；新文化运动前期指导思想是民主与科学，故 C 错误；社会主义运动在 18 世纪中期兴起，故 D 错误。

12. 1689 年某国通过的一部法案规定：“凡未经议会同意,以国王权威停止法律实施之越权力,为非法权力。”据此推断该国家是()

- A. 日本 B. 德国 C. 法国 D. 英国

【答案】 D

【解析】

【详解】 根据“凡未经议会同意,以国王权威停止法律实施之越权力,为非法权力。”及时间信息可得出这是英国颁布 《权利法案》，奠定了英国君主立宪制的法律基础，D 项正确；排除 ABC。

13. 1921 年,苏俄政府以粮食税代替余粮征集制,允许私人经营中小企业,这反映了当时苏俄正在实施()

- A. 新经济政策 B. 斯大林模式 C. 赫鲁晓夫改革 D. 戈尔巴乔夫改革

【答案】 A

【解析】

【详解】 根据所学，1921 年苏俄实行新经济政策，以固定的粮食税代替余粮征集制，A 正确；BCD 项时

间不符合，排除。

14. 下表反映了 1929~1931 年美国部分行业工人周工资变化。对此变化解释正确的是()

类别\时间	1929~1930 年	1930~1931 年
烟煤业	-12.3%	-1.91%
金属矿业	-6.6%	-18.3%
制造业	-7.2%	-11.3%

- A. 国家不断降低工资标准
- B. 美国正在调整产业结构
- C. 经济危机程度不断加深
- D. 世界大战破坏国家经济

【答案】 C

【解析】

【分析】

【详解】 由表格数据可知，1929~1931 年美国部分行业工人周工资都在不同程度的下降。这一变化会加剧消费不足的状况，从而使经济危机程度不断加深，故 C 正确；此时美国的工资标准不是由国家控制的，故 A 错误；材料体现不出美国正在调整产业结构，故 B 错误；此时世界大战还未全面爆发，故 D 错误。

15. 20 世纪以来,煤炭在世界能源消费构成中比重下降,石油比重上升,这源于哪一科技成果的广泛应用()


- A. 蒸汽机
- B. 发电机
- C. 内燃机
- D. 计算机

【答案】 C

【解析】

【详解】 根据所学，在第二次工业革命中发明了内燃机，其使用的燃料是石油，故石油比重上升，C 正确；ABD 项都与之没有直接关系，排除。故选 C。

16. 下图雕塑立于联合国门前,名为《(扭曲的手枪)》,其旨在呼吁()



- A. 和平
- B. 发展
- C. 平等
- D. 团结

【答案】 A

【解析】

【详解】《扭曲的手枪》意味着不要战争，而要和平，A 正确；BCD 项与主旨无关，排除。故选 A。

17. 下列考古成就中,对研究三国时期历史具有重要意义的是

- A. 宁乡四羊方尊
- B. 长沙走马楼吴简
- C. 里耶秦简
- D. 随县编钟

【答案】 B

【解析】

【详解】1996 年在湖南长沙走马楼出土了三国时期吴国的简牍数量大约有 10 余万片，多达 200 余万字，这批简牍包括木简、竹简、木牍、签牌和封检等，上有三国吴嘉禾元年(232)至嘉禾六年(237)的年号。B 项正确；A 项是商代的，C 项是秦朝的，D 项是战国的，排除。

18. 宋代书院教育盛行。下列书院位于长沙的是()

- A. 石鼓书院
- B. 白鹿洞书院
- C. 嵩阳书院
- D. 岳麓书院

【答案】 D

【解析】

【详解】根据所学，岳麓书院在今湖南长沙岳麓区岳麓山；石鼓书院位于湖南省中南重要城市衡阳市石鼓区石鼓山；白鹿洞书院在今江西九江庐山市庐山；嵩阳书院位于河南省郑州市登封市。故 D 项正确，排除 ABC。

19. 俗话说“无湘不成军”,在中国近代历史上创办湘军的是

- A. 李鸿章
- B. 张之洞
- C. 石达开
- D. 曾国藩

【答案】 D

【解析】

【详解】结合所学可知，湘军是晚清时对湖南地方军队的称呼，或称湘勇，其由曾国藩创办，故选 D；李鸿章创办的是淮军，排除 A；张之洞编练的是湖北新军，排除 B；石达开为太平天国将领，湘军并非由其创办，排除 C。

20. 沈从文是我国著名的文学家,他的代表作品是()

- A. 《水浒传》
- B. 《红楼梦》
- C. 《暴风骤雨》
- D. 《边城》

【答案】 D

【解析】

【详解】《边城》是沈从文创作的中篇小说，首次出版于 1934 年。该小说以 20 世纪 30 年代川湘交界的

边城小镇茶峒为背景，以兼具抒情诗和小品文的优美笔触，描绘了湘西地区特有的风土人情；借船家少女翠翠的纯爱故事，展现出了人性的善良美好。D项正确；ABC项与沈从文无关，排除。故选D。

二、判断题(每小通1分,共10分)

21. 元朝废除了丞相制度。()

【答案】错误。

【解析】

【分析】

【详解】依据所学知识可知，明太祖朱元璋废除了丞相制度，故错误。

22. 1912年1月1日,黄兴在南京宣誓就职,宣告中华民国临时政府成立。()

【答案】错误。

【解析】

【分析】

【详解】依据所学知识可知，1912年1月1日，孙中山在南京宣誓就职，宣告中华民国临时政府成立，故错误。

23. 五四运动是中国新民主主义革命的开端。

【答案】正确

【解析】

【详解】根据所学，1919年的五四运动是中国新民主主义革命的开端，无产阶级登上政治舞台。故正确。

24. 新中国奉行独立自主 和平外交政策。

【答案】正确

【解析】

【详解】根据所学，新中国奉行独立自主的和平外交政策，故正确。

25. 《天方夜谭》是古罗马文学的瑰宝。

【答案】错误

【解析】

【详解】结合所学知识可知，《天方夜谭》是阿拉伯民间故事集，是阿拉伯文学的瑰宝。故本题说法错误。

26. 巴黎公社是世界上第一次无产阶级专政的伟大尝试()

【答案】正确

【解析】

【分析】

【详解】依据所学知识可知，1871年的巴黎公社打碎了旧的国家机器，建立了世界上第一个无产阶级专政

的雏形，故正确。

27. 莫斯科保卫战是二战的转折点。

【答案】错误

【解析】

【详解】结合所学知识可知，1942——1943年的斯大林格勒保卫战是第二次世界大战的转折点。故本题说法错误。

28. 东欧剧变是指东欧各国的社会制度都发生了根本性变化

【答案】错误

【解析】

【详解】根据所学，东欧剧变是东欧各个社会主义国家的政治经济制度发生根本性的改变，并不是东欧各国，故错误。

29. 抗日战争受降纪念坊,位于湖南怀化芷江。

【答案】正确

【解析】

【详解】中国人民抗日战争胜利受降纪念馆，位于湖南省怀化市芷江侗族自治县 320 国道西侧。故正确。

30. “人民艺术家”齐白石的籍贯是益阳。

【答案】错误

【解析】

【详解】齐白石的祖籍是安徽宿州砀山，故错误。


三、材料分析题(本大题共 2 小题,第 31 题 12 分,第 32 题 13 分,共 25 分)

31. 文物是人类社会历史文化遗存的证物,是人类文明传承发展的印记史料价值是指历史材料对于说明一定历史现象所具有的价值。阅读材料,完成下列要求。


材料一 中国古代货币



材料二 唐墓的陪葬品



材料三 历史教材某课中的文物材料



(1)根据材料一,概括中国古代货币演变的规律。

(2)材料二反映了唐朝哪些史实?据此你可以得出哪一结论?

(3)根据材料三结合所学知识,推断本课教材的学习主题,并补充一例与主题相关的史实。图片中的文物哪些对于此主题研究具有更高史料价值,请写出对应序号。

(4)文物提供了丰富的历史信息供研究者多角度研究。再仔细阅读三组材料,请以其中组为例,选出你的研究角度。

【答案】 (1)大多采用铜钱;大多是外圆内方的形制;货币的重量稳定不变等。

(2)唐朝与阿拉伯、欧洲和非洲都有交往;开放外交政策。

(3)对边疆地区管辖和维护国家统一;郑成功收复台湾(意思相近即可);A、D。

(4)本题为开放性试题,答案言之成理即可。例如根据材料二,由“大食人俑”,可知大食人是古代阿拉伯人,说明唐朝与阿拉伯帝国有交往;“东罗马金币”出现在唐朝,说明唐朝与欧洲罗马帝国彼此交流;由“非洲黑人俑”,可知非洲黑人与唐朝的交往。因此研究角度是唐朝的外交,反映唐朝实行积极对外交往的开放外交政策。

【解析】

【详解】 (1)根据材料一,结合所学知识可知,秦朝统一全国后,使用货币是外圆内方的“秦半两”,一直到清朝钱币大小差不多;可知中国古代货币演变的规律,是大多都采用铜钱,大多是外圆内方的形制,货币的重量稳定不变等。

(2)根据材料二“大食人俑”、“东罗马金币”、“非洲黑人俑”,结合所学知识可知,大食人俑、东罗马金币、非洲黑人俑等文物反映出了唐朝与阿拉伯、欧洲和非洲都有交往;因此得出唐朝实行积极对外交往的开放外交政策。

(3)根据材料三,结合所学知识,册封达赖、班禅,加强对西藏地区的管理;康熙三次率军亲征,平定

了蒙古贵族噶尔丹叛乱，稳定了西北部边疆地区；清朝乾隆时期，平定回部大小和卓兄弟的叛乱，设置伊犁将军，管辖包括巴勒喀什池在内的整个新疆地区；1685年和1686年，康熙帝命令清军两次进攻盘踞在雅克萨的俄军。沙俄政府被迫同意通过谈判解决中俄两国东段边界问题。因此推断本课教材的学习主题是清朝加强对边疆地区管辖和维护国家统一；与主题相关的史实，如，1662年郑成功赶走荷兰殖民者，收复台湾，1683年清政府进入台湾，1684年设台湾府，隶属福建省。对研究具有更高史料价值的是历史遗迹或实物，因此图片中的文物对于此主题研究具有更高史料价值的是A、D。

(4)结合所学知识可知，以其中第二组“大食人俑”、“东罗马金币”、“非洲黑人俑”为例，由“大食人俑”，可知大食人是古代阿拉伯人，说明唐朝与阿拉伯帝国有交往；“东罗马金币”出现在唐朝，说明唐朝与欧洲罗马帝国彼此交流；由“非洲黑人俑”，可知非洲黑人与唐朝的交往。因此研究角度是唐朝的外交，反映唐朝实行积极对外交往的开放外交政策。

32. 民以食为天。阅读材料,完成下列要求。

材料一 在我国现有的农作物中,至少有50多种来自国外。宋以前我国引入的农作物大多原产于亚洲西部,部分原产于地中海、非洲或印度,它们大多是通过陆上丝绸之路传入的,这些早期传入的农作物多为果树和蔬菜,鲜有粮食作物。中唐以后,随着国家经济中心的南移,海上丝绸之路迅速发展,不断有新的农作物引进。其中新航路开辟后美洲传入中国的作物计有玉米、马铃薯、花生、向日葵、辣椒、陆地棉、烟草等近30种。

——王思明《美洲原产作物的引种培及其对中国农业生产结构的影响》

材料二 近代欧洲农业科技的兴起是与产业革命同步发生的。蒸汽机用于农业生产,并出现了由蒸汽动力带动的绳索牵引。化学家对农作物营养、土壤、肥料进行了研究,通过实验方法来探明农业发展中的因果关系。生物学、物理学等自然科学也为农业科技提供了坚实的理论基础。从此,欧洲农业开始由手工向机械作业、由经验向理论过渡,西方农业科技全面超过了中国。

——摘编自李慧红《晚清西方近代农业科技在中国的引进和推广》

材料三 20世纪60年代,为进一步堵社会主义国家、争夺第三世界国家,美国致力于向印度、菲律宾、巴基斯坦等国家和中国台湾地区推行“绿色革命”,输出杂交种子、化肥生物技术,以提高玉米、小麦、大米等作物的产量,这使得受援国(地区)在一定时期内实现了粮食自足。但是,由于大量化肥、杀虫剂的使用,也产生了土壤肥力下降、地下水消耗过度及土地板结、盐碱化等问题,提高了粮食生产的成本,加剧了社会不平等程度,进而威胁到上述国家(地区)的粮食安全。

——摘编自于沛等主编《世界现代史》(下册)等

材料四 引进中国杂交水稻技术的主要国家分布图



(1) 根据材料一并结合所学知识,概括宋代前后外来农作物传入品种的变化,并分析美洲作物的引进对当时中国产生的积极作用。

(2) 根据材料二并结合所学知识,分析近代欧洲农业科技兴起的原因及影响。

(3) 根据材料三并结合所学知识,指出美国向外推行“绿色革命”的背景和实质。

(4) 根据材料四并结合以上分析,简述袁隆平杂交水稻技术研究的贡献。

【答案】 (1) 变化:宋以前传入的农作物多为果树和蔬菜,宋以后传入的农作物品种多,既有蔬菜,也有粮食作物和经济作物。积极作用:美洲作物传入中国后,在中国很快得到推广,促进了中国经济的发展,中华文明融入其他文明的成果。

(2) 原因:工业革命的推动;自然科学的发展等。影响:欧洲农业由手工向机械作业、由经验向理论过渡,西方农业科技全面超过了中国;促进了近代欧洲经济的发展。

(3) 背景:美苏冷战;遏制中国;受援国(地区)无法实现粮食自足。实质:遏制中国等社会主义国家,争夺第三世界国家,称霸世界。

(4) 贡献:为解决中国这样一个人口大国的吃饭问题和保障我国的粮食安全,作出了巨大贡献,对解决世界性饥饿问题也有重要贡献。

【解析】

【详解】 (1) 根据材料一的“宋以前我国引入的农作物大多原产于亚洲西部,部分原产于地中海、非洲或印度,它们大多是通过陆上丝绸之路传入的,这些早期传入的农作物多为果树和蔬菜,鲜有粮食作物。中唐以后,随着国家经济中心的南移,海上丝绸之路迅速发展,不断有新的农作物引进。其中新航路开辟后美洲传入中国的作物计有玉米、马铃薯、花生、向日葵、辣椒、陆地棉、烟草等近 30 种。”结合所学知识,可以概括出宋代前后外来农作物传入品种的变化是:宋以前传入的农作物多为果树和蔬菜,宋以后传入的农作物品种多,既有蔬菜,也有粮食作物和经济作物。美洲作物的引进对当时中国产生的积极作用有:美洲作物传入中国后,在中国很快得到推广,促进了中国经济的发展,中华文明融入其他文明的成果。

(2) 根据材料二的“近代欧洲农业科技的兴起是与产业革命同步发生的。生物学、物理学等自然科学也为农业科技提供了坚实的理论基础。”结合所学知识可知,近代欧洲农业科技兴起的原因有:工业革命的推动;

自然科学的发展等。根据材料二的“欧洲农业开始由手工向机械作业、由经验向理论过渡,西方农业科技全面超过了中国。”结合所学知识可知,近代欧洲农业科技兴起的影响是:欧洲农业由手工向机械作业、由经验向理论过渡,西方农业科技全面超过了中国;促进了近代欧洲经济的发展。

(3) 根据材料三的“20世纪60年代,为进一步堵社会主义国家、争夺第三世界国家,美国致力于向印度、菲律宾、巴基斯坦等国家和中国台湾地区推行‘绿色革命’,输出杂交种子、化肥生物技术,以提高玉米、小麦、大米等作物的产量,这使得受援国(地区)在一定时期内实现了粮食自足。”结合所学知识可知,美国向外推行“绿色革命”的背景是:美苏冷战;遏制中国;受援国(地区)无法实现粮食自足。根据材料三结合所学知识可知,美国向外推行“绿色革命”的实质是遏制中国等社会主义国家,争夺第三世界国家,称霸世界。

(4) 根据材料四的“引进中国杂交水稻技术的主要国家分布图”结合以上问题分析可知,袁隆平杂交水稻技术研究的贡献是:为解决中国这样一个人口大国的吃饭问题和保障我国的粮食安全,作出了巨大贡献,对解决世界性饥饿问题也有重要贡献。

四、问答题(10分)

33. 民族主义既是一种民族排他的力量,也是社会内部经济、政治和文化发展的推动力,深刻影响着历史发展的进程。请回答:

(1)18世纪后期~19世纪前期,美洲上演了一场轰轰烈烈的民族解放运动。请列举一个宣告国家独立的文件和一位反抗西班牙统治的独立运动领导人。

(2)19世纪中叶,民族解放运动的风暴转移到了亚洲。此时印度为何会爆发民族大起义?面临同样遭遇的日本,又是通过怎样的方式挽救了民族危机?

(3)20世纪初,意图世界霸权的德国沦为一战的战败国,其海外殖民地由英、法、日等国瓜分,其疆界被重划,这是源于哪一条约的规定?被民族复仇主义煽动的德国在20世纪三、四十年代有何回应?

(4)20世纪五、六十年代,面对相同的国际困境,不甘被大国左右的欧洲和广大发展中国家找寻着新的维护民族独立的方式,请各列举一例。

(5)20世纪90年代以来,伴随着经济全球化趋势加速,以保护本国利益为名的逆全球化和贸易保护主义不断抬头。你认为应该如何应对?

【答案】(1)《独立宣言》;玻利瓦尔。

(2)英国殖民统治;明治维新(改革)。

(3)《凡尔赛条约》;建立法西斯专政,发动第二次世界大战。

(4)欧洲共同体;不结盟运动。

(5)顺应经济全球化发展潮流,构建人类命运共同体,以更大的智慧和勇气解决分歧,加强合作,共同维护多边贸易体制,加强宏观经济政策协调,发挥联合国和世界贸易组织的作用,促进全球经济迈向新的可持续增长。

【解析】

【详解】(1)结合所学知识可知,18世纪后期~19世纪前期,美洲上演了一场轰轰烈烈的民族解放运动,结合所学知识可知,1776年7月4日,大陆会议通过了由杰斐逊起草的《独立宣言》,宣告北美13个殖民地脱离英国而独立。南美洲的独立运动中,南美洲北部地区领导人是玻利瓦尔,带领的军队横扫南美大陆的西班牙军队,被誉为“南美洲的解放者”。因此一个宣告国家独立的文件是《独立宣言》,一位反抗西班牙统治的独立运动领导人,如玻利瓦尔。

(2)结合所学知识可知,19世纪中叶,由于英国完成工业革命后,加紧对印度的经济剥削和政治压迫,激起了印度人的反抗,印度民族大起义爆发;面临同样遭遇的日本,1868年开始实行明治维新,通过改革的方式挽救了民族危机。

(3)结合所学知识可知,20世纪初,意图世界霸权的德国沦为一战的战败国,其海外殖民地由英、法、日等国瓜分,其疆界被重划,这是源于第一次世界大战后,1919年在巴黎和会上签订了针对德国的《凡尔赛和约》的规定;被民族复仇主义煽动的德国在20世纪三、四十年代,建立法西斯专政,发动第二次世界大战。

(4)结合所学知识可知,20世纪五、六十年代,面对相同的国际困境,不甘被大国左右的欧洲开始走向联合,20世纪50年代初,法国和联邦德国等六国组建欧洲煤钢共同体。1958年,六国又建立了欧洲经济共同体和欧洲原子能共同体,1967年,这三个组织合并为欧洲共同体,简称“欧共体”。从20世纪50年代开始,一些新独立的民族国家为了维护国家独立,摆脱美国和苏联的控制,实行和平、不结盟的对外政策,成立了不结盟运动。

(5)结合所学知识可知,经济全球化是生产力发展的必然结果,是历史发展潮流,只能迎,不能拒;贸易保护主义、逆全球化损害各国利益,不得人心;因此我们应该顺应经济全球化发展潮流,构建人类命运共同体,以更大的智慧和勇气解决分歧,加强合作,共同维护多边贸易体制,加强宏观经济政策协调,发挥联合国和世界贸易组织的作用,促进全球经济迈向新的可持续增长。

五、探究题

34. “其作始也简,其将毕也必巨。”毛泽东曾多次引用此句感叹中国共产党创业之艰辛。于红船启航,历千山万水,唯有英雄多壮志;立天安门城楼宣告,筚路蓝缕,敢叫日月换新天。百年中共,百年风华。阅读材料,完成下列要求。

材料一 1921年7月中共一大时,党员50余人;1922年7月二大时,党员195人;1923年6月三大时,党员432人。此后至1924年5月中央扩大执行委员会召开,即国民党改组前后一年时间,党员基本上没有增加,一些地方还明显减少。

——王健英编《中国共产党组织史料汇编》

材料二 我们要把马、思、列、斯的方法用到中国来,在中国创造一些新的东西。只有一般的理论,不用

于中国的实际,打不得敌人。但如果把理论用到实际上去,用马克思主义的立场、方法来解决中国问题,创造些新的东西,这样就用得了。

——毛泽东《如何研究中共党史》

材料三

目录(节选)	
1978年 十一届三中全会	2013年 推动构建人类命运共同体
1984年 提出“一国两制”	——习近平总书记提出共建“一带一路”重大国际会议倡议
1988年 科学技术是第一生产力	2014年 中国特色强军之路
1992年 邓小平南方谈话和中共十四大召开	——新古田会议召开
1995年 从扶贫开发到脱贫攻坚	2015年 “扎铁有痕”反腐败
1997年 香港回归;中共十五大确立邓小平理论为党的指导思想	2017年 中共十九大和决胜全面建成小康社会
2001年 加入世界贸易组织	——确立习近平新时代中国特色社会主义思想
2003年 抗击非典	2018年 “绿水青山就是金山银山”
2005年 飞天中国	2019年 国庆70周年庆典
2008年 汶川抗震救灾,北京梦圆奥运	2020年 办好中国的事,关键在党
2010年 上海世博会	——习近平:“让党旗在疫情防控斗争第一线高高飘扬”
2012年 中共十八大和提出中国梦	
——中国特色社会主义进入新时代	

——摘编自李颖《文献中的百年党史》

材料四 截至2019年底,中国共产党党员总数为9191.4万名,党的基层组织468.1万个,党的凝聚力和战斗力不断增强,党的组织体系更加健全,党的执政根基进一步夯实。党员队伍结构持续优化,40岁以下党员超过总数13%,队伍年龄结构有所改善。党员队伍文化程度继续提高,大专以上学历党员超过半数,达4661.5万名。

——据2020年7月1日《人民日报》整理

(1) 根据材料一,指出1921到1924年中共党员人数的变化情况,并结合所学知识分析中共三大之后人数变化的原因。

(2) 概括材料二的观点,并结合新民主主义革命的相关史实加以论证。

(3) 从材料三中提取两条或两条以上相互关联的信息,说明新时期以来中共领导社会主义现代化建设的伟大成就。(要求:可围绕成就的一个或多个角度进行说明,史实准确,表述清晰。)

(4) 综合以上,分析中国共产党能成为当今世界上最大政党的原因。

【答案】 (1) 变化:1921年7月到1923年6月,中共由无到有,逐渐发展壮大;1923年6月到1924年5月,中共党员没有增加。

原因:中国共产党是无产阶级政党,代表更广泛人民的利益,具有吸引力;停止增加的原因是国共合作实现,中共忽视了组织和革命的独立性。

(2) 观点：要把马克思主义中国化，必须将马克思主义原理与中国实际情况相结合。

史实加论证：1927年，毛泽东率领起义部队建立井冈山根据地，从此走农村包围城市，武装夺取政权，符合中国国情的革命道路，这是毛泽东把马克思主义普遍原理与中国革命具体实践相结合的典范。

(3) 成就：新时期以来中共推进祖国统一大业。邓小平在1984年提出了一国两制的伟大构想，为香港澳门的回归开辟了途径，1997年香港顺利回归祖国。

(4) 原因：中国共产党是无产阶级政党，代表广泛人民的利益；坚持与时俱进，理论与实际相结合，制定符合我国国情的政策；中国共产党人在革命过程中始终英勇地站在斗争的最前线；中国共产党注重健全组织体系，优化党员队伍，增强党的凝聚力和战斗力。

【解析】

【详解】(1) 问题一：依据材料一“1921年7月中共一大时，党员50余人；1922年7月二大时，党员195人；1923年6月三大时，党员432人”可知，从1921年7月到1923年6月，中共由无到有，逐渐发展壮大；依据材料一信息“此后至1924年5月中央扩大执行委员会召开，即国民党改组前后一年时间，党员基本上没有增加，一些地方还明显减少”可知，从1923年6月到1924年5月，中共党员没有增加。问题二：结合中国共产党代表无产阶级利益的性质可知，发展的原因是中国共产党是无产阶级政党，代表更广泛人民的利益，具有吸引力；结合国共第一次合作采取党内合作的措施可知，人数停止增加的原因是国共合作实现，中共忽视了组织和革命的独立性。

(2) 问题一：依据材料二信息“我们要把马、思、列、斯的方法用到中国来”“如果把理论用到实际上去，用马克思主义的立场、方法来解决问题，创造些新的东西，这样就用得”可知，材料二的观点是要把马克思主义中国化，必须将马克思主义原理与中国实际情况相结合。问题二：依据所学可知，为保存革命力量，毛泽东决定放弃攻打中心城市，改向敌人统治力量薄弱的山区进军。1927年，毛泽东率领起义部队建立井冈山根据地，从此走农村包围城市，武装夺取政权的符合中国国情的革命道路，这是毛泽东把马克思主义普遍原理与中国革命具体实践相结合的典范。体现了一切从实际出发，实事求是，理论联系实际的思想。

(3) 依据材料三信息“1984年一国两制”“1997年香港回归，中共十五大确立邓小平理论为党的指导思想”并结合所学可知，成就：新时期以来中共推进祖国统一大业。邓小平在1984年提出了一国两制的伟大构想，为港澳的回归开辟了途径，1997年香港顺利回归祖国。这说明邓小平理论的正确性，中共十五大把邓小平理论确立为党的指导思想，对建设中国特色社会主义具有重要意义。

(4) 依据上述材料并结合所学可知，中国共产党能成为当今世界上最大政党的原因是：中国共产党是无产阶级政党，代表广泛人民的利益；坚持与时俱进，理论与实际相结合，制定符合我国国情的政策；中国共产党人在革命过程中始终英勇地站在斗争的最前线；中国共产党注重健全组织体系，优化党员队伍，增强党的凝聚力和战斗力。

