

辽宁省大连市 2019 年中考历史试题

一、选择题（本题共 12 小题，每小题 2 分，共 24 分）

1. 我国古代科技领域的四大发明对世界文明的进步贡献巨大。在古代世界四大发明中出现于汉朝的是（ ）

- A. 造纸术 B. 火药 C. 印刷术 D. 指南针

【分析】本题主要考查造纸术的相关史实。掌握相关基础知识。

【解答】早在西汉前期，我国就有了纸。东汉时期，蔡伦改进了造纸术。在古代世界四大发明中出现于汉朝的是造纸术。火药出现于唐朝；印刷术出现在唐朝和宋朝；指南针出现在宋朝。选项 A 符合题意。

故选：A。

2. 历朝历代都注重加强对边疆地区的管辖。清朝前期加强对边疆和少数民族地区管辖的措施有（ ）

- ①文成公主入藏 ②平定回部贵族叛乱 ③设立驻藏大臣 ④设置台湾府
A. ①②③ B. ①②④ C. ①③④ D. ②③④

【分析】本题考查清朝巩固国家统一的措施，掌握相关的基础知识。

【解答】据所学知，平定回部贵族叛乱、设立驻藏大臣、设置台湾府都是清朝巩固国家统一的措施，而文成公主入藏发生在唐朝。故清朝前期加强对边疆和少数民族地区管辖的措施有②③④。

故选：D。

3. 辽宁庄河流域发现的甲午沉船遗址（经远舰）入选“2018 年度全国十大考古新发现”。某班历史课上对此展开“我国海防发展”的学习活动。下列同学的表述与史实相符的是（ ）



①“经远舰”所属的北洋舰队创建于鸦片战争时期

②邓世昌率领北洋舰队“致远舰”的全舰官兵英勇作战



③北洋舰队在黄海海战中全军覆没

④新中国成立后南海等三支舰队成为海军主要作战力量



A . ①③ B . ②④ C . ①②④ D . ②③④

【分析】本题综合考查了甲午战争和人民海军建立的相关史实，注意全面分析题干给出的图片材料。

【解答】题干给出的图片材料中北洋舰队创建于洋务运动时期，不是鸦片战争时期；北洋舰队在威海卫战役中全军覆没的，不是在黄海海战中；据此可排除含①③的ACD三个选项。
故选：B。

4 . 红军长征中的“三大主力军，西北高原胜利会合了。欢呼三个方面军，百战百胜英雄弟兄。团结我们工农红军的全部力量……”材料中的“三大主力军”会合的地点是（ ）

A . 甘肃腊子口 B . 陕西吴起镇 C . 甘肃会宁 D . 陕西延安

【分析】本题以红军长征中的“三大主力军，西北高原胜利会合了。欢呼三个方面军，百战百胜英雄弟兄。团结我们工农红军的全部力量……”为切入点，考查红军长征的相关知识点。

【解答】据所学知，在第五次反围剿失败后，红军于1934年开始进行长征，1936年10月红军三大主力军甘肃会宁会师，标志着长征的胜利结束。

故选：C。

5 . 中国共产党在抗日战争中坚持全面抗战路线，成为抗日战争的中流砥柱。下列史实能证明这一结论的有（ ）

- ① 促成西安事变和平解决，标志国共第二次合作正式形成
- ② 领导台儿庄战役，取得抗战以来中国军队的重大胜利
- ③ 领导八路军、新四军奔赴敌后战场，钳制大量日军
- ④ 取得百团大战胜利，坚持了全国人民抗战胜利的信心

A . ①② B . ③④ C . ①③④ D . ②③④

【分析】本题以中国共产党是抗日战争的中流砥柱为切入点，考查中国共产党在抗日战争中的作用及贡献。

【解答】抗日战争是人类战争史上的奇观，是中华民族的伟大创举。这是中国人民100多年来第一次打赢反侵略战争，也是第一次来到世界舞台的中心，中国共产党领导的抗日力量成为抗击日本侵略的中流砥柱。七七事变发生后，在民族危亡的关头，国共两党再次合作，建立了抗日民族统一战线，开始领导全民族的抗战。工农红军改编为八路军和新四军，奔赴抗日战场；1940年8月，八路军在彭德怀等指挥下，先后共出动100多个团约20万人，在华北2000多千米的战线上，向日军发动大规模攻击，史称“百团大战”。所以能

证明这一结论的史实有③④。

故选：B。

6. “钟山风雨起苍黄，百万雄师过大江。虎踞龙盘今胜昔，天翻地覆慨而慷”。毛泽东诗句所反映的历史事件是（ ）


- A. 淮海战役取得胜利 B. 日本无条件投降
C. 中华民国临时政府成立 D. 人民解放军占领南京

【分析】本题考查了渡江战役。1949年4月21日，毛泽东和朱德发布了向全中国进军的命令。

【解答】“钟山风雨起苍黄，百万雄师过大江。虎踞龙盘今胜昔，天翻地覆慨而慷”。毛泽东诗句所反映的历史事件是人民解放军占领南京。1949年4月23日，人民解放军冲破长江天险、解放南京的消息传到北京，毛泽东兴奋异常，挥笔题诗：钟山风雨起苍黄，百万雄师过大江。虎踞龙盘今胜昔，天翻地覆慨而慷。宜将剩勇追穷寇，不可沽名学霸王。天若有情天亦老，人间正道是沧桑。

故选：D。

7. 蔚蓝色的爱琴海，孕育了辉煌灿烂的古希腊文明。下列文明成果属于古希腊的是（ ）



- A. 万神殿 B. 圆形竞技场 C. 帕特农神庙 D. 《神曲》

【分析】本题考查了古希腊建筑。古希腊是西方文明的发源地，它和古罗马文明造就了西方文化之根。

【解答】帕特农神庙位于希腊共和国首都雅典卫城坐落的古城堡中心、石灰岩的山岗上，耸峙着一座巍峨的矩形建筑物，神庙矗立在卫城的最高点。属于古希腊的文明成果是帕特农神庙。

故选：C。

8. 有学者认为，“1500年左右，它（大西洋）一变而成为一座桥梁，一个启程之地，其巨大的影响波及各方。一般来看，这一变化对欧洲人是有利的。但对其他地方（美洲、非洲等）的人则意味着灾难。”对材料中“灾难”理解正确的是（ ）

- A . 世界从此由分散走向整体 B . 各洲之间建立了直接的商业联系
C . 增进了欧洲人对世界的了解 D . 近代列强的殖民掠夺由此开始

【分析】 本题考查新航路的开辟，掌握相关的基础知识。

【解答】 据题干并结合所学知识可知，新航路开辟对欧洲来说，为其殖民掠夺打通了道路，有利于欧洲资本主义的发展，使世界逐渐连成一个整体。但欧洲殖民者进行殖民扩张和殖民掠夺，通过三角贸易赚取了大量的血腥财富，使非洲在 300 多年的时间里丧失了上亿的精壮劳动力，对殖民地区的人民来说就是灾难。故因而对材料中“灾难”理解正确的是近代列强的殖民掠夺由此开始。

故选：D。

9 . 英国《权利法案》对国王在政治、经济、宗教等事务中的权力进行了严格限制。美国“1787 年宪法”在国家权力方面采用立法、行政、司法三权分立、相互制衡的原则。上述两个文献内容体现的相同目的是（ ）

- A . 防止最高统治者专权 B . 加强封建专制统治
C . 保证公民应有的权利 D . 宣扬自由平等思想

【分析】 本题考查了英国《权利法案》和美国“1787 年宪法”的异同，注意全面分析题干材料内容。

【解答】 英国《权利法案》对国王在政治、经济、宗教等事务中的权力进行了严格限制。美国“1787 年宪法”在国家权力方面采用立法、行政、司法三权分立、相互制衡的原则。上述两个文献内容体现的相同目的是防止最高统治者专权。题干材料强调了英国《权利法案》对国王权力的限制和美国“1787 年宪法”实行三权分立、相互制衡的原则。

故选：A。

10 . “日本资本主义工业特别是私人企业有了长足的发展，从 1881 年到 1893 年，工厂数目由 1100 家增加到 3340 家……”。材料中“长足的发展”得益于日本明治维新措施中的（ ）

- A . 废藩置县 B . 提倡文明开化 C . 殖产兴业 D . 允许土地自由买卖

【分析】 本题考查了日本明治维新。日本强大起来以后，很快走上了对外侵略扩张的军国主义道路。

【解答】 “日本资本主义工业特别是私人企业有了长足的发展，从 1881 年到 1893 年，工厂数目由 1100 家增加到 3340 家……”。材料中“长足的发展”得益于日本明治维新措施中的殖产兴业。1868 年明治政府实行了一系列资产阶级性质的改革，主要内容有：政治方

面，“废藩置县”，加强中央集权；经济方面，向西方学习殖产兴业，鼓励发展近代工业，引进西方先进技术及设备，聘请外国专家，向国外派遣留学生；改变原有的封建土地制度，允许土地私有和买卖，实行地税改革，全国统一征收地税。

故选：C。

11．“18 世纪中期到 19 世纪中期，蒸汽机引起了欧洲生产领域的革命。……英国引领了这一历史发展的潮流，取得了技冠群雄、傲视全球的成果。”英国使用蒸汽机取得的成果是

()



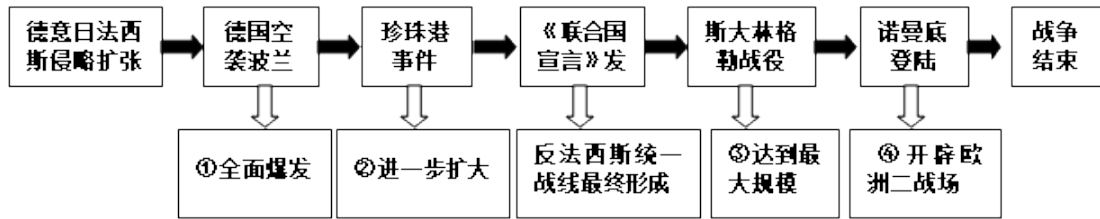
A．珍妮纺纱机 B．“火箭号”机车 C．早期汽车 D．飞行者 1 号

【分析】本题以“18 世纪中期到 19 世纪中期，蒸汽机引起了欧洲生产领域的革命。……英国引领了这一历史发展的潮流，取得了技冠群雄、傲视全球的成果。”为依托，考查工业革命的知识。注意掌握相关基础知识。

【解答】“18 世纪中期到 19 世纪中期，蒸汽机引起了欧洲生产领域的革命。……英国引领了这一历史发展的潮流，取得了技冠群雄、傲视全球的成果。”仔细观察图片并结合所学知识可知，英国使用蒸汽机取得的成果是“火箭号”机车。第一次工业革命期间，1785 年以后，瓦特改进的蒸汽机首先在纺织部门投入使用，随后应用于许多生产部门，人们利用蒸汽机提供的动力带动机器，进行生产，极大地促进了大工厂生产的发展。从此，人类进入了“蒸汽时代”。英国工程师史蒂芬孙利用蒸汽机发明了火车机车，1814 年，他研制的第一辆蒸汽机车“布拉策号”试运行成功。1825 年，史蒂芬孙设计建造了“火箭”号蒸汽机车，并于 1825 年 10 月参加蒸汽机车比赛，以运行可靠、速度最快得奖。火车机车在交通运输业中的应用，使人类迈入了“火车时代”，迅速地扩大了人类的活动范围。

故选：B。

12．第二次世界大战是人类有史以来规模最大的世界性战争，战火遍及全球。阅读如下战争进程示意图，对事件影响的描述对应正确的是 ()



- A . ①② B . ①④ C . ②③ D . ③④

【分析】 本题考查第二次世界大战，掌握相关的基础知识。


【解答】 据题干并结合所学知识可知，1939年9月1日德国突袭波兰，标志着第二次世界大战的全面爆发；1941年12月7日日本突袭美国海军基地珍珠港，标志着第二次世界大战达到最大规模；斯大林格勒战役成为第二次世界大战的转折点；美英盟军在诺曼底登陆，标志着欧洲第二战场的开辟。故对事件影响的描述对应正确的是①④。

故选：B。

二、非选择题（本大题共3小题，共26分）

13. （6分）习近平总书记指出，文明交流互鉴，是推动人类文明进步和世界和平发展的重要动力。纵观历史长河，中华民族和平友好的对外交往历史源远流长。

缔结友谊桥梁




汉代人首马身丝绸
(新疆民丰尼雅遗址出土)

丝绸之路出土的东罗马
金币和波斯萨珊王朝银币

(1) 上图文物的发现表明开通丝绸之路的影响是什么？（1分）

对外交往



展现大国风采


材料一 如果这些原则能为一切国家所遵守，则社会制度不同的国家和平共处就有了保证。
——1954年6月《中印两国总理联合声明》

材料二 当我们的手相握时，一个时代结束了，另一个时代开始了。
——《尼克松回忆录》

(3) 材料一所说的外交原则是什么？（1分）

(4) 从中美关系的角度写出材料二中“另一个时代”指的是什么？（1分）中美两国何时正式建立外交关系？（1分）

弘扬中华文化



日本奈良唐招提寺内的鉴真像

(2) 图片中人物的事迹见证了中国与哪个国家的友好交往？（1分）请再举一个这一时期中外交往的事例。（1分）

【分析】 本题以“习近平总书记指出，文明交流互鉴，是推动人类文明进步和世界和平发展的重要动力。纵观历史长河，中华民族和平友好的对外交往历史源远流长。”为切入点，考

查了丝绸之路、唐朝的对外交往、和平共处五项原则、中美关系等史实，掌握相关基础知识。

【解答】（1）根据图片结合所学知识可知，汉朝时，中国的丝和丝织品从长安出发通过河西走廊，今新疆地区，运往西亚，再转运到欧洲的大秦（罗马），这条沟通中西交通的陆上要道，就是历史著名的丝绸之路。（长安--河西走廊--新疆--西亚--欧洲的大秦）丝绸之路开辟了中国与西方联系的先例；促进了东西方经济文化交流。

（2）图片见证了中国与日本的友好交往，这是鉴真东渡；还有玄奘西游。唐贞观年间，为了求取佛经精义，玄奘毅然西行前往的佛教圣地天竺，在天竺，玄奘用大约 17 年的时间遍游各地，寻师访友，研习佛法，在他晚年的时候，他的弟子根据他的口述写成《大唐西域记》，把印度的佛教、历史、地理、风土人情介绍到中国，是研究 7 世纪中亚和南亚各国，特别是研究印度历史地理的珍贵文献，为古代中印文化交流做出了重大贡献。

（3）根据材料结合所学知识可知，参与所反映的是和平共处五项原则。

（4）根据材料结合所学知识可知，“另一个时代”指的是中美开始走向关系正常化。1979 年，中美正式建立外交关系，美国承认只有一个中国，台湾是中国的一部分。

故答案为：

（1）丝绸之路成为东西方经济文化交流的桥梁。

（2）日本；玄奘西行。

（3）和平共处五项原则。

（4）中美开始走向关系正常化；1979 年。

14.（9 分）历史学习是用过去“人”的经历，感染、熏陶、启示我们立足现实，走向未来。阅读材料，结合所学知识，回答问题。

思想指导

材料一 马克思并未将自己限制在理论上和写作上。在他的一生中，为组织和鼓励工人们，他将知识活动同各种尝试结合起来。

——斯塔夫里阿诺斯《全球通史》

材料二 要拥护那德先生、使不得及时孔教，礼法，旧思想，旧伦理，旧政治。要拥护那赛先生，便不得不反对旧艺术，旧宗教。

——《本质罪案之答辩书》（《新青年》）

(1) 材料一中马克思在“理论上”和“写作上”的重大贡献分别是什么？（2分）

(2) 材料二中的“德先生”和“赛先生”分别指什么？（2分）拥护“德先生”和“赛先生”的代表人物有谁？（列举一个人物即可）（1分）

政治先驱

材料三 此一省欲事，彼一省亦欲起事，不相联络，各自号召。终必成秦末二十四国之争……故现今之主义，总以互相联络为要。

——孙中山《与陈天华等的谈话》1905年

材料四 现在，我已经完成了赋予我的使命，我将退出这个伟大的舞台，并且向尊严的国会告别。


——华盛顿在向国会交出军权仪式上的讲话

(3) 材料三中孙中山为“互相联络”建立了什么组织？（1分）

(4) 材料四中“赋予我的使命”指的是什么？（1分）

科学发展

(5) 没有科学家们的发现，就没有现代人类文明。写出右图两位科学家各一项重大成就。（2分）



牛顿

达尔文

牛顿：_____ 达尔文：_____

【分析】本题以“历史学习是用过去“人”的经历，感染、熏陶、启示我们立足现实，走向未来。”为切入点，考查了马克思与《共产党宣言》、陈独秀与新文化运动、华盛顿与美国独立战争、牛顿、达尔文等近代科学家的知识，掌握相关基础知识。

【解答】（1）根据材料“马克思并未将自己限制在理论上和写作上。在他的一生中，为组织和鼓励工人们，他将知识活动同各种尝试结合起来。”结合所学知识可知，材料一中马克思在“理论上”和“写作上”的重大贡献分别是提出了马克思主义，发表了《共产党宣言》，标志着科学社会主义的诞生。

(2) 经结合所学知识可知，材料二中的“德先生”和“赛先生”分别指民主和科学。拥护“德先生”和“赛先生”的代表人物有陈独秀、李大钊、鲁迅、胡适等。

(3) 根据材料“此一省欲事，彼一省亦欲起事，不相联络，各自号召。终必成秦末二十四国之争……故现今之主义，总以互相联络为要。”结合所学知识可知，材料三中孙中山为“互相联络”建立了中国同盟会，1905年，孙中山在日本东京成立了中国同盟会，孙中山为总理，创办机关刊物《民报》。纲领：驱除鞑虏，恢复中华，创立民国，平均地权。这是第一个全国规模的、统一的资产阶级革命政党。它使全国资产阶级革命派有了统一的领导和明确的奋斗目标，大大推动了全国革命运动发展。

(4) 根据材料“现在，我已经完成了赋予我的使命，我将退出这个伟大的舞台，并且向尊严的国会告别。”结合所学知识可知，材料四中“赋予我的使命”指的是领导美国独立战争。华盛顿领导的1775~1783年美国独立战争，使美国人民取得了民族独立。

(5) 没有科学家们的发现，就没有现代人类文明。根据图片结合所学知识可知，牛顿：发现万有引力定律或建立经典力学的完整体系——牛顿力学。达尔文：发表《物种起源》，确立生物进化学说。

故答案为：

(1) 马克思主义；发表《共产党宣言》。

(2) 民主；科学；陈独秀或鲁迅、胡适。

(3) 中国同盟会。

(4) 领导美国独立战争。

(5) 发现万有引力定律或建立经典力学的完整体系——牛顿力学；发表《物种起源》
(或确立生物进化学说。)

15. (11分) 中国人民在中国共产党的领导下，经过艰苦卓绝的斗争，建立了新中国，之后开始中国特色社会主义道路的探索。某校为迎接中华人民共和国70华诞，开展以“重温历史·汲取力量”为主题的研学活动。下面是活动的任务单，请你结合所学知识参与完成。

【会址之行】




图1 中共“一大”会址 图2 遵义会议会址

任务单一：

参观中共“一大”纪念馆和遵义会议纪念馆后，思考并回答：

- (1) 中共“一大”确定党的中心任务是什么？（1分）
- (2) 遵义会议的重大历史意义是什么？（2分）

【古都之游】

任务单二：

在游览古都北京天安门广场和天安门城楼后，思考并回答：

- (3) 100年前，爆发了一场“痛殴卖国贼，火烧赵家楼，除奸不惜死，来把中国救”的爱国运动，最能体现此次运动性质的口号是什么？（1分）
- (4) 70年前，毛泽东庄严宣告：中华人民共和国中央人民政府今天成立了！请你从中国共产党地位的变化。说明新中国成立的历史意义。（2分）

【场馆之旅】



图3 18个农民按手印群雕 图4 邓小平视察深圳经济特区
(大包干纪念馆) 题词(深圳博物馆)

任务单三：

参观大包干纪念馆和深圳博物馆后，思考并回答：

- (5) 由小岗村农民的做法推广推广到全国的农村改革政策是什么？（1分）
- (6) 深圳经济特区的创办是十一届三中全会作出的哪一重大决策的具体表现？（1分）结合所学知识概括指出邓小平在这决策制定过程中发挥的重大作用。（1分）

【研学之思】

- (7) 通过参加以上研学活动，联系现实，谈谈你的感想。（至少写出两点）（2分）

【分析】 本题以“中国人民在中国共产党的领导下，经过艰苦卓绝的斗争，建立了新中国，之后开始中国特色社会主义道路的探索。某校为迎接中华人民共和国70华诞，开展以“重温历史·汲取力量”为主题的研学活动。”为切入点，考查了中共一大、遵义会议、五四运动、新中国成立、农村改革、十一届三中全会、邓小平评价等知识，掌握相关基础知识。

【解答】 (1) 结合所学知识可知，中共“一大”确定党的中心任务是领导工人运动。

(2) 结合所学知识可知，遵义会议的重大历史意义是这次会议在中国革命的危关头，挽救了党，挽救了红军，挽了中国革命，遵义会议是党的历史上一个生死关的转折点，它标志着中国共产党在政治上走向成熟。

(3) 100年前，爆发了一场“痛殴卖国贼，火烧赵家楼，除奸不惜死，来把中国救”的爱国运动，结合所学知识可知，最能体现此次运动性质的口号是外争国权，内惩国贼。

(4) 70年前，毛泽东庄严宣告：中华人民共和国中央人民政府今天成立了！从中国共产党地位的变化来看新中国成立的历史意义是中华人民共和国的成立，标志着中国共产党开始从领导人民为夺取全国政权而奋斗的党，变为领导人民掌握全国政权、进行社会主义革命和建设并长期执政的党。

(5) 结合所学知识可知，由小岗村农民的做法推广推广到全国的农村改革政策是家庭联产承包责任制。

(6) 结合所学知识可知，深圳经济特区的创办是十一届三中全会作出了把党和国家工作中心转移到经济建设上来、实行改革开放的历史性决策的具体表现。结合所学知识可知，邓小平是我国社会主义改革开放和现代化建设的总设计师。

(7) 通过参加以上研学活动，联系现实，谈谈你的感想。如：坚持党的领导；坚持改革开放；改革创新；弘扬五四精神（言之有理即可）。

故答案为：

(1) 领导工人运动。

(2) 这次会议在中国革命的危关头，挽救了党，挽救了红军，挽了中国革命，遵义会议是党的历史上一个生死关的转折点，它标志着中国共产党在政治上走向成熟。

(3) 外争国权，内惩国贼。

(4) 中华人民共和国的成立，标志着中国共产党开始从领导人民为夺取全国政权而奋斗的党，变为领导人民掌握全国政权、进行社会主义革命和建设并长期执政的党。

(5) 家庭联产承包责任制。

(6) 作出了把党和国家工作中心转移到经济建设上来、实行改革开放的历史性决策；我国社会主义改革开放和现代化建设的总设计师。

(7) 坚持党的领导；坚持改革开放；改革创新；弘扬五四精神（言之有理即可）。

会员升级服务第一拨 · 清北季



神马，有清华北大学霸方法论课；还有清华学霸向所有的父母亲述自己求学之路；

衡水名校试卷悄悄的上线了；

扫qq领取官网不首发课程，很多人我没告诉他啊！

会员qq专享等你来撩.....