

历史部分

一、单项选择题:每小题只有一个选项符合题意,本题共 20 小题,每小题 1 分,计 20 分。

1. 为河姆渡人提供稳定食物供应的农作物是

- A. 粟 B. 水稻 C. 玉米 D. 小麦

2. 三国两晋南北朝时期政权更迭频繁。下图①处 政权是



- A. 西晋 B. 东晋 C. 北魏 D. 北齐

3. 宋初,大臣赵普提出“稍夺其权,制其钱谷,收其精兵,则天下自安矣。”此建议针对的问题是

- A. 农民起义 B. 积贫积弱 C. 外族入侵 D. 君弱臣强

4. 乾隆时期出现了自发的移民。山东、河北向东北移民,福建向台湾移民,除国内移民外,也有向海外移民的现象。造成这一移民风潮的主要原因是

- A. 政局动荡 B. 经济衰退 C. 人地矛盾 D. 自然灾害

5. 蒋廷黻在《中国近代史》一书中指出:“自强运动的领导者没有一个完整的建设计划,他们起初只知道国防近代化的必要性。”下列企业的创办能够体现这一观点的是

- A. 福州船政局 B. 轮船招商局 C. 开平煤矿 D. 汉阳铁厂

6. 下图是 1918 年沈伯尘针对时弊创作的漫画,该作品



- A. 揭露了晚清政府的腐败
B. 描绘了二次革命的过程
C. 反映了军阀割据的危害
D. 说明了北伐战争的局限

7. 下表是 1916-1919 年荣氏兄弟创办的申新纺纱厂盈利变化情况。为这一时期民族工业迅速发展提供良机的是


年份	1916	1917	1918	1919
利润(万元)	2	12	22	104

- A. 洋务运动的开展
B. 实业救国思潮的兴起
C. 欧洲列强忙于一战
D. 南京国民政府的鼓励

8. 1927 年，这里点燃了“工农武装割据”的星星之火，照亮了中国革命的前程。“这里”指的是

- A. 上海
B. 南昌
C. 长沙
D. 井冈山

9. 下图中陈毅元帅这首诗在盐阜大地广为传颂，热血沸腾的字里行间记载着八路军、新四军胜利会师的历史性时刻。这一时刻属于



- A. 国民革命时期
B. 国共对峙时期
C. 抗日战争时期
D. 解放战争时期

10 “截断宿蚌路，歼敌于淮河长江以北，对敌人进行“中间突破”，加以各个就地歼灭”这一战略方针指导了

- A. 辽沈战役
B. 淮海战役
C. 平津战役
D. 渡江战役

11. “发展生产 人为障碍消除，广大翻身农民的生产积极性提高，因此，1952 年湖南的丰产运动成绩显著。”该材料可以佐证

- A. 土地改革的成效性
B. 三大改造的必要性
C. 工业建设的迫切性
D. 社会主义的优越性

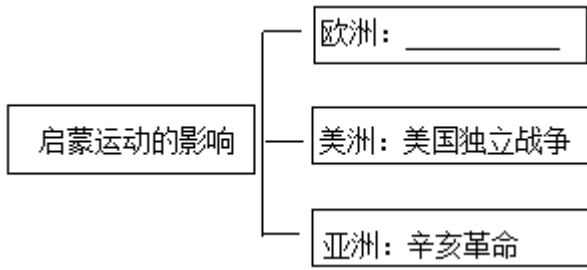
12. 中古西欧社会，僧侣是祈祷的人，骑士是作战的人，农民是劳作的人，其中“僧侣”来自于

- A. 佛教
B. 基督教
C. 伊斯兰教
D. 印度教

13. 世界的植物食品中，约三分之一的品种源自美洲。这些物种最早从美洲传出是由

- A. 丝绸之路开通
B. 郑和下西洋
C. 庄园经济发展
D. 新航路开辟

14. 知识结构图是一种有效的历史学习方法。下图横线处最恰当的内容应该是



- A. 大化改新
- B. 工业革命
- C. 法国大革命
- D. 新文化运动

15. “它为美国北部赢得了有利的国际环境，使早在 1833 年就宣布废除奴隶制的英国很难继续支持南部。”材料中的“它”指的是

- A. 《权利法案》
- B. 《共产党宣言》
- C. 《人权宣言》
- D. 《解放黑人奴隶宣言》

16. 明治维新期间，鹿鸣馆是贵族官僚进行国际社交活动的场所，可在其中举办欧式的娱乐活动。材料体现的改革措施是

- A. 废藩置县
- B. 殖产兴业
- C. 地税改革
- D. 文明开化

17. 1922 年，列宁在回答记者提问时说：“现在，农民精力充沛地、废寝忘食地重整自己的耕地，修复自己的农具、房舍、各种设施。”出现这一现象是因为

- A. 十月革命的胜利
- B. 苏维埃政权的建立
- C. 新经济政策的实施
- D. 农业集体化的开展

18. 罗斯福说：“从来在美国没有另外一个人比我对资本主义制度的私人企业、私有财产和私人利润有着更坚定的信仰……当这个私人利润和自由企业的制度面临毁灭边缘的时候，是这个政府挽救了它。”其意在表明新政

- A. 彻底消除了经济大危机
- B. 恢复了自由放任政策
- C. 解决了社会的根本矛盾
- D. 维护了资产阶级利益

19. “尽管在欧洲历史上不有联合的设想，但欧洲的联合直到第二次世界大战之后才变现实。”与材料相关的组织是

- A. 国际联盟
- B. 北大西洋公约组织
- C. 欧洲共同体
- D. 世界贸易组织

20. 2022 年 5 月 6 日，联合国秘书长古特雷斯就乌克兰局势发表声明称：世界必须团结起来，平息枪声，维护《联合国宪章》的价值观。据此可知

- A. 联合国的宗旨是维护国际和平与安全
- B. 联合国可以根除国家间的武力冲突

C. 联合国是处理全球冲突的军事性组织

D. 联合国能够解决国际贸易中的争端

二、非选择题:本题共3小题,每小题10分,计30分。

21. 博物馆承着历史,也传承着文化。某班开展“跟着我打卡博物馆”的主题活动,请你来参与。

【青铜之美】



商代青铜器,1939年出土于河南安阳侯家庄武官村。重832.84千克,高1.33米,口长1.1米,壁厚

图一 国家博物馆藏品


【圣人之思】



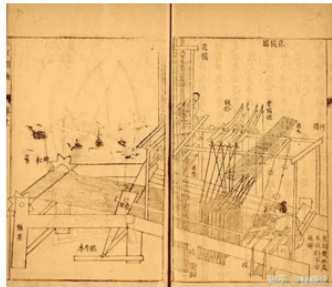
为政以德,譬如北辰,居其所而众星共之。
——《论语》

图二 曲阜孔子博物馆藏品

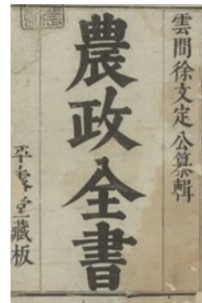
【科技之著】



图三 洛阳教育博物馆藏品



图四 国家博物馆藏品



图五 上海博物馆藏品

明代农学巨著,全面总结了我国古代农业生产的先进经验、技术革新和作者关于农学的创新研究成果。

(1) 写出图一文物的名称及其历史地位。

(2) 概括图二中孔子的主张。结合所学知识,指出其学说成为封建正统思想的措施。

(3) 图四是哪部科技巨著?据图三、四、五概括明代科技巨著的特点。结合所学知识,分析这一特点形成的原因。

(4) 综合以上材料,谈谈传承和发扬传统文化的现实价值。

22. 阅读材料,回答问题

材料一 《中华人民共和国全国人民代表大会及地方各级人民代表大会选举法》以一定人口的比例为基础,又适当照顾地区和单位,在城市与乡村间、少数民族与汉族间,作了不同比例的规定,使全国各阶层、各民族在各级人民代表大会中都有相应的代表。

——《中国共产党历史》第二卷(上册)

材料二 由于历史上反动统治者长期实行民族压迫政策,各民族之间,主要是少数民族和汉族之间存在着很深的隔阂。少数民族大多信仰宗教,以致民族问题往往同宗教问题交织在一起而难于处理……鉴于情况复杂,中国共产党从少数民族地区的社会经济政治实际情况出发,制定了正确的民族工作方针和政策。

材料三 不管大陆还是港、澳、台地区,都只有一个中央人民政府,实行不同社会制度的地区都是中央人民政府管辖下的一级地方政权,它们与中央人民政府的关系是地方与中央的系。邓小平的这一思想是根据中国国情来解决祖国统一问题的光辉范例。

——胡维革、胡晓岩《关于香港回归祖国的思考》

- (1) 据材料一概括《选举法》的特点。该材料体现了我国哪一政治制度?
- (2) 据材料二归纳民族问题复杂表现。为此,中共确立的基本政治制度是什么?
- (3) 材料三中“解决国家统一问题”的构想是什么?请写出其成功实践的范例。
- (4) 综合以上材料,分析我国确立制度、制定政策的出发点。

23. 阅读材料,回答问题。

材料一 1821年,英国的工业产值超过农业,英国从农业国变成工业国。19世纪40年代,英国生铁产量占世界的一半,煤炭占三分之二。1850年英国工业总产值占世界的三分之一,对外贸易占世界的21%,英国成为“世界工厂”。

——张跃发《近代文明史》

材料二 第二次工业革命是以电力的广泛应用为其显著特点的。它促进了工业的高速发展工业的高速发展又促进资本和生产的集中,从而引起了垄断组织的产生……垄断组织的产生推动资本主义列强去加强殖民扩张,因而更加剧了欧洲列强之间的矛盾。

——吴于廑、齐世荣《世界史·近代史编》(下卷)

材料三 2018年12月1日,华为公司首席财务官孟晚舟在加拿大遭无端拘押。这是一起由美国一手策划、加拿大帮助实施的针对中国公民的政治迫害事件,目的是打压中国高技术企业、阻挠中国科技发展。在被拘押了1028天后,2021年9月25日晚,孟晚舟女士乘坐中国政府包机,顺利回到祖国。

——摘编自《人民日报》(2021年9月26日第04版)

- (1) 据材料一概括英国当时发生的变化。分析这些变化产生的最主要原因。
- (2) 据材料二指出第二次工业革命的特点。“欧洲列强之间的矛盾”在一战后是否得到缓和?并说明理由。
- (3) 据材料三指出这一“政治迫害事件”的本质。分析孟晚舟得以回国的根本原因。
- (4) 综合上述材料,谈谈你对科技发展的认识。

