

## 2021年广东省初中学业水平考试历史

本试卷共 8 页，33 小题，满分 100 分。考试用时 80 分钟。

注意事项：

1.答卷前，考生务必用黑色字迹的钢笔或签字笔将自己的准考证号、姓名、考场号和座位号填写在答题卡上。用 2 B.铅笔在“考场号”和“座位号”栏相应位置填涂自己的考场号和座位号。将条形码粘贴在答题卡“条形码粘贴处”。

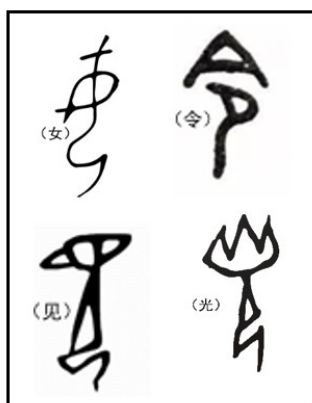
2.作答选择题时，选出每小题答案后，用 2B 铅笔把答题卡上对应题目选项的答案信息点涂黑；如需改动，用橡皮擦干净后，再选涂其他答案，答案不能答在试卷上。

3.非选择题必须用黑色字迹的钢笔或签字笔作答，答案必须写在答题卡各题目指定区域内相应位置上；如需改动，先划掉原来的答案，然后再写上新的答案；不准使用铅笔和涂改液。不按以上要求作答的答案无效。

4.考生必须保持答题卡的整洁。考试结束后，将试卷和答题卡一并交回。

一、选择题：本大题共 30 小题，每小题 2 分，共 60 分。在每小题给出的四个选项中，只有一项是符合题目要求的。

1.考古学者发现，殷墟各遗址出土的商代人骨普遍有明显跪坐姿势形成的痕迹，且年龄越大越明显。甲骨文中亦有众多和跪坐姿势相关的文字（图）。据此推测，这种跪坐姿势是



A. 礼仪规范的结果

B. 狩猎生活的需要

C. 战斗训练的要求

D. 刑罚残酷的表现

2.《史记》记载，胡亥是赵高和李斯篡改秦始皇遗诏而立，但北京大学收藏的西汉竹书《赵正书》却记载，胡亥是秦始皇临终前亲自认可的继承人。这表明

A. 《赵正书》缺乏史料价值

B. 出土文献更可信

C. 《史记》仅仅是一家之言

D. 秦始皇刚愎自用

3.东晋初期，大量避乱南迁的北方贵族定居浙东，他们主要参与制造业、商业和运输业等经济活动，很少

涉足大土地农业经营。这表明北方贵族

- A. 缺乏生产工具和技术
- B. 可支配的劳动力不足
- C. 难以获得广阔的田地
- D. 排斥南方的本地贵族

4. 隋初有官员进表，称：“窃见当今郡县，倍多于古，或地无百里，数县并置，或户不满千，二郡分领。”这说明当时

- A. 分封制度盛行
- B. 全国户口众多
- C. 土地兼并严重
- D. 郡县数量过多

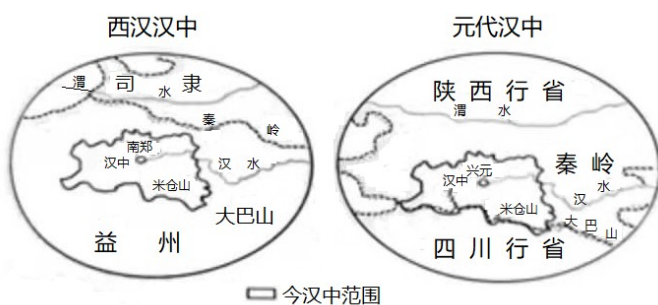
5. 高士廉等奉命编写《氏族志》时，以山东崔氏为第一等。唐太宗看后极为不满，要求按当朝官爵重新编定，遂以皇族为第一等，将山东崔氏降为第三等。这反映唐初

- A. 贵族等第观念犹存
- B. 君主权威面临挑战
- C. 区域经济发展不均
- D. 科举制度初见成效

6. 北宋时期，政府在南方征收的米谷布帛和专卖收入，经运河运至京师每年达四五百万至一千余万石匹贯，构成朝廷财政收入的重要来源。这反映出

- A. 人口南迁带来大量劳动力
- B. 江南经济地位逐渐提升
- C. 南北方耕作技术差距很大
- D. 经济重心南移已经完成

7. 下图是汉、元两代汉中地区的行政区域图。汉代主要依据“山川形便”来划分行政区划；元代主要以“犬牙相入”的原则来划分行省。元代此举目的在于



- A. 加强对地方政治军事控制
- B. 减轻地方财政经济的负担
- C. 配合郡国制度设计的需要
- D. 保护汉中地区的风俗习惯

8. 徐光启突破了狭隘的文化优越感，主张虚心接受西方科学，并在此基础上会通中西文化，最终超胜西方。据此可知，徐光启

- A. 全盘接受西方文化
- B. 反对“以夷制夷”策略
- C. 固守中国传统文化
- D. 在洞察反省中追求超越

9. 据统计，明代平民出身的进士约占总数 50%，清代则减至 37.2%；而父祖三代有秀才以上功名者，则由明代的 50%，升至清代的 62.8%。由此可见，自明至清

- A. 科举取士难度降低
- B. 平民向上流动变难



国家或地区	主要文献
苏联	1918 年苏俄宪法、1936 年苏联宪法
欧洲	罗马尼亚、波兰、德国、法国等国宪法
中国	1923 年曹锟宪法、1946 年中华民国宪法

- A. 沿袭了中国近代宪法 精神  
B. 以东欧宪法为主要依据  
C. 主要借鉴西方国家法制思想  
D. 体现了开放的国际视野

17. 1951 年，中共中央决定把推行民族区域自治和训练少数民族自己的干部，作为党在少数民族中进行的两项中心工作，随即成立了中央民族学院。这一举措体现了中央

- A. 确保“一五”计划实施  
B. 工作重心从经济转向教育  
C. 高度重视民族团结工作  
D. 推动边疆的兴边富民行动

18. 如图，1950-1978 年中国经济增长 总体趋势是

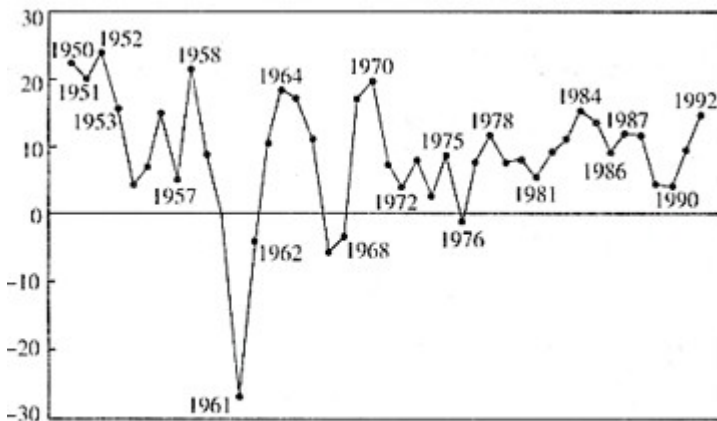


图 1950 年—1978 年中国经济增长速度

- A. 快速上升  
B. 曲折发展  
C. 缓降缓起  
D. 持续下滑

19. 在《财富》世界 500 强排行榜中，1990 年中国只有 1 家国有企业上榜；到 2018 年达 120 家，其中中国国有企业有 83 家，约占 70%。这表明

- A. 中国国有资本的迅速壮大  
B. 农村经济体制改革成效显著  
C. 全方位对外开放格局形成  
D. 城市经济体制改革目标实现

20. 2018 年，我国研究与实验发展经费支出 19657 亿元，比 2012 年增长 90.9%，与国内生产总值之比为 2.18%，比 2012 年提高 0.21 个百分点。这表明我国

- A. 建成独立自主工业体系  
B. 脱贫攻坚战略取得突破

- C. 加大力度支持科技创新  
D. 实施区域协调发展战略

21. 亚历山大攻下埃及后，接受“埃及的法老”“阿蒙神之子”等称号；征服波斯后，他则以波斯帝国的继承者自居。亚历山大旨在

- A. 推行神人同形同性的理念  
B. 获得更为广泛的统治基础  
C. 提升马其顿军队 战斗力  
D. 挑起被征服地区内部矛盾

22. 下图是拉斐尔创作的圣母像，画家不再呈现圣母头上的光环，却赋予她纯朴善良、和蔼可亲的形象，充满了人间的爱。该作品表现了



- A. 圣母的神圣威严  
B. 中世纪艺术风格  
C. 人们的物质追求  
D. 世俗的人性光辉

23. 有学者认为，美洲人的生活原本以人与自然的互动为特点，而欧洲人的到来却生硬地切断了这种互动，这在人类历史上是前所未有的。这一变化始于

- A. 新航路的开辟  
B. 列强殖民扩张  
C. 宗教改革运动  
D. 世界市场形成

24. 长期以来，俄国是一个“冰封”的内陆帝国，渴望拥有自己的“温水港”，不管通过哪一条路，它都要通向这个或那个海洋，但海洋全都在西方人特别是英国人的控制之下。据此推知

- A. 夺取出海口是俄国对外扩张重要步骤  
B. 俄国是个封闭自守的国家  
C. 英国的海上霸主地位受到俄国的挑战  
D. 农奴制阻碍俄国海洋战略

25. 蒸汽机不仅用于地下矿井抽水，而且还用于驱动地面车辆的设想于 1825 年变成现实，一条从矿井直达海岸的 7 英里铁路问世了，这是人类第一条铁路。对此理解正确的是

- A. 工业革命首先出现在煤炭业  
B. 英国世界工厂地位确立  
C. 铁路运输率先实现了现代化  
D. 创新意识推动技术变革

26. 托马斯·杰斐逊认为奴隶制一定会产生一种不幸 影响，但又希望通过取得奴隶主同意而不是消灭他们的方式，为全面解放奴隶做好准备。这反映出杰斐逊

- A. 在奴隶制问题上的保守与妥协  
B. 宣扬人人生而平等的思想  
C. 主张用革命方式解放黑人奴隶  
D. 对奴隶制的危害认识不足

27. 下表为日本政府颁布的部分法规及内容。可见，这一时期日本

颁布时间	法规名称	内容
1872年	《学制》	男女平等接受初等教育
1884年	《町村会法》	规定选举权只限男性
1890年	《集会及政治结社法》	禁止女性从事政治活动
1898年	《民法》	妻子嫁入夫家，法律视为“无能力者”

- A. 天皇制度发生动摇  
B. 选举权的范围扩大  
C. 女性权利受到限制  
D. 社会生活文明开化

28. 下表可知

国别 时间	德国	奥匈帝国	意大利	英国	法国	俄国
1890年	2.88	1.28	1.48	3.14	3.74	2.9
1914年	11.08	3.66	2.82	7.68	5.74	8.82

- A. 主要资本主义国家发展极不平衡  
B. 军备竞赛促成两大军事集团形成  
C. 争夺世界霸权引发列强军备竞赛  
D. 两大军事集团国防预算相差无几

29. 1921年，列宁曾就新经济政策说过，如果不在工业和农业之间实行系统的商品交换，无产阶级和农民就不可能建立正常的关系，就不可能在从资本主义到社会主义的过渡时期建立十分巩固的经济联盟。列宁强调的是

- A. 加快农业集体化的紧迫性  
B. 巩固工农联盟的必要性  
C. 实现国家工业化的可能性  
D. 建设社会主义的艰巨性

30. 1990年，《纽约时报》一篇关于美国中西部工业的文章说：“有些工厂中发生了好像原子弹爆炸一样的变化，装配生产线在全速运转，并裁减了大部分操作工人。”由此可见

- A. 美苏两国冷战达到新高潮  
B. 美国推进西部大开发  
C. 计算机技术提高生产效率  
D. 区域集团化趋势加强

二、非选择题：本大题共3小题，第31小题10分，第32小题14分，第33小题16分，共40分。

31. 中华民族的形成和发展是一部充满互动与交融、从多元到一体的历史。阅读材料，回答问题。

材料一

胡之名，初本专指匈奴，后为北族通称，以其形貌相同，不可无以为别，故以方位冠之。乌丸、鲜卑之先，称为东胡是也。其后循是例，施诸西北，则曰西胡，曰西域胡……其居地可以屡迁，俗尚亦易融合，惟形貌之异，卒不可混，故匈奴、乌丸、鲜卑等，入中国后，胡名遂隐，惟西域人则始终蒙是称焉。

——摘编自吕思勉《读史札记·胡考》

(1) 根据材料一，指出称“胡”的民族具体有哪些？分析“胡”由北族通称变成仅指西域人的原因。

材料二

君不闻胡笳声最悲，紫髯绿眼胡人吹。  
——岑参《胡笳歌送颜真卿使赴河陇》  
铁马长鸣不知数，胡人高鼻动成群。  
——杜甫《黄河》  
紫髯深目两胡儿，鼓舞跳梁前致辞。  
——白居易《西凉伎》



唐代胡人俑（甘肃庆城穆泰墓出土）

(2) 提取材料二中可以相互印证的历史信息。

材料三

沙陀族建立的后唐、后晋与后汉王朝，并未带来严重的种族歧视与压迫，反而历经摸爬滚打促成了各民族的融汇。恰恰在这一时期之后，所谓“蕃兵胡将”问题，河北、河东地区的“胡化”问题，不再成为纳入士大夫视野的严重问题。活动在中原地区的沙陀、粟特、回鹘等民族，有许多就地融入了汉族社会。

——摘编自邓小南《论五代宋初“胡/汉”语境的消解》

(3) 根据材料三并结合所学知识，简述五代宋初“胡”“汉”观念有何变化？

32. 中国共产党组织开展的辛亥革命纪念活动，是中国共产党表达其现实主张的重要策略。阅读材料，回答问题。

材料一

毛泽东关于辛亥革命的评述

评述	文献
“辛亥革命，似乎是一种民众的联合，其实不然。辛亥革命……与我们民众的大多数，毫无关系。”	《民众的大联合（三）》 (1919年8月)
“国民革命需要一个大的农村变动。辛亥革命没有这个变动，所以失败了。现在有了这个变动，乃是革命完成的重要因素。”	《湖南农民运动考察报告》 (1927年3月)

(1) 根据材料一指出辛亥革命的不足之处，并结合所学知识分析毛泽东撰写这两篇文献的时代背景。

材料二

《人民日报》纪念辛亥革命社论

发表时间	内容摘要
1981年	“中国共产党肩负起孙中山先生未竟的革命事业……孙中山先生在遗嘱中提出，紧迫任务之一是国家统一，现在这一任务还未完全实现。”
1991年	“中国共产党是孙中山先生革命精神和革命事业的继承者……为了推动祖国统一的进程，中国共产党审时度势，不计前嫌，提出并积极贯彻‘和平统一、一国两制’的方针，使两岸关系发生了重大变化。”
2001年	“我们纪念伟大的辛亥革命，就是要激励全体中华儿女，继承和发扬辛亥革命精神，努力营造爱国、统一、团结、奋进的良好氛围，为推进中华民族的伟大复兴，促进祖国统一努力奋斗。”
2011年	“以和平方式实现统一，符合包括台湾同胞在内的全体中国人的根本利益，是中华儿女的共同愿景。”

(2) 根据材料二，概括社论表达的共同主张，并结合所学知识简述中国共产党为此做了哪些重要努力？

(3) 根据上述材料并结合所学知识，指出中国共产党为完成“孙中山先生未竟的革命事业”取得了哪些伟大成就？

33. 城市拥有丰富的文化遗迹和历史记忆，堪称博物馆。阅读材料，回答问题，

材料一

<p>据传说，罗马城由战神马尔斯的两个儿子在公元前 753 年建立，它见证了古罗马文明的辉煌。</p>		
	万神殿	罗马大竞技场
<p>佛罗伦萨地处意大利中北部，具有适于新文化生长的经济、政治和思想文化条件。</p>		
	佛罗伦萨远眺	但丁像
<p>柏林是一个充满众多历史记忆的现代城市，可以促使世人深刻反思历史。</p>		
	燃烧中的国会大厦	柏林墙

(1) 根据材料一，任选一座城市并结合相关史实说明其堪称博物馆的理由。

材料二

### 巴黎第一批博物馆

成立时间	名称	馆舍	馆舍类型
1792年	卢浮宫博物馆	卢浮宫	皇室
1793年	自然历史博物馆	皇家医药植物园的花园	皇室
1794年	艺术与工艺文物馆	圣马丁皇家隐修院	皇室
1795-1816年	法国历史博物馆	小奥古斯丁修道院	宗教
1806年之前	军事博物馆	圣托马斯达奎因教堂	宗教

——摘编自黄辉《“文化性”空间组织力量及其认知在城市内部空间的演变》

(2) 根据材料二并结合所学知识，谈谈法国大革命对巴黎第一批博物馆诞生所起的作用。

### 材料三

### 西安部分博物馆资源

老子墓 扁鹊墓 阿房宫遗址 秦始皇陵及兵马俑坑 汉长安城遗址 董仲舒墓  
唐长安城遗址 大唐西市遗址 大雁塔 大明宫遗址 西安碑林  
红二十五军革命会议旧址 西安事变旧址 八路军西安办事处旧址

(3) 根据材料三，任选两个或两个以上资源自拟一个主题，围绕这一主题说明西安的历史文化价值。