

2023年陕西省初中学业水平考试

历史试卷

注意事项：

1. 本试卷分为第一部分（选择题）和第二部分（非选择题）。全卷共6页，总分60分。

考试时间60分钟。

2. 领到试卷和答题卡后，请用0.5毫米黑色墨水签字笔，分别在试卷和答题卡上填写姓名和准考证号，同时用2B铅笔在答题卡上填涂对应的试卷类型信息点（A或B）。

3. 请在答题卡上各题的指定区域内作答，否则作答无效。

4. 考试结束，本试卷和答题卡一并交回。

第一部分（选择题 共24分）

一、选择题（本部分共12道试题，每题2分，计24分。每道题只有一个选项符合题意）

1. 陕西西安有丰富的文物资源。下列考古发现可用于研究半坡人生活的是（ ）

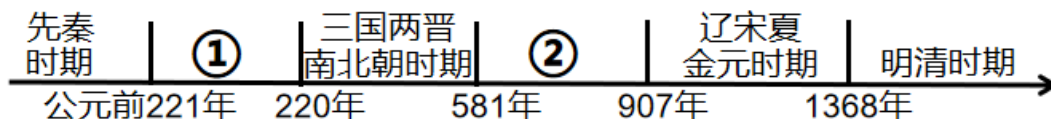


A. 甲骨文 B. 商鞅铜方量 C. 人面鱼纹彩陶盆 D. 司母戊鼎

2. 春秋战国时期学术思想非常活跃。主张“仁”“有教无类”的思想家是（ ）

A. 墨子 B. 韩非 C. 老子 D. 孔子

3. 阅读中国古代时间轴，关于②阶段特征表述正确 是（ ）



- A. 早期国家与社会变革
B. 繁荣与开放的时代
C. 统一多民族国家的建立和巩固
D. 政权分立与民族交融
4. 近代以来列强通过侵华战争迫使清政府签订了一系列不平等条约，使中国完全陷入半殖民地半封建社会深渊的是（ ）

- A. 《马关条约》 B. 《南京条约》 C. 《辛丑条约》 D. 《北京条约》

5. 中国共产党领导中国人民不断探索救国救民的道路。下列事件和内容或意义搭配正确的是（ ）

选项	事件名称	内容或意义
A	南昌起义	提出“政权是由枪杆子中取得”的著名论断
B	中共三大	打响了武装反抗国民党反动派的第一枪
C	遵义会议	是中国共产党历史上一个生死攸关的转折点
D	八七会议	正式决定同国民党合作并建立革命统一战线

- A. A B. B C. C D. D

6. 如图是 1955 年创作的年画《拖拉机到咱社来代耕了》。该作品反映了（ ）




- A. 彻底摧毁了封建土地制度
B. 《中国土地法大纲》的颁布
C. 打土豪，分田地，开展土地革命
D. 农业合作化的现实成果

7. 下列属于 20 世纪 50 年代中国外交成就的是（ ）

- ① 提出和平共处五项原则 ② 恢复在联合国的合法席位
③ 万隆会议提出“求同存异”的方针 ④ 举办亚太经合组织领导人非正式会议

- A. ①③ B. ③④ C. ①② D. ②④

8. 下列是某校同学举办的图片展。请为他们选择一个恰当的主题（ ）



东方红一号



杨利伟走出舱门



翟志刚太空漫步



三名航天员进入天和核心舱

- A. 航天科技，创新发展
- C. 民生保障，共同富裕

- B. 文化事业，欣欣向荣
- D. 百年大计，教育为本

9. 古代亚非地区 文明古国创造了辉煌灿烂的文明成果。下列属于其成果的是 ()

- A. 《荷马史诗》
- B. 雅典民主政治
- C. 金字塔
- D. 罗马大竞技场

10. 历史课上提到“解放者”“印度非暴力不合作运动”“非洲年”等关键词。据此可知，本节课学习的内容是 ()

- A. 世界市场的逐步形成
- B. 国际共产主义运动的兴起
- C. 资本主义制度的扩展
- D. 亚非拉民族解放运动的历程

11. 19 世纪六七十年代，第二次工业革命开始，人类社会进入“电气时代”。下列科技发明产生于这一时期是 ()

- ①汽车
 - ②电灯
 - ③计算机网络
 - ④内燃机
- A. ②③④
 - B. ①③④
 - C. ①②④
 - D. ①②③

12. 美国生物学家蕾切尔·卡森的著作《寂静的春天》中说到，由于人类大量使用杀虫剂。对大自然造成了巨大伤害。这反映了当今社会面临的问题是 ()

- A. 霸权主义危害
- B. 能源危机加剧
- C. 人口增长过快
- D. 生态环境恶化

第二部分 (非选择题 共 36 分)

二、非选择题 (共 3 道试题，计 36 分)

13. 阅读材料。回答问题。

材料一



图A 唐朝前期对外贸易港口分布图



图B 清朝前期对外贸易港口分布图

(1) 材料一图 A 和图 B 中共同的对外贸易港口是_____北宋前期，四川地区出现_____，这是世界上最早的纸币；14 世纪初，中国四大发明中的_____传入欧洲后，对欧洲的火器制造和作战方式产生巨大影响，推动了欧洲社会的变革；_____人担当了沟通东西方文化的角色，中国许多重大发明都是由他们传入欧洲的。

材料二 (南宋) 由于北方沦陷，对外交往必须通过海道，四此泉州、广州、明州 (宁波) 迅速发展，成为三大对外贸易港口。南宋对外贸易的繁盛超过了北宋，形成通往日本、高丽、东南亚、印度……的海上丝绸之路。据记载，当时与南宋通商的国家多达五十多个。

——摘编自樊树志《国史十六讲 (修订版)》

- (2) 依据材料二，概括南宋对外贸易 特点。结合所学知识，分析南宋对外贸易发展的影响。
- (3) 综合上述材料，结合所学知识，你认为推动古代对外贸易发展的因素有哪些？

14. 阅读材料，回答问题。

材料一



17 世纪英国革命的根源可以在国会和斯图亚特工朝之间的冲突中找到……1689 年的法案规定；国王不能中止法律；除非经国会同意，不得提高税收或保持军队；若没有法律手续，不可逮捕和拘留臣民。

——携编自[美]斯塔夫里阿诺斯《全球通史》

(1) 材料一中“1689 年的法案”指哪一法律文件?依据材料一，概括该法案是如何限制王权的。结合所学知识，分析“17 世纪英国革命”与图 A 事件之间的关系。

材料二



图B 列宁

1921年采取了“新经济政策”……成功地应付了数年战争留下的直接危机。到1926年，工农业产量已达到1914年以前的水平……人口已增加了800万。

——摘编自[美]斯塔夫里阿诺斯《全球通史》

材料三：



图C 罗斯福

20世纪资本主义的第一次调整是在资本主义面临前所未有的大危机，苏联社会主义经济建设蒸蒸日上的世界形势下开始的……罗斯福新政造成了资本主义的一次深刻变革……开启了国家干预经济的模式。

——摘编自许平《自由与平等的博弈；解读20世纪资本主义的三次调整》

(2) 选做题：以下两个小题，请任选一个作答。（如果两个都答，按第①小题计分）

① 图B人物领导哪一事件建立了第一个无产阶级专政的国家？依据材料二；结合所学知识，概括新经济政策实施的意义。指出1928—1937年苏联为实现工业化采取的措施。

② 图C人物实施新政是为了应对哪一事件？依据材料三，概括罗斯福新政的特点。结合所学知识，简述罗斯福新政的影响。

(3) 结合所学知识，指出二战后西欧国家为提高自身国际地位采取了哪些措施？谈谈你对上述国家和地区应对危机举措的认识。

15. 某校九年级（1）班同学以“民族复兴—陕西篇章”为主题展开探究活动，请你参与。

民主革命 陕西探索】

材料一

19世纪中后期，陕西机器制造局在西安成立，开始试制枪械弹药。陕西机器制造局为清政府所办……

——摘编自《中国历史填充图册》


陕西是最早响应武昌起义并取得成功的省份，又是北方诸省中第一个光复的省份，还是辛亥革命独立各省中坚持军事斗争时间最长的省份……陕西辛亥革命的成功…加速了清政府的灭亡。

——摘编自张华腾《近代陕籍政治人物理想追求研究》

(1) 材料一中“陕西机器制造局”的成立与哪一运动有关?依据材料一,概括“陕西辛亥革命”的特点。

【民族危亡陕西担当】


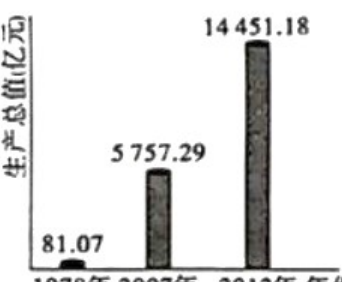
材料二

 <p>1919年五四运动期间,西安学生走在运动的前列。他们游行示威,宣传群众。其中学生屈武作为陕西学生联合会会长到北京请愿,在总统府力谏的壮举震撼全国。</p>		<p>抗日战争的经验,给了我们和中国人民这料一种信心;没有中四共产党的努力,没有中国共产党人做中国人民的中流砥柱,中国的独立和解放是不可能的,中国的工业化和农业近代化也是不可能的。</p> <p>——摘自毛泽东《论联合政府》,1945年4月发表于延安</p>
图A《民国日报》及相关报道	图B 张学良和杨虎城	

(2) 依据材料二图 A 所示内容,指出陕西学生运动的方式。图 B 所示历史人物为抗日民族统一战线的形成作出了怎样的贡献?结合所学知识,用一例史实说明中国共产党在全民族抗战中发挥的“中流砥柱”作用。

【经济建设 陕西发展】


材料三

	<p>①铁路贯穿陕、甘、川三省19个市、县,使四川有了同全国铁路网连接起来的铁路干线,从此结束了“蜀道难”的历史。</p>	 <table border="1"><thead><tr><th>年份</th><th>生产总值(亿元)</th></tr></thead><tbody><tr><td>1978年</td><td>81.07</td></tr><tr><td>2007年</td><td>5757.29</td></tr><tr><td>2012年</td><td>14451.18</td></tr></tbody></table>	年份	生产总值(亿元)	1978年	81.07	2007年	5757.29	2012年	14451.18
年份	生产总值(亿元)									
1978年	81.07									
2007年	5757.29									
2012年	14451.18									
图C 第一个五年计划期间工业交通建设主要成就分布示意图	图D 1978—2012年陕西省生产总值变化情况									

(3) 写出材料三图 C 中①铁路名称。依据材料三,概括这一铁路建成的意义。图 D 所示变化得益于国家的哪些措施?

【伟大时代 陕西新章】

材料四

<p>2022 年全省全年生产总值 32772.68 亿元：全年居民人均可支配收入 30116 元，比上年增长 5.4%。</p>		<p>2021 年成功举办第十四届全国运动会；2023 年 5 月，中国—中亚峰会在陕西西安举行。</p>
<p>2022 年，陕西先后与 40 多个国家和地区建立全方位合作关系，陕建、延长等一大批企业集团参与“一带一路”建设，彰显国际合作中的陕西力量；中欧班列“长安号”核心指标领先全国</p>		<p>陕西拥有雄厚科技实力和产业资源，尤其在航空航天产业，占有全国四分之一的专业人才和高精尖设备；在新能源科技领域，2022 年陕西新能源汽车产量“驶”进全国第一方阵</p>

(4) 依据材料四，结合所学知识，分析中共十八大以来陕西取得巨大成就的原因。综合上述探究，谈谈你对中华民族伟大复兴历程中陕西篇章的感悟。