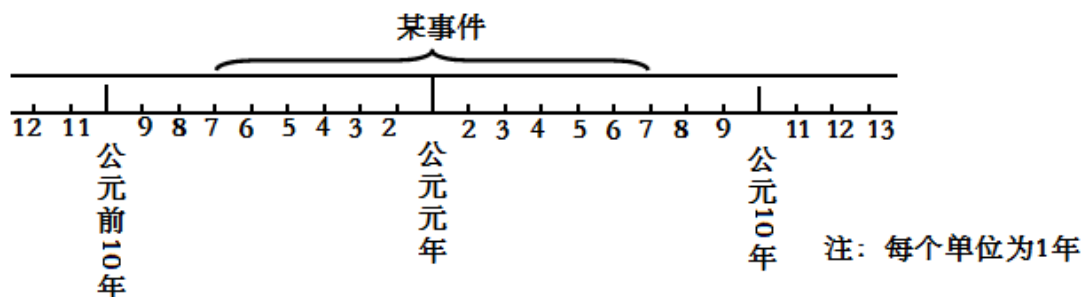


贵州省六盘水市 2015 年中考历史试题

一、单项选择题。（共 15 小题，每小题 2 分，共 30 分）

(2015·贵州六盘水) 1. 学习历史时，学会正确的计算历史年代是很必要的，请问下面年代尺上某事件经历了多少年（ ）



- A . 11 年 B . 12 年
C . 13 年 D . 14 年

【答案】C

【命题立意】本题考查了公元纪年法。旨在考查运用所学知识进行判断分析的能力，难度一般。

【解析】公元纪年包括公元、世纪和年代；其以传说中耶稣诞生的那年作为公元元年；没有公元 0 年。以元年为界，向后推算，称为公元多少年；向前推算称为公元前多少年。某事件开始于公元前 7 年，结束于公元 7 年，该事件经历了 $7 + 7 - 1 = 13$ 年。故本题选择 C。

(2015·贵州六盘水) 2. 成语是中华优秀传统文化的重要部分。请问成语“问鼎中原”反映的是下列哪个历史人物（ ）

- A . 齐桓公 B . 晋文公
C . 楚庄王 D . 越王勾践

【答案】C

【命题立意】本题考查了楚庄王称霸。旨在考查运用所学知识进行判断分析的能力，难度一般。

【解析】“问鼎中原”这一成语，反映的当时历史人物是楚庄王，九鼎是王权的象征，楚庄王问九鼎的轻重，大有取代周天子的架势，故本题选择 C。其他人物均与题意不符，

(2015·贵州六盘水) 3. 对比分析是我们学习历史的一个重要方法。秦朝和隋朝这两个封建王朝之间的相似之处有（ ）

- ① 都结束了长期分裂的局面，实现统一 ② 存在时间都很短暂，历二世而亡 ③ 都修筑了大型工程 ④ 都开创了影响深远的政治制度
- A . ②③④ B . ①②③④
C . ①②④ D . ①③④

【答案】B

【命题立意】本题考查了秦朝、隋朝的相似之处。旨在考查运用所学知识进行判断分析的能力，难度较难。

【解析】秦朝和隋朝的相似之处有：第一、都结束了长期分裂的局面，实现统一。从公元前 230 年到前 221 年，秦王嬴政陆续灭掉六国，建立起我国历史上第一个统一的封建国家。581 年，外戚杨坚夺取北周政权，建立隋朝。589 年，隋军灭掉南朝最后一个朝代陈，南北重归统一。第二、存在时间都很短暂，历二世而亡。秦朝和隋朝都是历史上典型的短命王朝，两世而亡，其灭亡原因很大程度上是由于皇帝的暴政。第三、都修筑了大型工程。秦始皇下令修建灵渠，沟通了长江水系和珠江水系。为了加强南北交通，巩固隋王朝对全国的统治，隋炀帝下令开通了纵贯南北的大运河。第四、都开创了影响深远的政治制度。秦朝创立的三公九卿制度、隋朝创立的三省六部制度对后世影响深远。

故本题选择 B。

(2015·贵州六盘水) 4. 民族团结、民族友好一直是我国历史发展的主流。下列事件体现这一主题的是 ()

① 昭君出塞 ② 文成公主和金城公主入藏 ③ 岳飞抗金 ④ 清朝册封达赖、班禅

A. ①②④

B. ①②③

C. ①③④

D. ②③④

【答案】A

【命题立意】本题考查了我国的民族友好交往。旨在考查运用所学知识进行判断分析的能力，难度一般。

【解析】本题中的昭君出塞、文成公主和金城公主入藏和清朝册封达赖、班禅等，反映了民族团结、民族友好一直是我国历史发展的主流。岳飞抗金反映了民族之间的对峙、对抗，不符合题意，排除。故本题选择 A。

(2015·贵州六盘水) 5. 对联既是中华优秀传统文化的主要组成部分，又有很强的时代性。下列对联中反映新中国成立的是 ()

A. 改革开放同添异彩，经济建设共展宏图

B. 万里河山归人民，五亿群众庆新生

C. 扎根农村干革命，志在全球一片红

D. 食堂巧煮千家饭，公社饱暖万人心

【答案】B

【命题立意】本题主要考查了新中国成立的意義。旨在考查理解材料，最大限度地获取有效信息，进行准确解读的能力，难度一般。

【解析】1949 年 10 月 1 日，新中国的成立，“万里河山归人民，五亿群众庆新生”，中国人民从此站立起来，成为新中国、新社会的主人。“食堂巧煮千家饭，公社饱暖万人心”反映的是人民公社化运动，“扎根农村干革命，志在全球一片红”反映的是上山下乡，“改革开放同添异彩，经济建设共展宏图”反映的是改革开放的意義，故本题选择 B。

(2015·贵州六盘水) 6. 图 1 中的历史人物参与的历史事件分别是 ()



图 1

- A. 新文化运动和辛亥革命 B. 戊戌变法和洋务运动
C. 戊戌变法和辛亥革命 D. 洋务运动和新文化运动

【答案】D

【命题立意】本题考查了洋务运动和新文化运动。旨在考查运用所学知识进行判断分析的能力，难度一般。

【解析】从本题所示图片看，分别是李鸿章和陈独秀，李鸿章是洋务运动的代表人物，而陈独秀则开展了新文化运动。故本题选择 D。

(2015·贵州六盘水) 7. 某旅行社准备设计以“重走长征路，回忆革命史”为目的的一条红色旅行线路。请问属于贵州境内的景点有 ()

- A. 瑞金、遵义 B. 遵义、赤水
C. 吴起镇、会宁 D. 会宁、赤水

【答案】B

【命题立意】本题考查了红军长征。旨在考查运用所学知识进行判断分析的能力，难度一般。

【解析】本题主要是以题干中“属于贵州境内的景点”为切入点，根据所学知识可知，属于贵州的景点有遵义、赤水，而瑞金属于江西，吴起镇属于陕西，会宁属于甘肃，故本题选择 B。

(2015·贵州六盘水) 8. “紫荆开后白莲开，喜事翩跹接踵来。神州大地齐欢庆，一国两制谱新篇。”这首诗歌中的“喜事”指 ()

- A. 西藏和平解放 B. 新中国成立
C. 民族雅尔塔自治 D. 香港、澳门回归

【答案】D

【命题立意】本题考查了港澳回归。旨在考查理解材料，最大限度地获取有效信息，进行准确解读的能力，难度适中。

【解析】本题题干中有“紫荆”“白莲”，还有“一国两制”等信息，根据所学知识可知“紫荆”“白莲”分别代表香港和澳门，“一国两制”应该是港澳回归的一项基本政策，或者可以理解为中国通过“一国两制”成功解决了香港、澳门的历史遗留问题，恢复对香港、澳门行使主权，因此材料中“喜事”是指港澳回归，故本题选择 D。

(2015·贵州六盘水) 9. 王力兮同学用了几秒钏便将参加全国作文大赛的稿件送到了上海组委会编辑部，他是通过下列哪一手段送达的 ()

- A. 发电子邮件 B. 寄挂号信

- C. 快递送达 D. 打电话

【答案】A

【命题立意】本题考查了计算机网络技术。旨在考查对有效信息进行准确解读的能力，难度一般。

【解析】本题中几秒钟传送稿件的只能发电子邮件，寄挂号信和快递送达都不能做到如此迅速，打电话则不能呈送稿件。故本题选择 A。

(2015·贵州六盘水) 10. 某剧团在排练有关辛亥革命的剧目时，有如下几个场景，你认为其中与史实不符的是 ()

- A. 一个革命党人在街头张贴“实现民主共和”的标语
B. 1912 年 1 月 1 日南京各大报纸刊登孙中山就任“中华民国”正式大总统的消息
C. 孙中山在灯下阅读《民报》
D. 几艘外国军舰在长江上航行，向革命党人示威

【答案】B

【命题立意】本题考查了辛亥革命。旨在考查运用知识进行判断分析的能力，难度适中

【解析】从本题的四个选项看，A、C、D 选项均是符合当时史实的，排除。B 选项中华民国成立时，孙中山就任的是南京临时政府临时大总统，不是正式大总统，因此该选项不符合当时史实。故本题选择 B。

(2015·贵州六盘水) 11. 西方文明的发源地在 ()

- A. 罗马 B. 埃及
C. 希腊 D. 英国

【答案】C

【命题立意】本题考查了古希腊文明。旨在考查运用知识进行判断分析的能力，难度一般。

【解析】西方文明之源是古希腊。这是因为古希腊在各个领域，包括哲学、文学、数学、美术、雕塑、建筑、戏剧以及科学等方面都非常突出的成就，古希腊文化在历史发展的过程中，创造了无数璀璨夺目的文化成果，达到人类文明史上的一个新的高端。西方现代文明都与古希腊文明有着千丝万缕的关联，甚至是一脉相承，奠定现代西方文明基础。至关重要的文艺复兴运动，也从古希腊文明中汲取了很多的养分，因此可以说古希腊文化是西方文明的摇篮，是人类智慧的象征。故本题选择 C。

(2015·贵州六盘水) 12. 《大国崛起》解说词中说到：“公元 1500 年前后的地理大发现，拉开了不同国家相互对话和相互竞争的历史大幕。”“地理大发现”是通过下列什么活动实现的 ()

- A. 新航路开辟 B. 张骞出使西域
C. 鉴真东渡日本 D. 玄奘

【答案】A

【命题立意】本题考查了新航路开辟。旨在考查对有效信息进行准确解读的能力，难度一般。

【解析】根据所学知识可知，公元 1500 年前后，以欧洲的新航路开辟作为标志。新

航路

开辟以后，从欧洲到亚洲、美洲和非洲等地的交通往来日益密切，世界开始连成一个整体。欧洲国家开始争先恐后抢占殖民地。所以这里的“地理大发现”是通过新航路开辟实现的。故本题选择 A。

(2015·贵州六盘水) 13. 某记录片评述：牛顿缔造了工业革命的钥匙，瓦特拿着这把钥匙打开了工业革命的大门。牛顿和瓦特的贡献分别是 ()

- A. 发现电磁感应现象、创制风燃机 B. 发明电灯、制造汽车
C. 发明电子计算机、发明电话 D. 发现万有引力定律、研制改良蒸汽机

【答案】 D

【命题立意】 本题考查了牛顿和瓦特。旨在考查运用知识进行判断分析的能力，难度一般。

【解析】 根据所学知识可知，牛顿和瓦特的贡献分别发现万有引力定律、研制改良蒸汽机。本题其他选项中所涉及发明(现)：内燃机是卡尔·本茨发明的，电磁感应现象是法拉第发现的，电灯是爱迪生发明的，电话是贝尔发明的，均与题意不符，排除。故本题选择 D。

(2015·贵州六盘水)

14. 读图 2 漫画，它提示了在当今世界发展中 ()




图 2

- A. 和平与发展是当今时代的主题
B. 国际竞争日益激烈
C. 国际社会存在着霸权主义和强权政治
D. 发展中国家面临着发展经济的艰巨任务

【答案】 C

【命题立意】 本题考查了霸权主义和强权政治。旨在考查试题提供的图文材料进行准确解

读、分析的能力，难度一般。

【解析】 在解答本题时一定要从漫画所反映的主题出发。从本题所示的漫画看，应该是反

映了当今国际社会存在着的霸权主义和强权政治。其它选项也能基本符合当今世界发展的现状，但是与漫画反映的主题不符，排除。故本题选择 C。

(2015·贵州六盘水) 15. 当今世界：“巨人林立，美国是萎缩的巨人，日本是独脚巨人，俄罗斯是生病的巨人，欧洲是缺乏凝聚力的巨人，中国是潜在的巨人”。这一评论具有

一定的针对性和概括性，说明当今世界的政治格局的基本特点是（ ）

- A．朝着多极化方向发展 B．多极化的世界格局完全形成
C．美国独霸世界的格局 D．美、日、欧、俄、中共同主导世界

【答案】 A

【命题立意】 本题考查了多极化趋势。旨在考查对有效信息进行准确解读的能力，难度适中。

【解析】 本题主要考查世界政治格局的特点。根据所学知识可知，中国、俄罗斯、美国、

日本、欧洲、等都是世界上几个重要的政治或经济实体，材料点出了这几个重要力量的特点。这说明两极格局结束后，世界政治格局正向多极化趋势的方向发展。分析选项 B、C、D 三项表述均有误，所以应选 A。

二、承载历史、放眼世界（16 题 11 分，17 题 9 分；18 题 11 分；19 题 14 分，共 45 分）

前言：以铜为镜，可整衣冠；以人为镜，可知得失；以史为镜，可知兴替矣。未来社会的主人们：在聆听历史起伏的乐曲声中，创作出新的乐曲吧！

乐曲 1：悠久辉煌曲

(2015·贵州六盘水) 16．中华传统文化就是文明演化而汇集成的一种反映民族特质和风貌的民族文化，是民族历史上各种思想文化观念形态的总体表现。中华传统文化包括：古文、诗、词、赋、楹联、绘画、音乐、曲艺等……（11 分）

材料一 近代大学者王国维说过：“凡一代有一代之文学：楚之骚、汉之赋、六代之骈语、唐之诗、宋之词、元之曲，皆所谓一代之文学，而后世莫能继焉者也。……”历史上涌现出了许多名垂青史的诗人、词人及流传千古的名句。如：“飞流直下三千尺，疑是银河落九天。”“乱石穿空，惊涛拍岸，卷起千堆雪。”等

材料二 图 3 是中国古代描绘市井生活的一幅名画的局部。有人称，看了这幅画，“恍然如入汴京，置身流水游龙间，但少尘扑面耳。”



图 3

材料三 欣赏下列不同时期的书法作品：




图 4：柳公权《玄秘塔碑》 图 5：王羲之《兰亭序》 图 6：怀素《自叙帖》

(1) 请问材料一中“飞流直下三千尺，疑是银河落九天”的作者是谁？（1分）他被人们尊称为什么？（1分）“乱石穿空，惊涛拍岸，卷起千堆雪”的作者是谁？（1分）他开创了什么词风？（1分）（共 4 分）

(2) 材料二中图 3 这幅作品的名称是什么？（1分）属于国画的什么类型？（1分）突出反映当时社会的什么景象？（2分）（共 4 分）

(3) 材料三图 4、图 5、图 6 反映的书法的字体分别是什么？（各 1 分，共 3 分）

【答案】 (1) 李白；（1分）“诗仙”（1分） 苏轼；（1分）豪放派。（1分）

(2) 《清明上河图》；（1分）风俗画；（1分）它描绘了当时北宋汴京清明时节的繁荣景象，是汴京当年繁荣的见证，也是北宋城市经济情况的写照。通过这幅画，我们了解了北宋的城市面貌和当时各阶层人民的生活。（2分）

(3) 柳公权：柳体；（1分）王羲之：行书；（1分）怀素：草书。（1分）

【解析】第 (1) 题，根据所学可知，“飞流直下三千尺，疑是银河落九天”的作者是李白，他被人们尊称为“诗仙”。“乱石穿空，惊涛拍岸，卷起千堆雪”的作者是谁苏轼，它是宋词豪放派的代表人物，故他开创了豪放派的词风。

第 (2) 题，根据所学可知，材料二中图 3 这幅作品的名称是《清明上河图》，属于风俗

画，它描绘了当时北宋汴京清明时节的繁荣景象，是汴京当年繁荣的见证，也是北宋城市经济情况的写照。通过这幅画，我们了解了北宋的城市面貌和当时各阶层人民的生活。

第 (3) 题，根据所学知识可知，材料三图 4、图 5、图 6 反映的书法的字体分别是柳公

权：柳体；王羲之：行书；怀素：草书。

乐曲 2：悲壮奋发曲

(2015·贵州六盘水) 17. 2013 年 9 月 7 日，习近平主席在哈萨克斯坦 表重要演讲，首次提出“一带一路”的合作发展理念。“一带一路”是“丝绸之路经济带”和“21 世纪海上丝绸之路”的简称。它不是一个实体和机制，而是合作发展的理念和倡议，是依靠中国与有关国家既有的双多边机制，借助既有的行之有效的区域合作平台，旨在借用古代“丝绸之路”的历史符号，高举和平发展的旗帜，主动地发展与沿线国家的经济合作伙伴关系，共同打造政治互信，经融合，文化包容的利益共同体，命运共同体和责任共同体。（9 分）

材料一 “在长达一千多年的时间里，它把黄河文明、恒河文明、两河文明和希腊文明等
 诸多人类文明最重要的起源地，串联在一起，被喻为世界历史展开的主轴。”这是当代
 史学研究者对汉代开辟“丝绸之路”的评价。

材料二



图 7

材料三 清初，为了对付东南沿海的反清力量，曾厉行海禁，“片板不准下海”。清朝收
 复台湾后，曾放松海禁，开放澳门、漳州、宁波、云台山（即今连云港）四处为对外贸
 易港口，准许外国商船前来交易。后来，由于外商在中国沿海进行不利于清朝的非法活
 动，清政府只允许他们在广州一处进行贸易。

——岳麓版七年级下册

- (1) 根据材料一，并结合所学知识，请问哪一历史事件为丝绸之路的开辟奠定了基础？
 (2分)
- (2) 材料二图 7 中的远航最远到达哪里？(2分)
- (3) 请问材料三反映的是清政府实行的什么政策？(1分) 给我国带来什么消极影响？
 (2分) 结合这一政策的影响和我国现阶段倡导的“一带一路”理念，从国家发展的角度，
 你得到什么启示？(2分) (共 5分)

【答案】 (1) 张骞出使西域。(2分) (2) 非洲东海岸和红海沿岸。(2分)

(3) 闭关锁国政策；(1分) 消极影响：清政府闭关锁国，与世隔绝，既看不到世界
 形势的变化，也未能适时向西方学习先进科学知识和生产技术，使中国在上世界上逐渐落
 伍了。(2分) 启示：闭关锁国导致落后，落后就要挨打；我们应坚持对外开放，与时
 俱进。(2分)

【命题立意】 本题考查了古代中国对外交往，涉及丝绸之路、郑和下西洋、闭关锁国政
 策
 及我国现阶段倡导的“一带一路”的合作发展理念。旨在考查试题提供的图文材料进行准
 确
 解读、分析的能力，难度一般。

【解析】 第(1)题，根据所学可知，为丝绸之路的开辟奠定基础的事件应是张骞通西
 域。

第(2)题，根据所学知识可知，郑和下西洋最远到达非洲东海岸和红海沿岸。

第(3)题,根据所学并结合材料可知,材料三反映的是清政府实行的闭关锁国政策,给

我国带来的消极影响即闭关政策的局限性,表现为清政府闭关锁国,与世隔绝,既看不到世界形势的变化,也未能适时向西方学习先进科学知识和生产技术,使中国在上世界上逐渐落伍了。启示:闭关锁国导致落后,落后就要挨打;我们应坚持对外开放,与时俱进。

(2015·贵州六盘水) 18.近代以来,中华民族历经沉沦与抗争,奋斗与崛起,而在前进的道路上,却始终坚持着同一个梦想,特别是中国共产党人,始终为之进行着持续的探索与奋斗。阅读下列材料,结合所学知识回答问题:(11分)

材料一 有学者指出,1840—1949年间的中国历史经历了“沉沦”、“谷底”、“上升”三个阶段,在1840—1901年期间,中国历史的发展趋势主要表现为“沉沦”,从1901年到1920年期间,中国历史表现为“谷底”……1921年以后,中国的历史发展趋势就主要表现为“上升”了。

材料二



图8 土地改革



图9 一五计划



图10 三大改造



图11 第26届联合国大会

材料三 “实现中国梦必须走中国道路。……这条道路是在改革开放30多年的伟大实践中走出来的,是在中华人民共和国成立60多年的持续探索中走出来的,是在对近代以来170多年中华民族发展历程的深刻总结中走出来的……”

——节选自习近平讲话

(1) 根据材料一,从社会发展的角度来说,请问“沉沦”指的是什么?(2分) 什么条约的签订使中国完全“沉沦”? (2分) (共4分)

(2) 材料二中图8—图11展示了新中国在各个时期取得的成就,请任选其中一件简述其历史意义。(2分)

(3) 改革开放的总方针是哪次会议提出的?(1分) 改革开放这30多年我们进行了哪些伟大实践?(至少写出两件)(2分) (共3分)

(4) 今天,实现“中国梦”的责任落到了我们青少年一代的肩上。在世界经济全球化的趋势下,你认为中国应该如何面对未来的挑战,实现我们的“中国梦”? (2分)

【答案】 (1) 中国从封建社会逐步沦为半殖民地半封建社会;(2分) 《辛丑条约》。(2分)

(2) 图8:土地改革的完成,彻底摧毁了我国存在两千多年的封建土地制度,消灭了地主阶级;农民成为土地的主人;巩固了人民政权,大大解放了农村生产力,农业生产获得迅速恢复和发展,为国家的工业化建设准备了条件。(2分)

图9:一五计划的完成,使我国开始改变了工业落后的面貌,向社会主义工业化迈进。

图 10：它的完成，实现了把生产资料私有制转变为社会主义公有制的任务。我国初步建立起社会主义的基本制度，从此，进入社会主义初级阶段。（2分）

图 11：①对中国：是中国外交战线上的重大胜利(突破)，宣告美国孤立中国的政策破产；标志着中国国际地位的提高；使中国在国际事务中发挥着越来越重要的作用。②对国际：大大增强了第三世界国家在联合国的力量。使联合国的作用发生重大变化，由原来帝国主义控制下称霸的工具变成为第三世界伸张正义的舞台。

(3) 十一届三中全会；（1分）实行家庭联产承包责任制；建立社会主义市场经济体制；运用“一国两制”收回香港、澳门主权。等（任意两件，2分）

(4) 坚持改革，坚持对外开放，加强国际间的交流与合作等。（言之有理即可，2分）

【命题立意】 本题考查了中华民族的沉沦与抗争，奋斗与崛起。旨在考查试题提供的图文材

料进行准确解读、分析的能力，难度一般。

【解析】 第（1）题，根据所学知识结合材料可知，“沉沦”指的是中国从封建社会逐步沦为半殖民地半封建社会；《辛丑条约》的签订使中国完全“沉沦”，即完全沦为半殖民地半封建社会。

第（2）题，根据所学结合图片材料可知：图 8 土地改革的完成，彻底摧毁了我国存在两

千多年的封建土地制度，消灭了地主阶级；农民成为土地的主人；巩固了人民政权，大大解放了农村生产力，农业生产获得迅速恢复和发展，为国家的工业化建设准备了条件。图 9 一五计划的完成，使我国开始改变了工业落后的面貌，向社会主义工业化迈进。

图

10 三大改造的基本完成，实现了把生产资料私有制转变为社会主义公有制的任务。我国

初步建立起社会主义的基本制度，从此，进入社会主义初级阶段。图 11 新中国重返联合

国，①对中国：是中国外交战线上的重大胜利(突破)，宣告美国孤立中国的政策破产；标志着中国国际地位的提高；使中国在国际事务中发挥着越来越重要的作用。②对国际：大大增强了第三世界国家在联合国的力量。使联合国的作用发生重大变化，由原来帝国主义控制下称霸的工具变成为第三世界伸张正义的舞台。

第（3）题，根据所学知识可知，改革开放的总方针是十一届三中全会提出的，改革开放

这 30 多年我们进行的伟大实践有实行家庭联产承包责任制；建立社会主义市场经济体制；运用“一国两制”收回香港、澳门主权等。

第（4）题，在世界经济全球化的趋势下，我们应坚持改革，坚持对外开放，加强国际间

的交流与合作等。

乐曲 3：和谐和平曲

(2015·贵州六盘水) 19. 自孔子以来，我们的民族就形成了“和为贵”、“亲仁善仁”的文化传统。其中的“和为贵”更是一种坚韧不灭的思想。“和”是孔子思想中占有终极地位的概念，孔子追求的社会乃是以“和”为本质，人与人之间相互配合协调，各守其位的和谐社会。

2015 年是世界人民反法西斯战争胜利 70 周年。两次世界大战的硝烟已随着时间的推移而消逝。世界已跨入新的世纪，可天下仍不太平。(14 分)

(1) 表解历史 (每空 2 分，共 8 分)

	第一次世界大战	第二次世界大战
起止时间	1914 . 7—1918 . 11	1939 . 9—1945 . 9
交战双方	①	法西斯轴心国集团与反法西斯联盟
转折性战役	凡尔登战役	②
战争性质	非正义的帝国主义战争	③
战后格局	④	美苏两极格局 (或雅尔塔体系)

(2) 结合以上资料和所学知识，请你从“人际之和”、“国家之和”、“天人之和”(人与自然的关系) 三个方面谈谈你的看法和认识。(每点 2 分，共 6 分)

【答案】(1) ①三国同盟与三国协约；(2 分) ②斯大林格勒战役；(2 分) ③世界人民反法西斯战争；(2 分) ④凡尔赛—华盛顿体系。(2 分)

(2) 人际之和：人与人之间应相互信任、理解、相互关爱；(2 分)

国家之和：国与国之间要坚持和平共处五项原则，加强交流与合作；(2 分)

天人之和：要重视人与自然的和谐统一。(2 分) (本题言之有理即可。)

【命题立意】 本题考查了两次世界大战。旨在考查根据所学并结合材料，对有效信息进行准确解读的能力，难度较难。

【解析】 第 (1) 题，根据所学结合材料可知：①三国同盟与三国协约；②斯大林格勒战役；③世界人民反法西斯战争；④凡尔赛—华盛顿体系。

第 (2) 题，根据所学知识结合以上资料可知，人际之和主要是指人与人之间应相互信任、理解、相互关爱；国家之和主要是指国与国之间要坚持和平共处五项原则，加强交流与合作；天人之和主要是指要重视人与自然的和谐统一。(本题言之有理即可。)