

2019年黑龙江省齐齐哈尔市中考历史试题

(闭卷，总分100分)

一、慧眼识真(本题共25小题，每小题只有一个正确答案，每小题2分，共50分)


1. “杂交水稻之父”袁隆平为解决世界性饥饿问题作出了重要贡献。我国早期人工栽培水稻的是()

A. 河姆渡人 B. 北京人 C. 山顶洞人 D. 半坡人

2. 《史记》记载，禹年老时推荐伯益为继承人。禹的儿子启却举兵杀死伯益，继承了父亲的位置，开始了“家天下”的历史。材料所反映的是我国哪个王朝的事件?()

A. 夏朝 B. 商朝 C. 西周 D. 东周

3. 下列哪一幅图的水利工程，使成都平原成为沃野，被称为“天府之国”?()



A. 灵渠 B. 大运河 C. 都江堰 D. 三峡大坝

4. “非凡的国家考试制度，中国推行了近两千年之久。他们通过考试品评人才的优劣，为政府机构配备文官。”斯塔夫里阿诺斯赞扬的考试制度是()

A. 禅让制 B. 科举制 C. 九品中正制 D. 行省制

5. 培根说：“这三种东西曾改变了整个世界的面貌和状态，第一种是在学术方面，第二种是在战争上，第三种是在航海上。”这里的“第二种”是指()

A. 火药 B. 造纸术 C. 指南针 D. 印刷术

6. 元朝是我国历史上第一个由少数民族贵族为主建立的全国性的统一王朝，也是疆域最大的王朝。建立元朝的少数民族是()

A. 女真族 B. 契丹族 C. 鲜卑族 D. 蒙古族

7. “15世纪初，一位航海家七次远洋航海，留下千古佳话……这件开拓事业之所以名垂青史，是因为它依靠的不是坚船和利炮，而是宝船和友谊。”习总书记这段话中提到的航海家是()

A. 张骞 B. 鉴真 C. 郑和 D. 戚继光

8. 成语“三顾茅庐”、“鞠躬尽瘁”、“草船借箭”都出自于我国章回体小说的开山之作，这部小说也是我国最流行的长篇历史小说，它是()

- A . 《西游记》 B . 《水浒传》 C . 《红楼梦》 D . 《三国志通俗演义》
- 9 . 1836 年《中国从报》登载：“（中国）是一个不大理会其他国家的自命不凡的国家。她视所有其他国家都不如她……一记来自外国强国的有力准确的一击，就会动摇她的基础。”率先对中国“准确的一击”的国家是（ ）
- A . 英国 B . 日本 C . 美国 D . 法国
- 10 . 《剑桥中国晚清史》记载：“经过 10 月 10 日一个下午的不顾一切的协商，一小批士兵匆忙地临时订出了当天晚上的计划，坚决地出击……到凌晨，武昌的清政府已被打垮。”史料中记载的重要事件是（ ）
- A . 护国战争 B . 北伐战争 C . 戊戌变法 D . 辛亥革命
- 11 . 毛泽东的《七律·长征》中写道：“红军不怕远征难，万水千山只等闲……”这首诗概括了长征的艰难，赞扬了红军无所畏惧的英雄气概。长征途中跳出敌人包围圈的是（ ）
- A . 血战湘江 B . 四渡赤水 C . 渡过金沙江 D . 飞夺泸定桥
- 12 . 日本陆军中将花谷正在《“满洲事变”是这样策划的》中写道：“在北大营，一无所知的中国军队，多数人还睡在梦乡……黎明时，奉天（沈阳）全城都落到我们手里……”他记载的事件是（ ）
- A . 七七事变 B . 九一八事变 C . 淞沪会战 D . 武汉会战
- 13 . 中国的桥梁技术世界领先。武汉长江大桥建成通车使“天堑变通途”，这是（ ）
- A . 社会主义三大改造基本完成 B . 第一个五年计划取得重大成就
- 14 . 20 世纪中国大地上消除了最后一块殖民地残痕。澳门回归祖国的伟大时刻是（ ）
- A . 1999 年 12 月 20 日 B . 1997 年 12 月 20 日
C . 1999 年 7 月 1 日 D . 1997 年 7 月 1 日；
- 15 . 2019 年，中央军委主席习近平在青岛海域举行海上阅兵，展示人民海军崭新面貌，激发强国强军坚定信念。回顾历史，中国人民解放军的第一支海军部队是（ ）
- A . 北海舰队 B . 东海舰队 C . 南海舰队 D . 华东军区海军
- 16 . 祖国统一是海峡两岸中国人的神圣使命。下列活动按先后顺序排列正确的是（ ）
- ① 台湾调整三不政策②连战动向中国大陆③习近平与马英九在新加坡会面④九二共识
- A . ①②③④ B . ①④②③ C . ②④①③ D . ③④①②
- 17 . 1901 年，法国考古队在两河流域的苏撒遗址中发现了一黑色玄武岩圆柱。它的上面刻有维护奴隶主阶级利益的法律条文。这重要遗产属于（ ）
- A . 古代埃及 B . 古代巴比伦 C . 古代印度 D . 古代希腊

18. 被誉为欧洲中世纪教育“最美好的花朵”是 ()
- A. 行会 B. 教会 C. 庄园 D. 大学
19. 有学者认为,“它是人类历史上最重要的事件之一,它使真正的世界性联系成为可能。世界走向一体,正是从这时开始的。”美洲大陆被发现就是在这一时期,发现者是 ()
- A. 哥伦布 B. 麦哲伦 C. 迪亚士 D. 达·伽马
20. 评价历史人物是培养历史学科素养的重要组成部分,对林肯评价准确的是 ()
- A. 林肯当选为美国第 16 任总统 B. 林肯领导了美国内战
- C. 林肯为维护国家的统一做出贡献 D. 林肯颁布《宅地法》
21. 詹姆士是一位极富经营头脑的英国某织布厂厂主,1785 年后,他把工厂建在交通便利的内陆城市。最可能是因为 ()
- A. 珍妮机的发明 B. 改良蒸汽机的使用 C. 火车、轮船的出现 D. 内燃机的发明
22. 揭示历史知识的内在联系有助于历史思维能力的培养。下面对四部文献特点的归纳,其中正确的是 ()
- A. 《权利法案》——三权分立原则的充分体现
- B. 《独立宣言》——以法律的形式限制君主的权利
- C. 《人权宣言》——体现了建立联邦制共和国的思想
- D. 《拿破仑法典》——资产阶级国家民法的参照蓝本
23. 学会抓关键词是学习历史的重要方法之一。下列与“斗争方式不同”这一关键词相吻合的民族英雄是 ()
- A. 章西女王 B. 玻利瓦尔 C. 圣马丁 D. 甘地
24. 列夫·托尔斯泰在《安娜·卡列尼娜》中,借列文(同情农奴的农奴主)之口说:“现在我们这里,一切都翻了一个身,一切都刚刚开始安排。”列文说的这些变化是因为 ()
- A. 1861 年改革 B. 彼得一世改革 C. 十月革命 D. 苏联模式
25. 右图旗帜代表的国际组织,它的第一宗旨是维护世界和平与安全。该组织是 ()
- A. 亚太经合组织 B. 二十国集团
- C. 联合国 D. 七十七国集团



二、史林释义 (本题共 3 小题,每题 12 分,共 36 分)

请仔细阅读下列材料回答问题:

26. 材料一 书生坐谈误国,可为浩叹,且外国猖獗至此,不亟亟焉求富强,中国将何以

自立耶！千古变局，庸妄人不知，而秉钧执政亦不知，岂甘视其沈胥耶？鄙人一发狂言，为世诟病所不敢避。

——李鸿章《李鸿章全集》

材料二 1872年太政官发布废止幕府时代服饰的布告，自天皇以下，达官贵人纷纷在正式场合身穿西洋大礼服，洋服一时成为时髦衣着。饮食结构也在变化，幕府时代禁食牛肉被称为“开化的药铺”“文明的药剂”，“士农工商、男女老少、贤愚贫富等咸以不食牛肉为不开化”，牛肉火锅店里顾客盈门。一群群年轻人聚在店里大嚼牛肉，饮用葡萄酒，边用蹩脚的英语谈论时事，成为众人趋之若鹜的时尚。

——宋成有《新编日本近代史》

材料三 美国 1929~1938 年经济发展状况统计表

年份	1929 年	1933 年	1935 年	1938 年
国民生产总值（单位：亿美元）	912	560	831	854
失业率	3.2%	24.9%	20.1%	19.0%

材料四 我出生在那一九七八年，老爸说那一年变化真大，报纸上天天讨论真理的标准，安徽农民偷着把土地包干，北京城开了一周的大会……早春的雷声震撼了华夏……

——电视剧《鸽子哨》的主题歌《我的一九七八》

- (1) 材料一说的是哪一历史事件？（1分）这一事件在中国历史上的地位如何？（1分）
请你写出一例为“不亟亟焉求富强”而兴办的军事工业。（1分）
- (2) 材料二体现了日本社会的变化，从中找出一例。（1分）这些变化和日本历史上发生的什么事件有关？（1分）随后日本对中国发动了哪场侵略战争？（1分）
- (3) 材料三的数据变化是美国的哪次改革结果？（1分）请写出这次改革的特点。（1分）
- (4) 材料四所提到的“北京城开了一周的大会”指的是哪次会议？（1分）“安徽的农民偷着把土地包干”，从此什么政策逐步在全国推开？（1分）改革开放后，我国加入到哪一国际组织，开辟了积极参与经济全球化的新途径？（1分）
- (5) 结合四则材料和所学知识，谈谈你对改革的理解。（1分）

27. 材料一 2010年9月28日报道，10月3日是一个值得德国人纪念的日子，届时，德国历时92年将还清最后一笔战争赔款，德国政府将向法国政府交付6870万欧元（6.23亿人民币）的最后一笔战争赔款。自1924年始，德国以向美国贷款、发行外国债

券等方式筹集这笔巨额赔款。原规定 5 年必须付清赔款，但因各种原因，直到 2010 年 10 月 3 日才还清最后一笔赔款，历时 92 年。

材料二 (1943 年 12 月 1 日) 三国军事方面人员，对于今后对日作战计划，已获得一致意见。……在太平洋上所夺得或占领之一切岛屿，及使日本在中国所窃取之领土，如东北四省、台湾澎湖列岛等归还中华民国。其他日本以武力或贪欲所攫取之土地，亦务将日本驱逐出境。我三大盟国稔知朝鲜人民所受之奴隶待遇，决定在相当时期使朝鲜自由独立。基于以上各项目的，三大盟国将继续坚忍进行其重大而长期之斗争，以获得日本无条件之投降。

——《开罗宣言》

材料三 “冷战”结束后，美国政府多次公开提及建立“世界新秩序”的设想，并认为维护美国的领导地位是“世界新秩序”的“首要原则”。

——刘全智《‘冷战’史》

- (1) 阅读材料分析，德国赔款是来自于哪场战争？(1 分) 写出与这个赔款有关的会议。(1 分) 在该场战争中被称为“绞肉机”“地狱”“屠场”的是哪次战役？(1 分)
- (2) 请写出材料二中所提到的“盟国”建立的标志。(1 分) 这是一场什么性质的战争？(1 分) 写出这场世界大战的转折点。(1 分)
- (3) 阅读材料三并结合所学知识，请写出“冷战”开始的标志。(1 分) 美国实施“冷战”政策，最终导致出现怎样的世界格局？(1 分) 这一世界格局结束的标志是什么？(1 分)
- (4) 阅读材料三，写出美国提出的维护“世界新秩序”的“首要原则”是什么？(1 分) 请写出一个牵制美国实现这一设想，推动世界多极化趋势的主要力量。(1 分)
- (5) 结合上述材料和问题，你认为我国作为负责任的大国在世界和平与发展中应该怎么做？(1 分)

28. 材料一：韩非在《有度》篇中说：“威不两错，制不二门。”这是韩非借用《管子·明法篇》中的话，即“威势独在于主，则群臣畏惧；威势分于臣，则令不行。故明主之治天下也，威势独在于主，而不与群臣共”。故曰“威不两错”。

材料二 在这次思想解放运动……当时资产阶级的先进思想家为了向封建势力夺权，确立资本主义制度，必须砸开宗教蒙昧主义的枷锁，冲破封建专制主义的束缚，以启迪人们的觉悟，并为即将到来的革命做了舆论和意识形态方面的准备。

——摘编自《西方文化史》

材料三 法国里昂丝织工人起义、1836 年至 1848 年英国宪章运动以及 1844 年德国西里

西亚织工起义。这表明无产阶级反对资产阶级的斗争已进入了一个新的阶段，由仅仅为改善生活条件反对个别资本家的经济斗争，发展到为争取政治权利把矛头指向资本主义制度的政治斗争。同时，这也表明无产阶级不仅是受压迫和受剥削的阶级，而且是真正革命的阶级和历史发展的伟大动力，要实现社会主义只有依靠组织起来的无产阶级的力量。

——《世界史·近代史编》（下卷）

(1) 材料一提到的韩非是哪一思想学派的集大成者？（1分）“威不两错”体现了他的政治主张是什么？（1分）这一政治主张最早被哪位皇帝采纳并实施？（1分）汉武帝把什么学说立为正统思想，为历代王朝所推崇，影响深远？（1分）

(2) 材料二的这次思想解放运动中，资产阶级用什么先进思想启迪人们的觉悟？（1分）请你写出这次运动的先驱及其代表作品。（2分）近代中国也有一场反对封建礼教的思想解放运动，请写出它的名称。（1分）

(3) 阅读材料三并结合所学知识，无产阶级斗争依靠什么科学理论做指导，使社会主义运动蓬勃发展起来？（1分）在中华大地上第一次高高举起这一科学理论旗帜的人是谁？

（1分）邓小平将这一科学理论与中国具体实际相结合，明确提出走什么道路？（1分）

(4) 历史发展经验告诉我们：一切进步和发展都必须从思想观念的变革开始。请谈谈你的感悟。（1分）

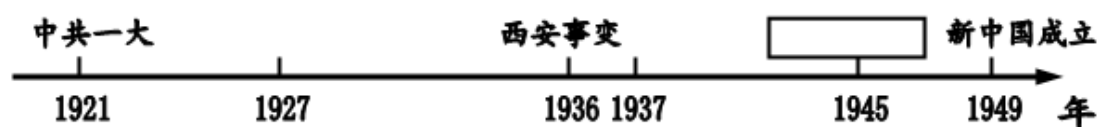
三、探究空间（本题共1小题，共14分）

29. 历史是最好的老师，从历史的轨迹中，可以把握走向光辉未来的规律。请你参与下面的探究活动。

探究一【民族新篇】（2分）

习近平总书记在纪念五四运动100周年大会上指出：“新时代中国青年要继续发扬五四运动精神，以实现中华民族伟大复兴为己任，不辜负党的期望、人民期待、民族重托，不辜负我们这个伟大时代”。习近平总书记高度评价五四运动的历史性质。请写出五四运动的性质。（1分）五四运动是中国_____革命的开端。（1分）

探究二【民族大义】理清线索——构建时空观念（7分）



(1) 请写出1921年中共一大召开的地点。（1分）西安事变发生后，中国共产党从全民族利益出发，主张和平解决。西安事变的和平解决，标志着十年内战基本结束，_____初


步形成。(1分)

(2) 1937年抗日战争全面爆发后,敌后战场与正面战场相互配合。请写出敌后战场彭德怀指挥的著名战役和正面战场最大胜利的战役。(2分)

(3) 1945年抗战胜利后,为了争取和平,中共通过在哪一事件中的努力,签署了“双十协定”?请你完成填空。(1分)写出国民党在大陆统治结束的标志。(1分)70年前的十月一日,谁向全世界庄严宣告“中华人民共和国中央人民政府今天成立了”? (1分)

探究三【民族成就】(3分)

材料三



中国举办首届一带一路国际合作高峰论坛

图一



神舟五号成功返回地面

图二



屠呦呦在实验室工作

图三

图一表明中国在国际事务中发挥越来越重要的作用.写出新中国成立以来我国奉行的外交政策。(1分)中国紧跟第三次科技革命,科技飞速发展。图二中的航天员是____(1分)图三是发现____的屠呦呦,她在2015年获得诺贝尔生理学或医学奖。(1分)

探究四【民族复兴】(2分)

- (1) 为了实现民族复兴,中国共产党在十九大上确立的党的指导思想是什么?(1分)
- (2) 通过以上的探究,你获得了什么感悟?(1分)

参考答案

一、慧眼识真(本题共25小题,每小题只有一个正确答案,每小题2分,共50分)

题号	1	2	3	4	5	6	7	8	9	10
答案	A	A	C	B	A	D	C	D	A	D
题号	1	1	1	1	1	1	1	1	1	2
	1	2	3	4	5	6	7	8	9	0
答案	C	B	B	A	D	B	B	D	A	C

题号	2	2	2	2	2					
	1	2	3	4	5					
答案	B	D	D	A	C					

二、史林释文（本题共 3 小题，每题 12 分，共 36 分）

26. (1) 洋务运动 (1 分)、中国历史上第一次近代化运动 (或中国近代化的开端) (1 分)、

安庆内军械所 (或江南制造总局、福州船政局) (1 分)

(2) 穿洋服 (或饮食结构改变: 吃牛肉、饮葡萄酒; 说英语) (1 分)、明治维新 (1 分)、甲午中日战争 (1 分)。

(3) 罗斯福新政 (1 分)、国家干预 (1 分)。

(4) 十一届三中全会 (1 分)、家庭联产承包责任制 (1 分)、世界贸易组织 (或世贸组织、WTO) (1 分)

(5) ①成功的改革能促进社会的发展; ②改革应从国情出发, 顺应时代潮流; ③改革要符合人民利益; ④改革是强国之路。(答出以上一点或符合题意即可) (1 分)

27. (1) 第一次世界大战 (或一战) (1 分)、巴黎和会 (1 分)、凡尔登战役 (1 分)。

(2) 《联合国宣言》的签署 (或发表) (1 分)、反法西斯战争 (1 分)、斯大林格勒保卫战 (或斯大林格勒战役) (1 分)。

(3) 杜鲁门主义出台 (1 分)、两板格局 (1 分)、芬兰解体 (1 分)

(4) 维护美国的领导地位 (1 分)、欧洲联盟 (或中国、日本、俄罗斯) (1 分)

(5) ①积极参与国际事务, 致力于构建公平、公正的国际秩序; ②加强与各国的合作交流, 努力发展经济; ③反对霸权主义, 维护世界和平; ④秉持共商共建共享的全球理念, 推动构建人类命运共同体。(答出以上一点或符合题意即可) (1 分)

28. (1) 法家 (1 分)、以法治国, 建立中央集权专制 (1 分)、秦始皇 (或嬴政) (1 分)、

儒家 (1 分)。

(2) 人文主义 (1 分)、但丁 (1 分)、《神曲》 (1 分)、新文化运动 (1 分)。

(3) 马克思主义 (1 分)、李大钊 (1 分)、中国特色社会主义道路 (1 分)。

(4) ①思想观念的变革解放人们的思想; ②促进了先进思想的传播; ③促进科学文化的发展; ④促进历史发展; ⑤推动人类文明的进步。(答出以上一点或符合题意即可) (1 分)

三、探究空间（本题共1小题，共14分）

29. 探究一【民族新篇】（2分）

（1）是一次彻底的反对帝国主义和封建主义的爱国运动（1分）、新民主主义（1分）

探究二【民族大义】（7分）

（1）上海（1分）、抗日民族统一战线（1分）

（2）百团大战（1分）、台儿庄战役（1分）（顺序错了不给分）

（3）重庆谈判（1分）、南京解放（或解放南京）（1分）、毛泽东（1分）。

探究三【民族成就】（3分）

（1）独立自主的和平外交政策（1分）、杨利伟（1分）、青蒿素（1分）。

探究四【民族复兴】（2分）；

（1）习近平新时代中国特色社会主义思想（1分）。

（2）五四精神、团结、科技发展、党的伟大、中国梦等方面。（只要答案积极向上，充满正能量即可）（1分）

会员升级服务第一拨 · 清北季



神马，有清华北大学霸方法论课；还有清华学霸向所有的父母亲述自己求学之路；

衡水名校试卷悄悄的上线了；

扫qq领取官网不首发课程，很多人我没告诉他啊！

会员qq专享等你来撩.....