

# 2021年江苏省镇江市中考历史试题

(满分 100 分，时间 60 分钟)

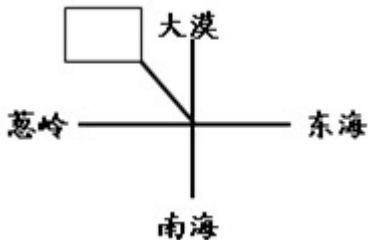
## 第 I 卷 选择题 (共 50 分)

一、单项选择题：本大题共 25 小题，每小题只有一个答案符合题意，每小题 2 分，计 50 分。

1. 《史记太史公自序》评诸子百家说：“儒者博，墨者俭，法家严，道家使人精神专一”。“严”字当头的代表人物是 ( )



2. 某同学在复习秦汉王朝开疆拓土、奠定中国大一统格局的历史时，绘制了下图所示的疆域示意图。其中在西北方向的空白方框内应该填写的汉代管理机构是 ( )



A. 西域都护

B. 尚书省

C. 澎湖巡检司

D. 伊犁将军

3. 据史料记载，唐太宗晚年拒绝纳谏，武则天耗费巨大财力建造佛教器物，唐玄宗在位后期怠慢朝政、宠信奸臣。我们从中获得的历史认识，正确的是 ( )

A. 三位帝王成就了“贞观之治”

B. 他们“政启开元治宏贞观”

C. 封建帝王有明显的历史局限

D. 武则天时朝政迅速走向腐败

4. 宋朝的全国总人口突破了一亿，大体是盛唐的两倍。宋朝的粮食亩产量特别是长江流域的亩产量达到了两至三石，也基本是唐代的两倍多。由此可见 ( )

A. 宋朝时生产力有显著进步

B. 唐宋的经济部门仅限于农业

C. 唐朝重文轻武致粮食减产

D. 宋朝粮食增幅低于人口增长

5. 下图是《榜葛刺进麒麟图》，它描绘的是 15 世纪早期南亚地区的榜葛刺国王来中国进献长颈鹿的场景。

当时的中国人将长颈鹿视为瑞兽麒麟。与这一场景的出现有直接关联的事件是（ ）



《榜葛刺进麒麟图》

A. 张骞通西城

B. 宋辽澶渊之盟

C. 郑和下西洋

D. 雅克萨之战

6. 漫画形象地解释了近代一部历史文献的核心内容。这部文献是（ ）



A. 《天朝田亩制度》

B. 《中华民国临时约法》

C. 《中国土地法大纲》

D. 《中华人民共和国土地改革法》

7. 以下是洋务运动时期部分企业信息简表，这些企业属于（ ）

企业名称	情况简介
轮船招商局	中国第一家轮船运输企业，一度收购了美国旗昌轮船公司。
开平煤矿	近代大型新式采煤企业，因运煤需要修建了一条铁路。
汉阳铁厂	中国近代最早的官办钢铁企业，经营不善，多有亏损。

A. 军事企业

B. 民用企业

C. 外资企业

D. 中外合资企业

8. 近代某不平等条约第十款规定：各省督抚文武大吏所属境内，如有伤害诸国人民之事，必须立时弹压惩

办，否则即行革职，永不叙用。这致使清政府沦为“洋人朝廷”的条约是（ ）

- A. 《南京条约》                  B. 《北京条约》                  C. 《马关条约》                  D. 《辛丑条约》

9. 陈独秀在《青年杂志》撰文：“三年来，吾人于共和国体之下，备受专制政体之痛苦。自经此次实验……珍爱共和之心，因以勃发。”陈独秀“此次实验”的矛头直指（ ）

- A. 军阀混战                  B. 民主共和                  C. 君主立宪                  D. 专制政体

10. 伏击战胜利后的第二天（1937年9月26日），旅长陈赓在日记中记载：“这是八路军参战的第一次胜利，也是中日开战以来的第一次胜利。”这次伏击战是（ ）

- A. 平型关大捷                  B. 淞沪会战                  C. 台儿庄战役                  D. 百团大战

11. 1945年，文学家郑振铎写道：“从毛泽东先生到了重庆，开始会谈以后，我们哪一天不在探问着会谈进行的情形，不在关心着会谈进行得顺利与否？”这反映出当时中国人民的迫切愿望是（ ）

- A. “驱除鞑虏，恢复中华”                  B. “打倒列强，铲除军阀”  
C. “还我河山，守土抗战”                  D. “要和平，争民主”

12. 在建设的那些日子里，他身患重病也顾不上去医院；几百斤重的钻杆砸伤了腿，他拄着双拐继续指挥；他用自己的身体做搅拌机，并成功制服了油田井喷。房东心疼地说：“你可真是个铁人啊！”文中的“他”是（ ）

- A. 焦裕禄                  B. 雷锋                  C. 王进喜                  D. 黄继光

13. 以下从左至右所列四个城市体现了我国对外开放的格局。这格局是（ ）



深圳



青岛



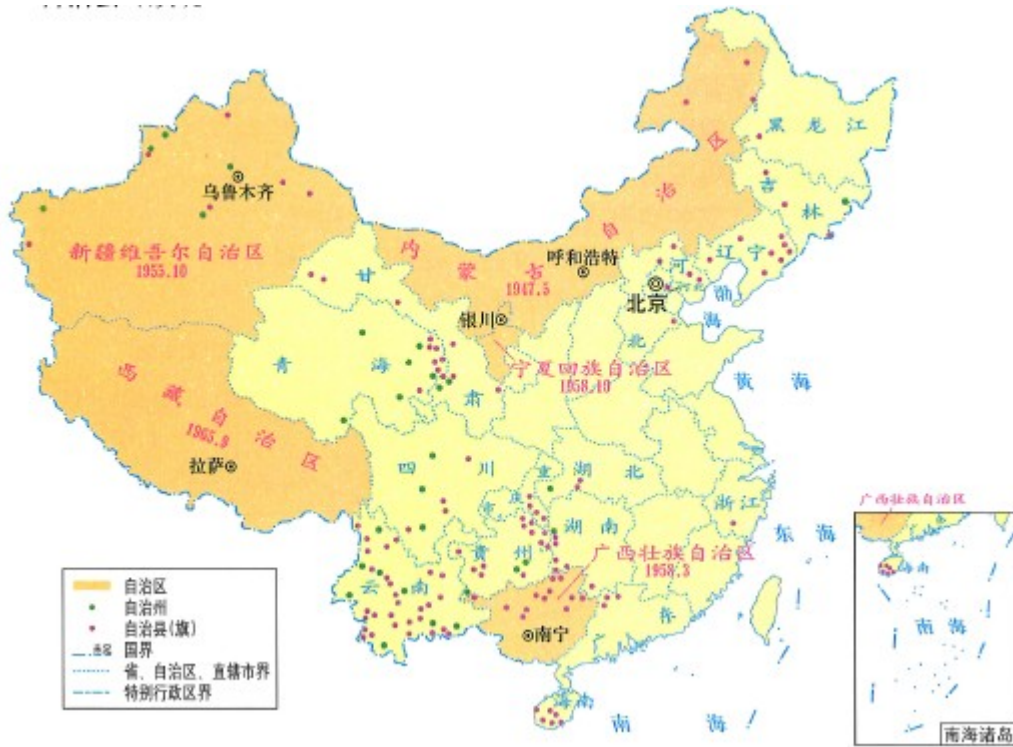
镇江



兰州

- A. 沿海开放城市——沿海经济开放区——经济特区——内地  
B. 经济特区--沿海开放城市——沿海经济开放区——内地  
C. 经济特区——沿海经济开放区——沿海开放城市——内地  
D. 沿海经济开放区——经济特区——内地——沿海开放城市

14. “左图右史”是传统的历史学习方法。当某班同学使用下列示意图时，他们要借助此图来理解的历史概念，最有可能的是（ ）



- A. 中国共产党领导的多党合作和政治协商制度
- B. “一带一路”建设
- C. 作为一项基本政治制度的民族区域自治制度
- D. “一国两制”构想

15. 阅读《2020年脱贫攻坚成果表》。在发展中国特色社会主义的战略布局中，与表格内容有直接对应关系的是（ ）

农村脱贫人口	贫困地区农民人均可支配收入	收入实际增长	与全国居民相比的增速
551万	12588元	5.6%	3.5%

- A. 全面建成小康社会
- B. 全面深化改革
- C. 全面依法治国
- D. 全面从严治党

16. 20世纪初，考古学家发现了一块刻有古巴比伦国王汉谟拉比像的黑色石柱，它被称为“一件历史和文学作品……目前世界上最古老的司法典籍”。这件“作品”代表的古代文明是（ ）

- A. 古代埃及文明
- B. 古代两河流域文明
- C. 古代印度文明
- D. 古代中国文明

17. “为使城邦公民中生活无保障的阶层也确有可能参与国家大事，伯里克利为出庭陪审者发放履行义务的津贴。”材料描述的古代世界图景是（ ）

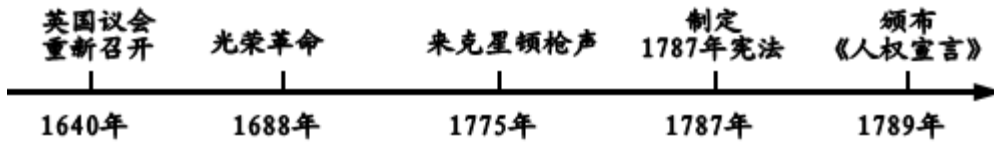
- A. 雅典民主政治 发展
- B. 《十二铜表法》的量刑
- C. 亚历山大大帝的东征
- D. 《查士丁尼法典》的讨论

18. 日本留学生积极吸收中国文化，传播唐朝典章制度。在他们的倡导下，日本进行了一系列改革，史称

( )

- A. 北魏孝文帝改革      B. 大化改新      C. 农奴制改革      D. 明治维新

19. 下列数轴图呈现了 17~18 世纪的若干重大事件。它们反映的时代潮流是 ( )



- A. 推翻本国封建统治      B. 反抗外国殖民侵略  
C. 进行资产阶级革命      D. 建立社会主义制度

20. 20 世纪 20 年代，世界上奔跑的每 10 辆汽车就有 5 辆是美国生产的 T 型汽车，流水线生产出的 T 型汽车成为美国普通家庭的交通工具。为流水线生产汽车做出重要贡献的人物是 ( )

- A. 斯蒂芬森      B. 亨利·福特      C. 卡尔·本茨      D. 法拉第

21. “它使 1921 年春天的危机迅速消失，生产稳步恢复。它满足了劳动者的经济要求，受到广大农民工人的欢迎，使苏维埃政权日益巩固”。材料中的“它”指 ( )

- A. 战时共产主义政策      B. 新经济政策  
C. 苏联模式      D. 农业集体化

22. 下图是二战中一次登陆战的战役图解。这次登陆战对战争进程的影响是 ( )



- A. 导致二战不断扩大      B. 二战达到最大规模      C. 开辟欧洲第二战场      D. 促成二战胜利结束

23. 1948 年 9 月，美、英、法占领区成立了“西德”。10 月，苏占区成立了“东德”。1961 年，“东德”首都

柏林出现了如图所示 建筑物。它是 ( )



柏林墙

- A. 战胜国对德国进行敲诈勒索的体现      B. “凡尔赛——华盛顿体系”呈现的格局

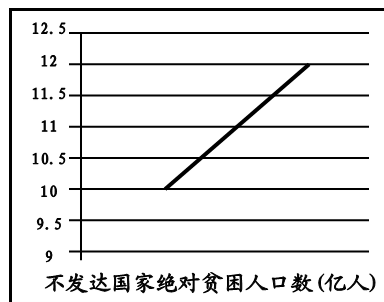
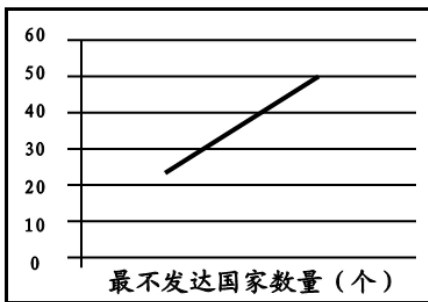
- C. 《凡尔赛条约》调整国际秩序的象征                      D. 美苏为首的两大集团冷战对峙的产物

24. 20年前中国为加入某一国际经济组织，接受了许多苛刻条款，甚至放弃了很多本该享受的特殊待遇。

20年后，因为加入该组织而获得的机遇，中国已在188个国家和地区，设立了4.4万多家企业，拥有了超过220万人的外籍员工。中国加入该组织（ ）

- A. 维护了世界的持久和平                                      B. 适应了经济全球化的趋势  
C. 构建了人类命运共同体                                      D. 呼应了自主的不结盟政策

25. 20世纪90年代，战后民族独立运动的“非殖民化”历史使命宣告完成，但大多数新兴独立国家却出现了如下图所示的现象。这说明（ ）



(据联合国2016年的统计数据编制)

- A. 世界殖民体系的逐渐崩溃                                      B. 民族独立浪潮风起云涌  
C. 维护国家主权的斗争高涨                                      D. 新兴国家面临发展问题

## 第II卷 非选择题 (共50分)

二、材料解析题：本大题共4小题，26题13分，27题12分，28题12分，29题13分，计50分。

26. 中国共产党的诞生是近代以来中国社会进步和革命发展的客观需要。阅读下列材料，按要求回答问题。

材料一 鸦片战争以来，中国人民和仁人志士进行了一系列挽救国家危亡的斗争……19世纪末20世纪初，改良派和革命派发起的政治运动都归于失败，中国的半殖民地半封建社会没有改变，救国的任务历史性地落到了先进生产力的代表中国工人阶级的身上。

——一曲青山《中国共产党百年辉煌》

材料二 五四运动中，工人阶级以独立的姿态登上政治舞台。自6月5日起的几天内，上海就有六七万工人举行声援学生的罢工。随后，北京、汉口、南京等地工人相继罢工，工人阶级成为斗争的主力。面对工人声援带来的强大压力，北洋政府不得不释放被捕学生，罢免曹汝霖、章宗祥、陆宗舆。工人阶级在五四运动中表现出的伟大力量，使一些革命知识分子开始同工人建立联系。这一联系，促进了马克思主义同中国工人运动的结合。

——摘编自《中国共产党简史》

材料三 大会通过了中国共产党历史上的第一个党纲，写明：（1）本党定名为“中国共产党”；（2）革命军队必须与无产阶级一起推翻资本家阶级的政权，必须支援工人阶级，直到社会的阶级区分消灭为止；（3）承认无产阶级专政，直到消灭社会的阶级区分；（4）消灭资本家私有制，……归社会公有。

——《中共中央文件选编》

请回答：

- （1）材料一中“归于失败”的政治运动有哪些？这些政治运动都是由哪个阶级领导的？作者认为它们“归于失败”的理由是什么？
- （2）据材料二，概括“先进生产力的代表”在五四运动中表现出的伟大力量。说明这伟大力量所产生的影响。
- （3）材料三中通过“第一个党纲”的大会是什么？概括该党纲所确定的奋斗目标。
- （4）综合上述材料，概述中国共产党诞生的必然性。

27. 阅读下列材料，按要求回答问题

材料一 朝鲜战争结束后，为争取国际局势的缓和，为国内即将开展的大规模经济建设争取和平环境，周恩来提出著名的和平共处五项原则……，它的提出可以说是中华人民共和国外交发展的一个阶段性界碑，它是从革命运动外交向国家外交过渡的一次关键性转变，标志着新中国外交的形成。

——摘编自章百家《我们怎样走向世界》和牛军《新中国外交的形成及主要特征》

材料二 （1954年确立的）这一制度能够在中国成为适宜的政治制度，是因为它体现了国家由人民当家作主的本质要求，便利人民群众经常通过这样的政治组织参加国家管理，行使自己的权力，从而充分发挥人民群众的积极性和创造性。中国人民正是用这样的根本政治制度来保证国家沿着社会主义的道路前进。

——《中国共产党的九十年》

材料三 建国初，资本主义工商业在数量上仍居多数，广大农村的个体经济在整个国民经济中更占绝对优势……（这些现象）到一九五六年已经根本改变，中国选择并建立了社会主义。它使全国的各项工作得以在一个新的制度基础上前进。离开这个起点，就没有中国特色社会主义可言，就没有社会主义现代化可言。

——金冲及《二十世纪中国史纲》

请回答：

- （1）材料一中，新中国提出了什么外交政策？这一政策体现了新中国外交的什么变化？
- （2）材料二中的“这一制度”指什么制度？据材料概述这一政治制度的两大优势。
- （3）结合所学知识，指出材料三中根本改变“资本主义工商业和农村个体经济的手段分别是什么？这一“根本改变”对中国社会性质产生了什么影响？
- （4）综合上述材料，概括指出中国共产党在20世纪50年代的政策与制度设计的共同目的。

28. 工业革命造成了新的阶级对立，推动了思想的批判与创新，对人类产生了广泛而深刻的影响。阅读下

列史事年表，按要求回答问题。

1820年，英国总就业人口的63%已集中在工业和服务业领域，反映出工业革命的发展

1825年，英国爆发经济危机，暴露出资本主义制度固有的基本矛盾

1832年，英国议会改革，资产阶级的政治要求得到满足，但无产阶级却依然无权

1835年，英国棉纺厂工人的日劳动时间长达16小时，工资十分微薄，童工更占到52%

1836年，英国宪章运动兴起，表明无产阶级反对资产阶级的斗争进入新阶段

1847年，欧洲多国工人参加的国际性工人组织——正义者同盟改名为共产主义者同盟

1848年，马克思、恩格斯为共产主义者同盟起草的纲领在伦敦正式出版

1864年，第一国际在伦敦成立，国际工人运动进入一个新的历史时期

1871年，巴黎的无产阶级和人民群众举行起义，建立了世界上第一个无产阶级政权

1917年，俄国发生十月革命，建立第一个无产阶级专政的国家，社会主义由理想变成现实

——摘编自吴于廑、齐世荣《世界史·近代史编（下卷）》和斯塔夫里阿诺斯《全球通史》

请回答：

(1) 据材料并结合所学知识，指出工业革命造成了哪两大对立阶级？这两大阶级因何而处于对立地位？

(2) 指出马克思、恩格斯为共产主义者同盟起草的纲领名称。据“纲领”出版前的相关史事和所学知识，概述“纲领”起草并出版的历史背景。

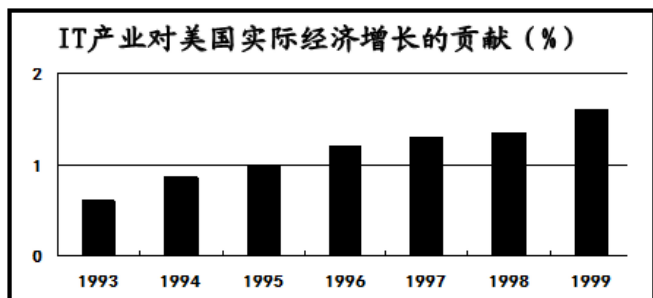
(3) 依据“纲领”出版后的相关史事和所学知识，概述“纲领”在理论和实践方面产生的深远影响。

29. 阅读下列材料，按要求回答问题。

材料一 西欧六国建立的煤钢共同市场获得成功后，欧洲的联合在20世纪60年代进入不断扩大的新阶段……欧洲联合的扩大，从经济上看，给它带来了内部市场的扩展和对外贸易竞争力加强的优势，从而对促进经济发展产生积极推动作用。从政治上看，对维持欧洲均势与和平具有重要战略意义……此外，欧洲联合体中的那些国家，在某些国际问题上坚持独立的外交政策，孤立于美、苏两个超级大国之外，也不再唯美国马首是瞻。

——摘编自吴于廑、齐世荣《世界史·现代史编（下卷）》

材料二



——摘编自许军《20世纪末的美国经济与日本经济》

材料三 二战后，英国扩大了以社会保险和福利补助为主要内容的福利制度；法国为有子女的工人和雇员提供补助，还制定了广泛的社会保险立法，使半数以上的人口生活有了保障；联邦德国和意大利也是如此。

——摘编自刘宗绪主编《历史学科专题讲座》

请回答：

- (1) 结合所学知识，指出欧洲联合进入“新阶段”后出现的两个组织。据材料一概括指出“欧洲联合的扩大”所产生的影响。
- (2) 据材料二，判断美国“新经济”的一大特征，并说明为此提供基础保障的科技成就。
- (3) 据材料三，概括指出“福利国家”制度大体包括哪两类内容？
- (4) 综合上述材料，概括“二战后资本主义新变化”的“变化”所在。

