

2017 年新疆生产建设兵团中考历史试卷

一.选择题 (每小题 2 分)

1. “我们从军卫国，生死早已置之度外……但可以壮国家的声威。”这是 19 世纪末一位民族英雄的豪言壮语。这位民族英雄是 ()

A. 林则徐 B. 关天培 C. 左宗棠 D. 邓世昌

2. 1927 年，毛泽东率军向湘赣边进军，建立了中国第一个农村革命根据地，地点在 ()

A. 井冈山 B. 三湾 C. 瑞金 D. 延安

3. 为了粉碎敌人的“囚笼”，八路军在彭德怀的指挥下，向日军发动大规模攻击。此战役是 ()

A. 淞沪会战 B. 平型关大捷 C. 台儿庄战役 D. 百团大战

4. 严复在其译著中提到“物竞天择，适者生存”等进步观点。该译著是 ()

A. 《四洲志》 B. 《海国图志》 C. 《天演论》 D. 《中外纪闻》

5. “到 1956 年底，在全国共建立了 75.6 万个合作社，入社农户达 96.3%，农业合作化在全国基本实现……”。以上内容反映的是 ()

A. 土地革命 B. 农业社会主义改造
C. 人民公社化运动 D. 家庭联产承包责任制

6. 1971 年 10 月，中国外交取得重大胜利。这一重大胜利是 ()

A. 提出和平共处五项原则 B. 恢复在联合国的合法席位
C. 实现与美国关系正常化 D. 承办亚太经合组织会议

7. 如图展示的是中国国旗和香港特区区旗升起的场景。这一神圣时刻距今 ()



中英香港政权交接仪式

A. 10 周年 B. 15 周年 C. 20 周年 D. 25 周年

8. 公元 1500 年前后，把世界连成一个整体的事件是 ()

A. 新航路开辟 B. 文艺复兴
C. 丝绸之路的开通 D. 三角贸易

9. 1848 年，马克思，恩格斯为国际无产阶级组织——共产主义同盟起草的革命纲领是 ()

)

- A. 《独立宣言》 B. 《人权宣言》
C. 《共产党宣言》 D. 《解放黑人奴隶宣言》

10. 某次改革，加强国家对经济的干预，在美国和世界资本主义发展史上具有重要意义。

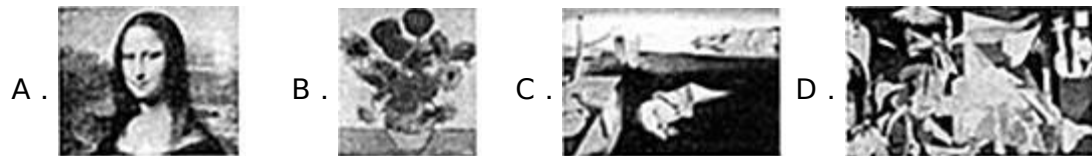
这次改革是 ()

- A. 1861 年农奴制改革 B. 明治维新
C. 罗斯福新政 D. 戈尔巴乔夫改革

11. 20 世纪 60 年代，西欧国家为了发展本地区经济和提高国际地位，成立了 ()

- A. 联合国 B. 欧洲共同体 C. 欧洲联盟 D. 世界贸易组织

12. 如图中有一幅画是为抗议德国法西斯轰炸西班牙一个小镇的愤怒之作，是 20 世纪艺术中的珍品。这幅画是 ()



二.非选择题

13. 在中国近代史上，面对西方列强的侵略，先进的中国人进行了一系列的探索。读知识结构图，结合所学知识，回答问题。



- (1) 请依据②的范例，填写相关历史事件名称，使知识结构图完整。
(2) 请写出与③④相关的各一位近代化探索过程中的先进中国人。
(3) 中国的近代化在曲折中前进，这些近代化探索的共同作用是什么？

14. 新时期，党实行了对外开放的战略决策，经济特区成为对外开放的窗口。阅读下列材料，回答问题。

材料一 现在的世界是开放的世界。中国在西方国家产业革命以后变得落后了，一个重要的原因就是闭关自守。新中国成立以后，……三十几年的经验是，关起门来搞建设是不行的，发展不起来。

材料二 邓小平观察深圳后题词：“深圳的发展和经济证明，我们建立经济特区的政策是正确的。”

材料三 2010年5月，中央新疆工作会议正式批准喀什设立经济特区。喀什将以“东有深圳、西有喀什”为目标，面向东亚、南亚、西亚广阔市场，努力把喀什建设成为世界级的国际化大都市。

- - 摘自《亚心网》

(1) 依据材料一归纳新时期我国实行对外开放政策的原因。对外开放是党在哪次会议上做出的决策？

(2) 材料二中邓小平说：“建立经济特区的政策是正确的”，请以深圳取得的成绩为例加以说明。

(3) 新疆喀什经济特区的设立，体现出我国对外开放形成了怎样的格局？

(4) 结合上述材料和所学知识，说一说经济特区在对外开放中的作用。

15. 历史学习的方法多种多样，为提升同学们的历史学科素养，老师运用了如下学案，请你完成相关学习任务。

【识别史料 - - 寻找历史证据】

(1) 史料一般包括文献史料、实物史料、口述史料三大类，它是我们发现历史、解释历史的依据。根据下列史料所属类别，将相应空格处的内容补充完整（只填序号）。

① 金字塔 ② 《权利法案》 ③ 汉谟拉比法典石柱 ④ 尼克松总统口述录音

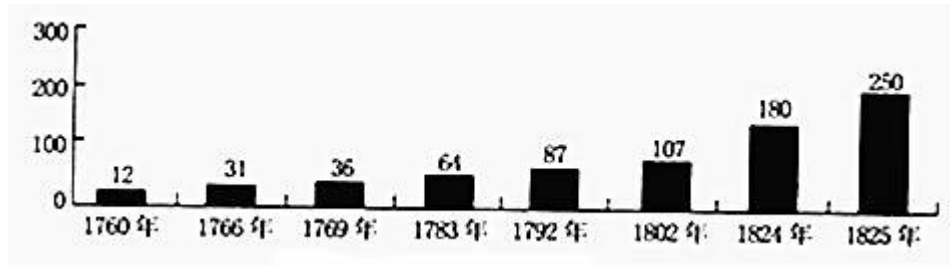
A. _____是实物史料 B. _____是文献史料 C. ④是口述史料

【运用表格 - - 归纳历史影响】

(2) 依据相关内容完成下表中空白处内容的填写，并归纳下面几件重大的共同影响。

步入近代	国家	重大事件	共同影响
	英国	英国资产阶级革命	③_____
	美国	①_____	
		美国南北战争	
	法国	②_____	

【分析数据 - - 阐释历史现象】



-- 摘自查尔斯·P·金德尔伯格《世界经济霸权 1500~1990》

(3) 如图是英国每年申请专利数变化图，导致图中数字变化最重要的原因是什么？

(4) 如图中这一时期在工业生产中发挥重要作用的动力机是什么？使用该动力机的交通工具有哪些？

16. 世界政治格局是指世界上主要政治力量通过一系列的抗衡、分化组合而形成的一种结构。这种结构在一定时期内处于相对稳定的状态，但又处在不断发展变化之中。阅读下列材料，回答问题。

材料一 列宁说：“靠《凡尔赛和约》来维持的整个国际体系、国际秩序是建立在火山口上的。”

材料二 对欧洲或北美一个或数个缔约国的武装进攻，应视为对缔约国全体之攻击。

材料三 冷战消失了……为具有更加多元化特点的社会开启了大门。

-- 以上材料均摘自人教版《世界历史》九年级下册

(1) 材料一中的“和约”是哪一次会议上签订的？这次会议和华盛顿会议共同构成了一战后怎样的国际新秩序？

(2) 材料二出自哪一组织缔结的公约？苏联采取了针锋相对的措施，成立了什么组织？由此形成的国际格局是什么？

(3) 材料三中“冷战消失”的标志性事件是什么？“具有更加多元化”体现了世界政治格局呈现出怎样一种趋势？

(4) 请分析上述材料并结合所学知识指出影响世界格局变化的主要原因有哪些？

2017年新疆生产建设兵团中考历史试卷

参考答案与试题解析

一.选择题（每小题2分）

1. “我们从军卫国，生死早已置之度外……但可以壮国家的声威。”这是19世纪末一位民族英雄的豪言壮语。这位民族英雄是（ ）

A. 林则徐 B. 关天培 C. 左宗棠 D. 邓世昌

【考点】8A：甲午中日战争。

【分析】本题主要考查邓世昌。邓世昌与全舰官兵壮烈牺牲，光绪帝垂泪撰联“此日漫挥天下泪，有公足壮海军威”。

【解答】“我们从军卫国，生死早已置之度外，我们虽然牺牲了，但可以壮国家的声威。”是邓世昌的话语。1894年9月，清政府北洋舰队在黄海大东沟海域，遭到日本舰队袭击，致远舰管带邓世昌率舰冲锋向前，激战中，致远舰多处中弹，邓世昌下令，开足马力，直冲敌舰，日舰躲避，同时施放鱼雷，击中致远舰，邓世昌与全舰官兵壮烈牺牲，光绪帝垂泪撰联“此日漫挥天下泪，有公足壮海军威”。

故选D。

2. 1927年，毛泽东率军向湘赣边进军，建立了中国第一个农村革命根据地，地点在（ ）

A. 井冈山 B. 三湾 C. 瑞金 D. 延安

【考点】9M：秋收起义和井冈山革命根据地的创建。

【分析】本题以“中国第一个农村革命根据地”为切入点，考查井冈山革命根据地。

【解答】1927年，毛泽东率领工农革命军建立了中国第一个农村革命根据地——井冈山革命根据地，探索了一条农村包围城市、武装夺取政权的正确革命道路。故1927年，毛泽东率军向湘赣边进军，建立了中国第一个农村革命根据地，地点在井冈山。

故选A。

3. 为了粉碎敌人的“囚笼”，八路军在彭德怀的指挥下，向日军发动大规模攻击。此战役是（ ）

A . 淞沪会战 B . 平型关大捷 C . 台儿庄战役 D . 百团大战

【考点】AB：百团大战。

【分析】本题以为了粉碎敌人的“囚笼”，八路军在彭德怀的指挥下，向日军发动大规模攻击为依托，考查百团大战。

【解答】为了粉碎敌人的“囚笼”，八路军在彭德怀的指挥下，向日军发动大规模攻击。此战役是百团大战。为了粉碎敌人的“囚笼”，1940年8月，八路军在彭德怀等指挥下，先后共出动100多个团约20万人，在华北2000多千米的战线上，向日军发动大规模攻击，史称“百团大战”。百团大战是抗战期间中国军队主动出击日军的一次最大规模的战役，它提高了中国共产党和八路军的威望，坚定了全国人民抗战胜利的信心。

故选D。

4 . 严复在其译著中提到“物竞天择，适者生存”等进步观点。该译著是（ ）

A . 《四洲志》 B . 《海国图志》 C . 《天演论》 D . 《中外纪闻》

【考点】B9：魏源和严复的思想主张。

【分析】本题考查了《天演论》。严复是戊戌变法时期的启蒙思想家。

【解答】严复在其译著中提到“物竞天择，适者生存”等进步观点。该译著是《天演论》。严复认为要救国，只有效法西方，推行维新改革。他译著的《天演论》中“物竞天择，适者生存”，“世道必进，后胜于今”。的进步观点，启发了当时中国知识界去探索西方先进的社会，打击了封建顽固势力。

故选C。

5 . “到1956年底，在全国共建立了75.6万个合作社，入社农户达96.3%，农业合作化在全国基本实现……”。以上内容反映的是（ ）

A . 土地革命 B . 农业社会主义改造
C . 人民公社化运动 D . 家庭联产承包责任制

【考点】CA：三大改造。

【分析】本题以到1956年底，在全国共建立了75.6万个合作社为切入点，主要考查农业社会主义改造。

【解答】“到1956年底，在全国共建立了75.6万个合作社，入社农户达96.3%，农业合作化在全国基本实现……”。以上内容反映的是农业社会主义改造。1953年国家对农业进行

社会主义改造，引导农民参加农业生产合作社，走集体化和共同富裕的社会主义道路，1955年，全国掀起农业合作化的高潮，农民踊跃参加合作社。至1956年年底，国家基本完成了对农业的社会主义改造，实现了把生产资料私有制转变为社会主义公有制的任务。故选B。

6. 1971年10月，中国外交取得重大胜利。这一重大胜利是（ ）

- A. 提出和平共处五项原则 B. 恢复在联合国的合法席位
C. 实现与美国关系正常化 D. 承办亚太经合组织会议

【考点】EB：中国恢复在联合国的合法席位。

【分析】本题考查了中国恢复在联合国的合法席位。这是中国外交的重大胜利，有利于中国在国际事务中发挥更大的作用。

【解答】根据题干给出的“1971年10月”可知是恢复在联合国的合法席位。1971年10月25日，第26届联合国大会通过了阿尔巴尼亚、阿尔及利亚等23国提案，恢复了中华人民共和国在联合国的合法权利，恢复中国安理会常任理事国的席位。

故选B。

7. 如图展示的是中国国旗和香港特区区旗升起的场景。这一神圣时刻距今（ ）



中英香港政权交接仪式

- A. 10周年 B. 15周年 C. 20周年 D. 25周年

【考点】E4：祖国统一大业。

【分析】本题考查香港回归祖国；识记香港回归祖国的时间。

【解答】如图展示的是1997年7月1日香港回归祖国的场面，今年是2017年；距今20周年。

故选C。

8. 公元1500年前后，把世界连成一个整体的事件是（ ）

- A. 新航路开辟 B. 文艺复兴
C. 丝绸之路的开通 D. 三角贸易

【考点】H2：新航路的开辟。

【分析】本题考查新航路开辟的影响。新航路的开辟打破世界各地相互隔绝和孤立发展的局面，从整个世界来看，新航路开辟后，世界连成了一个整体。

【解答】本题考查新航路开辟的相关内容。考查学生对历史史实的准确识记能力。根据所学知识可知，新航路的开辟打破世界各地相互隔绝和孤立发展的局面，从整个世界来看，新航路开辟后，世界连成了一个整体，世界文明的交流开始由分散到整体、由区域到全球的演变。

故选A。

9. 1848年，马克思，恩格斯为国际无产阶级组织——共产主义同盟起草的革命纲领是（ ）

- A. 《独立宣言》 B. 《人权宣言》
C. 《共产党宣言》 D. 《解放黑人奴隶宣言》

【考点】J3：《共产党宣言》。

【分析】本题以1848年，马克思，恩格斯为国际无产阶级组织——共产主义同盟起草的革命纲领为切入点，考查《共产党宣言》的相关知识。

【解答】1848年，马克思，恩格斯为国际无产阶级组织——共产主义同盟起草的革命纲领是《共产党宣言》。1848年，《共产党宣言》的发表，标志着马克思主义的诞生，从此，无产阶级的斗争有了科学理论的指导，社会主义运动更加蓬勃地发展起来。

故选C。

10. 某次改革，加强国家对经济的干预，在美国和世界资本主义发展史上具有重要意义。

这次改革是（ ）

- A. 1861年农奴制改革 B. 明治维新
C. 罗斯福新政 D. 戈尔巴乔夫改革

【考点】LE：罗斯福新政。

【分析】本题考查罗斯福新政。罗斯福就任美国总统后实行了新政，《全国工业复兴法》是整个新政的核心和基础。罗斯福新政是美国资本主义的一次自我调节，开创了资产阶级政府大规模干预经济的先河。

【解答】1929年—1933年的经济危机冲击了美国的资本主义制度。罗斯福就任美国总统

后实行了新政，《全国工业复兴法》是整个新政的核心和基础。罗斯福新政是美国资本主义的一次自我调节，开创了资产阶级政府大规模干预经济的先河，进一步提高了美国国家资本主义的垄断程度，是资本主义发展史上的一个里程碑，使美国渡过了经济危机。

故选C。

11. 20世纪60年代，西欧国家为了发展本地区经济和提高国际地位，成立了（ ）

A. 联合国 B. 欧洲共同体 C. 欧洲联盟 D. 世界贸易组织


【考点】MD：欧盟的成立。

【分析】本题考查了欧洲共同体。50-70年代，西欧经济持续繁荣。

【解答】20世纪60年代，西欧国家为了发展本地区经济和提高国际地位，成立了欧洲共同体。1951年德法等六国签署《欧洲煤钢共同体条约》，1952年成立欧洲煤钢共同体，1958年成立欧洲经济共同体、原子能共同体，1967年将三个组织合并，成立欧洲共同体。1993年，西欧国家在欧洲共同体的基本上成立了欧洲联盟，简称欧盟。

故选B。

12. 如图中有一幅画是为抗议德国法西斯轰炸西班牙一个小镇的愤怒之作，是20世纪艺术中的珍品。这幅画是（ ）



【考点】P8：现代文学和美术。

【分析】本题考查了《格尔尼卡》。它控诉了法西斯的暴行。

【解答】为抗议德国法西斯轰炸西班牙一个小镇的愤怒之作的是《格尔尼卡》，对应图片为D。西班牙著名画家毕加索在1937年为抗议德国法西斯轰炸西班牙小镇格尔尼卡而创作的《格尔尼卡》，是20世纪艺术中的珍品，它控诉了法西斯的暴行。

故选D。

二.非选择题

13. 在中国近代史上，面对西方列强的侵略，先进的中国人进行了一系列的探索。读知识结构图，结合所学知识，回答问题。



- (1) 请依据②的范例，填写相关历史事件名称，使知识结构图完整。
- (2) 请写出与③④相关的各一位近代化探索过程中的先进中国人。
- (3) 中国的近代化在曲折中前进，这些近代化探索的共同作用是什么？

【考点】 91：洋务运动；96：辛亥革命；97：新文化运动；PD：历史开放性问题。

【分析】 (1) 本题以“自强求富”、“三民主义”、“民主科学”为切入点，考查洋务运动、辛亥革命、新文化运动的知识点。

(2) 本题考查的是辛亥革命、新文化运动的领导人。

(3) 本题以考查中国近代化探索的共同作用。

【解答】 (1) 19世纪60-90年代，洋务派掀起了一场“师夷长技”的洋务运动。洋务派起初以“自强”为口号，创办一批近代军事工业，19世纪70年代，洋务派又提出“求富”的口号，创办民用工业。所以①是洋务运动。1905年孙中山在日本东京成立中国同盟会，同盟会的革命政纲是“驱除鞑虏，恢复中华，创立民国，平均地权”，后来孙中山在《民报》发刊词中把此革命纲领阐发为“民族、民权、民生”三大主义，合称“三民主义”。三民主义，成为孙中山领导辛亥革命的指导思想。所以③是辛亥革命。1915年9月，陈独秀在上海创办《新青年》杂志，在陈独秀的率先倡导下，李大钊、胡适、鲁迅等一批知识分子，以《新青年》杂志和北京大学为主要阵地，高举“民主”和“科学”两面大旗，发起新文化运动。所以④是新文化运动。

(2) 1911年孙中山领导的辛亥革命，推翻了清政府，两千多年的封建帝制结束，建立了中华民国。颁布了具有资产阶级共和国性质的《中华民国临时约法》，从此，民主共和国的观念深入人心。1915年9月，陈独秀在上海创办《新青年》杂志，在陈独秀的率先倡导下，李大钊、胡适、鲁迅等一批知识分子，以《新青年》杂志和北京大学为主要阵地，高举“民主”和“科学”两面大旗，发起新文化运动。

(3) 洋务运动、戊戌变法、辛亥革命、新文化运动都是近代化的探索，都是向西方学习，探索救国救民道路的历程，都有利于中国资本主义的发展。洋务运动学习西方先进科学技术，有利于中国资本主义的发展；戊戌变法在社会上起了思想启蒙作用；辛亥革命推翻了

两千年封建帝制，使民主共和观念深入人心；新文化运动提倡民主科学，掀起思想解放潮流。

故答案为：

- (1) ①洋务运动；③辛亥革命；④新文化运动。
- (2) 孙中山，陈独秀。
- (3) 都推动了中国近代化的进程；都促进了中国资本主义的发展。

14. 新时期，党实行了对外开放的战略决策，经济特区成为对外开放的窗口。阅读下列材料，回答问题。

材料一 现在的世界是开放的世界。中国在西方国家产业革命以后变得落后了，一个重要的原因就是闭关自守。新中国成立以后，……三十几年的经验是，关起门来搞建设是不行的，发展不起来。

——邓小平

材料二 邓小平观察深圳后题词：“深圳的发展和经济证明，我们建立经济特区的政策是正确的。”

材料三 2010年5月，中央新疆工作会议正式批准喀什设立经济特区。喀什将以“东有深圳、西有喀什”为目标，面向东亚、南亚、西亚广阔市场，努力把喀什建设成为世界级的国际化大都市。

——摘自《亚心网》

(1) 依据材料一归纳新时期我国实行对外开放政策的原因。对外开放是党在哪次会议上做出的决策？

(2) 材料二中邓小平说：“建立经济特区的政策是正确的”，请以深圳取得的成绩为例加以说明。

(3) 新疆喀什经济特区的设立，体现出我国对外开放形成了怎样的格局？

(4) 结合上述材料和所学知识，说一说经济特区在对外开放中的作用。

【考点】D5：对外开放和深圳等经济特区的建立；D1：十一届三中全会及其重要意义。

【分析】(1) 本题考查我国实行对外开放政策的内容；识记十一届三中全会做出了把党和国家的工作重心转移到经济建设上来，实行改革开放的伟大决策的内容以及意义。

(2) 本题考查经济特区的内容；识记深圳成为经济特区的代表，对外开放的“窗口”。

(3) 本题考查我国对外开放的格局；识记我国经济特区—沿海开放城市—沿海经济开放区—内地的对外开放格局。

(4) 本题考查经济特区的作用。理解经济特区对我国进一步开放起示范作用；经济特区为我国的进一步开放积累了经验等等。

【解答】(1) 召开于 1978 年底的十一届三中全会，做出了把党和国家的工作重心转移到经济建设上来，实行改革开放的伟大决策。十一届三中全会后，对外开放也开始起步，据“现在的世界是开放的世界。中国在西方国家产业革命以后变得落后了，一个重要的原因就是闭关自守。新中国成立以后，…三十几年的经验是，关起门来搞建设是不行的，发展不起来”可知，我国实行对外开放是顺应世界潮流，吸取中国历史上闭关自守的教训，也是新中国建立以来经济建设的经验。

(2) 深圳在短短的几年内，建成一座繁华的现代化城市，成为经济特区的代表，对外开放的“窗口”。充分说明“建立经济特区的政策是正确的”。

(3) 1980 年，我国在广东的深圳、珠海、汕头和福建的厦门建立经济特区。后来，又开放了广州、上海等 14 个沿海城市，增设海南经济特区，设立上海浦东开发区，2010 年 5 月，中央新疆工作会议正式批准喀什设立经济特区。现在，对外开放区已从沿海地区向内地发展，形成经济特区—沿海开放城市—沿海经济开放区—内地，这样一个全方位、多层次、宽领域的对外开放格局。

(4) 本题为开放性试题。答题时需从经济特区的作用等方面进行分析。如经济特区对我国进一步开放起示范作用；经济特区为我国的进一步开放积累了经验；经济特区有助于扩大我国的对外影响等。

故答案为：

(1) 顺应世界潮流，吸取中国历史上闭关自守的教训，也是新中国建立以来经济建设的经验。

(2) 深圳在短短的几年内，建成一座繁华的现代化城市，成为经济特区的代表，对外开放的“窗口”。

(3) 经济特区—沿海开放城市—沿海经济开放区—内地。

(4) 经济特区对我国进一步开放起示范作用；经济特区为我国的进一步开放积累了经验；经济特区有助于扩大我国的对外影响等。（言之有理即可）

15. 历史学习的方法多种多样，为提升同学们的历史学科素养，老师运用了如下学案，请你完成相关学习任务。

【识别史料——寻找历史证据】

(1) 史料一般包括文献史料、实物史料、口述史料三大类，它是我们发现历史、解释历史的依据。根据下列史料所属类别，将相应空格处的内容补充完整（只填序号）。

① 金字塔 ② 《权利法案》 ③ 汉谟拉比法典石柱 ④ 尼克松总统口述录音

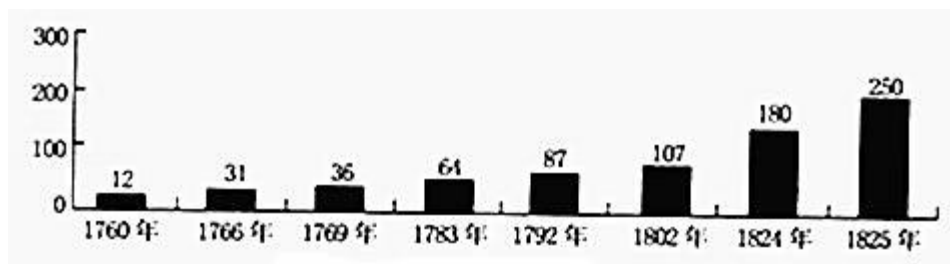
A. ①③ 是实物史料 B. ② 是文献史料 C. ④ 是口述史料

【运用表格——归纳历史影响】

(2) 依据相关内容完成下表中空白处内容的填写，并归纳下面几件重大的共同影响。

步	国家	重大事件	共同影响
入 近 代	英国	英国资产阶级革命	③ <u>推动了本国资本主义的发展；影响了世界历史的进程</u>
	美国	① <u>美国独立战争</u>	
		美国南北战争	
	法国	② <u>法国大革命</u>	

【分析数据——阐释历史现象】



——摘自查尔斯·P·金德尔伯格《世界经济霸权 1500~1990》

(3) 如图是英国每年申请专利数变化图，导致图中数字变化最重要的原因是什么？

(4) 如图中这一时期在工业生产中发挥重要作用的动力机是什么？使用该动力机的交通工具有哪些？

【考点】 F4：金字塔和埃及文明；F5：《汉谟拉比法典》和古巴比伦文明；H6：《权利法案》；HG：英法美资产阶级革命的比较；I3：英国工业革命。

【分析】 (1) 本题解题关键是从史料的分类切入，结合所学知识点史料的性质进行思考解答。

(2) 本题解题关键是从图表切入，结合所学知识点美国独立战争和法国大革命进行思考

解答 .

(3) 本题解题关键是从图表切入，结合所学知识点英国工业革命进行思考解答 .

(4) 本题解题关键是从英国工业革命的动力机器切入，结合所学知识点工业革命在交通方面的重大发明进行思考解答 .

【解答】 (1) ①金字塔 位于埃及境内，是埃及文明的象征，属于实物资料 . ③汉谟拉比法典石柱也是真实存在的实物，属于实物资料 . ②《权利法案》是英国在 1689 年通过的文献，确立了君主立宪制，属于文献资料 .

(2) 14 世纪兴起于意大利的文艺复兴，以人文主义为核心，促进了人们的思想解放 . 文艺复兴是一场资产阶级性质的思想解放运动，这场运动冲击了教会的陈腐说教，为欧洲资本主义的产生和发展奠定了思想基础，新航路开辟以后，从欧洲到亚洲、美洲和非洲等地的交通往来日益密切，世界开始连成一个整体，欧洲大西洋沿岸工商业经济繁荣起来，促进了资本主义的产生和发展 . 人类跨入了近代社会的门槛 . 英国资产阶级革命、美国独立战争和法国大革命分别使英国和法国走上了资本主义道路，资本主义正式产生 . 推动了本国资本主义的发展；影响了世界历史的进程 .

(3) 工业革命的开始于 18 世纪 60 年代，到 19 世纪上半期完成 . 工业革命是生产技术上划时代的变革，极大地提高了社会生产力，直接导致了工厂企业形式的出现，促进了城市的兴盛和城市人口的增长 . 英、法、美等主要资本主义国家在工业革命后成了强大的工业国 . 依据题干“1760 年 - 1825 年，判断是英国工业革命 .

(4) 1785 年以后，瓦特改进的蒸汽机首先在纺织部门投入使用，受到广泛欢迎 . 瓦特改进的蒸汽机，为大工厂生产和交通运输业提供了动力，极大地推动了大工厂生产的发展，蒸汽机的广泛使用，把人类进入“蒸汽时代” . 第一次工业革命期间，1825 年，史蒂芬孙设计制造的“旅行号”蒸汽机车在新铺设的铁路上试车成功 . 蒸汽机在交通运输业中的应用，使人类迈入了“火车时代”，迅速地扩大了人类的活动范围 . 在第一次工业革命中，美国人富尔顿发明了汽船 .

故答案为：

(1) ①③；② .

(2) ①美国独立战争；②法国大革命；③推动了本国资本主义的发展；影响了世界历史的进程（答出两点，言之有理即可） .

(3) 英国工业革命 .

(4) 蒸汽机；汽船和火车 .

16. 世界政治格局是指世界上主要政治力量通过一系列的抗衡、分化组合而形成的一种结构。这种结构在一定时期内处于相对稳定的状态，但又处在不断发展变化之中。阅读下列材料，回答问题。

材料一 列宁说：“靠《凡尔赛和约》来维持的整个国际体系、国际秩序是建立在火山口上的。”

材料二 对欧洲或北美一个或数个缔约国的武装进攻，应视为对缔约国全体之攻击。

材料三 冷战消失了……为具有更加多元化特点的社会开启了大门。

——以上材料均摘自人教版《世界历史》九年级下册

(1) 材料一中的“和约”是哪一次会议上签订的？这次会议和华盛顿会议共同构成了一战后怎样的国际新秩序？

(2) 材料二出自哪一组织缔结的公约？苏联采取了针锋相对的措施，成立了什么组织？由此形成的国际格局是什么？

(3) 材料三中“冷战消失”的标志性事件是什么？“具有更加多元化”体现了世界政治格局呈现出怎样一种趋势？

(4) 请分析上述材料并结合所学知识指出影响世界格局变化的主要原因有哪些？

【考点】LB：巴黎和会和凡尔赛体系；N3：苏联解体；O2：北约和华约；O3：美苏争霸和两极格局；OC：世界格局多极化。

【分析】本题考查凡尔赛-华盛顿体系、两极格局、冷战政策、世界格局多极化，掌握相关的基础知识。

【解答】(1) 据材料一“列宁说：‘靠《凡尔赛和约》来维持的整个国际体系、国际秩序是建立在火山口上的’并结合所学知识可知，材料一中的“和约”是在1919年召开的巴黎和会上签订的，这次会议和华盛顿会议共同构成了凡尔赛-华盛顿体系，确立了一战后世界新秩序。

(2) 据材料二“对欧洲或北美一个或数个缔约国的武装进攻，应视为对缔约国全体之攻击”可知，材料二出自北大西洋公约组织缔结的公约，1949年，以美国为首的12个西方国家代表在华盛顿集会，签订《北大西洋公约》，建立了北大西洋公约组织，形成了西方集体防御体系，以达到对抗苏联，称霸世界的目的，是美国冷战政策在军事上的表现。为对抗北约，1955年，以苏联为首的华沙条约组织成立，标志着以美苏对峙为核心的两极格局

形成。

(3) 材料三中“冷战消失”的标志性事件是 1991 年苏联解体，苏联解体标志着两极格局的终结；“具有更加多元化”体现了世界政治格局呈现出多极化趋势。

(4) 本题是开放性题目，言之有理即可，如影响世界格局变化的主要原因有国家利益、综合国力、社会制度、国际形势等等。

故答案为：

- (1) 巴黎和会；凡尔赛 - 华盛顿体系。
- (2) 北大西洋公约组织；华沙条约组织；两极格局。
- (3) 苏联解体；多极化趋势。
- (4) 国家利益、综合国力、社会制度、国际形势等等。