

2022年西藏自治区初中学业水平考试历史

注意事项：

- 1.全卷共6页，两大题，满分80分，考试时间80分钟。
- 2.答卷前，考生务必将自己的姓名、准考证号填写在答题卡上。
- 3.回答选择题时，选出每小题答案后，用铅笔把答题卡上对应题目的答案标号涂黑。如需改动，用橡皮擦干净后，再涂选其他答案标号。回答非选择题时，将答案写在答题卡上。写在本试卷上无效。
- 4.考试结束后，将本试卷和答题卡一并交回。

一、选择题：本大题共18小题，每小题2分，共36分。每小题给出的四个选项中，只有一项最符合题目要求，不选、错选或多选均不得分。

- 1.每逢清明时节，海内外华夏儿女纷纷相聚陕西，举行祭祖活动，以寄托念祖之情。被尊崇为中华民族人文初祖的是（ ）
- A. 尧和舜 B. 炎帝和黄帝 C. 黄帝和贵尤 D. 舞和禹

【答案】B

【解析】

【详解】依据所学知识，炎帝和黄帝联合打败蚩尤部落后，炎黄联盟的势力日益发展壮大，华夏族逐渐形成，因此炎帝和黄帝被尊奉为中华民族的人文始祖，海内外华人也自称“华夏儿女”“炎黄子孙”，B项正确，排除C项；尧舜禹都是炎黄之后的黄河流域部落联盟首领，排除AD项。故选B项。

- 2.“普天之下，莫非王土；率土之滨，莫非王臣。”引文体现的是西周时期的（ ）
- A. 禅让制 B. 宗法制 C. 郡县制 D. 分封制

【答案】D

【解析】

【详解】根据材料“普天之下，莫非王土；率土之滨，莫非王臣”结合所学知识可知，诗句大意为所有土地

都属于周王，而所有土地上的官员都是周王的臣子，为了稳定周初的政治形势，巩固疆土，西周实行分封制，材料内容体现了西周的分封制，D项正确；禅让制是传说时代尧舜禹时期实行的制度，与西周无关，排除A项；宗法制强调血缘关系，材料内容主要体现了西周的分封制，而不是宗法制，排除B项；郡县制出现于春秋战国时期，而题干内容体现了西周的分封制，排除C项。故选D项。

3. 与“风声鹤唳”“草木皆兵”“投鞭断流”“东山再起”这些典故相关的战役是（ ）

- A. 淝水之战 B. 赤壁之战 C. 巨鹿之战 D. 官渡之战

【答案】A

【解析】

【详解】383年，前秦王苻坚征集了八十多万兵力，打算一举灭亡东晋。但由于骄傲自大，指挥失误再加上秦军中汉族和其他少数民族的斗士不愿为前秦卖命导致前秦大军被东晋军队8万人在淝水之战中打败。淝水之战后，前秦统治瓦解，北方再度陷入混战状态。“风声鹤唳”“草木皆兵”“投鞭断流”“东山再起”等典故都出自这次战役，A项正确；赤壁之战发生在东汉末年，与题干这些典故无关，排除B项；巨鹿之战发生在秦末，与题干这些典故无关，排除C项；官渡之战发生在东汉末年，与题干这些典故无关，排除D项。故选A项。

4. 隋唐是中国古代社会繁荣、国家强盛和统一多民族国家发展的重要时期。这一时期的时代特征是（ ）

- A. 危机与探索 B. 繁荣与开放 C. 屈辱与抗争 D. 政权分立与民族交融

【答案】B

【解析】

【详解】根据所学可知，隋唐时期，国家统一、社会安定、经济繁荣，对外开放，时代特征是繁荣与开放，B项正确；危机与探索是近代社会特征，排除A项；屈辱与抗争指的是近代列强侵华和中国人民的反抗，排除C项；政权分立与民族交融是魏晋南北朝时期的社会特征，排除D项。故选B项。

5. 西藏自古以来就是中国不可分割一部分，元朝时期掌管西藏军民各项事务的机构是（ ）

- A. 伊犁将军 B. 驻藏大臣 C. 宣政院 D. 澎湖巡检司

【答案】C

【解析】

【详解】根据所学可知，元朝时在西藏设置宣慰使司都元帅府，由中央的宣政院直接统辖，掌管西藏军民各项事务，C项正确；伊犁将军是清朝乾隆年间设置，用来管理新疆地区，排除A项；驻藏大臣是清朝管理西藏的官员，排除B项；澎湖巡检司是元朝时设立，管理澎湖和琉球，即台湾，排除D项。故选C项。

6. 明代中后期，随着社会经济的发展，科学技术有突出的成就，并出现了一批具有代表性的科学技术著作。下列人物与著作搭配正确的是（ ）

- A. 宋应星——《齐民要术》
B. 李时珍——《本草纲目》
C. 徐光启——《天工开物》
D. 贾思勰——《农政全书》

【答案】B

【解析】

【详解】根据所学可知，《本草纲目》是明朝医药学家李时珍历时 27 年编纂而成的药物学巨著，B 项正确；《齐民要术》是北魏贾思勰编纂的农学著作，排除 A 项；《天工开物》的编者是宋应星，排除 C 项；《农政全书》的编者是徐光启，排除 D 项。故选 B 项。

7. 1842 年，清王朝被迫与英国签订了中国近代史上第一个丧权辱国的不平等条约，它标志着中国开始沦为半殖民地半封建社会。该条约是（ ）

- A. 《南京条约》
B. 《北京条约》
C. 《马关条约》
D. 《辛丑条约》

【答案】A

【解析】

【详解】根据题干和所学可知，1842 年清政府在鸦片战争中战败求和，与英国在南京下关的江面上签订了《南京条约》，这是中国近代史上第一个不平等条约，使中国从封建社会开始沦为半殖民地半封建社会 A 项正确；《北京条约》签订时间是 1860 年，签约双方是清政府和英国、法国，排除 B 项；《马关条约》是 1895 年中日之间签订的，条约的签订大大加深了中国的半殖民地化程度，排除 C 项；《辛丑条约》是 1901 年清政府与 11 个国家签订的不平等条约，使中国完全陷入半殖民半封建社会的深渊，排除 D 项。故选 A 项。

8. 习近平总书记在庆祝中国共产主义青年团成立 100 周年大会上讲到：“青春孕育无限希望，青年创造美好明天”。早在 1919 年 5 月 4 日，中国先进青年知识分子掀起了一场拯救民族危亡、捍卫民族尊严、凝聚民族力量的爱国革命运动。这场运动体现的精神是（ ）

- A. 不怕牺牲、艰苦奋斗
B. 万众一心、众志成城
C. 爱国进步、民主科学
D. 立党为公、忠诚为民

【答案】C

【解析】

【详解】依据题干“1919 年 5 月 4 日”可知这场运动是指五四运动，1919 年巴黎和会上中国外交的失败成为五四运动爆发的导火线，青年学生率先掀起了这场五四爱国运动，五四运动孕育了以爱国、进步、民主、科学为主要内容的伟大五四精神，其核心是爱国主义精神，C 项正确，排除 ABD 项。故选 C 项。

9. 某同学暑假要完成一份关于第一个农村革命根据地建设的调查报告，他应该实地考察（ ）

- A. 南昌
B. 古田
C. 延安
D. 井冈山

【答案】D

【解析】

【详解】根据材料“第一个农村革命根据地”结合所学知识可知，1927年10月，毛泽东率领秋收起义的部队到达井冈山，开展游击战争，进行土地革命，建立红色政权，创立了第一个农村革命根据地，D项正确；建立的第一个革命根据地是井冈山，而不是南昌，南昌爆发了南昌起义，不符合题意，排除A项；在古田召开古田会议，不是第一个农村革命根据地，排除B项；我国建立的第一个革命根据地是井冈山，而不是延安，排除C项。故选D项。

10. 优秀的文艺作品反映时代的主题和心声。下列歌曲内容与历史时期对应正确的是（ ）

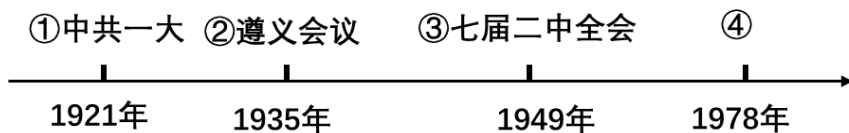
- A. “风在吼，马在啸，黄河在咆哮”——“一五计划”
- B. “雄赳赳，气昂昂，跨过鸭绿江”——抗美援朝
- C. “五十个民族，五十六枝花，五十个兄弟姐妹是一家”——抗日战争
- D. “那是一条神奇 天路，带我们走进人间天堂”——解放战争

【答案】B

【解析】

【详解】根据所学可知，“雄赳赳，气昂昂，跨过鸭绿江”是中国人民志愿军军歌，志愿军出国作战，抗美援朝，保家卫国，B项正确；“风在吼，马在啸，黄河在咆哮”出自抗日战争期间的《黄河大歌唱》，排除A项；“五十个民族，五十六枝花，五十个兄弟姐妹是一家”歌唱的是我国的民族政策，展现各民族的大团结，排除C项；“那是一条神奇的天路，带我们走进人间天堂”歌唱的是国家实施西部大开发战略后青藏铁路建成通车带来的重要影响，排除D项。故选B项。

11. 绘制年代尺是学习历史 重要方法。下图是某同学在整理中国共产党的光辉奋斗历程时绘制的党史年代尺，其中第④处的内容是（ ）



- A. 中共七大
- B. 八七会议
- C. 中共八大
- D. 中共十一届三中全会

【答案】D

【解析】

【详解】根据所学可知，1978年底党的十一届三中全会在北京召开，D项正确；中共七大是1945年抗日战争胜利前召开的，排除A项；八七会议于1927年8月7日在汉口召开，排除B项；中共八大的召开时间是1956年，排除C项。故选D项。

12. 从“嫦娥奔月”到神舟 14 号成功发射，中国人对太空的探索从未停止。在此历程中，中国实现太空行走的第一人是（ ）


- A. 屠呦呦 B. 钱学森 C. 翟志刚 D. 刘洋

【答案】 C

【解析】

【详解】 结合所学知识可知，2008 年 9 月，神舟七号载人飞船升入太空，航天员翟志刚成功完成出舱任务，实现了太空行走，C 项正确；屠呦呦是著名科学家，发现了能够有效抵抗疟疾的青蒿素，开创了治疗疟疾的新方法，获得 2015 年诺贝尔生理学或医学奖，排除 A 项；钱学森是中国的“两弹元勋”，中国著名科学家，与“中国实现太空行走的第一人”无关，排除 B 项；刘洋是我国第一个升入太空的女航天员，与“中国实现太空行走的第一人”无关，排除 D 项。故选 C 项。

13. 古代亚非地区的文明古国创造了辉煌灿烂的文明成果。下列属于古埃及文明成果的是（ ）



【答案】 A

【解析】

【详解】 依据所学知识，金字塔是古埃及国王法老的陵墓，属于古埃及文明成果，A 项正确；司母戊鼎是中国古代商周时期的著名青铜器，属于中华文明，排除 B 项；帕特农神庙属于古希腊著名建筑，排除 C 项；释迦牟尼像反映的是古印度佛教文化，排除 D 项。故选 A 项。

14. 8 世纪前期，法兰克王国对土地的分封形式进行了改革，建立了封君封臣制度，奠定了西欧封建等级制度的基础。下列选项与法兰克王国封君封臣制度相关的是（ ）

- A. “封建亲戚，以藩屏周” B. “我的附庸的附庸，不是我的附庸”
C. 中世纪教育“最美好的花朵” D. “城市的空气使人自由”

【答案】 B

【解析】

【详解】根据所学可知，“我的附庸的附庸，不是我的附庸”揭示了 西欧封建等级制度的特点，每个封君只能管辖自己的封臣，不能管辖封臣的封臣，B 项正确；“封建亲戚，以藩屏周”指的是西周实行的分封制，排除 A 项；中世纪教育“最美好的花朵”指的是大学的兴起，排除 C 项；“城市的空气使人自由”指的是西欧城市的自治，排除 D 项。故选 B 项。

15. “人不能像走兽那样生活，应该追求知识和美德。”但丁这句名言反映出文艺复兴时期的核心思想是（ ）

- A. 人文主义 B. 享乐主义 C. 理性主义 D. 禁欲主义

【答案】A

【解析】

【详解】根据所学可知，人文主义者要建立一种以人为中心而不是以神为中心的生活哲学；他们提倡发扬人的个性，追求享受现世生活。这种被称为人文主义的思潮逐渐流行，文艺复兴运动兴起。文艺复兴是一场反对教会“神权至上”和提倡人文主义的新文化运动，因此文艺复兴时期的核心思想是人文主义，A 项正确；享乐主义、禁欲主义不是文艺复兴的核心思想，排除 BD 项；理性主义是启蒙运动的思想，排除 C 项。故选 A 项。

16. 斯塔夫里·阿诺斯在《全球通史》中提出：“欧洲的殖民扩张，使人类的眼界前所未有地扩大，逐渐形成了新的全球性视野。”这句话主要强调新航路的开辟（ ）

- A. 巩固了资产阶级的统治 B. 推动了世界观念的形成
C. 标志着世界市场的形成 D. 证明了地圆学说的正确性

【答案】B

【解析】

【详解】根据题干可知，“使人类的眼界前所未有地扩大，逐渐形成了新的全球性视野”说明新航路开辟使世界逐渐连成一个整体，殖民扩张客观上推动了世界观念的形成，B 项正确；眼界扩大、“全球视野”与资产阶级统治的巩固无关，排除 A 项；题干体现的不是世界市场的而形成，而是人们的眼界和思想观念的变化，排除 C 项；证明了地圆学说的正确性的是环球航行，排除 D 项。故选 B 项。

17. 《共产党宣言》既是世界各国共产党人和进步人士必读的经典，也是全人类最重要的精神财富。2013 年，《共产党宣言》被联合国教科文组织列入《世界记忆名录》。《共产党宣言》的发表，标志着（ ）

- A. 俄国十月革命的胜利 B. 巴黎公社的成立
C. 马克思主义的诞生 D. 第一国际的成立

【答案】C

【解析】

【详解】根据所学可知，1848 年，马克思、恩格斯为共产主义者同盟起草的纲领《共产党宣言》在伦敦正

式出版，《共产党宣言》的发表，标志着马克思主义的诞生，C项正确；俄国十月革命的胜利、巴黎公社的成立、第一国际的成立都是马克思主义指导下的实践，排除ABD项。故选C项。

18. 第二次世界大战结束后，世界形成了以美苏为首的两极争霸格局，进入冷战时期。下列关于冷战局面表述正确的是（ ）

- ① 杜鲁门主义的出台标志着冷战开始
- ② 冷战主要表现为以美国与苏联为首的两大军事集团之间的对峙
- ③ 美苏主导形成的两极格局囊括了世界上所有国家
- ④ 柏林墙是冷战的标志性建筑，是东西方对峙的集中体现

A. ①②③ B. ②③④ C. ①②④ D. ①③④

【答案】C

【解析】

【详解】根据所学可知，1947年杜鲁门主义出台，美苏战时同盟关系彻底破裂，冷战开始；冷战指的是以美苏为首的两大集团之间既非战争又非和平的对峙局面；美苏冷战期间，柏林墙的修筑和德国分裂是冷战的产物，冷战的标志性建筑，也是东西方对峙的集中体现；①②④符合题意，C项正确；两极格局不包括世界上所有国家，③说法错误，排除ABD项。故选C项。

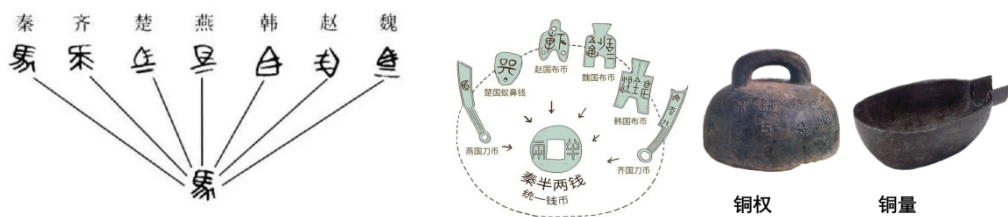
二、非选择题：本大题共3小题，19题14分，20题14分，21题16分，共44分。

19. “大一统”始见于春秋时期的《公羊传》，其基本含义是：以天下统一为大。阅读下列材料，回答问题。

材料一 秦王扫六合，虎视何雄哉！挥剑决浮云，诸侯尽西来。

——摘自【唐】李白《古风》

材料二



材料三 “紫荆花开正烂漫，香江潮涌起新航。”在中央政府和祖国内地的大力支持下，在以爱国者为主体的治港者带领下，香港居民依法享有的各项权利和自由将得到更加充分的保障，香港的国际金融、贸易、航运中心地位将更加稳固，法治和营商环境将更加优良，行政立法关系将更加顺畅，社会氛围将更加和谐，长期困扰香港的各类深层次矛盾和问题将更有条件得到有效解决。

——摘自《求是》（2021年第9期）

(1) 根据材料一，结合所学知识，写出“秦王扫六合”具体指什么历史事件。分析“秦王扫六合”的原因。

(2) 根据材料二，写出秦始皇巩固大一统的具体措施。

(3) 根据材料三，结合所学知识，回答香港、澳门回归得益于什么方针。简述香港、澳门回归的历史意义。

(4) 综合上述材料，结合所学知识，谈谈我国历史发展的必然趋势。

【答案】 (1) 事件：秦王嬴政灭六国，统一全国；原因：连年战乱，影响了经济发展和社会稳定，人民希望渴望统一；秦国经过商鞅变法，经济和军事实力超过东方六国，具备统一六国的条件；秦王嬴政为灭亡六国做了充分的准备。

(2) 统一文字，统一货币、统一度量衡。

(3) 一国两制；洗雪百年国耻，在祖国统一大业的道路上迈出重要一步；为国际社会以和平方式解决历史遗留问题提供了新的范例。

(4) 国家走向统一是历史发展的必然趋势。

【解析】

【小问1详解】

根据所学可知，“秦王扫六合”“诸侯尽西来”指的是秦王嬴政扫灭东方六国，完成统一的历史。秦国能消灭东方六国完成统一，既有历史发展的趋势，人心所向，如年战乱，影响了经济发展和社会稳定，人民希望渴望统一；也有国家实力作为保障，如秦国经过商鞅变法，经济和军事实力超过东方六国，具备统一六国的条件；还包括秦王嬴政为六国做了充分的准备，如秦王嬴政招揽人才，委以重任，听取意见，策划统一大计。

【小问2详解】

根据材料可知，左图为文字，体现的是秦朝为消除文字上的差异，制定小篆为通用文字，即统一文字的措施；中图为七国货币，秦始皇下令废除六国货币，以秦国的圆形方孔半两钱为统一货币，即统一货币的措施；右图中的铜量、铜权体现了秦朝统一度量衡的措施。

【小问3详解】

根据所学可知，香港澳门问题的解决得益于邓小平提出的“一国两制”伟大构想为港澳回归开辟了新途径；香港澳门问题是近代历史遗留问题，是近代以来中华民族屈辱历史的见证，港澳回归洗雪了百年国耻，在祖国统一大业的道路上迈出重要一步；同时，“一国两制”在香港澳门的成功实践也为国际社会以和平方式解决历史遗留问题提供了新的范例。

【小问4详解】

根据材料可知，从秦统一六国，结束春秋战国以来的分裂割据，到港澳回归祖国，迈出祖国统一大业的重要一步，说明统一是祖国历史发展的必然趋势。

20. “科技是国之利器，国家赖之以强，农业赖之以赢，人民生活赖之以好。”阅读下列材料，回答问题。

材料一 渺茫无际，天水一色，舟舶来往，惟以指南针为则。昼夜守视惟谨，毫厘之差，生死系焉。

——摘自【宋】赵汝适《诸蕃志》

材料二 德国的工业化进程落后于英国，但它以自己独特的方式走上了现代化道路。全民教育为德国培养了高素质的国民，大学给德国带来了创造和发明，智力成为这个国家最重要的资源。凭借这一资源19世纪的德国引领了第二次工业革命，站在了世界科学技术发展的前沿。

——摘自《大国崛起》解说词

材料三 三次工业（科技）革命比较表

项目	第一次	第二次	第三次
兴起时间	18世纪六十年代	19世纪六七十年代	20世纪四五十年代
主要标志	A	电力的使用和内燃机的发明等	原子能技术、航天技术、电子计算机的应用
进入时代	“蒸汽时代”	B	“信息时代”

材料四 当前，新一轮科技革命和产业变革不断推进，科技同经济、社会、文化、生态深入协同发展对人类文明演进和全球治理体系发展产生深刻影响。以科技创新推动可持续发展成为破解各国关心的一些重要全球性问题的必由之路。

——摘自习近平2019年10月16日向首届世界科技与发展论坛所致的贺信

- (1) 材料一反映的是我国哪一项发明成就。简述这项发明对世界产生的影响。
- (2) 根据材料二，概括德国在第二次工业革命期间崛起的原因。
- (3) 结合所学知识，将材料三中AB两处空白补充完整。写出飞机使用的动力机是什么。概括第二次工业革命的特点。
- (4) 根据材料四并结合所学知识，说明科学技术对我国发展的重要作用。

【答案】 (1) 指南针；大大促进世界远洋航海技术的发展，为新航路开辟提供了重要条件。

(2) 发展全民教育，培养人才。

(3) A：蒸汽机的广泛应用；B：电气时代；内燃机；特点：科学研究同工业生产紧密结合；几乎同时发生在几个主要资本主义国家；后起的国家两次工业革命同时进行。

(4) 对人类文明演进和全球治理体系发展产生深刻影响；科技创新推动可持续发展；科技是推动我国经济社会发展的重要动力等。

【解析】

【小问1详解】

根据材料可知，“舟舶来往，惟以指南针为则”说明指南针成为船舶往来的重要发明。指南针运用于航海，大大促进世界远洋航海技术的发展，为新航路开辟提供了重要条件。

【小问2详解】

根据材料可知，“全民教育为德国培养了高素质的国民，大学给德国带来了创造和发明，智力成为这个国家最重要的资源。”说明德国崛起的原因是通过发展全民教育培养了高素质人才，有甚是大学给德国带来了创造和发明。

【小问3详解】

根据所学可知，第一次工业革命的主要标志是蒸汽机的广泛应用，第二次工业革命中电力进入生产领域，电力作为动力带动机器，人类社会进入了“电气时代”。内燃机的发明带动了相关新兴工业的发展，以内燃机为发动机的汽车、飞机等出现。第二次工业革命相比第一次工业来说，科学研究同工业生产紧密结合；从范围上说，第二次工业革命几乎同时发生在几个主要资本主义国家，而且，后起的国家两次工业革命同时进行。

【小问4详解】

根据材料可知，“科技同经济、社会、文化、生态深入协同发展，对人类文明演进和全球治理体系发展产生深刻影响。”说明科技对人类文明演进和全球治理体系发展产生深刻影响，是推动经济社会发展的重要动力；“以科技创新推动可持续发展成为破解各国关心的一些重要全球性问题的必由之路”说明科技创新推动我国可持续发展。

21. “农，天下之大本也，民所恃以生也。”阅读下列材料，回答问题。

材料一



唐朝农具

材料二 1921年3月，俄共（布）召开第十次代表大会，列宁在会上作了《关于以实物税代替余粮收集制的报告》。大会根据列宁的报告通过《关于以实物税代替余粮收集制》的决议，决定废除余粮收集制，取而代之以实行粮食税，开始了从“战时共产主义”政策向“新经济政策”的过渡。

——摘自张建华主编《世界现代史（1900-2000）》

材料三 农村政策放宽以后，一些适宜搞包产到户的地方搞了包产到户，效果很好，变化很快。安徽肥西县绝大多数生产队搞了包产到户，增产幅度很大。“凤阳花鼓”中唱的那个凤阳县，绝大多数生产队搞了大包干，也是一年翻身，改变面貌……关键是发展生产力，要在这方面为集体化的进一步发展创造条件。

——摘自邓小平《关于农村政策问题》

- (1) 写出图中农具的名称。说明它的功能。
- (2) 根据材料二，结合所学知识，写出苏联在新经济政策中关于农业改革的措施。简述该措施对苏联农业发展产生的影响。
- (3) 结合所学知识，写出材料三中我国农村经济体制改革的形式。说明它的作用。
- (4) 综合上述材料并结合所学知识，简述农业改革必须坚持的原则。

【答案】 (1) 筒车；农业灌溉。

(2) 措施：以征收粮食税代替余粮征集制；允许使用雇用劳动力和出租土地，农民可以自由买卖纳税后的剩余产品，实行自由贸易。影响：提高了农民的生产积极性，促进了农村经济的发展，巩固了工农联盟，促使国民经济的恢复和稳步发展。

(3) 家庭联产承包责任制；激发了农民的劳动热情，带来农村生产力的大解放，农业生产和农民收入均有很大提高，促进了农村经济发展。

(4) 农村改革要从农村生产实际出发，坚持生产关系一定要适应生产力的发展；要能调动广大农民的生产积极性；要注意维护广大农民群众的利益，要注意科技创新等。

【解析】

【详解】 (1) 根据图片“唐朝农具”结合所学知识可知，图中农具的名称是筒车。唐朝农民创制了新式灌溉工具筒车，它利用湍急的水流转动车轮，使装在车轮上的水筒，随水流自行转动，竹筒把水由低处汲到高处，便于灌溉。

(2) 根据材料二“1921年3月……大会根据列宁的报告通过《关于以实物税代替余粮征集制》的决议，决定废除余粮征集制，取而代之以实行粮食税……”可知，材料与苏俄的新经济政策有关。结合所学知识，1921年春，苏俄实施新经济政策，以征收粮食税代替余粮征集；允许使用雇用劳动力和出租土地，农民可以自由买卖纳税后的剩余产品，实行自由贸易。该措施的实施，提高了农民的生产积极性，促进了农村经济的发展，巩固了工农联盟，促使国民经济的恢复和稳步发展。

(3) 根据题干“安徽肥西县绝大多数生产队搞了包产到户，增产幅度很大。‘凤阳花鼓’中唱那个凤阳县，绝大多数生产队搞了大包干，也是一年翻身，改变面貌……”材料，结合所学知识，材料三中我国农村经济体制改革的形式是农村实行的家庭联产承包责任制，到1983年，家庭联产承包责任制已基本在全国农村普遍实行。它激发了农民的劳动热情，带来农村生产力的大解放，农业生产和农民收入均有很大提高；随着

农业向专业化、商品化、社会化发展，农村乡镇企业也迅速发展起来，为农民致富和实现现代化开辟了一条新路。

(4) 综合上述材料并结合所学知识，材料一说明农业改革必须注意科技创新；材料二 新经济政策说明农业改革必须有符合国情的政策支持；材料三的家庭联产承包责任制说明农业改革要敢于形式创新，要关注民生等，所以农业改革必须坚持的原则有农村改革要从农村生产实际出发，坚持生产关系一定要适应生产力的发展；要能调动广大农民的生产积极性；要注意维护广大农民群众的利益，要注意科技创新等。

