

达州市 2016 年高中阶段教育学校招生统一考试

思想品德 历史 地理

(历史部分)

一、选择题

14. 列强的侵略, 使国人开始向西方学习, 寻求救国之路. 下列事件中, 加快了我国近代化的进程, 广泛传播了资产阶级政治学说和自然科学知识, 对中国社会起到了思想启蒙作用的是 ()

- A. 洋务运动 B. 戊戌变法 C. 新文化运动 D. 五四运动

15. 达州某中学九年级同学在复习中国历史时, 整理了如下资料: “中共一大的召开”、“南昌起义”、“井冈山会师”、“遵义会议”、“四渡赤水”等. 据此判断, 他们复习的学习主题是 ()

- A. 人民解放战争的胜利 B. 列强的侵略和中国人民的抗争
C. 近代化的进步 D. 新民主主义革命的兴起

16. 团结使中华民族能够战胜强大的敌人, 和平是中国人民经历残酷战争后的迫切愿望. 中国共产党为了实现民族团结或者国内和平曾做出的努力有

① 西安事变的和平解决 ② 大跃进运动 ③ 重庆谈判 ④ 文化大革命 ()

- A. ①② B. ②④ C. ①③ D. ③④

17. 下列城市中, 曾在 19 世纪 90 年代被迫开放为通商口岸, 又是 20 世纪 90 年代主动开放的长江沿岸城市是 ()

- A. 重庆 B. 沙市 C. 上海 D. 南京

18. 在国际舞台上, 周恩来充分地展现了他的外交魅力, 为我国外交事业做出了突出贡献. 下列与周恩来有关的图片中, 属于中国 20 世纪 50 年代取得的外交成就是 ()

			
① 美国总统尼克松在机场受到周恩来的欢迎	② 周恩来访问印度, 受到印度总理尼赫鲁的欢迎	③ 毛泽东、周恩来会见日本内阁总理大臣田中角荣	④ 周恩来在亚非会议上讲话

- A. ①② B. ①③ C. ②④ D. ③④

19. 14-16 世纪的西欧, 开放冲破神学的黑暗桎梏, 肯定人性; 挑战大海的惊涛骇浪, 寻找出路. “肯定人性”与“寻找出路”分别是指 ()

- A. 光荣革命和雾月政变 B. 文艺复兴和雾月政变
C. 光荣革命和新航路开辟 D. 文艺复兴和新航路开辟

20. 在世界反法西斯战争中, 面对法西斯的疯狂进逼, 不同社会制度的国家组成反法西斯同盟在各个战场共同抗击, 并取得了重大胜利. 下列属于世界反法西斯战争中的战役有 ()

- ① 斯大林格勒保卫战 ② 百团大战 ③ 诺曼底登陆
④ 凡尔登战役 ⑤ 台儿庄战役 ⑥ 辽沈战役

- A. ①②③⑤ B. ②③④⑥ C. ①②⑤⑥ D. ③④⑤⑥

21. 第一次世界大战后，各帝国主义国家组织召开的巴黎和会与华盛顿会议有着许多共同点。下列选项中表述错误的是（ ）

- A. 都确立了帝国主义战后在部分地区的“新秩序”
B. 都解决了帝国主义国家之间的矛盾，长久地维持了世界和平
 C. 都涉及了中国问题，体现了大国意志
 D. 都损害了其他弱小民族的利益，表现出“弱国无外交”


22. 英国首相邱吉尔，在 1946 年访问美国时，最先发出了冷战信号“从波罗的海的什切青到亚得里亚海边的里亚斯特……”。该“信号”被称之为（ ）

- A. 杜鲁门主义 B. 欧洲复兴计划 **C. 铁幕演说** D. 慕尼黑阴谋

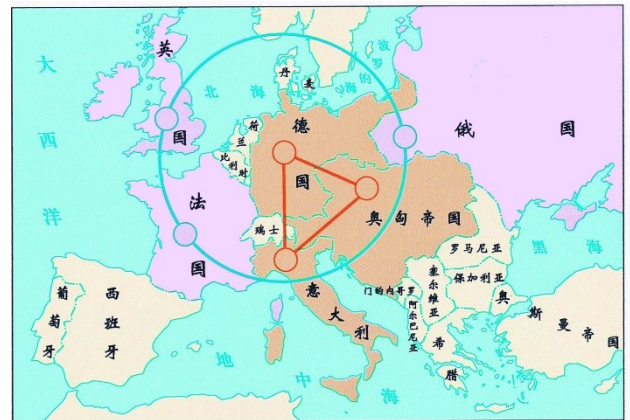
23. 二战后初期的西欧，经济凋敝，困难重重。从 20 世纪 50 年代开始，西欧各国凭借其原有的经济基础等，政府采取了各种有力的措施，维持了经济的相对稳定和持续发展，到 70 年代初，面貌为之一新。其中经济增长尤其迅速，成为西欧实力最强的经济大国是（ ）

- A. 英国 B. 法国 C. 意大利 **D. 联邦德国**

24. 右图是“欧洲两大帝国主义集团对峙图”，图中

 所表示的军事集团是（ ）

- A. 三国同盟
 B. 北大西洋公约组织
C. 三国协约
 D. 华沙条约组织



25. 科学无国界，科学无时。20 世纪初一位伟大的物理学家提出了相对论，为原子能技术的开展提供了理论依据；20 世纪 60 年代另一位物理学家根据相对论，主持形成了中国第一颗原子弹理论设计方案。这两位物理学家分别是（ ）

- A. 牛顿和王大珩 B. 牛顿和邓稼先
 C. 爱因斯坦和王大珩 **D. 爱因斯坦和邓稼先**

26. 美国法里德·扎卡里亚在《后美国世界》中写道：“近 500 年来发生过三次结构性的权力转变……第一次是西方世界（欧洲）的崛起……。第二次转变发生在 19 世纪末美国的崛起……我们目前正在经历的则是现代史上的第三次权力转变，或可称为‘群雄竞起’的时代。”其中第三次权力转变是指（ ）

- A. 区域集团化 **B. 政治多极化** C. 文明多元化 D. 技术信息化

四、列举题（第 37 题，每小题 1 分，共 5 分）

37. 根据提示信息及所学内容，列举出下列历史知识。（5 分）

- (1) 为解决世界粮食短缺问题作出了突出贡献，被国内外誉为“杂交水稻之父”的人物是
 。 (1 分)
- (2) 新中国成立后，为促进民族团结，在少数民族聚居地区实行的基本政治制度是
 。 (1 分)
- (3) 美国南北战争中，为了激发叛乱各州黑奴的革命情绪所颁布的法律文件是
 。 (1 分)

(4) 冷战结束后，世界经济出现了新的变化，市场经济席卷全球，经济活动冲破了国与国之间的界限，出现了。的大趋势。(1分)

(5) 20世纪30年代，为求苟安一时，英、法等国对法西斯侵略弱小国家的行动采取姑息、纵容的政策是。(1分)

(1) 袁隆平 (2) 民族区域自治制度 (3) 《解放黑人奴隶宣言》 (4) 经济全球化 (5) 绥靖政策

五、材料解析题 (第38题5分，39题7分，共12分)

38. 各国经济发展并非一帆风顺。阅读下列材料，结合所学知识，回答下列相关问题。

材料一：1992年，一位创立了中国特色社会主义理论的世纪伟人，针对当时有些人担心实行改革开放会使中国“走上资本主义道路”的困惑，发表了重要谈话。谈话中他强调，“发展才是硬道理”、“改革开放的胆子要大一些”、“市场经济不等于资本主义，社会主义也有市场”，明确提出了判断是非的标准。

——川教版八年级下册

材料二：在某种意义上，有人说，他挽救了市场经济。市场经济不是说没有毛病，出了一些毛病。在20世纪30年代的时候，他引进了一些新政，然后使市场经济又回到一个比较健康发展的轨道……开创了市场经济的新模式。在这种模式中，市场的作用和政府的作用同时得以发挥。

——《大国崛起》解说词

(1) 材料一中，“世纪伟人”发表的“重要谈话”被称作什么？(1分)“中国特色社会主义理论”在祖国统一大业方面出现了什么创新制度？(1分)哪次会议揭开了“改革开放”的序幕？(1分)

(2) 材料二中的“他”是谁？(1分)“他”开创的“市场经济新模式”为资本主义国家的发展提供了怎样的范例？(1分)

(1) 南方谈话；“一国两制”；十一届三中全会


(2) 罗斯福；国家加强对经济的干预

39. 三次科技革命在人类发展史上留下了深刻的脚印，对人类各方面生活都产生着重要影响。阅读下列材料，结合所学知识，回答下列相关问题。

材料一：1815年，英国人打赢了一场震动世界的战争……。战争的胜利不仅是不列颠军队的胜利，也是市场经济的胜利……。在这场战争中，英国为参战国提供了军服、枪炮和其他产品。当战争结束时，英国成为了当时世界上无与伦比的产业大国，英国利用自身首屈一指的优势，开始积极推行自由贸易政策……。为了实施自由贸易，英国用武力迫使一个又一个国家打开了大门……。到19世纪中期，英国成为了一个忙忙碌碌的世界，乡村建起了灰暗的厂房，城镇竖起了高耸的烟囱……

——《大国崛起》解说词

材料二：如图



图一

图二

图三

材料三：2014年9月19日，阿里巴巴集团在纽约证券交易所正式挂牌上市。阿里巴巴旗下的淘宝网是亚洲最大的购物网站，也是最常用、最受欢迎的网络购物平台。拥有近5亿的注册用户数，日活跃用户超1.2亿，在线商品数量达到10亿，平均每分钟售出4.8万件商品。

——某新闻报刊

(1) 材料一中，使英国成为“产业大国”的事件是什么？(1分) 19世纪40年代，英国为了打开中国的大门发动了什么战争？(1分) 在使英国成为“产业大国”之外，“灰暗的厂房”和“高耸的烟囱”还带来了什么问题？(1分)

(2) 材料二中，为图一、图二交通工具的诞生提供动力的机器是什么？(1分) 图三人物的众多发明中，最重要的发明对人类生活有何重大影响？(1分)

(3) 材料三中的“网络购物”是哪次科技革命的产物？(1分) 这次科技革命为“网络购物”的实现提供的最为突出的核心技术是什么？(1分)

- (1) 第一次工业革命；鸦片战争，环境的污染和破坏
- (2) 内燃机；改变了人类传统的照明方式。
- (3) 第三次科技革命；计算机网络技术。

四、简答题(第40题，共12分)

17. 纵观中外历史，民族解放、国家独立、社会制度的变更、民生问题的解决等都是国家得以发展的主要因素，同时也是历史发展的重要主题。结合所学历史知识，回答下列相关问题(12分)。

(1) 17-19世纪，美国、英国、法国、俄国、日本，这五个国家实现民族解放或变更社会制度的重大历史事件各是什么？(5分) 上述五国伙同其他国家曾对中国发动了什么战争，使中国完全陷入了半殖民地半封建社会的深渊？(1分)

(2) 20世纪上半叶，中国人民为了推翻剥削压迫，实现民族解放和国家独立进行了诸多实践。其中哪次革命推翻了封建君主专制制度？(1分) 实现民族解放和国家独立的历史事件是什么？(1分)

(3) 19世纪60年代，俄国和日本在改革中对于土地问题分别采取了什么具体措施？(2分)

(4) 20世纪50年代，中国为了解放农民土地问题，消灭封建剥削制度，采取了什么措施？(1分)

(5) 我们青少年为了中国的发展应该怎样做？(1分)

- (1) 美国独立战争，英国资产阶级革命，法国资产阶级革命，俄国农奴制改革，日本明治维新；八国联军侵华战争
- (2) 辛亥革命；新中国的成立。
- (3) 俄国：农奴解放时，可从地主那里赎买一块份地；日本：允许土地自由买卖
- (4) 土地改革
- (5) 努力学习，实现民族复兴。(言之有理即可)