



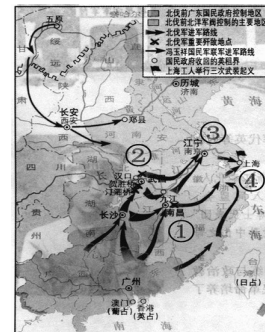
- C. 军机处的设置降低了办事效率 D. 军机处的设置,使皇权进一步加强
7. 中国古代有许多重大发明。下列发明按出现的时间先后顺序排列正确的是  
 A. 造纸术、司南、火药、活字印刷 B. 火药、造纸术、活字印刷、司南  
 C. 造纸术、活字印刷、火药、司南 D. 司南、造纸术、火药、活字印刷
8. 林则徐在上道光皇帝的奏折中指出:“迨(等到)流毒于天下,则危害甚巨,法当从严。若犹泄泄(yìyì)视之,是使数十年后,中原几无可以御敌之兵,且无可以充饷之银。”这反映了当时的中国社会  
 A. 鸦片泛滥成灾 B. 西方传教士活动猖獗  
 C. 自然经济加速解体 D. 国家主权不断丧失

9. 陈独秀在新文化运动时期启示青年,必须树立变革现实的思想,要有探索的勇气和创新的胆识,“应战胜恶社会,而不被恶社会所征服”。陈独秀为了“战胜恶社会”,希望青年们高举的两面大旗是

- A. 自强求富 B. 爱国救亡  
 C. 民主科学 D. 实业救国

10. 1926年5月,国民革命军誓师北伐。北伐军出师不到半年便从珠江流域打到长江流域,威震全国。1927年初,全国革命的中心也随之转移至右图中的

- A. ① B. ②  
 C. ③ D. ④



11. 毛泽东说:“长征是历史记录上的第一次,长征是宣言书,长征是宣传队,长征是播种机。”“长征是以我们的胜利,敌人失败的结果而结束的。”“长征一完结,新局面就开始。”以下说法不符合相关史实的是

- A. 红军长征是历史上的壮举  
 B. 长征的胜利,为开创中国革命的新局面奠定了基础  
 C. 红军长征过程中宣传了革命的思想  
 D. 长征的胜利,意味着中国民主革命取得了成功

12. 武汉会战后,抗日战争进入相持阶段。在这一阶段爆发的一次重大战役(会战)后,侵华日军某部在一份报告中称:“其上级干部多为经验丰富干练之士,其统帅才能十分高超,尤其对分散于广阔地区之多数小部队巧妙的指挥运动,必须瞩目。”这次战役(会战)是指

- A. 淞沪会战 B. 台儿庄战役 C. 湘西会战 D. 百团大战

13. 2015年3月21日,搭载着68具中国人民志愿军烈士遗骸的专机从韩国飞抵沈阳,离开祖国60多年的烈士英灵终于魂归故里。下列史实与抗美援朝没有直接联系的是

- A. 美国第七舰队入侵中国台湾海峡 B. 邱少云严守潜伏纪律,被烈火吞噬  
 C. 中国远征军出国作战 D. 《朝鲜停战协定》的签订

14. 1956年是“非同寻常的一年”。在那一年①三大改造基本完成②中共“八大”胜利召开③武汉长江大桥建成通车④“文化大革命”全面发动

- A. ①② B. ②③ C. ①④ D. ③④

15. 1984年,有国际媒体评论:“中国政府开放整个海岸,意味着实际开放半个中国,它是三十五年来中国政府所采取的最大胆的行动。”这个“大胆行动”指的是

- A. 设立深圳、珠海、汕头、厦门四个经济特区  
 B. 开放十四个沿海港口城市  
 C. 设立长江三角洲开放区  
 D. 将海南岛建成经济特区

16. 随着改革开放的不断深入，城乡社会生活发生了巨大的变化。“跳槽”“炒鱿鱼”“创客”等新鲜词汇频繁出现，这实际上反映了
- A. 我国失业率居高不下                      B. 人民的生活得不到基本保障  
C. 人们的就业观念发生了很大变化        D. 我国的综合国力稳步提升
17. 达·芬奇是一位思想深邃，学识渊博，多才多艺的时代巨人。从历史学的角度来看，他创作的《蒙娜丽莎》（如右图）之所  
以美主要是因为该作品
- 
- A. 画像细致逼真，色彩调和  
B. 取材打破传统，敢于创新  
C. 主题蕴含人文主义精神  
D. 反映了基督教文化的复兴
18. 攻占巴士底狱的消息传到凡尔赛时，路易十六惊呼：“什么！这是叛乱！”他身边的一个近臣却说：“不，陛下，这是革命！”这段对话的历史背景是
- A. 英国资产阶级革命爆发                      B. 法国大革命爆发  
C. 美国独立战争爆发                          D. 俄国十月革命爆发
19. 近年来，美军与中国周边国家日本、菲律宾频繁军演，插手中国东海、南海事务，其狼子野心与上世纪初的行为如出一辙。上世纪初，美国为争夺亚太地区的霸权
- A. 签署了《九国公约》                        B. 参加了巴黎和会  
C. 提出了“门户开放”政策                    D. 加入了国际联盟
20. 关于“战时共产主义政策”和新经济政策的共同点说法正确的是
- A. 都严重挫伤了劳动者的生产积极性      B. 都在特定的历史条件下发挥了积极作用  
C. 都巩固了工农联盟                          D. 都是向社会主义过渡的正确途径
21. 罗斯福新政中既增加就业机会，又为经济发展拓展空间的措施是
- A. 改革银行制度                      B. 整顿农业                      C. 调整工业                      D. 兴建公共工程
22. 当今的世界格局仍处于一个过渡期，在这个过程中出现了权力的转移和扩散。权力从传统强国欧美向新兴大国转移，并扩散至其他地区力量中心，世界格局有进入“碎片化”时代的征兆。这反映了
- A. 多极世界格局已经形成                      B. 世界经济的区域集团化  
C. 美国已丧失世界霸主地位                    D. 世界格局的多极化趋势

## 第II卷（非选择题，共28分）

本卷共3小题，第23小题10分，第24小题10分，第25小题8分，共计28分。

23. （10分）20世纪，有三位站在时代前列的伟大人物，领导了中国的革命和建设。阅读下列材料，回答相关问题。

### 【救国篇】

材料一：“民族主义，并非遇着不同族的人便排斥他”；“我们并不是恨满族人，是恨害汉人的满洲人。假如我们实行革命的时候，即满洲人不来阻害我们，决无寻仇之理”。

——孙中山批判革命党内片面“反满”思想的讲话

- （1）依据材料，结合所学知识，指出以孙中山为代表的革命党人进行了什么革命？（1分）建立了怎样的国家？（1分）“恨害汉人的满洲人”的实质是什么？（1分）

### 【建国篇】

材料二：“我们的工作将写在人类的历史上，它将表明，占人类总数四分之一的中国人从此站起来了。……我们的民族将从此列入爱好和平自由的世界各民族的大家庭，以勇敢而勤劳的姿态工作着，创造自己的文明和幸福，同时也促进世界的和平和自由。

——毛泽东在中国人民政治协商会议第一次全体会议上致开幕词

(2) 结合所学知识，指出中国人民政治协商会议通过了什么重要文件？(1分) 这一文件有什么重要作用？(1分)

**【强国篇】**

材料三：“如果说我们建国以后有缺点，那就是对发展生产力方面有某种忽略”。“社会主义要消灭贫穷。贫穷不是社会主义，更不是共产主义，社会主义的优越性就是要逐步发展生产力，逐步改善人民的物质、文化生活”。

——邓小平讲话

(3) 结合所学知识，说说为了“消灭贫穷”，邓小平带领中国人民走上了一条怎样的建设道路？(2分)

(4) 依据三则材料，结合所学知识，说说三位伟人的共同追求是什么？(3分)



24. (10分) 三次科技革命，极大促进了人类社会的进步，改变了人类的生产、生活方式。阅读下列材料，回答相关问题。

材料一：(英国拥有) 很大的、不断扩大的市场……英国还拥有更多的、可供工业革命使用的流动资本，源源流入英国的商业利润比流入其他任何国家的都多……由于行会较早瓦解，由于对传统的条块农田的圈占，英国获得了充裕的流动劳动力……贫穷的农民们失去了自己的部分甚至全部的土地，被迫当租地人或打散工的人，否则就不得不去城里找工作。

——斯塔夫里阿诺斯《全球通史》

(1) 上述材料从哪几个方面分析了工业革命爆发所需要的条件？(3分)

材料二：



福特

(2) 依据材料，结合所学知识，指出材料中棉纺厂和装配线分别使用什么作刃切刀？(2分) 汽车是哪次科技革命的成果？(1分)

材料三：《17世纪以来主要科学成果情况表》

科学成果项目	基础研究年份	应用研究年份	生产推广年份
蒸汽机	1687	1711	1785
电话	1820	1876	1881
发电机	1831	1888	1889

计算机	1936	1946	1946
激光	1958	1960	1961

(3) 从材料中科学成果项目的基础研究、应用研究和生产推广年份的间隔，你能获取哪些主要历史信息？(2分)

(4) 结合所学知识，说说计算机的应用，对人类生活的影响？(2分)

25. (8分) 回首，不是为了怀旧，而是为了铭记与反思。阅读下列材料，回答相关问题。

材料一：“自强以练兵为要，练兵又以制器为先。”向西方学习以求“自强御侮”，洋务派引进西方机器设备和生产技术，制造枪炮船舰；用新式枪炮、轮船装备军队，改造陆军，建立新式海军。同样处于危机之下的日本，也走上了变革的道路。1868年，明治政府开始进行资产阶级性质的改革，明治政府大力兴建铁路、工厂，发展邮政和电讯事业，还积极扶持私人企业，向西方选派留学生，高薪聘请西方专家和技师到日本工作；效法西方军事制度，实行征兵制，建立常备军。

——整理自岳麓版教科书《中国历史》、《世界历史》

**【史实梳理】**

(1) 依据材料，谈谈日本从哪些方面向西方学习？(2分)

材料二：对日本人来说，中国人从有头脑的、内省的和充斥于德川时代艺术家绘画中的圣贤，一变而成为1895年印刷商们所描述的在近代日本军队面前仓皇逃跑的乌合之众。这样他们就成了笨拙而忸怩的学生，在20世纪初的东京街头上，往往因其发辫和衣着而受到玩童们的嘲骂。

——普林斯顿大学历史教授马里乌斯·詹森

**【问题分析】**

(2) 依据材料，结合所学知识，指出中国人从“圣贤”变成了“乌合之众”的直接原因是什么？(2分)

材料三：这是19世纪下半叶一水之隔的邻邦，一边是从圣贤到乌合之众，而另一边则崛起为亚洲帝国主义，一条学习西方的道路，两种不同的归宿，这几乎成为一个时代的缩影。

——吴燕《落霞》

**【感悟探究】**

(3) “一条学习西方的道路，两种不同的归宿”，中日改革一败一成。面对这样的结局，谈谈你的认识。(要有观点，有史实，史论结合，4分)

孝感市2016年高中阶段学校招生考试

历史参考答案及评分标准

第I卷(选择题，每小题1分，共22分)

题号	1	2	3	4	5	6	7	8	9	10	11
答案	C	A	B	C	A	D	D	A	C	B	D
题号	12	13	14	15	16	17	18	19	20	21	22
答案	D	C	A	B	C	C	B	A	B	D	D

第II卷 (非选择题, 共 28 分)

- 23 . (1) 辛亥革命 (1 分) (答资产阶级民主革命或民主革命亦可得分)  
资产阶级共和国 (1 分) (答中华民国亦可得分)  
反对清王朝反动统治 (1 分) (答推翻腐朽的清政府或推翻封建专制主义的统治亦可得分)
- (2) 《中国人民政治协商会议共同纲领》 ( 1 分) (答《共同纲领》亦可得分)  
起着临时宪法的作用 (1 分) (意思相近亦可得分)
- (3) 中国特色的社会主义建设道路 (2 分) (答改革开放之路给 1 分)
- (4) 民族的独立自主; 国家的富强民主; 社会的文明和谐; 人民的自由幸福 (3 分)  
(答一个方面给 1 分, 答中华民族的复兴给 2 分, 满分 3 分)
- 24 . (1) 市场 (1 分) 资金 (1 分) 劳动力 (1 分)
- (2) 棉纺厂使用蒸汽机作为动力 (1 分) 装配线使用电力作为动力 (1 分)  
汽车是第二次科技革命的成果 (1 分) (答第二次工业革命亦可得分)
- (3) 生产推广与基础研究的时间间隔越来越短, 生产推广与应用研究的时间间隔越来越短。(1 分) 科学和技术紧密结合并迅速应用于生产。( 1 分) (其它答案意思相近, 酌情给分)
- (4) 影响分为积极影响和消极影响, 只要言之有理, 符合事实, 答一个方面给 1 分, 满分 2 分。例如: 计算机的应用如网络技术能进行远距离, 高速度的信息交流, 大大缩短了全球空间, 影响着人类文明的进程。计算机的应用改善着人们的衣、食、住、行、用、社会交往等。(1 分) 同时计算机的应用也对人类生活产生消极影响, 如电子垃圾污染环境, 信息泛滥, 虚拟社会让人沉迷等 (1 分)
- 25 . (1) 引进西方技术, 创办近代企业; (1 分) 效法西方军事制度, 创立近代化军队 (1 分) (其它符合材料意思的答案, 酌情给分, 满分 2 分)
- (2) 甲午中日战争, 中国战败 (2 分)
- (3) 此题为开放性试题, 可从洋务运动、明治维新、甲午战争等相关历史事件的思考中提出观点, 展开论证, 言之成理, 即可得分。(评分要点见下表)

得分	观点	论证	表述
4	观点明确	合理引用史实, 论证充分	条理清楚
2-3	观点较明确	引用史实, 论证较充分	条理比较清楚
0-1	观点不明确	未引用史实, 论证欠说服力	条理不清楚